



ครูโยย www.ontous.info

ชื่อ-สกุล			
ชั้นเรียน		เลขที่	
คะแนนที่ได้		วันที่	

แบบฝึกวิชาคณิตศาสตร์ เรื่อง โจทย์ปัญหาการบวกและการลบ ตัวเลขสองจำนวน (เลขหลักพัน)

คำชี้แจง : ให้นักเรียนหาคำตอบจากโจทย์คำถามให้ถูกต้อง

1. ก้านพลูมีวัคซีน 6,587 โดส ก้านพลูมีน้อยกว่าป่า 4,338 โดส ป่า มีวัคซีนเท่าใด
ประโยคสัญลักษณ์ _____

ตอบ _____

2. เจมส์มีปลา 8,326 ตัว ได้ขายให้ยาย 2,237 ตัว เจมส์จะเหลือปลาอยู่เท่าใด
ประโยคสัญลักษณ์ _____

ตอบ _____

3. เอี้ยดมีขนมและวงเวียน รวมกันเท่ากับ 11,284 ถ้ามีวงเวียน จำนวน 1,882 อัน เอี้ยดจะมีขนมเท่าใด
ประโยคสัญลักษณ์ _____

ตอบ _____

4. ต้าเพยมีเงิน 7,028 บาท ซื้อไป 4,214 บาท จะเหลือเงินอยู่เท่าใด
ประโยคสัญลักษณ์ _____

ตอบ _____

5. ปีมีแพะ 1,566 ตัว คุณครูซื้อให้เพิ่ม 6,666 ตัว ปีจะมีแพะอยู่เท่าใด
ประโยคสัญลักษณ์ _____

ตอบ _____



ครูย์ www.ontous.info

ชื่อ-สกุล			
ชั้นเรียน		เลขที่	
คะแนนที่ได้		วันที่	

แบบฝึกวิชาคณิตศาสตร์ เรื่อง โจทย์ปัญหาการบวกและการลบ ตัวเลขสองจำนวน (เลขหลักพัน)

คำชี้แจง : ให้นักเรียนหาคำตอบจากโจทย์คำถามให้ถูกต้อง

6. ยามีแก้ว 9,518 ใบ ยามีน้อยกว่าป้า 2,119 ใบ ป้า มีแก้วเท่าใด

ประโยคสัญลักษณ์ _____

ตอบ _____

7. แจ็กสันมีม้า 7,895 ตัว แบ่งให้แม่ 4,641 ตัว แจ็กสันจะเหลือม้าอยู่เท่าใด

ประโยคสัญลักษณ์ _____

ตอบ _____

8. เอี้ยงมีควาย 3,382 ตัว แบ่งให้เพื่อน 2,064 ตัว เอี้ยงจะเหลือควายอยู่เท่าใด

ประโยคสัญลักษณ์ _____

ตอบ _____

9. บุรณมีชอล์ก 7,353 แท่ง ได้มาเพิ่ม 8,264 แท่ง บุรณจะมีชอล์กอยู่เท่าใด

ประโยคสัญลักษณ์ _____

ตอบ _____

10. ภัทรมีชอล์ก 7,887 แท่ง แบ่งให้อา 4,800 แท่ง ภัทรจะเหลือชอล์กอยู่เท่าใด

ประโยคสัญลักษณ์ _____

ตอบ _____



ครูย์ www.ontous.info

ชื่อ-สกุล			
ชั้นเรียน		เลขที่	
คะแนนที่ได้		วันที่	

แบบฝึกวิชาคณิตศาสตร์ เรื่อง โจทย์ปัญหาการบวกและการลบ ตัวเลขสองจำนวน (เลขหลักพัน)

คำชี้แจง : ให้นักเรียนหาคำตอบจากโจทย์คำถามให้ถูกต้อง

11. ภาวมีถั่วและปากกา รวมกันเท่ากับ 7,054 ถ้ามีปากกา จำนวน 2,436 แท่ง ภาวจะมีถั่วเท่าใด
ประโยคสัญลักษณ์ _____

ตอบ _____

12. กิรินมีปลา 2,908 ตัว ตาซื้อให้เพิ่ม 6,939 ตัว กิรินจะมีปลาอยู่เท่าใด
ประโยคสัญลักษณ์ _____

ตอบ _____

13. แอ้คมีแพะ 5,460 ตัวและมีมังคุด 7,010 ผล แอ้คจะมีแพะและมังคุดรวมกันเท่าใด
ประโยคสัญลักษณ์ _____

ตอบ _____

14. ไบมีสบู่ 8,904 ก้อน ได้มาเพิ่ม 9,185 ก้อน ไบจะมีสบู่อยู่เท่าใด
ประโยคสัญลักษณ์ _____

ตอบ _____

15. เทย์มีแก้ว 2,411 ตัว ตา มีมากกว่าเทย์ 8,106 ตัว ตา มีแก้วเท่าใด
ประโยคสัญลักษณ์ _____

ตอบ _____



ครูย์ www.ontous.info

ชื่อ-สกุล			
ชั้นเรียน		เลขที่	
คะแนนที่ได้		วันที่	

แบบฝึกวิชาคณิตศาสตร์ เรื่อง โจทย์ปัญหาการบวกและการลบ ตัวเลขสองจำนวน (เลขหลักพัน)

คำชี้แจง : ให้นักเรียนหาคำตอบจากโจทย์คำถามให้ถูกต้อง

16. เอิร์ธมีเงิน 3,279 บาท ซื้อไป 3,241 บาท จะเหลือเงินอยู่เท่าใด

ประโยคสัญลักษณ์ _____

ตอบ _____

17. บรอนซ์มีกาว 7,452 ขวด ได้มาเพิ่ม 1,834 ขวด บรอนซ์จะมีกาวอยู่เท่าใด

ประโยคสัญลักษณ์ _____

ตอบ _____

18. เอ็ดมีแมว 9,270 ตัว เอ็ดมีน้อยกว่าแม่ 3,718 ตัว แม่ มีแมวเท่าใด

ประโยคสัญลักษณ์ _____

ตอบ _____

19. ต้าอันมีเงิน 5,623 บาท ออมเพิ่ม 1,947 บาท จะมีเงินอยู่เท่าใด

ประโยคสัญลักษณ์ _____

ตอบ _____

20. การ์ซิมมีเงิน 9,556 บาท ออมเพิ่ม 3,515 บาท จะมีเงินอยู่เท่าใด

ประโยคสัญลักษณ์ _____

ตอบ _____



ครูย์ www.ontous.info

ชื่อ-สกุล			
ชั้นเรียน		เลขที่	
คะแนนที่ได้		วันที่	

แบบฝึกวิชาคณิตศาสตร์ เรื่อง โจทย์ปัญหาการบวกและการลบ ตัวเลขสองจำนวน (เลขหลักพัน)

คำชี้แจง : ให้นักเรียนหาคำตอบจากโจทย์คำถามให้ถูกต้อง

21. บั้มมีเงิน 3,895 บาท ชื้อไป 1,356 บาท จะเหลือเงินอยู่เท่าใด

ประโยคสัญลักษณ์ _____

ตอบ _____

22. บริดจ์มีแมว 3,425 ตัว น้อง มีมากกว่าบริดจ์ 1,925 ตัว น้อง มีแมวเท่าใด

ประโยคสัญลักษณ์ _____

ตอบ _____

23. บริดจ์มีเสื้อ 3,267 ตัวและมีสีไม้ 9,735 แท่ง บริดจ์จะมีเสื้อและสีไม้รวมกันเท่าใด

ประโยคสัญลักษณ์ _____

ตอบ _____

24. อันน์มีชอล์กและแมว รวมกันเท่ากับ 13,979 ถ้ามีแมว จำนวน 5,447 ตัว อันน์จะมีชอล์กเท่าใด


ประโยคสัญลักษณ์ _____

ตอบ _____

25. บูมมีเงิน 7,298 บาท ออมเพิ่ม 8,076 บาท จะมีเงินอยู่เท่าใด

ประโยคสัญลักษณ์ _____

ตอบ _____



ครูย์ www.ontous.info

ชื่อ-สกุล			
ชั้นเรียน		เลขที่	
คะแนนที่ได้		วันที่	

แบบฝึกวิชาคณิตศาสตร์ เรื่อง โจทย์ปัญหาการบวกและการลบ ตัวเลขสองจำนวน (เลขหลักพัน)

คำชี้แจง : ให้นักเรียนหาคำตอบจากโจทย์คำถามให้ถูกต้อง

26. แทนมีน้ำดื่ม 5,147 ขวด ไปขายให้ป่า 2,530 ขวด แทนจะเหลือน้ำดื่มอยู่เท่าใด

ประโยคสัญลักษณ์ _____

ตอบ _____

27. ต้าหลงมีเงิน 3,725 บาท ออมเพิ่ม 4,549 บาท จะมีเงินอยู่เท่าใด

ประโยคสัญลักษณ์ _____

ตอบ _____

28. บอมมีสีไม้ 6,936 แท่ง ไปขายให้น้อง 3,530 แท่ง บอมจะเหลือสีไม้อยู่เท่าใด

ประโยคสัญลักษณ์ _____

ตอบ _____

29. แอ้มถ้วย 7,495 อัน ขายซื้อให้เพิ่ม 2,924 อัน แอ้มจะมีถ้วยอยู่เท่าใด

ประโยคสัญลักษณ์ _____

ตอบ _____

30. ก้านพลูมีแก้ว 9,846 ใบ ป้ามีน้อยกว่าก้านพลู 6,979 ใบ ป้า มีแก้วเท่าใด

ประโยคสัญลักษณ์ _____

ตอบ _____



ครูย์ www.ontous.info

ชื่อ-สกุล			
ชั้นเรียน		เลขที่	
คะแนนที่ได้		วันที่	

แบบฝึกวิชาคณิตศาสตร์ เรื่อง โจทย์ปัญหาการบวกและการลบ ตัวเลขสองจำนวน (เลขหลักพัน)

คำชี้แจง : ให้นักเรียนหาคำตอบจากโจทย์คำถามให้ถูกต้อง

31. บายมีกาแพ 7,905 ซอง ซึ่งมากกว่าพ่อ 2,444 ซอง พ่อ มีกาแพเท่าใด

ประโยคสัญลักษณ์ _____

ตอบ _____

32. ต้าหมิงมีไก่ 1,791 ตัว สุชาติ มีมากกว่าต้าหมิง 4,094 ตัว สุชาติ มีไก่เท่าใด

ประโยคสัญลักษณ์ _____

ตอบ _____

33. แทนมีสีไม้ 9,989 แท่ง ไปขายให้เพื่อน 1,784 แท่ง แทนจะเหลือสีไม้อยู่เท่าใด

ประโยคสัญลักษณ์ _____

ตอบ _____

34. ทาร์มมีกาว 2,817 ขวด ให้แม่ 1,839 ขวด ทาร์มจะเหลือกาวอยู่เท่าใด

ประโยคสัญลักษณ์ _____

ตอบ _____

35. ก้านพลูมีไก่ 6,012 ตัว ได้มาเพิ่ม 7,380 ตัว ก้านพลูจะมีไก่อยู่เท่าใด

ประโยคสัญลักษณ์ _____

ตอบ _____



ครูย์ www.ontous.info

ชื่อ-สกุล			
ชั้นเรียน		เลขที่	
คะแนนที่ได้		วันที่	

แบบฝึกวิชาคณิตศาสตร์ เรื่อง โจทย์ปัญหาการบวกและการลบ ตัวเลขสองจำนวน (เลขหลักพัน)

คำชี้แจง : ให้นักเรียนหาคำตอบจากโจทย์คำถามให้ถูกต้อง

36. เท่งมีนาฬิกา 8,983 อัน เท่งมีน้อยกว่าแม่ 8,531 อัน แม่ มีนาฬิกาเท่าใด

ประโยคสัญลักษณ์ _____

ตอบ _____

37. ต้ากวนมีม้า 6,605 ตัว แจกให้ตา 2,458 ตัว ต้ากวนจะเหลือม้าอยู่เท่าใด

ประโยคสัญลักษณ์ _____

ตอบ _____

38. ตาวาวมีแก้วและซัง รวมกันเท่ากับ 7,128 ถ้ามีซัง จำนวน 2,306 ตัว ตาวาวจะมีแก้วเท่าใด

ประโยคสัญลักษณ์ _____

ตอบ _____

39. บุรพ์มีแพ้ม 1,544 อัน ตา มีมากกว่าบุรพ์ 9,444 อัน ตา มีแพ้มเท่าใด

ประโยคสัญลักษณ์ _____

ตอบ _____

40. อ้อยมีเงิน 1,818 บาท ออมเพิ่ม 9,183 บาท จะมีเงินอยู่เท่าใด

ประโยคสัญลักษณ์ _____

ตอบ _____



ครูย์ www.ontous.info

ชื่อ-สกุล			
ชั้นเรียน		เลขที่	
คะแนนที่ได้		วันที่	

แบบฝึกวิชาคณิตศาสตร์ เรื่อง โจทย์ปัญหาการบวกและการลบ ตัวเลขสองจำนวน (เลขหลักพัน)

คำชี้แจง : ให้นักเรียนหาคำตอบจากโจทย์คำถามให้ถูกต้อง

41. อ๊ะมีม้า 6,685 ตัว เพื่อนนำมาให้ 3,146 ตัว อ๊ะจะมีม้าอยู่เท่าใด

ประโยคสัญลักษณ์ _____

ตอบ _____

42. ภูเก็ตมีควาย 9,994 ตัว น่านมีน้อยกว่าภูเก็ต 8,584 ตัว น่าน มีควายเท่าใด

ประโยคสัญลักษณ์ _____

ตอบ _____

43. เอิร์ธมีต้นไม้ม 7,660 ต้น ซึ่งมากกว่าเพื่อน 1,759 ต้น เพื่อน มีต้นไม้มเท่าใด

ประโยคสัญลักษณ์ _____

ตอบ _____

44. บอนน์มีเสื้อ 4,705 ตัว แม่เอามาให้ 6,190 ตัว บอนน์จะมีเสื้ออยู่เท่าใด


ประโยคสัญลักษณ์ _____

ตอบ _____

45. อังมีเงิน 6,188 บาท ออมเพิ่ม 3,287 บาท จะมีเงินอยู่เท่าใด

ประโยคสัญลักษณ์ _____

ตอบ _____



ครูย์ www.ontous.info

ชื่อ-สกุล			
ชั้นเรียน		เลขที่	
คะแนนที่ได้		วันที่	

แบบฝึกวิชาคณิตศาสตร์ เรื่อง โจทย์ปัญหาการบวกและการลบ ตัวเลขสองจำนวน (เลขหลักพัน)

คำชี้แจง : ให้นักเรียนหาคำตอบจากโจทย์คำถามให้ถูกต้อง

46. บู่มีเงิน 9,011 บาท ซื้อไป 2,252 บาท จะเหลือเงินอยู่เท่าใด

ประโยคสัญลักษณ์ _____

ตอบ _____

47. บურพ์มีขนม 6,370 ห่อ ซึ่งมากกว่าปู่ 3,527 ห่อ ปู่ มีขนมเท่าใด

ประโยคสัญลักษณ์ _____

ตอบ _____

48. เอี่ยมมีผักชีน 7,270 โดส ซึ่งมากกว่าย่า 3,843 โดส ย่า มีผักชีนเท่าใด

ประโยคสัญลักษณ์ _____

ตอบ _____

49. ภูปมีช้าง 3,336 ตัว ตา มีมากกว่าภูป 6,988 ตัว ตา มีช้างเท่าใด

ประโยคสัญลักษณ์ _____

ตอบ _____

50. ภูมีถังขยะ 9,227 อัน ทำหาย 7,004 อัน ภูจะเหลือถังขยะอยู่เท่าใด

ประโยคสัญลักษณ์ _____

ตอบ _____



ครูย์ www.ontous.info

ชื่อ-สกุล			
ชั้นเรียน		เลขที่	
คะแนนที่ได้		วันที่	

แบบฝึกวิชาคณิตศาสตร์ เรื่อง โจทย์ปัญหาการบวกและการลบ ตัวเลขสองจำนวน (เลขหลักพัน)

คำชี้แจง : ให้นักเรียนหาคำตอบจากโจทย์คำถามให้ถูกต้อง

51. ทุนมีข้าง 4,404 ตัว อา มีมากกว่าทุน 4,469 ตัว อา มีข้างเท่าใด

ประโยคสัญลักษณ์ _____

ตอบ _____

52. บาลมีสาลี 3,754 ผล พ่อเอาให้ 6,553 ผล บาลจะมีสาลีอยู่เท่าใด

ประโยคสัญลักษณ์ _____

ตอบ _____

53. กีบซี่มีส้ม 9,448 ผลและมียางลบ 1,294 ก้อน กีบซี่จะมีส้มและยางลบรวมกันเท่าใด

ประโยคสัญลักษณ์ _____

ตอบ _____

54. อ้มมีแก้ว 6,360 ใบ อา มีมากกว่าอ้ม 7,181 ใบ อา มีแก้วเท่าใด

ประโยคสัญลักษณ์ _____

ตอบ _____

55. ทรัพย์มีส้ม 1,035 ผลและมีนาฬิกา 3,981 อัน ทรัพย์จะมีส้มและนาฬิการวมกันเท่าใด

ประโยคสัญลักษณ์ _____

ตอบ _____



ครูย์ www.ontous.info

ชื่อ-สกุล			
ชั้นเรียน		เลขที่	
คะแนนที่ได้		วันที่	

แบบฝึกวิชาคณิตศาสตร์ เรื่อง โจทย์ปัญหาการบวกและการลบ ตัวเลขสองจำนวน (เลขหลักพัน)

คำชี้แจง : ให้นักเรียนหาคำตอบจากโจทย์คำถามให้ถูกต้อง

56. แทนมีส้ม 2,205 ผล สุชาติให้เพิ่ม 3,422 ผล แทนจะมีส้มอยู่เท่าใด

ประโยคสัญลักษณ์ _____

ตอบ _____

57. ไบร์ทมียางลบ 9,383 ก้อน ได้ขายให้น้อง 7,806 ก้อน ไบร์ทจะเหลือยางลบอยู่เท่าใด

ประโยคสัญลักษณ์ _____

ตอบ _____

58. ยุคมีช่าง 2,437 ตัว ได้มาเพิ่ม 8,455 ตัว ยุคจะมีช่างอยู่เท่าใด

ประโยคสัญลักษณ์ _____

ตอบ _____

59. บ๊วยมีแจกัน 9,345 อัน ซึ่งมากกว่ายาย 1,875 อัน ยาย มีแจกันเท่าใด


ประโยคสัญลักษณ์ _____

ตอบ _____

60. บีมียางลบ 1,193 ก้อน ปู่ มีมากกว่าบี 3,510 ก้อน ปู่ มียางลบเท่าใด

ประโยคสัญลักษณ์ _____

ตอบ _____



ครูย์ www.ontous.info

ชื่อ-สกุล			
ชั้นเรียน		เลขที่	
คะแนนที่ได้		วันที่	

แบบฝึกวิชาคณิตศาสตร์ เรื่อง โจทย์ปัญหาการบวกและการลบ ตัวเลขสองจำนวน (เลขหลักพัน)

คำชี้แจง : ให้นักเรียนหาคำตอบจากโจทย์คำถามให้ถูกต้อง

61. อีมีเงิน 2,569 บาท ออมเพิ่ม 9,712 บาท จะมีเงินอยู่เท่าใด

ประโยคสัญลักษณ์ _____

ตอบ _____

62. เทมส์มีนาฬิกา 9,852 อัน น้องมีน้อยกว่าเทมส์ 9,486 อัน น้อง มีนาฬิกาเท่าใด

ประโยคสัญลักษณ์ _____

ตอบ _____

63. เบลล์มีโต๊ะ 3,482 ตัว ลุงซื้อให้เพิ่ม 7,950 ตัว เบลล์จะมีโต๊ะอยู่เท่าใด

ประโยคสัญลักษณ์ _____

ตอบ _____

64. บัตร์มีม้า 5,095 ตัว บัตร์มีน้อยกว่าย่า 5,314 ตัว ย่า มีม้าเท่าใด

ประโยคสัญลักษณ์ _____

ตอบ _____

65. เทย์มีเงิน 4,930 บาท ซื้อไป 4,887 บาท จะเหลือเงินอยู่เท่าใด

ประโยคสัญลักษณ์ _____

ตอบ _____



ครูย์ www.ontous.info

ชื่อ-สกุล			
ชั้นเรียน		เลขที่	
คะแนนที่ได้		วันที่	

แบบฝึกวิชาคณิตศาสตร์ เรื่อง โจทย์ปัญหาการบวกและการลบ ตัวเลขสองจำนวน (เลขหลักพัน)

คำชี้แจง : ให้นักเรียนหาคำตอบจากโจทย์คำถามให้ถูกต้อง

66. กุชชีมีเงิน 6,462 บาท ซื้อไป 1,004 บาท จะเหลือเงินอยู่เท่าใด

ประโยคสัญลักษณ์ _____

ตอบ _____

67. ทอยมีเสื้อ 8,041 ตัว ย่าซื้อให้เพิ่ม 7,051 ตัว ทอยจะมีเสื้ออยู่เท่าใด

ประโยคสัญลักษณ์ _____

ตอบ _____

68. เอสมีวัว 1,004 ตัว ได้มาเพิ่ม 9,730 ตัว เอสจะมีวัวอยู่เท่าใด

ประโยคสัญลักษณ์ _____

ตอบ _____

69. เบสท์มีถังขยะ 5,928 อัน แบ่งไปให้ปู่ 5,468 อัน เบสท์จะเหลือถังขยะอยู่เท่าใด

ประโยคสัญลักษณ์ _____

ตอบ _____

70. บลูมมีวัคซีน 4,678 โดส นำซื้อให้เพิ่ม 8,647 โดส บลูมจะมีวัคซีนอยู่เท่าใด

ประโยคสัญลักษณ์ _____

ตอบ _____



ครูย์ www.ontous.info

ชื่อ-สกุล			
ชั้นเรียน		เลขที่	
คะแนนที่ได้		วันที่	

แบบฝึกวิชาคณิตศาสตร์ เรื่อง โจทย์ปัญหาการบวกและการลบ ตัวเลขสองจำนวน (เลขหลักพัน)

คำชี้แจง : ให้นักเรียนหาคำตอบจากโจทย์คำถามให้ถูกต้อง

71. ทายมีไก่ 6,518 ตัว ทำหาย 3,265 ตัว ทายจะเหลือไก่อยู่เท่าใด

ประโยคสัญลักษณ์ _____

ตอบ _____

72. บลอนด์มีโต๊ะ 8,310 ตัว บลอนด์มีน้อยกว่าน้อง 4,737 ตัว น้อง มีโต๊ะเท่าใด

ประโยคสัญลักษณ์ _____

ตอบ _____

73. ตาลูมีวัว 9,851 ตัว อามีน้อยกว่าตาลู 2,404 ตัว อามีวัวเท่าใด

ประโยคสัญลักษณ์ _____

ตอบ _____

74. ภูมีวัว 4,616 ตัว ตามีมากกว่าภู 6,457 ตัว ตามีวัวเท่าใด

ประโยคสัญลักษณ์ _____

ตอบ _____

75. เอฟมีนาฬิกา 5,447 อัน ป้าซื้อให้เพิ่ม 8,975 อัน เอฟจะมีนาฬิกาอยู่เท่าใด

ประโยคสัญลักษณ์ _____

ตอบ _____



ครูย์ www.ontous.info

ชื่อ-สกุล			
ชั้นเรียน		เลขที่	
คะแนนที่ได้		วันที่	

แบบฝึกวิชาคณิตศาสตร์ เรื่อง โจทย์ปัญหาการบวกและการลบ ตัวเลขสองจำนวน (เลขหลักพัน)

คำชี้แจง : ให้นักเรียนหาคำตอบจากโจทย์คำถามให้ถูกต้อง

76. เจโรมมีหมู 5,002 ตัว เจโรมมีน้อยกว่าย่า 7,322 ตัว ย่า มีหมูเท่าใด

ประโยคสัญลักษณ์ _____

ตอบ _____

77. เอื้อมีเงิน 2,985 บาท ซื้อไป 1,054 บาท จะเหลือเงินอยู่เท่าใด

ประโยคสัญลักษณ์ _____

ตอบ _____

78. ภูมียังเงิน 1,923 บาท ซื้อไป 1,459 บาท จะเหลือเงินอยู่เท่าใด

ประโยคสัญลักษณ์ _____

ตอบ _____

79. อ้นมีเสื้อ 5,960 ตัว ป้า มีมากกว่าอ้น 2,390 ตัว ป้า มีเสื้อเท่าใด

ประโยคสัญลักษณ์ _____

ตอบ _____

80. การชิมินาฬิกาและโต๊ะ รวมกันเท่ากับ 11,003 ถ้ามีโต๊ะ จำนวน 3,511 ตัว การชิมินาฬิกาเท่าใด

ประโยคสัญลักษณ์ _____

ตอบ _____



ครูย์ www.ontous.info

ชื่อ-สกุล			
ชั้นเรียน		เลขที่	
คะแนนที่ได้		วันที่	

แบบฝึกวิชาคณิตศาสตร์ เรื่อง โจทย์ปัญหาการบวกและการลบ ตัวเลขสองจำนวน (เลขหลักพัน)

คำชี้แจง : ให้นักเรียนหาคำตอบจากโจทย์คำถามให้ถูกต้อง

81. บুমมีกาแพและสุนัข รวมกันเท่ากับ 15,640 ถ้ามีสุนัข จำนวน 7,002 ตัว บุมจะมีกาแพเท่าใด
ประโยคสัญลักษณ์ _____

ตอบ _____

82. เอาะมีนก 3,638 ตัว ย่าแบ่งให้ 8,999 ตัว เอาะจะมีนกอยู่เท่าใด
ประโยคสัญลักษณ์ _____

ตอบ _____

83. ที่มีดินสอ 9,563 แท่ง น้องมีน้อยกว่าที่ 7,914 แท่ง น้อง มีดินสอเท่าใด
ประโยคสัญลักษณ์ _____

ตอบ _____

84. ต้าเหนงมีเงิน 7,407 บาท ออมเพิ่ม 4,176 บาท จะมีเงินอยู่เท่าใด
ประโยคสัญลักษณ์ _____

ตอบ _____

85. ต้าเพ่ยมีกาว 4,138 ขวด เพื่อน มีมากกว่าต้าเพ่ย 4,665 ขวด เพื่อน มีกาวเท่าใด
ประโยคสัญลักษณ์ _____

ตอบ _____



ครูย์ www.ontous.info

ชื่อ-สกุล			
ชั้นเรียน		เลขที่	
คะแนนที่ได้		วันที่	

แบบฝึกวิชาคณิตศาสตร์ เรื่อง โจทย์ปัญหาการบวกและการลบ ตัวเลขสองจำนวน (เลขหลักพัน)

คำชี้แจง : ให้นักเรียนหาคำตอบจากโจทย์คำถามให้ถูกต้อง

86. เปียร์มีเงิน 4,966 บาท ออมเพิ่ม 8,265 บาท จะมีเงินอยู่เท่าใด

ประโยคสัญลักษณ์ _____

ตอบ _____

87. อี้กมีสีไม้ 5,740 แท่งและมีโต๊ะ 2,279 ตัว อี้กจะมีสีไม้และโต๊ะรวมกันเท่าใด

ประโยคสัญลักษณ์ _____

ตอบ _____

88. เจสซี่มีม้า 5,828 ตัว สุชาติ มีมากกว่าเจสซี่ 7,750 ตัว สุชาติ มีม้าเท่าใด

ประโยคสัญลักษณ์ _____

ตอบ _____

89. อังมีวัว 6,316 ตัว ไต้มาเพิ่ม 4,196 ตัว อังจะมีวัวอยู่เท่าใด


ประโยคสัญลักษณ์ _____

ตอบ _____

90. เทพมีชอล์ก 4,456 แท่ง เทพมีน้อยกว่าย่า 1,999 แท่ง ย่า มีชอล์กเท่าใด

ประโยคสัญลักษณ์ _____

ตอบ _____



ครูย์ www.ontous.info

ชื่อ-สกุล			
ชั้นเรียน		เลขที่	
คะแนนที่ได้		วันที่	

แบบฝึกวิชาคณิตศาสตร์ เรื่อง โจทย์ปัญหาการบวกและการลบ ตัวเลขสองจำนวน (เลขหลักพัน)

คำชี้แจง : ให้นักเรียนหาคำตอบจากโจทย์คำถามให้ถูกต้อง

91. บุ่มมีควาย 3,546 ตัว ปุ่มีน้อยกว่าบุ่ม 2,753 ตัว ปุ่ม มีควายเท่าใด

ประโยคสัญลักษณ์ _____

ตอบ _____

92. โยมีเงิน 3,595 บาท ออมเพิ่ม 4,860 บาท จะมีเงินอยู่เท่าใด

ประโยคสัญลักษณ์ _____

ตอบ _____

93. อันน์มีเงิน 4,411 บาท ออมเพิ่ม 9,307 บาท จะมีเงินอยู่เท่าใด

ประโยคสัญลักษณ์ _____

ตอบ _____

94. บาศมีเงิน 7,172 บาท ออมเพิ่ม 1,333 บาท จะมีเงินอยู่เท่าใด

ประโยคสัญลักษณ์ _____

ตอบ _____

95. ทรัพย์มีสับู่ 3,958 ก้อน ปุ่มีน้อยกว่าทรัพย์ 3,362 ก้อน ปุ่ม มีสับู่เท่าใด

ประโยคสัญลักษณ์ _____

ตอบ _____



ครูย์ www.ontous.info

ชื่อ-สกุล			
ชั้นเรียน		เลขที่	
คะแนนที่ได้		วันที่	

แบบฝึกวิชาคณิตศาสตร์ เรื่อง โจทย์ปัญหาการบวกและการลบ ตัวเลขสองจำนวน (เลขหลักพัน)

คำชี้แจง : ให้นักเรียนหาคำตอบจากโจทย์คำถามให้ถูกต้อง

96. ทามมีโต๊ะ 9,578 ตัว แบ่งไปให้อา 7,846 ตัว ทามจะเหลือโต๊ะอยู่เท่าใด

ประโยคสัญลักษณ์ _____

ตอบ _____

97. แอมีเงิน 5,238 บาท ออมเพิ่ม 8,281 บาท จะมีเงินอยู่เท่าใด

ประโยคสัญลักษณ์ _____

ตอบ _____

98. เบย์มีวัคซีน 4,160 โดส ได้มาเพิ่ม 4,704 โดส เบย์จะมีวัคซีนอยู่เท่าใด

ประโยคสัญลักษณ์ _____

ตอบ _____

99. บุนมีเงิน 7,588 บาท ออมเพิ่ม 3,069 บาท จะมีเงินอยู่เท่าใด

ประโยคสัญลักษณ์ _____

ตอบ _____

100. ทามมีสาลี 9,146 ผล พ่อมีน้อยกว่าทาม 7,951 ผล พ่อ มีสาลีเท่าใด

ประโยคสัญลักษณ์ _____

ตอบ _____

เฉลย



ครูโยย www.ontous.info

ชื่อ-สกุล			
ชั้นเรียน		เลขที่	
คะแนนที่ได้		วันที่	

แบบฝึกวิชาคณิตศาสตร์ เรื่อง โจทย์ปัญหาการบวกและการลบ ตัวเลขสองจำนวน (เลขหลักพัน)

คำชี้แจง : ให้นักเรียนหาคำตอบจากโจทย์คำถามให้ถูกต้อง

1. ก้านพลูมีวัคซีน 6,587 โดส ก้านพลูมีน้อยกว่าป่า 4,338 โดส ป่า มีวัคซีนเท่าใด

ประโยคสัญลักษณ์ $6,587 + 4,338 = ?$

ตอบ $10,925$

2. เจมส์มีปลา 8,326 ตัว ได้ขายให้ยาย 2,237 ตัว เจมส์จะเหลือปลาอยู่เท่าใด

ประโยคสัญลักษณ์ $8,326 - 2,237 = ?$

ตอบ $6,089$

3. เอี้ยดมีขนมและวงเวียน รวมกันเท่ากับ 11,284 ถ้ามีวงเวียน จำนวน 1,882 อัน เอี้ยดจะมีขนมเท่าใด

ประโยคสัญลักษณ์ $9,402 - 1,882 = ?$

ตอบ $7,520$

4. ต้าเพ่ยมีเงิน 7,028 บาท ซื้อไป 4,214 บาท จะเหลือเงินอยู่เท่าใด

ประโยคสัญลักษณ์ $7,028 - 4,214 = ?$

ตอบ $2,814$

5. ปีมีแพะ 1,566 ตัว คุณครูซื้อให้เพิ่ม 6,666 ตัว ปีจะมีแพะอยู่เท่าใด

ประโยคสัญลักษณ์ $1,566 + 6,666 = ?$

ตอบ $8,232$



ครูย์ www.ontous.info

ชื่อ-สกุล			
ชั้นเรียน		เลขที่	
คะแนนที่ได้		วันที่	

แบบฝึกวิชาคณิตศาสตร์ เรื่อง โจทย์ปัญหาการบวกและการลบ ตัวเลขสองจำนวน (เลขหลักพัน)

คำชี้แจง : ให้นักเรียนหาคำตอบจากโจทย์คำถามให้ถูกต้อง

6. ยามีแก้ว 9,518 ใบ ยามีน้อยกว่าป้า 2,119 ใบ ป้า มีแก้วเท่าใด

ประโยคสัญลักษณ์ $9,518 + 2,119 = ?$

ตอบ 11,637

7. แจ็กสันมีม้า 7,895 ตัว แบ่งให้แม่ 4,641 ตัว แจ็กสันจะเหลือม้าอยู่เท่าใด

ประโยคสัญลักษณ์ $7,895 - 4,641 = ?$

ตอบ 3,254

8. เอี้ยงมีควาย 3,382 ตัว แบ่งให้เพื่อน 2,064 ตัว เอี้ยงจะเหลือควายอยู่เท่าใด

ประโยคสัญลักษณ์ $3,382 - 2,064 = ?$

ตอบ 1,318

9. บุรณมีซอล์ก 7,353 แท่ง ได้มาเพิ่ม 8,264 แท่ง บุรณจะมีซอล์กอยู่เท่าใด


ประโยคสัญลักษณ์ $7,353 + 8,264 = ?$

ตอบ 15,617

10. ภัทรมีซอล์ก 7,887 แท่ง แบ่งให้อา 4,800 แท่ง ภัทรจะเหลือซอล์กอยู่เท่าใด

ประโยคสัญลักษณ์ $7,887 - 4,800 = ?$

ตอบ 3,087



ครูย์ www.ontous.info

ชื่อ-สกุล			
ชั้นเรียน		เลขที่	
คะแนนที่ได้		วันที่	

แบบฝึกวิชาคณิตศาสตร์ เรื่อง โจทย์ปัญหาการบวกและการลบ ตัวเลขสองจำนวน (เลขหลักพัน)

คำชี้แจง : ให้นักเรียนหาคำตอบจากโจทย์คำถามให้ถูกต้อง

11. ภาวมีถ้วยและปากกา รวมกันเท่ากับ 7,054 ถ้ามีปากกา จำนวน 2,436 แท่ง ภาวจะมีถ้วยเท่าใด
ประโยคสัญลักษณ์ $4,618 - 2,436 = ?$

ตอบ $2,182$

12. กิรินมีปลา 2,908 ตัว ตาซื้อให้เพิ่ม 6,939 ตัว กิรินจะมีปลาอยู่เท่าใด
ประโยคสัญลักษณ์ $2,908 + 6,939 = ?$

ตอบ $9,847$

13. แอ้คมีแพะ 5,460 ตัวและมีมังคุด 7,010 ผล แอ้คจะมีแพะและมังคุดรวมกันเท่าใด
ประโยคสัญลักษณ์ $5,460 + 7,010 = ?$


ตอบ $12,470$

14. ไบมีสับู่ 8,904 ก้อน ได้มาเพิ่ม 9,185 ก้อน ไบจะมีสับู่อยู่เท่าใด
ประโยคสัญลักษณ์ $8,904 + 9,185 = ?$

ตอบ $18,089$

15. เทย์มีแก้อี้ 2,411 ตัว ตา มีมากกว่าเทย์ 8,106 ตัว ตา มีแก้อี้เท่าใด
ประโยคสัญลักษณ์ $2,411 + 8,106 = ?$

ตอบ $10,517$



ครูย์ www.ontous.info

ชื่อ-สกุล			
ชั้นเรียน		เลขที่	
คะแนนที่ได้		วันที่	

แบบฝึกวิชาคณิตศาสตร์ เรื่อง โจทย์ปัญหาการบวกและการลบ ตัวเลขสองจำนวน (เลขหลักพัน)

คำชี้แจง : ให้นักเรียนหาคำตอบจากโจทย์คำถามให้ถูกต้อง

16. เอิร์ธมีเงิน 3,279 บาท ซื้อไป 3,241 บาท จะเหลือเงินอยู่เท่าใด

ประโยคสัญลักษณ์ $3,279 - 3,241 = ?$

ตอบ 38

17. บรอนซ์มีกาว 7,452 ขวด ได้มาเพิ่ม 1,834 ขวด บรอนซ์จะมีกาวอยู่เท่าใด

ประโยคสัญลักษณ์ $7,452 + 1,834 = ?$

ตอบ 9,286

18. เอ็ดมีแมว 9,270 ตัว เอ็ดมีน้อยกว่าแม่ 3,718 ตัว แม่ มีแมวเท่าใด

ประโยคสัญลักษณ์ $9,270 + 3,718 = ?$

ตอบ 12,988

19. ต้าอันมีเงิน 5,623 บาท ออมเพิ่ม 1,947 บาท จะมีเงินอยู่เท่าใด

ประโยคสัญลักษณ์ $5,623 + 1,947 = ?$

ตอบ 7,570

20. การ์ซิมมีเงิน 9,556 บาท ออมเพิ่ม 3,515 บาท จะมีเงินอยู่เท่าใด

ประโยคสัญลักษณ์ $9,556 + 3,515 = ?$

ตอบ 13,071



ครูย์ www.ontous.info

ชื่อ-สกุล			
ชั้นเรียน		เลขที่	
คะแนนที่ได้		วันที่	

แบบฝึกวิชาคณิตศาสตร์ เรื่อง โจทย์ปัญหาการบวกและการลบ ตัวเลขสองจำนวน (เลขหลักพัน)

คำชี้แจง : ให้นักเรียนหาคำตอบจากโจทย์คำถามให้ถูกต้อง

21. บั้มมีเงิน 3,895 บาท ซื้อไป 1,356 บาท จะเหลือเงินอยู่เท่าใด

ประโยคสัญลักษณ์ $3,895 - 1,356 = ?$

ตอบ $2,539$

22. บริดจ์มีแมว 3,425 ตัว น้อง มีมากกว่าบริดจ์ 1,925 ตัว น้อง มีแมวเท่าใด

ประโยคสัญลักษณ์ $3,425 + 1,925 = ?$

ตอบ $5,350$

23. บริดจ์มีเสื้อ 3,267 ตัวและมีสีไม้ 9,735 แท่ง บริดจ์จะมีเสื้อและสีไม้รวมกันเท่าใด

ประโยคสัญลักษณ์ $3,267 + 9,735 = ?$

ตอบ $13,002$

24. อันน์มีซอล์กและแมว รวมกันเท่ากับ 13,979 ถ้ามีแมว จำนวน 5,447 ตัว อันน์จะมีซอล์กเท่าใด

ประโยคสัญลักษณ์ $8,532 - 5,447 = ?$

ตอบ $3,085$

25. บুমมีเงิน 7,298 บาท ออมเพิ่ม 8,076 บาท จะมีเงินอยู่เท่าใด

ประโยคสัญลักษณ์ $7,298 + 8,076 = ?$

ตอบ $15,374$



ครูย์ www.ontous.info

ชื่อ-สกุล			
ชั้นเรียน		เลขที่	
คะแนนที่ได้		วันที่	

แบบฝึกวิชาคณิตศาสตร์ เรื่อง โจทย์ปัญหาการบวกและการลบ ตัวเลขสองจำนวน (เลขหลักพัน)

คำชี้แจง : ให้นักเรียนหาคำตอบจากโจทย์คำถามให้ถูกต้อง

26. แทนมีน้ำดื่ม 5,147 ขวด ไปขายให้ป่า 2,530 ขวด แทนจะเหลือน้ำดื่มอยู่เท่าใด

ประโยคสัญลักษณ์ $5,147 - 2,530 = ?$

ตอบ $2,617$

27. ต้าหลงมีเงิน 3,725 บาท ออมเพิ่ม 4,549 บาท จะมีเงินอยู่เท่าใด

ประโยคสัญลักษณ์ $3,725 + 4,549 = ?$

ตอบ $8,274$

28. บอมมีสีไม้ 6,936 แท่ง ไปขายให้น้อง 3,530 แท่ง บอมจะเหลือสีไม้อยู่เท่าใด

ประโยคสัญลักษณ์ $6,936 - 3,530 = ?$

ตอบ $3,406$

29. แอ้มมีถัวย 7,495 อัน ยายซื้อให้เพิ่ม 2,924 อัน แอ้มจะมีถัวยอยู่เท่าใด

ประโยคสัญลักษณ์ $7,495 + 2,924 = ?$

ตอบ $10,419$

30. ก้านพลูมีแก้ว 9,846 ใบ ป้ามีน้อยกว่าก้านพลู 6,979 ใบ ป้า มีแก้วเท่าใด

ประโยคสัญลักษณ์ $9,846 - 6,979 = ?$

ตอบ $2,867$



ครูย์ www.ontous.info

ชื่อ-สกุล			
ชั้นเรียน		เลขที่	
คะแนนที่ได้		วันที่	

แบบฝึกวิชาคณิตศาสตร์ เรื่อง โจทย์ปัญหาการบวกและการลบ ตัวเลขสองจำนวน (เลขหลักพัน)

คำชี้แจง : ให้นักเรียนหาคำตอบจากโจทย์คำถามให้ถูกต้อง

31. บายมีกาแพ 7,905 ซอง ซึ่งมากกว่าพ่อ 2,444 ซอง พ่อ มีกาแพเท่าใด

ประโยคสัญลักษณ์ $7,905 - 2,444 = ?$

ตอบ $5,461$

32. ต้าหมิงมีไก่ 1,791 ตัว สุชาติ มีมากกว่าต้าหมิง 4,094 ตัว สุชาติ มีไก่เท่าใด

ประโยคสัญลักษณ์ $1,791 + 4,094 = ?$

ตอบ $5,885$

33. แทนมีสีไม้ 9,989 แท่ง ไปขายให้เพื่อน 1,784 แท่ง แทนจะเหลือสีไม้อยู่เท่าใด

ประโยคสัญลักษณ์ $9,989 - 1,784 = ?$

ตอบ $8,205$

34. ทาร์มมีกาว 2,817 ขวด ให้แม่ 1,839 ขวด ทาร์มจะเหลือกาวอยู่เท่าใด

ประโยคสัญลักษณ์ $2,817 - 1,839 = ?$

ตอบ 978

35. ก้านพลูมีไก่ 6,012 ตัว ได้มาเพิ่ม 7,380 ตัว ก้านพลูจะมีไก่อยู่เท่าใด

ประโยคสัญลักษณ์ $6,012 + 7,380 = ?$

ตอบ $13,392$



ครูย์ www.ontous.info

ชื่อ-สกุล			
ชั้นเรียน		เลขที่	
คะแนนที่ได้		วันที่	

แบบฝึกวิชาคณิตศาสตร์ เรื่อง โจทย์ปัญหาการบวกและการลบ ตัวเลขสองจำนวน (เลขหลักพัน)

คำชี้แจง : ให้นักเรียนหาคำตอบจากโจทย์คำถามให้ถูกต้อง

36. เท่งมีนาฬิกา 8,983 อัน เท่งมีน้อยกว่าแม่ 8,531 อัน แม่ มีนาฬิกาเท่าใด

ประโยคสัญลักษณ์ $8,983 + 8,531 = ?$

ตอบ $17,514$

37. ต้ากวนมีม้า 6,605 ตัว แจกให้ตา 2,458 ตัว ต้ากวนจะเหลือมาอยู่เท่าใด

ประโยคสัญลักษณ์ $6,605 - 2,458 = ?$

ตอบ $4,147$

38. ตาวาวมีแก้วและข้าง รวมกันเท่ากับ 7,128 ถ้ามีข้าง จำนวน 2,306 ตัว ตาวาวจะมีแก้วเท่าใด

ประโยคสัญลักษณ์ $4,822 - 2,306 = ?$

ตอบ $2,516$

39. บุรพ์มีแพ้ม 1,544 อัน ตา มีมากกว่าบุรพ์ 9,444 อัน ตา มีแพ้มเท่าใด

ประโยคสัญลักษณ์ $1,544 + 9,444 = ?$

ตอบ $10,988$

40. อ้อยมีเงิน 1,818 บาท ออมเพิ่ม 9,183 บาท จะมีเงินอยู่เท่าใด

ประโยคสัญลักษณ์ $1,818 + 9,183 = ?$

ตอบ $11,001$



ครูย์ www.ontous.info

ชื่อ-สกุล			
ชั้นเรียน		เลขที่	
คะแนนที่ได้		วันที่	

แบบฝึกวิชาคณิตศาสตร์ เรื่อง โจทย์ปัญหาการบวกและการลบ ตัวเลขสองจำนวน (เลขหลักพัน)

คำชี้แจง : ให้นักเรียนหาคำตอบจากโจทย์คำถามให้ถูกต้อง

41. อ๊ะมีม้า 6,685 ตัว เพื่อนนำมาให้ 3,146 ตัว อ๊ะจะมีม้าอยู่เท่าใด

ประโยคสัญลักษณ์ $6,685 + 3,146 = ?$

ตอบ $9,831$

42. ภูเก็ตมีควาย 9,994 ตัว น้ำมีน้อยกว่าภูเก็ต 8,584 ตัว น้ำ มีควายเท่าใด

ประโยคสัญลักษณ์ $9,994 - 8,584 = ?$

ตอบ $1,410$

43. เอิร์ธมีต้นไม้ 7,660 ต้น ซึ่งมากกว่าเพื่อน 1,759 ต้น เพื่อน มีต้นไม้เท่าใด

ประโยคสัญลักษณ์ $7,660 - 1,759 = ?$

ตอบ $5,901$

44. บอนน์มีเสื้อ 4,705 ตัว แม่เอามาให้ 6,190 ตัว บอนน์จะมีเสื้ออยู่เท่าใด

ประโยคสัญลักษณ์ $4,705 + 6,190 = ?$

ตอบ $10,895$

45. อังมีเงิน 6,188 บาท ออมเพิ่ม 3,287 บาท จะมีเงินอยู่เท่าใด

ประโยคสัญลักษณ์ $6,188 + 3,287 = ?$

ตอบ $9,475$



ครูโย www.ontous.info

ชื่อ-สกุล			
ชั้นเรียน		เลขที่	
คะแนนที่ได้		วันที่	

แบบฝึกวิชาคณิตศาสตร์ เรื่อง โจทย์ปัญหาการบวกและการลบ ตัวเลขสองจำนวน (เลขหลักพัน)

คำชี้แจง : ให้นักเรียนหาคำตอบจากโจทย์คำถามให้ถูกต้อง

46. บู่มีเงิน 9,011 บาท ซื้อไป 2,252 บาท จะเหลือเงินอยู่เท่าใด

ประโยคสัญลักษณ์ $9,011 - 2,252 = ?$

ตอบ $6,759$

47. บุรพ์มีขนม 6,370 ห่อ ซึ่งมากกว่าปุ๋ 3,527 ห่อ ปุ๋ มีขนมเท่าใด

ประโยคสัญลักษณ์ $6,370 - 3,527 = ?$

ตอบ $2,843$

48. เอี่ยมมีวัคซีน 7,270 โดส ซึ่งมากกว่าย่า 3,843 โดส ย่า มีวัคซีนเท่าใด

ประโยคสัญลักษณ์ $7,270 - 3,843 = ?$

ตอบ $3,427$

49. ภูมีช่าง 3,336 ตัว ตา มีมากกว่าภู 6,988 ตัว ตา มีช่างเท่าใด

ประโยคสัญลักษณ์ $3,336 + 6,988 = ?$

ตอบ $10,324$

50. ภูมีถังขยะ 9,227 อัน ทำหาย 7,004 อัน ภูจะเหลือถังขยะอยู่เท่าใด

ประโยคสัญลักษณ์ $9,227 - 7,004 = ?$

ตอบ $2,223$



ครูย์ www.ontous.info

ชื่อ-สกุล			
ชั้นเรียน		เลขที่	
คะแนนที่ได้		วันที่	

แบบฝึกวิชาคณิตศาสตร์ เรื่อง โจทย์ปัญหาการบวกและการลบ ตัวเลขสองจำนวน (เลขหลักพัน)

คำชี้แจง : ให้นักเรียนหาคำตอบจากโจทย์คำถามให้ถูกต้อง

51. ทุนมีช่าง 4,404 ตัว อา มีมากกว่าทุน 4,469 ตัว อา มีช่างเท่าใด

ประโยคสัญลักษณ์ $4,404 + 4,469 = ?$

ตอบ $8,873$

52. บาลมีสาเล่ 3,754 ผล พ่อเอาให้ 6,553 ผล บาลจะมีสาเล่อยู่เท่าใด

ประโยคสัญลักษณ์ $3,754 + 6,553 = ?$

ตอบ $10,307$

53. กีบซี่มีส้ม 9,448 ผลและมียางลบ 1,294 ก้อน กีบซี่จะมีส้มและยางลบรวมกันเท่าใด

ประโยคสัญลักษณ์ $9,448 + 1,294 = ?$

ตอบ $10,742$

54. อ้มมีแก้ว 6,360 ใบ อา มีมากกว่าอ้ม 7,181 ใบ อา มีแก้วเท่าใด

ประโยคสัญลักษณ์ $6,360 + 7,181 = ?$

ตอบ $13,541$

55. ทรัพย์มีส้ม 1,035 ผลและมีนาฬิกา 3,981 อัน ทรัพย์จะมีส้มและนาฬิการวมกันเท่าใด

ประโยคสัญลักษณ์ $1,035 + 3,981 = ?$

ตอบ $5,016$



ครูย์ www.ontous.info

ชื่อ-สกุล			
ชั้นเรียน		เลขที่	
คะแนนที่ได้		วันที่	

แบบฝึกวิชาคณิตศาสตร์ เรื่อง โจทย์ปัญหาการบวกและการลบ ตัวเลขสองจำนวน (เลขหลักพัน)

คำชี้แจง : ให้นักเรียนหาคำตอบจากโจทย์คำถามให้ถูกต้อง

56. แทนมีส้ม 2,205 ผล สุชาติให้เพิ่ม 3,422 ผล แทนจะมีส้มอยู่เท่าใด

ประโยคสัญลักษณ์ $2,205 + 3,422 = ?$

ตอบ $5,627$

57. ไบรท์มียางลบ 9,383 ก้อน ได้ขายให้น้อง 7,806 ก้อน ไบรท์จะเหลือยางลบอยู่เท่าใด

ประโยคสัญลักษณ์ $9,383 - 7,806 = ?$

ตอบ $1,577$

58. ยุคมีช้าง 2,437 ตัว ได้มาเพิ่ม 8,455 ตัว ยุคจะมีช้างอยู่เท่าใด

ประโยคสัญลักษณ์ $2,437 + 8,455 = ?$

ตอบ $10,892$

59. บัวมีแจกัน 9,345 อัน ซึ่งมากกว่ายาย 1,875 อัน ยาย มีแจกันเท่าใด

ประโยคสัญลักษณ์ $9,345 - 1,875 = ?$

ตอบ $7,470$

60. บีมียางลบ 1,193 ก้อน ปู่ มีมากกว่าบี 3,510 ก้อน ปู่ มียางลบเท่าใด

ประโยคสัญลักษณ์ $1,193 + 3,510 = ?$

ตอบ $4,703$



ครูย์ www.ontous.info

ชื่อ-สกุล			
ชั้นเรียน		เลขที่	
คะแนนที่ได้		วันที่	

แบบฝึกวิชาคณิตศาสตร์ เรื่อง โจทย์ปัญหาการบวกและการลบ ตัวเลขสองจำนวน (เลขหลักพัน)

คำชี้แจง : ให้นักเรียนหาคำตอบจากโจทย์คำถามให้ถูกต้อง

61. อี้มีเงิน 2,569 บาท ออมเพิ่ม 9,712 บาท จะมีเงินอยู่เท่าใด

ประโยคสัญลักษณ์ $2,569 + 9,712 = ?$

ตอบ 12,281

62. เทมส์มีนาฬิกา 9,852 อัน น้องมีน้อยกว่าเทมส์ 9,486 อัน น้อง มีนาฬิกาเท่าใด

ประโยคสัญลักษณ์ $9,852 - 9,486 = ?$

ตอบ 366

63. เบลล์มีโต๊ะ 3,482 ตัว ลุงซื้อให้เพิ่ม 7,950 ตัว เบลล์จะมีโต๊ะอยู่เท่าใด

ประโยคสัญลักษณ์ $3,482 + 7,950 = ?$

ตอบ 11,432

64. บัตร์มีม้า 5,095 ตัว บัตร์มีน้อยกว่าย่า 5,314 ตัว ย่า มีม้าเท่าใด


ประโยคสัญลักษณ์ $5,095 + 5,314 = ?$

ตอบ 10,409

65. เทย์มีเงิน 4,930 บาท ซื้อไป 4,887 บาท จะเหลือเงินอยู่เท่าใด

ประโยคสัญลักษณ์ $4,930 - 4,887 = ?$

ตอบ 43



ครูย์ www.ontous.info

ชื่อ-สกุล			
ชั้นเรียน		เลขที่	
คะแนนที่ได้		วันที่	

แบบฝึกวิชาคณิตศาสตร์ เรื่อง โจทย์ปัญหาการบวกและการลบ ตัวเลขสองจำนวน (เลขหลักพัน)

คำชี้แจง : ให้นักเรียนหาคำตอบจากโจทย์คำถามให้ถูกต้อง

66. กุชชีมีเงิน 6,462 บาท ซื้อไป 1,004 บาท จะเหลือเงินอยู่เท่าใด

ประโยคสัญลักษณ์ $6,462 - 1,004 = ?$

ตอบ $5,458$

67. ทอยมีเสื้อ 8,041 ตัว ย่าซื้อให้เพิ่ม 7,051 ตัว ทอยจะมีเสื้ออยู่เท่าใด

ประโยคสัญลักษณ์ $8,041 + 7,051 = ?$

ตอบ $15,092$

68. เอสมีวัว 1,004 ตัว ไต้มาเพิ่ม 9,730 ตัว เอสจะมีวัวอยู่เท่าใด

ประโยคสัญลักษณ์ $1,004 + 9,730 = ?$

ตอบ $10,734$

69. เบสท์มีถังขยะ 5,928 อัน แบ่งไปให้ปู่ 5,468 อัน เบสท์จะเหลือถังขยะอยู่เท่าใด

ประโยคสัญลักษณ์ $5,928 - 5,468 = ?$

ตอบ 460

70. บลุ่มมีวัคซีน 4,678 โดส น้ำซื้อให้เพิ่ม 8,647 โดส บลุ่มจะมีวัคซีนอยู่เท่าใด

ประโยคสัญลักษณ์ $4,678 + 8,647 = ?$

ตอบ $13,325$



ครูย์ www.ontous.info

ชื่อ-สกุล			
ชั้นเรียน		เลขที่	
คะแนนที่ได้		วันที่	

แบบฝึกวิชาคณิตศาสตร์ เรื่อง โจทย์ปัญหาการบวกและการลบ ตัวเลขสองจำนวน (เลขหลักพัน)

คำชี้แจง : ให้นักเรียนหาคำตอบจากโจทย์คำถามให้ถูกต้อง

71. ทายมีไก่ 6,518 ตัว ทำหาย 3,265 ตัว ทายจะเหลือไก่อ้อยู่เท่าใด

ประโยคสัญลักษณ์ $6,518 - 3,265 = ?$

ตอบ $3,253$

72. บลอนด์มีโต๊ะ 8,310 ตัว บลอนด์มีน้อยกว่าน้อง 4,737 ตัว น้อง มีโต๊ะเท่าใด

ประโยคสัญลักษณ์ $8,310 + 4,737 = ?$

ตอบ $13,047$

73. ตาลูมีวัว 9,851 ตัว อามีน้อยกว่าตาลู 2,404 ตัว อามีวัวเท่าใด

ประโยคสัญลักษณ์ $9,851 - 2,404 = ?$

ตอบ $7,447$

74. ภูมีวัว 4,616 ตัว ตามีมากกว่าภู 6,457 ตัว ตามีวัวเท่าใด


ประโยคสัญลักษณ์ $4,616 + 6,457 = ?$

ตอบ $11,073$

75. เอฟมีนาฬิกา 5,447 อัน ป้าซื้อให้เพิ่ม 8,975 อัน เอฟจะมีนาฬิกาอยู่เท่าใด

ประโยคสัญลักษณ์ $5,447 + 8,975 = ?$

ตอบ $14,422$



ครูย์ www.ontous.info

ชื่อ-สกุล			
ชั้นเรียน		เลขที่	
คะแนนที่ได้		วันที่	

แบบฝึกวิชาคณิตศาสตร์ เรื่อง โจทย์ปัญหาการบวกและการลบ ตัวเลขสองจำนวน (เลขหลักพัน)

คำชี้แจง : ให้นักเรียนหาคำตอบจากโจทย์คำถามให้ถูกต้อง

76. เจโรมมีหมู 5,002 ตัว เจโรมมีน้อยกว่าย่า 7,322 ตัว ย่า มีหมูเท่าใด

ประโยคสัญลักษณ์ $5,002 + 7,322 = ?$

ตอบ $12,324$

77. เอื้อมีเงิน 2,985 บาท ซื้อไป 1,054 บาท จะเหลือเงินอยู่เท่าใด

ประโยคสัญลักษณ์ $2,985 - 1,054 = ?$

ตอบ $1,931$

78. ภรณ์มีเงิน 1,923 บาท ซื้อไป 1,459 บาท จะเหลือเงินอยู่เท่าใด

ประโยคสัญลักษณ์ $1,923 - 1,459 = ?$

ตอบ 464

79. อ้นมีเสื้อ 5,960 ตัว ป้า มีมากกว่าอ้น 2,390 ตัว ป้า มีเสื้อเท่าใด

ประโยคสัญลักษณ์ $5,960 + 2,390 = ?$

ตอบ $8,350$

80. การชิมินาฬิกาและโต๊ะ รวมกันเท่ากับ 11,003 ถ้ามีโต๊ะ จำนวน 3,511 ตัว การชิมินาฬิกาเท่าใด

ประโยคสัญลักษณ์ $7,492 - 3,511 = ?$

ตอบ $3,981$



ครูย์ www.ontous.info

ชื่อ-สกุล			
ชั้นเรียน		เลขที่	
คะแนนที่ได้		วันที่	

แบบฝึกวิชาคณิตศาสตร์ เรื่อง โจทย์ปัญหาการบวกและการลบ ตัวเลขสองจำนวน (เลขหลักพัน)

คำชี้แจง : ให้นักเรียนหาคำตอบจากโจทย์คำถามให้ถูกต้อง

81. บুমมีกาแฟและสุนัข รวมกันเท่ากับ 15,640 ถ้ามีสุนัข จำนวน 7,002 ตัว บุมจะมีกาแฟเท่าใด
ประโยคสัญลักษณ์ $8,638 - 7,002 = ?$

ตอบ $1,636$

82. เอ๊ะมีนก 3,638 ตัว ย่าแบ่งให้ 8,999 ตัว เอ๊ะจะมีนกอยู่เท่าใด
ประโยคสัญลักษณ์ $3,638 + 8,999 = ?$

ตอบ $12,637$

83. ทีมีดินสอ 9,563 แท่ง น้องมีน้อยกว่าที 7,914 แท่ง น้อง มีดินสอเท่าใด
ประโยคสัญลักษณ์ $9,563 - 7,914 = ?$

ตอบ $1,649$

84. ต้าเหนงมีเงิน 7,407 บาท ออมเพิ่ม 4,176 บาท จะมีเงินอยู่เท่าใด
ประโยคสัญลักษณ์ $7,407 + 4,176 = ?$

ตอบ $11,583$

85. ต้าเพ่ยมีกาบ 4,138 ขวด เพื่อน มีมากกว่าต้าเพ่ย 4,665 ขวด เพื่อน มีกาบเท่าใด
ประโยคสัญลักษณ์ $4,138 + 4,665 = ?$

ตอบ $8,803$



ครูย์ www.ontous.info

ชื่อ-สกุล			
ชั้นเรียน		เลขที่	
คะแนนที่ได้		วันที่	

แบบฝึกวิชาคณิตศาสตร์ เรื่อง โจทย์ปัญหาการบวกและการลบ ตัวเลขสองจำนวน (เลขหลักพัน)

คำชี้แจง : ให้นักเรียนหาคำตอบจากโจทย์คำถามให้ถูกต้อง

86. เปียร์มีเงิน 4,966 บาท ออมเพิ่ม 8,265 บาท จะมีเงินอยู่เท่าใด

ประโยคสัญลักษณ์ $4,966 + 8,265 = ?$

ตอบ $13,231$

87. อี้กมีสีไม้ 5,740 แท่งและมีโต๊ะ 2,279 ตัว อี้กจะมีสีไม้และโต๊ะรวมกันเท่าใด

ประโยคสัญลักษณ์ $5,740 + 2,279 = ?$

ตอบ $8,019$

88. เจสซี่มีม้า 5,828 ตัว สุชาติ มีมากกว่าเจสซี่ 7,750 ตัว สุชาติ มีม้าเท่าใด

ประโยคสัญลักษณ์ $5,828 + 7,750 = ?$

ตอบ $13,578$

89. อังมีวัว 6,316 ตัว ไต้มาเพิ่ม 4,196 ตัว อังจะมีวัวอยู่เท่าใด

ประโยคสัญลักษณ์ $6,316 + 4,196 = ?$

ตอบ $10,512$

90. เทพมีชอล์ก 4,456 แท่ง เทพมีน้อยกว่าย่า 1,999 แท่ง ย่า มีชอล์กเท่าใด

ประโยคสัญลักษณ์ $4,456 + 1,999 = ?$

ตอบ $6,455$



ครูย์ www.ontous.info

ชื่อ-สกุล			
ชั้นเรียน		เลขที่	
คะแนนที่ได้		วันที่	

แบบฝึกวิชาคณิตศาสตร์ เรื่อง โจทย์ปัญหาการบวกและการลบ ตัวเลขสองจำนวน (เลขหลักพัน)

คำชี้แจง : ให้นักเรียนหาคำตอบจากโจทย์คำถามให้ถูกต้อง

91. บุ่มมีควาย 3,546 ตัว ปุ่มีน้อยกว่าบุ่ม 2,753 ตัว ปุ่ม มีควายเท่าใด

ประโยคสัญลักษณ์ $3,546 - 2,753 = ?$

ตอบ 793

92. โยมีเงิน 3,595 บาท ออมเพิ่ม 4,860 บาท จะมีเงินอยู่เท่าใด

ประโยคสัญลักษณ์ $3,595 + 4,860 = ?$

ตอบ 8,455

93. อันน์มีเงิน 4,411 บาท ออมเพิ่ม 9,307 บาท จะมีเงินอยู่เท่าใด

ประโยคสัญลักษณ์ $4,411 + 9,307 = ?$

ตอบ 13,718

94. บาศมีเงิน 7,172 บาท ออมเพิ่ม 1,333 บาท จะมีเงินอยู่เท่าใด

ประโยคสัญลักษณ์ $7,172 + 1,333 = ?$

ตอบ 8,505

95. ทรัพย์มีสับู่ 3,958 ก้อน ปุ่มีน้อยกว่าทรัพย์ 3,362 ก้อน ปุ่ม มีสับู่เท่าใด

ประโยคสัญลักษณ์ $3,958 - 3,362 = ?$

ตอบ 596



ครูย์ www.ontous.info

ชื่อ-สกุล			
ชั้นเรียน		เลขที่	
คะแนนที่ได้		วันที่	

แบบฝึกวิชาคณิตศาสตร์ เรื่อง โจทย์ปัญหาการบวกและการลบ ตัวเลขสองจำนวน (เลขหลักพัน)

คำชี้แจง : ให้นักเรียนหาคำตอบจากโจทย์คำถามให้ถูกต้อง

96. ทามมีโต๊ะ 9,578 ตัว แบ่งไปให้อา 7,846 ตัว ทามจะเหลือโต๊ะอยู่เท่าใด

ประโยคสัญลักษณ์ $9,578 - 7,846 = ?$

ตอบ $1,732$

97. แอมีเงิน 5,238 บาท ออมเพิ่ม 8,281 บาท จะมีเงินอยู่เท่าใด

ประโยคสัญลักษณ์ $5,238 + 8,281 = ?$

ตอบ $13,519$

98. เบย์มีวัคซีน 4,160 โดส ได้มาเพิ่ม 4,704 โดส เบย์จะมีวัคซีนอยู่เท่าใด

ประโยคสัญลักษณ์ $4,160 + 4,704 = ?$

ตอบ $8,864$

99. บุนมีเงิน 7,588 บาท ออมเพิ่ม 3,069 บาท จะมีเงินอยู่เท่าใด

ประโยคสัญลักษณ์ $7,588 + 3,069 = ?$

ตอบ $10,657$

100. ทามมีสาลี 9,146 ผล พ่อมีน้อยกว่าทาม 7,951 ผล พ่อ มีสาลีเท่าใด

ประโยคสัญลักษณ์ $9,146 - 7,951 = ?$

ตอบ $1,195$