

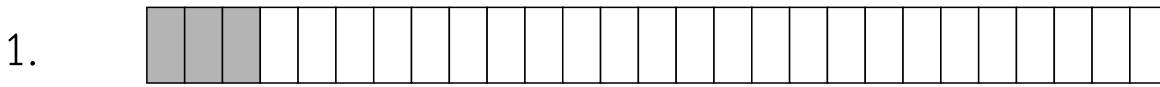


ครูโย www.ontous.info

ชื่อ-สกุล			
ชั้นเรียน		เลขที่	
คะแนนที่ได้		วันที่	

แบบฝึกวิชาคณิตศาสตร์ เรื่อง เศษส่วน สัญลักษณ์แทนเศษส่วน

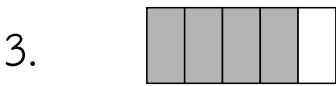
คำชี้แจง : ให้นักเรียนเขียนเศษส่วนจากสัญลักษณ์ที่กำหนดให้ต่อไปนี้



แปลงเป็นเศษส่วน เท่ากับ



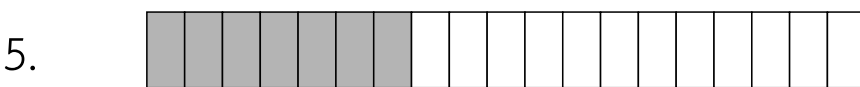
แปลงเป็นเศษส่วน เท่ากับ



แปลงเป็นเศษส่วน เท่ากับ



แปลงเป็นเศษส่วน เท่ากับ



แปลงเป็นเศษส่วน เท่ากับ



ครูโยย www.ontous.info

ชื่อ-สกุล			
ชั้นเรียน		เลขที่	
คะแนนที่ได้		วันที่	

แบบฝึกวิชาคณิตศาสตร์ เรื่อง เศษส่วน สัญลักษณ์แทนเศษส่วน

คำชี้แจง : ให้นักเรียนเขียนเศษส่วนจากสัญลักษณ์ที่กำหนดให้ต่อไปนี้

6.



แปลงเป็นเศษส่วน เท่ากับ

7.



แปลงเป็นเศษส่วน เท่ากับ

8.



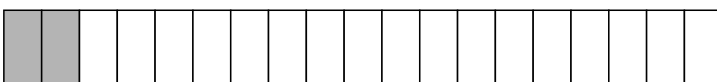
แปลงเป็นเศษส่วน เท่ากับ

9.



แปลงเป็นเศษส่วน เท่ากับ

10.



แปลงเป็นเศษส่วน เท่ากับ



ครูโยย www.ontous.info

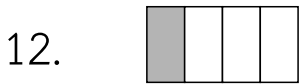
ชื่อ-สกุล			
ชั้นเรียน		เลขที่	
คะแนนที่ได้		วันที่	

แบบฝึกวิชาคณิตศาสตร์ เรื่อง เศษส่วน สัญลักษณ์แทนเศษส่วน

คำชี้แจง : ให้นักเรียนเขียนเศษส่วนจากสัญลักษณ์ที่กำหนดให้ต่อไปนี้



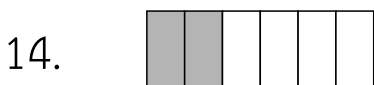
แปลงเป็นเศษส่วน เท่ากับ



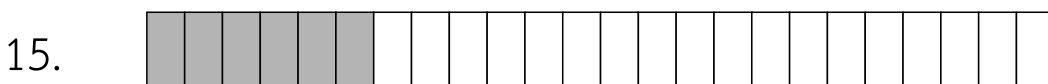
แปลงเป็นเศษส่วน เท่ากับ



แปลงเป็นเศษส่วน เท่ากับ



แปลงเป็นเศษส่วน เท่ากับ



แปลงเป็นเศษส่วน เท่ากับ



ครูโยย www.ontous.info

ชื่อ-สกุล			
ชั้นเรียน		เลขที่	
คะแนนที่ได้		วันที่	

แบบฝึกวิชาคณิตศาสตร์ เรื่อง เศษส่วน สัญลักษณ์แทนเศษส่วน

คำชี้แจง : ให้นักเรียนเขียนเศษส่วนจากสัญลักษณ์ที่กำหนดให้ต่อไปนี้

16.



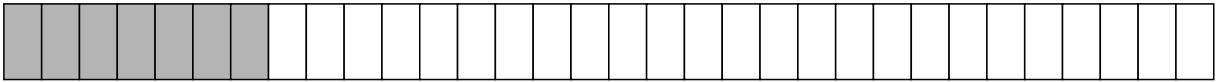
แปลงเป็นเศษส่วน เท่ากับ

17.



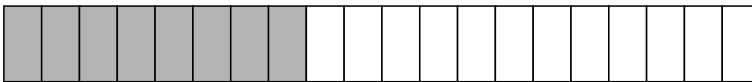
แปลงเป็นเศษส่วน เท่ากับ

18.



แปลงเป็นเศษส่วน เท่ากับ

19.



แปลงเป็นเศษส่วน เท่ากับ

20.



แปลงเป็นเศษส่วน เท่ากับ



ครูโยย www.ontous.info

ชื่อ-สกุล			
ชั้นเรียน		เลขที่	
คะแนนที่ได้		วันที่	

แบบฝึกวิชาคณิตศาสตร์ เรื่อง เศษส่วน สัญลักษณ์แทนเศษส่วน

คำชี้แจง : ให้นักเรียนเขียนเศษส่วนจากสัญลักษณ์ที่กำหนดให้ต่อไปนี้

21.

แปลงเป็นเศษส่วน เท่ากับ

22.

แปลงเป็นเศษส่วน เท่ากับ

23.

แปลงเป็นเศษส่วน เท่ากับ

24.

แปลงเป็นเศษส่วน เท่ากับ

25.

แปลงเป็นเศษส่วน เท่ากับ



ครูโยย www.ontous.info

ชื่อ-สกุล			
ชั้นเรียน		เลขที่	
คะแนนที่ได้		วันที่	

แบบฝึกวิชาคณิตศาสตร์ เรื่อง เศษส่วน สัญลักษณ์แทนเศษส่วน

คำชี้แจง : ให้นักเรียนเขียนเศษส่วนจากสัญลักษณ์ที่กำหนดให้ต่อไปนี้



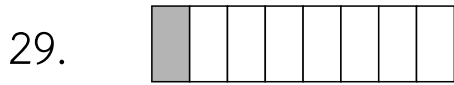
แปลงเป็นเศษส่วน เท่ากับ



แปลงเป็นเศษส่วน เท่ากับ



แปลงเป็นเศษส่วน เท่ากับ



แปลงเป็นเศษส่วน เท่ากับ



แปลงเป็นเศษส่วน เท่ากับ



ครูโยย www.ontous.info

ชื่อ-สกุล			
ชั้นเรียน		เลขที่	
คะแนนที่ได้		วันที่	

แบบฝึกวิชาคณิตศาสตร์ เรื่อง เศษส่วน สัญลักษณ์แทนเศษส่วน

คำชี้แจง : ให้นักเรียนเขียนเศษส่วนจากสัญลักษณ์ที่กำหนดให้ต่อไปนี้

31.

แปลงเป็นเศษส่วน เท่ากับ

32.

แปลงเป็นเศษส่วน เท่ากับ

33.

แปลงเป็นเศษส่วน เท่ากับ

34.

แปลงเป็นเศษส่วน เท่ากับ

35.

แปลงเป็นเศษส่วน เท่ากับ



ครูโยย www.ontous.info

ชื่อ-สกุล			
ชั้นเรียน		เลขที่	
คะแนนที่ได้		วันที่	

แบบฝึกวิชาคณิตศาสตร์ เรื่อง เศษส่วน สัญลักษณ์แทนเศษส่วน

คำชี้แจง : ให้นักเรียนเขียนเศษส่วนจากสัญลักษณ์ที่กำหนดให้ต่อไปนี้

36.

แปลงเป็นเศษส่วน เท่ากับ

37.

แปลงเป็นเศษส่วน เท่ากับ

38.

แปลงเป็นเศษส่วน เท่ากับ

39.

แปลงเป็นเศษส่วน เท่ากับ

40.

แปลงเป็นเศษส่วน เท่ากับ



ครูโยย www.ontous.info

ชื่อ-สกุล			
ชั้นเรียน		เลขที่	
คะแนนที่ได้		วันที่	

แบบฝึกวิชาคณิตศาสตร์ เรื่อง เศษส่วน สัญลักษณ์แทนเศษส่วน

คำชี้แจง : ให้นักเรียนเขียนเศษส่วนจากสัญลักษณ์ที่กำหนดให้ต่อไปนี้

41.

แปลงเป็นเศษส่วน เท่ากับ

42.

แปลงเป็นเศษส่วน เท่ากับ

43.

แปลงเป็นเศษส่วน เท่ากับ

44.

แปลงเป็นเศษส่วน เท่ากับ

45.

แปลงเป็นเศษส่วน เท่ากับ



ครูโยย www.ontous.info

ชื่อ-สกุล			
ชั้นเรียน		เลขที่	
คะแนนที่ได้		วันที่	

แบบฝึกวิชาคณิตศาสตร์ เรื่อง เศษส่วน สัญลักษณ์แทนเศษส่วน

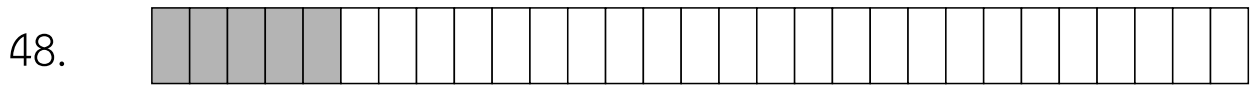
คำชี้แจง : ให้นักเรียนเขียนเศษส่วนจากสัญลักษณ์ที่กำหนดให้ต่อไปนี้



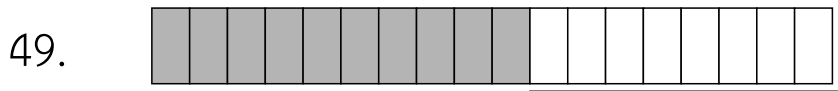
แปลงเป็นเศษส่วน เท่ากับ



แปลงเป็นเศษส่วน เท่ากับ



แปลงเป็นเศษส่วน เท่ากับ



แปลงเป็นเศษส่วน เท่ากับ



แปลงเป็นเศษส่วน เท่ากับ



ครูโยย www.ontous.info

ชื่อ-สกุล			
ชั้นเรียน		เลขที่	
คะแนนที่ได้		วันที่	

แบบฝึกวิชาคณิตศาสตร์ เรื่อง เศษส่วน สัญลักษณ์แทนเศษส่วน

คำชี้แจง : ให้นักเรียนเขียนเศษส่วนจากสัญลักษณ์ที่กำหนดให้ต่อไปนี้




แปลงเป็นเศษส่วน เท่ากับ



แปลงเป็นเศษส่วน เท่ากับ



แปลงเป็นเศษส่วน เท่ากับ



แปลงเป็นเศษส่วน เท่ากับ



แปลงเป็นเศษส่วน เท่ากับ



ครูโยย www.ontous.info

ชื่อ-สกุล			
ชั้นเรียน		เลขที่	
คะแนนที่ได้		วันที่	

แบบฝึกวิชาคณิตศาสตร์ เรื่อง เศษส่วน สัญลักษณ์แทนเศษส่วน

คำชี้แจง : ให้นักเรียนเขียนเศษส่วนจากสัญลักษณ์ที่กำหนดให้ต่อไปนี้

56.

แปลงเป็นเศษส่วน เท่ากับ

57.

แปลงเป็นเศษส่วน เท่ากับ

58.

แปลงเป็นเศษส่วน เท่ากับ

59.

แปลงเป็นเศษส่วน เท่ากับ

60.

แปลงเป็นเศษส่วน เท่ากับ



ครูโยย www.ontous.info

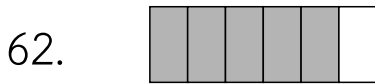
ชื่อ-สกุล			
ชั้นเรียน		เลขที่	
คะแนนที่ได้		วันที่	

แบบฝึกวิชาคณิตศาสตร์ เรื่อง เศษส่วน สัญลักษณ์แทนเศษส่วน

คำชี้แจง : ให้นักเรียนเขียนเศษส่วนจากสัญลักษณ์ที่กำหนดให้ต่อไปนี้



แปลงเป็นเศษส่วน เท่ากับ



แปลงเป็นเศษส่วน เท่ากับ



แปลงเป็นเศษส่วน เท่ากับ



แปลงเป็นเศษส่วน เท่ากับ



แปลงเป็นเศษส่วน เท่ากับ



ครูย์ www.ontous.info

ชื่อ-สกุล			
ชั้นเรียน		เลขที่	
คะแนนที่ได้		วันที่	

แบบฝึกวิชาคณิตศาสตร์ เรื่อง เศษส่วน สัญลักษณ์แทนเศษส่วน

คำชี้แจง : ให้นักเรียนเขียนเศษส่วนจากสัญลักษณ์ที่กำหนดให้ต่อไปนี้

66.

แปลงเป็นเศษส่วน เท่ากับ

67.

แปลงเป็นเศษส่วน เท่ากับ

68.

แปลงเป็นเศษส่วน เท่ากับ

69.

แปลงเป็นเศษส่วน เท่ากับ

70.

แปลงเป็นเศษส่วน เท่ากับ



ครูย์ www.ontous.info

ชื่อ-สกุล			
ชั้นเรียน		เลขที่	
คะแนนที่ได้		วันที่	

แบบฝึกวิชาคณิตศาสตร์ เรื่อง เศษส่วน สัญลักษณ์แทนเศษส่วน

คำชี้แจง : ให้นักเรียนเขียนเศษส่วนจากสัญลักษณ์ที่กำหนดให้ต่อไปนี้

71.

แปลงเป็นเศษส่วน เท่ากับ

72.

แปลงเป็นเศษส่วน เท่ากับ

73.

แปลงเป็นเศษส่วน เท่ากับ

74.

แปลงเป็นเศษส่วน เท่ากับ

75.

แปลงเป็นเศษส่วน เท่ากับ



ครูโยย www.ontous.info

ชื่อ-สกุล			
ชั้นเรียน		เลขที่	
คะแนนที่ได้		วันที่	

แบบฝึกวิชาคณิตศาสตร์ เรื่อง เศษส่วน สัญลักษณ์แทนเศษส่วน

คำชี้แจง : ให้นักเรียนเขียนเศษส่วนจากสัญลักษณ์ที่กำหนดให้ต่อไปนี้

76. 

แปลงเป็นเศษส่วน เท่ากับ

77. 

แปลงเป็นเศษส่วน เท่ากับ

78. 

แปลงเป็นเศษส่วน เท่ากับ

79. 

แปลงเป็นเศษส่วน เท่ากับ

80. 

แปลงเป็นเศษส่วน เท่ากับ



ครูโยย www.ontous.info

ชื่อ-สกุล			
ชั้นเรียน		เลขที่	
คะแนนที่ได้		วันที่	

แบบฝึกวิชาคณิตศาสตร์ เรื่อง เศษส่วน สัญลักษณ์แทนเศษส่วน

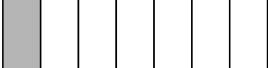
คำชี้แจง : ให้นักเรียนเขียนเศษส่วนจากสัญลักษณ์ที่กำหนดให้ต่อไปนี้

81. 


แปลงเป็นเศษส่วน เท่ากับ

82. 


แปลงเป็นเศษส่วน เท่ากับ

83. 

แปลงเป็นเศษส่วน เท่ากับ

84. 

แปลงเป็นเศษส่วน เท่ากับ

85. 

แปลงเป็นเศษส่วน เท่ากับ



ครูย์ www.ontous.info

ชื่อ-สกุล			
ชั้นเรียน		เลขที่	
คะแนนที่ได้		วันที่	

แบบฝึกวิชาคณิตศาสตร์ เรื่อง เศษส่วน สัญลักษณ์แทนเศษส่วน

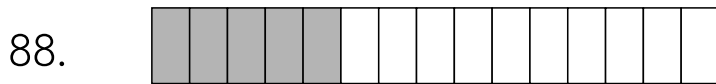
คำชี้แจง : ให้นักเรียนเขียนเศษส่วนจากสัญลักษณ์ที่กำหนดให้ต่อไปนี้



แปลงเป็นเศษส่วน เท่ากับ



แปลงเป็นเศษส่วน เท่ากับ



แปลงเป็นเศษส่วน เท่ากับ



แปลงเป็นเศษส่วน เท่ากับ



แปลงเป็นเศษส่วน เท่ากับ



ครูโยย www.ontous.info


ชื่อ-สกุล			
ชั้นเรียน		เลขที่	
คะแนนที่ได้		วันที่	

แบบฝึกวิชาคณิตศาสตร์ เรื่อง เศษส่วน สัญลักษณ์แทนเศษส่วน

คำชี้แจง : ให้นักเรียนเขียนเศษส่วนจากสัญลักษณ์ที่กำหนดให้ต่อไปนี้

91. 

แปลงเป็นเศษส่วน เท่ากับ

92. 


แปลงเป็นเศษส่วน เท่ากับ

93. 

แปลงเป็นเศษส่วน เท่ากับ

94. 

แปลงเป็นเศษส่วน เท่ากับ

95. 

แปลงเป็นเศษส่วน เท่ากับ



ครูโยย www.ontous.info


ชื่อ-สกุล			
ชั้นเรียน		เลขที่	
คะแนนที่ได้		วันที่	

แบบฝึกวิชาคณิตศาสตร์ เรื่อง เศษส่วน สัญลักษณ์แทนเศษส่วน

คำชี้แจง : ให้นักเรียนเขียนเศษส่วนจากสัญลักษณ์ที่กำหนดให้ต่อไปนี้

96. 

แปลงเป็นเศษส่วน เท่ากับ

97. 


แปลงเป็นเศษส่วน เท่ากับ

98. 

แปลงเป็นเศษส่วน เท่ากับ

99. 

แปลงเป็นเศษส่วน เท่ากับ

100. 

แปลงเป็นเศษส่วน เท่ากับ



ครูโยย www.ontous.info

ชื่อ-สกุล			
ชั้นเรียน		เลขที่	
คะแนนที่ได้		วันที่	

แบบฝึกวิชาคณิตศาสตร์ เรื่อง เศษส่วน สัญลักษณ์แทนเศษส่วน

คำชี้แจง : ให้นักเรียนเขียนเศษส่วนจากสัญลักษณ์ที่กำหนดให้ต่อไปนี้

101.



แปลงเป็นเศษส่วน เท่ากับ

102.



แปลงเป็นเศษส่วน เท่ากับ

103.



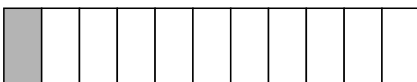
แปลงเป็นเศษส่วน เท่ากับ

104.



แปลงเป็นเศษส่วน เท่ากับ

105.



แปลงเป็นเศษส่วน เท่ากับ



ครูโยย www.ontous.info

ชื่อ-สกุล			
ชั้นเรียน		เลขที่	
คะแนนที่ได้		วันที่	

แบบฝึกวิชาคณิตศาสตร์ เรื่อง เศษส่วน สัญลักษณ์แทนเศษส่วน

คำชี้แจง : ให้นักเรียนเขียนเศษส่วนจากสัญลักษณ์ที่กำหนดให้ต่อไปนี้

106.



แปลงเป็นเศษส่วน เท่ากับ

107.




แปลงเป็นเศษส่วน เท่ากับ

108.



แปลงเป็นเศษส่วน เท่ากับ

109.



แปลงเป็นเศษส่วน เท่ากับ

110.



แปลงเป็นเศษส่วน เท่ากับ



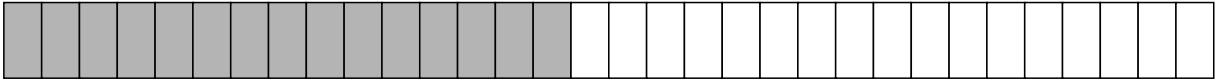
ครูย์ www.ontous.info

ชื่อ-สกุล			
ชั้นเรียน		เลขที่	
คะแนนที่ได้		วันที่	

แบบฝึกวิชาคณิตศาสตร์ เรื่อง เศษส่วน สัญลักษณ์แทนเศษส่วน

คำชี้แจง : ให้นักเรียนเขียนเศษส่วนจากสัญลักษณ์ที่กำหนดให้ต่อไปนี้

111.



แปลงเป็นเศษส่วน เท่ากับ

112.



แปลงเป็นเศษส่วน เท่ากับ

113.



แปลงเป็นเศษส่วน เท่ากับ

114.



แปลงเป็นเศษส่วน เท่ากับ

115.



แปลงเป็นเศษส่วน เท่ากับ



ครูโยย www.ontous.info

ชื่อ-สกุล			
ชั้นเรียน		เลขที่	
คะแนนที่ได้		วันที่	

แบบฝึกวิชาคณิตศาสตร์ เรื่อง เศษส่วน สัญลักษณ์แทนเศษส่วน

คำชี้แจง : ให้นักเรียนเขียนเศษส่วนจากสัญลักษณ์ที่กำหนดให้ต่อไปนี้

116.



แปลงเป็นเศษส่วน เท่ากับ

117.




แปลงเป็นเศษส่วน เท่ากับ

118.



แปลงเป็นเศษส่วน เท่ากับ

119.



แปลงเป็นเศษส่วน เท่ากับ

120.



แปลงเป็นเศษส่วน เท่ากับ




ครูโยย www.ontous.info

ชื่อ-สกุล			
ชั้นเรียน		เลขที่	
คะแนนที่ได้		วันที่	

แบบฝึกวิชาคณิตศาสตร์ เรื่อง เศษส่วน สัญลักษณ์แทนเศษส่วน

คำชี้แจง : ให้นักเรียนเขียนเศษส่วนจากสัญลักษณ์ที่กำหนดให้ต่อไปนี้

121.



แปลงเป็นเศษส่วน เท่ากับ

122.



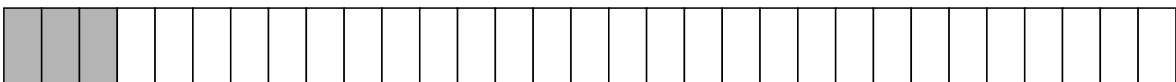
แปลงเป็นเศษส่วน เท่ากับ

123.




แปลงเป็นเศษส่วน เท่ากับ

124.



แปลงเป็นเศษส่วน เท่ากับ

125.



แปลงเป็นเศษส่วน เท่ากับ



ครูโยย www.ontous.info

ชื่อ-สกุล			
ชั้นเรียน		เลขที่	
คะแนนที่ได้		วันที่	

แบบฝึกวิชาคณิตศาสตร์ เรื่อง เศษส่วน สัญลักษณ์แทนเศษส่วน

คำชี้แจง : ให้นักเรียนเขียนเศษส่วนจากสัญลักษณ์ที่กำหนดให้ต่อไปนี้

126.



แปลงเป็นเศษส่วน เท่ากับ

127.



แปลงเป็นเศษส่วน เท่ากับ

128.



แปลงเป็นเศษส่วน เท่ากับ

129.



แปลงเป็นเศษส่วน เท่ากับ

130.



แปลงเป็นเศษส่วน เท่ากับ



ครูโยย www.ontous.info

ชื่อ-สกุล			
ชั้นเรียน		เลขที่	
คะแนนที่ได้		วันที่	

แบบฝึกวิชาคณิตศาสตร์ เรื่อง เศษส่วน สัญลักษณ์แทนเศษส่วน

คำชี้แจง : ให้นักเรียนเขียนเศษส่วนจากสัญลักษณ์ที่กำหนดให้ต่อไปนี้

131.



แปลงเป็นเศษส่วน เท่ากับ

132.



แปลงเป็นเศษส่วน เท่ากับ

133.



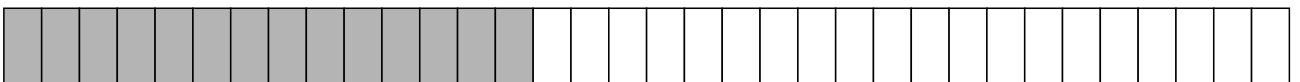
แปลงเป็นเศษส่วน เท่ากับ

134.



แปลงเป็นเศษส่วน เท่ากับ

135.



แปลงเป็นเศษส่วน เท่ากับ



ครูโยย www.ontous.info

ชื่อ-สกุล			
ชั้นเรียน		เลขที่	
คะแนนที่ได้		วันที่	

แบบฝึกวิชาคณิตศาสตร์ เรื่อง เศษส่วน สัญลักษณ์แทนเศษส่วน

คำชี้แจง : ให้นักเรียนเขียนเศษส่วนจากสัญลักษณ์ที่กำหนดให้ต่อไปนี้

136.



แปลงเป็นเศษส่วน เท่ากับ

137.



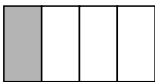
แปลงเป็นเศษส่วน เท่ากับ

138.




แปลงเป็นเศษส่วน เท่ากับ

139.



แปลงเป็นเศษส่วน เท่ากับ

140.



แปลงเป็นเศษส่วน เท่ากับ



ครูโยย www.ontous.info

ชื่อ-สกุล			
ชั้นเรียน		เลขที่	
คะแนนที่ได้		วันที่	

แบบฝึกวิชาคณิตศาสตร์ เรื่อง เศษส่วน สัญลักษณ์แทนเศษส่วน


คำชี้แจง : ให้นักเรียนเขียนเศษส่วนจากสัญลักษณ์ที่กำหนดให้ต่อไปนี้

141.



แปลงเป็นเศษส่วน เท่ากับ

142.




แปลงเป็นเศษส่วน เท่ากับ

143.



แปลงเป็นเศษส่วน เท่ากับ

144.



แปลงเป็นเศษส่วน เท่ากับ

145.



แปลงเป็นเศษส่วน เท่ากับ



ครูโยย www.ontous.info

ชื่อ-สกุล			
ชั้นเรียน		เลขที่	
คะแนนที่ได้		วันที่	

แบบฝึกวิชาคณิตศาสตร์ เรื่อง เศษส่วน สัญลักษณ์แทนเศษส่วน

คำชี้แจง : ให้นักเรียนเขียนเศษส่วนจากสัญลักษณ์ที่กำหนดให้ต่อไปนี้

146.



แปลงเป็นเศษส่วน เท่ากับ

147.



แปลงเป็นเศษส่วน เท่ากับ

148.



แปลงเป็นเศษส่วน เท่ากับ

149.



แปลงเป็นเศษส่วน เท่ากับ

150.



แปลงเป็นเศษส่วน เท่ากับ



ครูโยย www.ontous.info

ชื่อ-สกุล			
ชั้นเรียน		เลขที่	
คะแนนที่ได้		วันที่	

แบบฝึกวิชาคณิตศาสตร์ เรื่อง เศษส่วน สัญลักษณ์แทนเศษส่วน

คำชี้แจง : ให้นักเรียนเขียนเศษส่วนจากสัญลักษณ์ที่กำหนดให้ต่อไปนี้

151.



แปลงเป็นเศษส่วน เท่ากับ

152.



แปลงเป็นเศษส่วน เท่ากับ

153.



แปลงเป็นเศษส่วน เท่ากับ

154.



แปลงเป็นเศษส่วน เท่ากับ

155.



แปลงเป็นเศษส่วน เท่ากับ



ครูโยย www.ontous.info

ชื่อ-สกุล			
ชั้นเรียน		เลขที่	
คะแนนที่ได้		วันที่	

แบบฝึกวิชาคณิตศาสตร์ เรื่อง เศษส่วน สัญลักษณ์แทนเศษส่วน

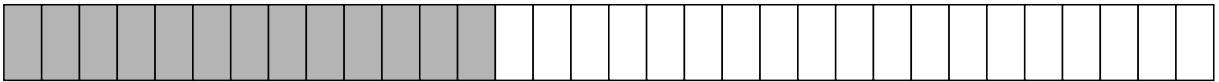
คำชี้แจง : ให้นักเรียนเขียนเศษส่วนจากสัญลักษณ์ที่กำหนดให้ต่อไปนี้

156.



แปลงเป็นเศษส่วน เท่ากับ

157.



แปลงเป็นเศษส่วน เท่ากับ

158.



แปลงเป็นเศษส่วน เท่ากับ

159.



แปลงเป็นเศษส่วน เท่ากับ

160.



แปลงเป็นเศษส่วน เท่ากับ



ครูโยย www.ontous.info

ชื่อ-สกุล			
ชั้นเรียน		เลขที่	
คะแนนที่ได้		วันที่	

แบบฝึกวิชาคณิตศาสตร์ เรื่อง เศษส่วน สัญลักษณ์แทนเศษส่วน

คำชี้แจง : ให้นักเรียนเขียนเศษส่วนจากสัญลักษณ์ที่กำหนดให้ต่อไปนี้

161.



แปลงเป็นเศษส่วน เท่ากับ

162.



แปลงเป็นเศษส่วน เท่ากับ

163.




แปลงเป็นเศษส่วน เท่ากับ

164.



แปลงเป็นเศษส่วน เท่ากับ

165.



แปลงเป็นเศษส่วน เท่ากับ




ครูโยย www.ontous.info

ชื่อ-สกุล			
ชั้นเรียน		เลขที่	
คะแนนที่ได้		วันที่	

แบบฝึกวิชาคณิตศาสตร์ เรื่อง เศษส่วน สัญลักษณ์แทนเศษส่วน

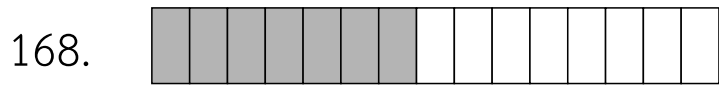
คำชี้แจง : ให้นักเรียนเขียนเศษส่วนจากสัญลักษณ์ที่กำหนดให้ต่อไปนี้



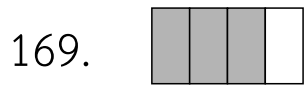
แปลงเป็นเศษส่วน เท่ากับ



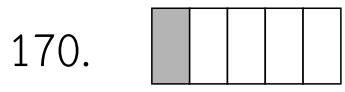
แปลงเป็นเศษส่วน เท่ากับ



แปลงเป็นเศษส่วน เท่ากับ



แปลงเป็นเศษส่วน เท่ากับ



แปลงเป็นเศษส่วน เท่ากับ



ครูโยย www.ontous.info

ชื่อ-สกุล			
ชั้นเรียน		เลขที่	
คะแนนที่ได้		วันที่	

แบบฝึกวิชาคณิตศาสตร์ เรื่อง เศษส่วน สัญลักษณ์แทนเศษส่วน

คำชี้แจง : ให้นักเรียนเขียนเศษส่วนจากสัญลักษณ์ที่กำหนดให้ต่อไปนี้

171.



แปลงเป็นเศษส่วน เท่ากับ

172.



แปลงเป็นเศษส่วน เท่ากับ

173.




แปลงเป็นเศษส่วน เท่ากับ

174.



แปลงเป็นเศษส่วน เท่ากับ

175.



แปลงเป็นเศษส่วน เท่ากับ



ครูโยย www.ontous.info

ชื่อ-สกุล			
ชั้นเรียน		เลขที่	
คะแนนที่ได้		วันที่	

แบบฝึกวิชาคณิตศาสตร์ เรื่อง เศษส่วน สัญลักษณ์แทนเศษส่วน

คำชี้แจง : ให้นักเรียนเขียนเศษส่วนจากสัญลักษณ์ที่กำหนดให้ต่อไปนี้

176.



แปลงเป็นเศษส่วน เท่ากับ

177.



แปลงเป็นเศษส่วน เท่ากับ

178.




แปลงเป็นเศษส่วน เท่ากับ

179.



แปลงเป็นเศษส่วน เท่ากับ

180.



แปลงเป็นเศษส่วน เท่ากับ



ครูโยย www.ontous.info

ชื่อ-สกุล			
ชั้นเรียน		เลขที่	
คะแนนที่ได้		วันที่	

แบบฝึกวิชาคณิตศาสตร์ เรื่อง เศษส่วน สัญลักษณ์แทนเศษส่วน


คำชี้แจง : ให้นักเรียนเขียนเศษส่วนจากสัญลักษณ์ที่กำหนดให้ต่อไปนี้

181.



แปลงเป็นเศษส่วน เท่ากับ

182.



แปลงเป็นเศษส่วน เท่ากับ

183.




แปลงเป็นเศษส่วน เท่ากับ

184.



แปลงเป็นเศษส่วน เท่ากับ

185.



แปลงเป็นเศษส่วน เท่ากับ



ครูโยย www.ontous.info

ชื่อ-สกุล			
ชั้นเรียน		เลขที่	
คะแนนที่ได้		วันที่	

แบบฝึกวิชาคณิตศาสตร์ เรื่อง เศษส่วน สัญลักษณ์แทนเศษส่วน

คำชี้แจง : ให้นักเรียนเขียนเศษส่วนจากสัญลักษณ์ที่กำหนดให้ต่อไปนี้

186.



แปลงเป็นเศษส่วน เท่ากับ

187.



แปลงเป็นเศษส่วน เท่ากับ

188.



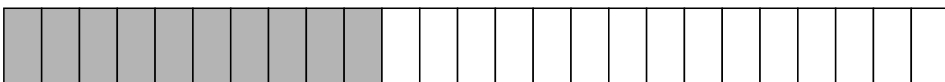
แปลงเป็นเศษส่วน เท่ากับ

189.



แปลงเป็นเศษส่วน เท่ากับ

190.



แปลงเป็นเศษส่วน เท่ากับ



ครูโยย www.ontous.info

ชื่อ-สกุล			
ชั้นเรียน		เลขที่	
คะแนนที่ได้		วันที่	

แบบฝึกวิชาคณิตศาสตร์ เรื่อง เศษส่วน สัญลักษณ์แทนเศษส่วน

คำชี้แจง : ให้นักเรียนเขียนเศษส่วนจากสัญลักษณ์ที่กำหนดให้ต่อไปนี้

191.



แปลงเป็นเศษส่วน เท่ากับ

192.



แปลงเป็นเศษส่วน เท่ากับ

193.



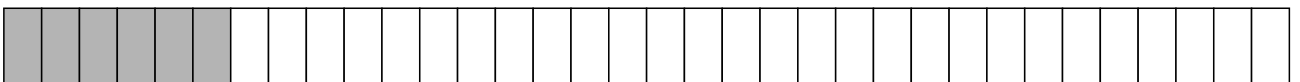
แปลงเป็นเศษส่วน เท่ากับ

194.



แปลงเป็นเศษส่วน เท่ากับ

195.



แปลงเป็นเศษส่วน เท่ากับ



ครูโยย www.ontous.info

ชื่อ-สกุล			
ชั้นเรียน		เลขที่	
คะแนนที่ได้		วันที่	

แบบฝึกวิชาคณิตศาสตร์ เรื่อง เศษส่วน สัญลักณ์แทนเศษส่วน

คำชี้แจง : ให้นักเรียนเขียนเศษส่วนจากสัญลักษณ์ที่กำหนดให้ต่อไปนี้

196.



แปลงเป็นเศษส่วน เท่ากับ

197.




แปลงเป็นเศษส่วน เท่ากับ

198.




แปลงเป็นเศษส่วน เท่ากับ

199.



แปลงเป็นเศษส่วน เท่ากับ

200.



แปลงเป็นเศษส่วน เท่ากับ



ครูโยย www.ontous.info

ชื่อ-สกุล			
ชั้นเรียน		เลขที่	
คะแนนที่ได้		วันที่	

แบบฝึกวิชาคณิตศาสตร์ เรื่อง เศษส่วน สัญลักษณ์แทนเศษส่วน

คำชี้แจง : ให้นักเรียนเขียนเศษส่วนจากสัญลักษณ์ที่กำหนดให้ต่อไปนี้

201.



แปลงเป็นเศษส่วน เท่ากับ

202.



แปลงเป็นเศษส่วน เท่ากับ

203.



แปลงเป็นเศษส่วน เท่ากับ

204.



แปลงเป็นเศษส่วน เท่ากับ

205.



แปลงเป็นเศษส่วน เท่ากับ



ครูโยย www.ontous.info

ชื่อ-สกุล			
ชั้นเรียน		เลขที่	
คะแนนที่ได้		วันที่	

แบบฝึกวิชาคณิตศาสตร์ เรื่อง เศษส่วน สัญลักษณ์แทนเศษส่วน

คำชี้แจง : ให้นักเรียนเขียนเศษส่วนจากสัญลักษณ์ที่กำหนดให้ต่อไปนี้

206.



แปลงเป็นเศษส่วน เท่ากับ

207.



แปลงเป็นเศษส่วน เท่ากับ

208.



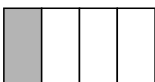
แปลงเป็นเศษส่วน เท่ากับ

209.



แปลงเป็นเศษส่วน เท่ากับ

210.



แปลงเป็นเศษส่วน เท่ากับ



ครูโย www.ontous.info

ชื่อ-สกุล			
ชั้นเรียน		เลขที่	
คะแนนที่ได้		วันที่	

แบบฝึกวิชาคณิตศาสตร์ เรื่อง เศษส่วน สัญลักษณ์แทนเศษส่วน

คำชี้แจง : ให้นักเรียนเขียนเศษส่วนจากสัญลักษณ์ที่กำหนดให้ต่อไปนี้




แปลงเป็นเศษส่วน เท่ากับ




แปลงเป็นเศษส่วน เท่ากับ



แปลงเป็นเศษส่วน เท่ากับ



แปลงเป็นเศษส่วน เท่ากับ



แปลงเป็นเศษส่วน เท่ากับ



ครูโยย www.ontous.info

ชื่อ-สกุล			
ชั้นเรียน		เลขที่	
คะแนนที่ได้		วันที่	

แบบฝึกวิชาคณิตศาสตร์ เรื่อง เศษส่วน สัญลักษณ์แทนเศษส่วน

คำชี้แจง : ให้นักเรียนเขียนเศษส่วนจากสัญลักษณ์ที่กำหนดให้ต่อไปนี้

216.

แปลงเป็นเศษส่วน เท่ากับ

217.

แปลงเป็นเศษส่วน เท่ากับ

218.

แปลงเป็นเศษส่วน เท่ากับ

219.

แปลงเป็นเศษส่วน เท่ากับ

220.

แปลงเป็นเศษส่วน เท่ากับ



ครูโยย www.ontous.info

ชื่อ-สกุล			
ชั้นเรียน		เลขที่	
คะแนนที่ได้		วันที่	

แบบฝึกวิชาคณิตศาสตร์ เรื่อง เศษส่วน สัญลักษณ์แทนเศษส่วน

คำชี้แจง : ให้นักเรียนเขียนเศษส่วนจากสัญลักษณ์ที่กำหนดให้ต่อไปนี้

221.

แปลงเป็นเศษส่วน เท่ากับ

222.

แปลงเป็นเศษส่วน เท่ากับ

223.

แปลงเป็นเศษส่วน เท่ากับ

224.

แปลงเป็นเศษส่วน เท่ากับ

225.

แปลงเป็นเศษส่วน เท่ากับ



ครูโยย www.ontous.info

ชื่อ-สกุล			
ชั้นเรียน		เลขที่	
คะแนนที่ได้		วันที่	

แบบฝึกวิชาคณิตศาสตร์ เรื่อง เศษส่วน สัญลักษณ์แทนเศษส่วน

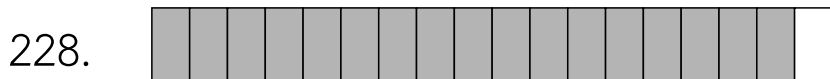
คำชี้แจง : ให้นักเรียนเขียนเศษส่วนจากสัญลักษณ์ที่กำหนดให้ต่อไปนี้



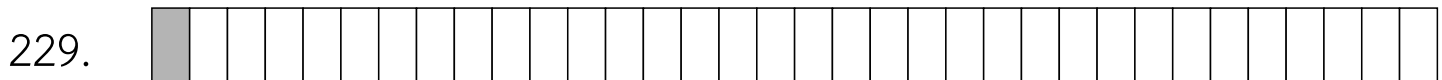
แปลงเป็นเศษส่วน เท่ากับ



แปลงเป็นเศษส่วน เท่ากับ



แปลงเป็นเศษส่วน เท่ากับ



แปลงเป็นเศษส่วน เท่ากับ



แปลงเป็นเศษส่วน เท่ากับ



ครูโยย www.ontous.info

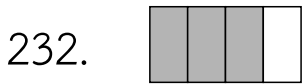
ชื่อ-สกุล			
ชั้นเรียน		เลขที่	
คะแนนที่ได้		วันที่	

แบบฝึกวิชาคณิตศาสตร์ เรื่อง เศษส่วน สัญลักษณ์แทนเศษส่วน

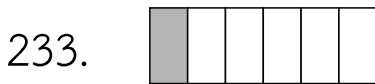
คำชี้แจง : ให้นักเรียนเขียนเศษส่วนจากสัญลักษณ์ที่กำหนดให้ต่อไปนี้



แปลงเป็นเศษส่วน เท่ากับ



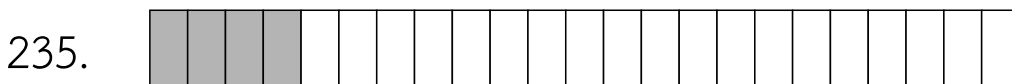
แปลงเป็นเศษส่วน เท่ากับ



แปลงเป็นเศษส่วน เท่ากับ



แปลงเป็นเศษส่วน เท่ากับ



แปลงเป็นเศษส่วน เท่ากับ



ครูโยย www.ontous.info

ชื่อ-สกุล			
ชั้นเรียน		เลขที่	
คะแนนที่ได้		วันที่	

แบบฝึกวิชาคณิตศาสตร์ เรื่อง เศษส่วน สัญลักษณ์แทนเศษส่วน

คำชี้แจง : ให้นักเรียนเขียนเศษส่วนจากสัญลักษณ์ที่กำหนดให้ต่อไปนี้

236.



แปลงเป็นเศษส่วน เท่ากับ

237.



แปลงเป็นเศษส่วน เท่ากับ

238.



แปลงเป็นเศษส่วน เท่ากับ

239.



แปลงเป็นเศษส่วน เท่ากับ

240.



แปลงเป็นเศษส่วน เท่ากับ



ครูโยย www.ontous.info

ชื่อ-สกุล			
ชั้นเรียน		เลขที่	
คะแนนที่ได้		วันที่	

แบบฝึกวิชาคณิตศาสตร์ เรื่อง เศษส่วน สัญลักณ์แทนเศษส่วน

คำชี้แจง : ให้นักเรียนเขียนเศษส่วนจากสัญลักณ์ที่กำหนดให้ต่อไปนี้

241.

แปลงเป็นเศษส่วน เท่ากับ

242.

แปลงเป็นเศษส่วน เท่ากับ

243.

แปลงเป็นเศษส่วน เท่ากับ

244.

แปลงเป็นเศษส่วน เท่ากับ

245.

แปลงเป็นเศษส่วน เท่ากับ



ครูโยย www.ontous.info


ชื่อ-สกุล			
ชั้นเรียน		เลขที่	
คะแนนที่ได้		วันที่	

แบบฝึกวิชาคณิตศาสตร์ เรื่อง เศษส่วน สัญลักษณ์แทนเศษส่วน

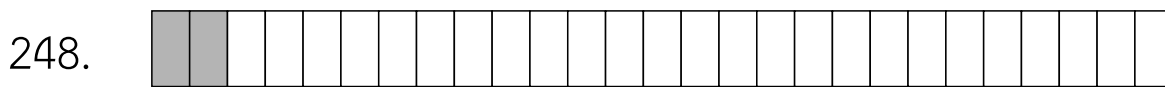
คำชี้แจง : ให้นักเรียนเขียนเศษส่วนจากสัญลักษณ์ที่กำหนดให้ต่อไปนี้



แปลงเป็นเศษส่วน เท่ากับ



แปลงเป็นเศษส่วน เท่ากับ



แปลงเป็นเศษส่วน เท่ากับ



แปลงเป็นเศษส่วน เท่ากับ



แปลงเป็นเศษส่วน เท่ากับ



ครูโยย www.ontous.info

ชื่อ-สกุล			
ชั้นเรียน		เลขที่	
คะแนนที่ได้		วันที่	

แบบฝึกวิชาคณิตศาสตร์ เรื่อง เศษส่วน สัญลักษณ์แทนเศษส่วน


คำชี้แจง : ให้นักเรียนเขียนเศษส่วนจากสัญลักษณ์ที่กำหนดให้ต่อไปนี้




แปลงเป็นเศษส่วน เท่ากับ



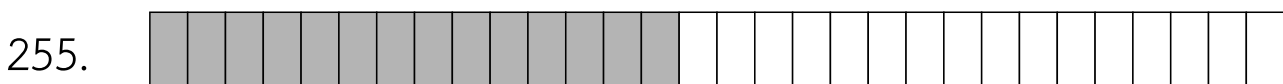
แปลงเป็นเศษส่วน เท่ากับ



แปลงเป็นเศษส่วน เท่ากับ



แปลงเป็นเศษส่วน เท่ากับ



แปลงเป็นเศษส่วน เท่ากับ



ครูโยย www.ontous.info

ชื่อ-สกุล			
ชั้นเรียน		เลขที่	
คะแนนที่ได้		วันที่	

แบบฝึกวิชาคณิตศาสตร์ เรื่อง เศษส่วน สัญลักษณ์แทนเศษส่วน

คำชี้แจง : ให้นักเรียนเขียนเศษส่วนจากสัญลักษณ์ที่กำหนดให้ต่อไปนี้

256.



แปลงเป็นเศษส่วน เท่ากับ

257.



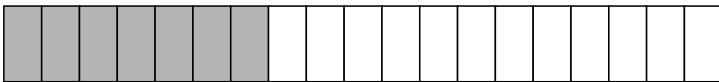
แปลงเป็นเศษส่วน เท่ากับ

258.



แปลงเป็นเศษส่วน เท่ากับ

259.



แปลงเป็นเศษส่วน เท่ากับ

260.



แปลงเป็นเศษส่วน เท่ากับ



ครูโยย www.ontous.info

ชื่อ-สกุล			
ชั้นเรียน		เลขที่	
คะแนนที่ได้		วันที่	

แบบฝึกวิชาคณิตศาสตร์ เรื่อง เศษส่วน สัญลักษณ์แทนเศษส่วน

คำชี้แจง : ให้นักเรียนเขียนเศษส่วนจากสัญลักษณ์ที่กำหนดให้ต่อไปนี้

261. 

แปลงเป็นเศษส่วน เท่ากับ

262. 


แปลงเป็นเศษส่วน เท่ากับ

263. 

แปลงเป็นเศษส่วน เท่ากับ

264. 

แปลงเป็นเศษส่วน เท่ากับ

265. 

แปลงเป็นเศษส่วน เท่ากับ



ครูโยย www.ontous.info

ชื่อ-สกุล			
ชั้นเรียน		เลขที่	
คะแนนที่ได้		วันที่	

แบบฝึกวิชาคณิตศาสตร์ เรื่อง เศษส่วน สัญลักษณ์แทนเศษส่วน

คำชี้แจง : ให้นักเรียนเขียนเศษส่วนจากสัญลักษณ์ที่กำหนดให้ต่อไปนี้

266.

แปลงเป็นเศษส่วน เท่ากับ

267.

แปลงเป็นเศษส่วน เท่ากับ

268.

แปลงเป็นเศษส่วน เท่ากับ

269.

แปลงเป็นเศษส่วน เท่ากับ

270.

แปลงเป็นเศษส่วน เท่ากับ



ครูโยย www.ontous.info

ชื่อ-สกุล			
ชั้นเรียน		เลขที่	
คะแนนที่ได้		วันที่	

แบบฝึกวิชาคณิตศาสตร์ เรื่อง เศษส่วน สัญลักษณ์แทนเศษส่วน

คำชี้แจง : ให้นักเรียนเขียนเศษส่วนจากสัญลักษณ์ที่กำหนดให้ต่อไปนี้

271.



แปลงเป็นเศษส่วน เท่ากับ

272.



แปลงเป็นเศษส่วน เท่ากับ

273.



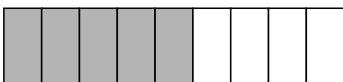
แปลงเป็นเศษส่วน เท่ากับ

274.



แปลงเป็นเศษส่วน เท่ากับ

275.



แปลงเป็นเศษส่วน เท่ากับ



ครูโยย www.ontous.info

ชื่อ-สกุล			
ชั้นเรียน		เลขที่	
คะแนนที่ได้		วันที่	

แบบฝึกวิชาคณิตศาสตร์ เรื่อง เศษส่วน สัญลักษณ์แทนเศษส่วน

คำชี้แจง : ให้นักเรียนเขียนเศษส่วนจากสัญลักษณ์ที่กำหนดให้ต่อไปนี้

276. 

แปลงเป็นเศษส่วน เท่ากับ

277. 

แปลงเป็นเศษส่วน เท่ากับ

278. 

แปลงเป็นเศษส่วน เท่ากับ

279. 

แปลงเป็นเศษส่วน เท่ากับ

280. 

แปลงเป็นเศษส่วน เท่ากับ



ครูโยย www.ontous.info

ชื่อ-สกุล			
ชั้นเรียน		เลขที่	
คะแนนที่ได้		วันที่	

แบบฝึกวิชาคณิตศาสตร์ เรื่อง เศษส่วน สัญลักษณ์แทนเศษส่วน

คำชี้แจง : ให้นักเรียนเขียนเศษส่วนจากสัญลักษณ์ที่กำหนดให้ต่อไปนี้

281.

แปลงเป็นเศษส่วน เท่ากับ

282.

แปลงเป็นเศษส่วน เท่ากับ

283.

แปลงเป็นเศษส่วน เท่ากับ

284.

แปลงเป็นเศษส่วน เท่ากับ

285.

แปลงเป็นเศษส่วน เท่ากับ



ครูโยย www.ontous.info

ชื่อ-สกุล			
ชั้นเรียน		เลขที่	
คะแนนที่ได้		วันที่	

แบบฝึกวิชาคณิตศาสตร์ เรื่อง เศษส่วน สัญลักษณ์แทนเศษส่วน

คำชี้แจง : ให้นักเรียนเขียนเศษส่วนจากสัญลักษณ์ที่กำหนดให้ต่อไปนี้

286.

แปลงเป็นเศษส่วน เท่ากับ

287.

แปลงเป็นเศษส่วน เท่ากับ

288.

แปลงเป็นเศษส่วน เท่ากับ

289.

แปลงเป็นเศษส่วน เท่ากับ

290.

แปลงเป็นเศษส่วน เท่ากับ



ครูโยย www.ontous.info

ชื่อ-สกุล			
ชั้นเรียน		เลขที่	
คะแนนที่ได้		วันที่	

แบบฝึกวิชาคณิตศาสตร์ เรื่อง เศษส่วน สัญลักษณ์แทนเศษส่วน

คำชี้แจง : ให้นักเรียนเขียนเศษส่วนจากสัญลักษณ์ที่กำหนดให้ต่อไปนี้

291.

แปลงเป็นเศษส่วน เท่ากับ

292.

แปลงเป็นเศษส่วน เท่ากับ

293.

แปลงเป็นเศษส่วน เท่ากับ

294.

แปลงเป็นเศษส่วน เท่ากับ

295.

แปลงเป็นเศษส่วน เท่ากับ



ครูโยย www.ontous.info

ชื่อ-สกุล			
ชั้นเรียน		เลขที่	
คะแนนที่ได้		วันที่	

แบบฝึกวิชาคณิตศาสตร์ เรื่อง เศษส่วน สัญลักษณ์แทนเศษส่วน

คำชี้แจง : ให้นักเรียนเขียนเศษส่วนจากสัญลักษณ์ที่กำหนดให้ต่อไปนี้

296.



แปลงเป็นเศษส่วน เท่ากับ

297.



แปลงเป็นเศษส่วน เท่ากับ

298.




แปลงเป็นเศษส่วน เท่ากับ

299.



แปลงเป็นเศษส่วน เท่ากับ

300.



แปลงเป็นเศษส่วน เท่ากับ



ครูโยย www.ontous.info

ชื่อ-สกุล			
ชั้นเรียน		เลขที่	
คะแนนที่ได้		วันที่	

แบบฝึกวิชาคณิตศาสตร์ เรื่อง เศษส่วน สัญลักษณ์แทนเศษส่วน

คำชี้แจง : ให้นักเรียนเขียนเศษส่วนจากสัญลักษณ์ที่กำหนดให้ต่อไปนี้

301.

แปลงเป็นเศษส่วน เท่ากับ

302.

แปลงเป็นเศษส่วน เท่ากับ

303.

แปลงเป็นเศษส่วน เท่ากับ

304.

แปลงเป็นเศษส่วน เท่ากับ

305.

แปลงเป็นเศษส่วน เท่ากับ




ครูโยย www.ontous.info

ชื่อ-สกุล			
ชั้นเรียน		เลขที่	
คะแนนที่ได้		วันที่	

แบบฝึกวิชาคณิตศาสตร์ เรื่อง เศษส่วน สัญลักษณ์แทนเศษส่วน

คำชี้แจง : ให้นักเรียนเขียนเศษส่วนจากสัญลักษณ์ที่กำหนดให้ต่อไปนี้




แปลงเป็นเศษส่วน เท่ากับ



แปลงเป็นเศษส่วน เท่ากับ



แปลงเป็นเศษส่วน เท่ากับ



แปลงเป็นเศษส่วน เท่ากับ



แปลงเป็นเศษส่วน เท่ากับ



ครูโยย www.ontous.info

ชื่อ-สกุล			
ชั้นเรียน		เลขที่	
คะแนนที่ได้		วันที่	

แบบฝึกวิชาคณิตศาสตร์ เรื่อง เศษส่วน สัญลักณ์แทนเศษส่วน

คำชี้แจง : ให้นักเรียนเขียนเศษส่วนจากสัญลักษณ์ที่กำหนดให้ต่อไปนี้

311.

แปลงเป็นเศษส่วน เท่ากับ

312.

แปลงเป็นเศษส่วน เท่ากับ

313.

แปลงเป็นเศษส่วน เท่ากับ

314.

แปลงเป็นเศษส่วน เท่ากับ

315.

แปลงเป็นเศษส่วน เท่ากับ



ครูโยย www.ontous.info

ชื่อ-สกุล			
ชั้นเรียน		เลขที่	
คะแนนที่ได้		วันที่	

แบบฝึกวิชาคณิตศาสตร์ เรื่อง เศษส่วน สัญลักษณ์แทนเศษส่วน

คำชี้แจง : ให้นักเรียนเขียนเศษส่วนจากสัญลักษณ์ที่กำหนดให้ต่อไปนี้

316.



แปลงเป็นเศษส่วน เท่ากับ

317.



แปลงเป็นเศษส่วน เท่ากับ

318.




แปลงเป็นเศษส่วน เท่ากับ

319.



แปลงเป็นเศษส่วน เท่ากับ

320.



แปลงเป็นเศษส่วน เท่ากับ



ครูโยย www.ontous.info

ชื่อ-สกุล			
ชั้นเรียน		เลขที่	
คะแนนที่ได้		วันที่	

แบบฝึกวิชาคณิตศาสตร์ เรื่อง เศษส่วน สัญลักษณ์แทนเศษส่วน

คำชี้แจง : ให้นักเรียนเขียนเศษส่วนจากสัญลักษณ์ที่กำหนดให้ต่อไปนี้

321.

แปลงเป็นเศษส่วน เท่ากับ

322.

แปลงเป็นเศษส่วน เท่ากับ

323.

แปลงเป็นเศษส่วน เท่ากับ

324.

แปลงเป็นเศษส่วน เท่ากับ

325.

แปลงเป็นเศษส่วน เท่ากับ



ครูโยย www.ontous.info

ชื่อ-สกุล			
ชั้นเรียน		เลขที่	
คะแนนที่ได้		วันที่	

แบบฝึกวิชาคณิตศาสตร์ เรื่อง เศษส่วน สัญลักษณ์แทนเศษส่วน

คำชี้แจง : ให้นักเรียนเขียนเศษส่วนจากสัญลักษณ์ที่กำหนดให้ต่อไปนี้

326.



แปลงเป็นเศษส่วน เท่ากับ

327.



แปลงเป็นเศษส่วน เท่ากับ

328.




แปลงเป็นเศษส่วน เท่ากับ

329.



แปลงเป็นเศษส่วน เท่ากับ

330.



แปลงเป็นเศษส่วน เท่ากับ



ครูโยย www.ontous.info

ชื่อ-สกุล			
ชั้นเรียน		เลขที่	
คะแนนที่ได้		วันที่	

แบบฝึกวิชาคณิตศาสตร์ เรื่อง เศษส่วน สัญลักษณ์แทนเศษส่วน

คำชี้แจง : ให้นักเรียนเขียนเศษส่วนจากสัญลักษณ์ที่กำหนดให้ต่อไปนี้

331.

แปลงเป็นเศษส่วน เท่ากับ

332.

แปลงเป็นเศษส่วน เท่ากับ

333.

แปลงเป็นเศษส่วน เท่ากับ

334.

แปลงเป็นเศษส่วน เท่ากับ

335.

แปลงเป็นเศษส่วน เท่ากับ



ครูโยย www.ontous.info

ชื่อ-สกุล			
ชั้นเรียน		เลขที่	
คะแนนที่ได้		วันที่	

แบบฝึกวิชาคณิตศาสตร์ เรื่อง เศษส่วน สัญลักษณ์แทนเศษส่วน

คำชี้แจง : ให้นักเรียนเขียนเศษส่วนจากสัญลักษณ์ที่กำหนดให้ต่อไปนี้

336.

แปลงเป็นเศษส่วน เท่ากับ

337.

แปลงเป็นเศษส่วน เท่ากับ

338.

แปลงเป็นเศษส่วน เท่ากับ

339.

แปลงเป็นเศษส่วน เท่ากับ

340.

แปลงเป็นเศษส่วน เท่ากับ




ครูโยย www.ontous.info

ชื่อ-สกุล			
ชั้นเรียน		เลขที่	
คะแนนที่ได้		วันที่	

แบบฝึกวิชาคณิตศาสตร์ เรื่อง เศษส่วน สัญลักษณ์แทนเศษส่วน

คำชี้แจง : ให้นักเรียนเขียนเศษส่วนจากสัญลักษณ์ที่กำหนดให้ต่อไปนี้

341. 

แปลงเป็นเศษส่วน เท่ากับ

342. 

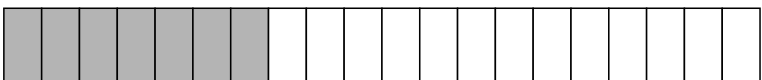
แปลงเป็นเศษส่วน เท่ากับ

343. 

แปลงเป็นเศษส่วน เท่ากับ

344. 

แปลงเป็นเศษส่วน เท่ากับ

345. 

แปลงเป็นเศษส่วน เท่ากับ



ครูโยย www.ontous.info

ชื่อ-สกุล			
ชั้นเรียน		เลขที่	
คะแนนที่ได้		วันที่	

แบบฝึกวิชาคณิตศาสตร์ เรื่อง เศษส่วน สัญลักษณ์แทนเศษส่วน

คำชี้แจง : ให้นักเรียนเขียนเศษส่วนจากสัญลักษณ์ที่กำหนดให้ต่อไปนี้

346.



แปลงเป็นเศษส่วน เท่ากับ

347.



แปลงเป็นเศษส่วน เท่ากับ

348.




แปลงเป็นเศษส่วน เท่ากับ

349.



แปลงเป็นเศษส่วน เท่ากับ

350.



แปลงเป็นเศษส่วน เท่ากับ



ครูโยย www.ontous.info

ชื่อ-สกุล			
ชั้นเรียน		เลขที่	
คะแนนที่ได้		วันที่	

แบบฝึกวิชาคณิตศาสตร์ เรื่อง เศษส่วน สัญลักษณ์แทนเศษส่วน

คำชี้แจง : ให้นักเรียนเขียนเศษส่วนจากสัญลักษณ์ที่กำหนดให้ต่อไปนี้

351.

แปลงเป็นเศษส่วน เท่ากับ

352.

แปลงเป็นเศษส่วน เท่ากับ

353.

แปลงเป็นเศษส่วน เท่ากับ

354.

แปลงเป็นเศษส่วน เท่ากับ

355.

แปลงเป็นเศษส่วน เท่ากับ



ครูโยย www.ontous.info

ชื่อ-สกุล			
ชั้นเรียน		เลขที่	
คะแนนที่ได้		วันที่	

แบบฝึกวิชาคณิตศาสตร์ เรื่อง เศษส่วน สัญลักษณ์แทนเศษส่วน

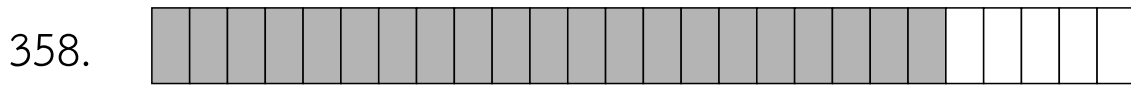
คำชี้แจง : ให้นักเรียนเขียนเศษส่วนจากสัญลักษณ์ที่กำหนดให้ต่อไปนี้



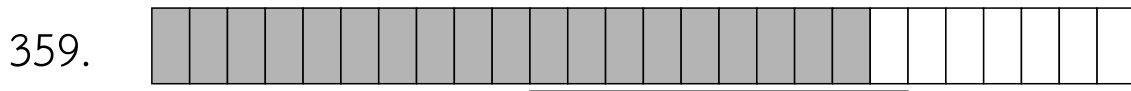
แปลงเป็นเศษส่วน เท่ากับ



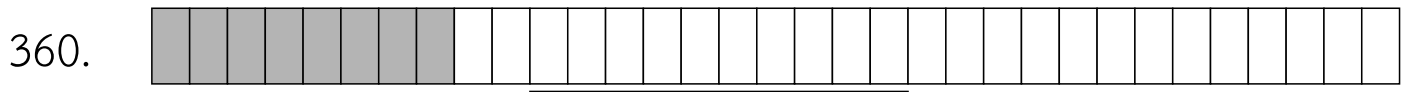
แปลงเป็นเศษส่วน เท่ากับ



แปลงเป็นเศษส่วน เท่ากับ



แปลงเป็นเศษส่วน เท่ากับ



แปลงเป็นเศษส่วน เท่ากับ



ครูโยย www.ontous.info

ชื่อ-สกุล			
ชั้นเรียน		เลขที่	
คะแนนที่ได้		วันที่	

แบบฝึกวิชาคณิตศาสตร์ เรื่อง เศษส่วน สัญลักษณ์แทนเศษส่วน

คำชี้แจง : ให้นักเรียนเขียนเศษส่วนจากสัญลักษณ์ที่กำหนดให้ต่อไปนี้

361. 

แปลงเป็นเศษส่วน เท่ากับ

362. 


แปลงเป็นเศษส่วน เท่ากับ

363. 

แปลงเป็นเศษส่วน เท่ากับ

364. 

แปลงเป็นเศษส่วน เท่ากับ

365. 

แปลงเป็นเศษส่วน เท่ากับ



ครูโยย www.ontous.info

ชื่อ-สกุล			
ชั้นเรียน		เลขที่	
คะแนนที่ได้		วันที่	

แบบฝึกวิชาคณิตศาสตร์ เรื่อง เศษส่วน สัญลักษณ์แทนเศษส่วน

คำชี้แจง : ให้นักเรียนเขียนเศษส่วนจากสัญลักษณ์ที่กำหนดให้ต่อไปนี้

366.



แปลงเป็นเศษส่วน เท่ากับ

367.



แปลงเป็นเศษส่วน เท่ากับ

368.




แปลงเป็นเศษส่วน เท่ากับ

369.



แปลงเป็นเศษส่วน เท่ากับ

370.



แปลงเป็นเศษส่วน เท่ากับ



ครูโยย www.ontous.info

ชื่อ-สกุล			
ชั้นเรียน		เลขที่	
คะแนนที่ได้		วันที่	

แบบฝึกวิชาคณิตศาสตร์ เรื่อง เศษส่วน สัญลักษณ์แทนเศษส่วน

คำชี้แจง : ให้นักเรียนเขียนเศษส่วนจากสัญลักษณ์ที่กำหนดให้ต่อไปนี้

371. 

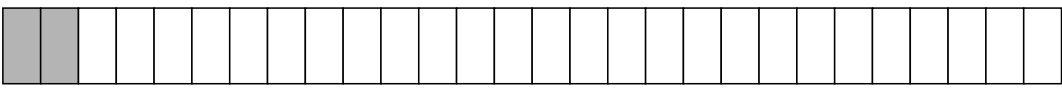
แปลงเป็นเศษส่วน เท่ากับ

372. 

แปลงเป็นเศษส่วน เท่ากับ

373. 

แปลงเป็นเศษส่วน เท่ากับ

374. 

แปลงเป็นเศษส่วน เท่ากับ

375. 

แปลงเป็นเศษส่วน เท่ากับ



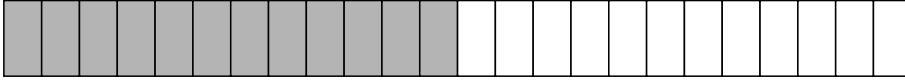
ครูโยย www.ontous.info

ชื่อ-สกุล			
ชั้นเรียน		เลขที่	
คะแนนที่ได้		วันที่	

แบบฝึกวิชาคณิตศาสตร์ เรื่อง เศษส่วน สัญลักษณ์แทนเศษส่วน

คำชี้แจง : ให้นักเรียนเขียนเศษส่วนจากสัญลักษณ์ที่กำหนดให้ต่อไปนี้

376.



แปลงเป็นเศษส่วน เท่ากับ

377.




แปลงเป็นเศษส่วน เท่ากับ

378.



แปลงเป็นเศษส่วน เท่ากับ

379.



แปลงเป็นเศษส่วน เท่ากับ

380.



แปลงเป็นเศษส่วน เท่ากับ



ครูโยย www.ontous.info

ชื่อ-สกุล			
ชั้นเรียน		เลขที่	
คะแนนที่ได้		วันที่	

แบบฝึกวิชาคณิตศาสตร์ เรื่อง เศษส่วน สัญลักณ์แทนเศษส่วน

คำชี้แจง : ให้นักเรียนเขียนเศษส่วนจากสัญลักษณ์ที่กำหนดให้ต่อไปนี้

381.

แปลงเป็นเศษส่วน เท่ากับ

382.

แปลงเป็นเศษส่วน เท่ากับ

383.

แปลงเป็นเศษส่วน เท่ากับ

384.

แปลงเป็นเศษส่วน เท่ากับ

385.

แปลงเป็นเศษส่วน เท่ากับ



ครูโยย www.ontous.info

ชื่อ-สกุล			
ชั้นเรียน		เลขที่	
คะแนนที่ได้		วันที่	

แบบฝึกวิชาคณิตศาสตร์ เรื่อง เศษส่วน สัญลักษณ์แทนเศษส่วน

คำชี้แจง : ให้นักเรียนเขียนเศษส่วนจากสัญลักษณ์ที่กำหนดให้ต่อไปนี้

386.



แปลงเป็นเศษส่วน เท่ากับ

387.



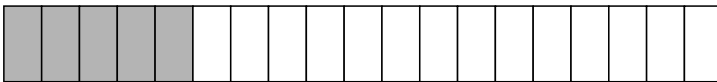
แปลงเป็นเศษส่วน เท่ากับ

388.



แปลงเป็นเศษส่วน เท่ากับ

389.



แปลงเป็นเศษส่วน เท่ากับ

390.



แปลงเป็นเศษส่วน เท่ากับ



ครูโยย www.ontous.info


ชื่อ-สกุล			
ชั้นเรียน		เลขที่	
คะแนนที่ได้		วันที่	

แบบฝึกวิชาคณิตศาสตร์ เรื่อง เศษส่วน สัญลักษณ์แทนเศษส่วน

คำชี้แจง : ให้นักเรียนเขียนเศษส่วนจากสัญลักษณ์ที่กำหนดให้ต่อไปนี้

391. 


แปลงเป็นเศษส่วน เท่ากับ

392. 


แปลงเป็นเศษส่วน เท่ากับ

393. 

แปลงเป็นเศษส่วน เท่ากับ

394. 

แปลงเป็นเศษส่วน เท่ากับ

395. 

แปลงเป็นเศษส่วน เท่ากับ




ครูโยย www.ontous.info


ชื่อ-สกุล			
ชั้นเรียน		เลขที่	
คะแนนที่ได้		วันที่	

แบบฝึกวิชาคณิตศาสตร์ เรื่อง เศษส่วน สัญลักษณ์แทนเศษส่วน

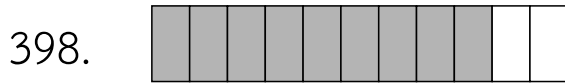
คำชี้แจง : ให้นักเรียนเขียนเศษส่วนจากสัญลักษณ์ที่กำหนดให้ต่อไปนี้



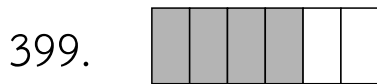
แปลงเป็นเศษส่วน เท่ากับ




แปลงเป็นเศษส่วน เท่ากับ



แปลงเป็นเศษส่วน เท่ากับ



แปลงเป็นเศษส่วน เท่ากับ



แปลงเป็นเศษส่วน เท่ากับ




ครูโยย www.ontous.info

ชื่อ-สกุล			
ชั้นเรียน		เลขที่	
คะแนนที่ได้		วันที่	

แบบฝึกวิชาคณิตศาสตร์ เรื่อง เศษส่วน สัญลักษณ์แทนเศษส่วน

คำชี้แจง : ให้นักเรียนเขียนเศษส่วนจากสัญลักษณ์ที่กำหนดให้ต่อไปนี้



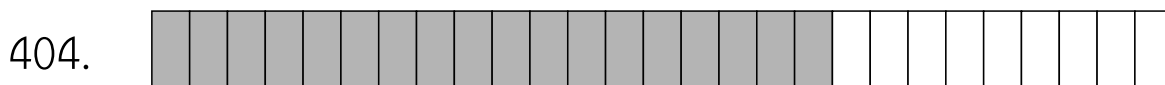
แปลงเป็นเศษส่วน เท่ากับ




แปลงเป็นเศษส่วน เท่ากับ



แปลงเป็นเศษส่วน เท่ากับ



แปลงเป็นเศษส่วน เท่ากับ



แปลงเป็นเศษส่วน เท่ากับ



ครูโยย www.ontous.info

ชื่อ-สกุล			
ชั้นเรียน		เลขที่	
คะแนนที่ได้		วันที่	

แบบฝึกวิชาคณิตศาสตร์ เรื่อง เศษส่วน สัญลักษณ์แทนเศษส่วน

คำชี้แจง : ให้นักเรียนเขียนเศษส่วนจากสัญลักษณ์ที่กำหนดให้ต่อไปนี้

406.

แปลงเป็นเศษส่วน เท่ากับ

407.

แปลงเป็นเศษส่วน เท่ากับ

408.

แปลงเป็นเศษส่วน เท่ากับ

409.

แปลงเป็นเศษส่วน เท่ากับ

410.

แปลงเป็นเศษส่วน เท่ากับ



ครูโยย www.ontous.info

ชื่อ-สกุล			
ชั้นเรียน		เลขที่	
คะแนนที่ได้		วันที่	

แบบฝึกวิชาคณิตศาสตร์ เรื่อง เศษส่วน สัญลักษณ์แทนเศษส่วน

คำชี้แจง : ให้นักเรียนเขียนเศษส่วนจากสัญลักษณ์ที่กำหนดให้ต่อไปนี้



แปลงเป็นเศษส่วน เท่ากับ



แปลงเป็นเศษส่วน เท่ากับ



แปลงเป็นเศษส่วน เท่ากับ



แปลงเป็นเศษส่วน เท่ากับ



แปลงเป็นเศษส่วน เท่ากับ



ครูโยย www.ontous.info

ชื่อ-สกุล			
ชั้นเรียน		เลขที่	
คะแนนที่ได้		วันที่	

แบบฝึกวิชาคณิตศาสตร์ เรื่อง เศษส่วน สัญลักษณ์แทนเศษส่วน

คำชี้แจง : ให้นักเรียนเขียนเศษส่วนจากสัญลักษณ์ที่กำหนดให้ต่อไปนี้

416.



แปลงเป็นเศษส่วน เท่ากับ

417.



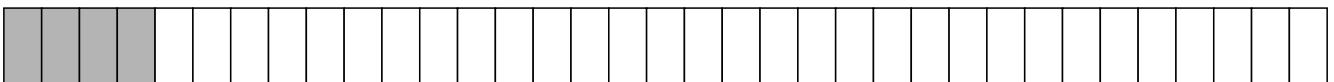
แปลงเป็นเศษส่วน เท่ากับ

418.



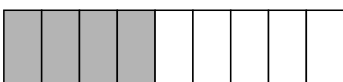
แปลงเป็นเศษส่วน เท่ากับ

419.



แปลงเป็นเศษส่วน เท่ากับ

420.



แปลงเป็นเศษส่วน เท่ากับ



ครูโยย www.ontous.info

ชื่อ-สกุล			
ชั้นเรียน		เลขที่	
คะแนนที่ได้		วันที่	

แบบฝึกวิชาคณิตศาสตร์ เรื่อง เศษส่วน สัญลักษณ์แทนเศษส่วน

คำชี้แจง : ให้นักเรียนเขียนเศษส่วนจากสัญลักษณ์ที่กำหนดให้ต่อไปนี้

421.



แปลงเป็นเศษส่วน เท่ากับ

422.



แปลงเป็นเศษส่วน เท่ากับ

423.




แปลงเป็นเศษส่วน เท่ากับ

424.



แปลงเป็นเศษส่วน เท่ากับ

425.



แปลงเป็นเศษส่วน เท่ากับ



ครูโยย www.ontous.info

ชื่อ-สกุล			
ชั้นเรียน		เลขที่	
คะแนนที่ได้		วันที่	

แบบฝึกวิชาคณิตศาสตร์ เรื่อง เศษส่วน สัญลักษณ์แทนเศษส่วน

คำชี้แจง : ให้นักเรียนเขียนเศษส่วนจากสัญลักษณ์ที่กำหนดให้ต่อไปนี้

426.



แปลงเป็นเศษส่วน เท่ากับ

427.



แปลงเป็นเศษส่วน เท่ากับ

428.




แปลงเป็นเศษส่วน เท่ากับ

429.



แปลงเป็นเศษส่วน เท่ากับ

430.



แปลงเป็นเศษส่วน เท่ากับ



ครูโยย www.ontous.info

ชื่อ-สกุล			
ชั้นเรียน		เลขที่	
คะแนนที่ได้		วันที่	

แบบฝึกวิชาคณิตศาสตร์ เรื่อง เศษส่วน สัญลักษณ์แทนเศษส่วน

คำชี้แจง : ให้นักเรียนเขียนเศษส่วนจากสัญลักษณ์ที่กำหนดให้ต่อไปนี้

431.

แปลงเป็นเศษส่วน เท่ากับ

432.

แปลงเป็นเศษส่วน เท่ากับ

433.

แปลงเป็นเศษส่วน เท่ากับ

434.

แปลงเป็นเศษส่วน เท่ากับ

435.

แปลงเป็นเศษส่วน เท่ากับ



ครูโยย www.ontous.info

ชื่อ-สกุล			
ชั้นเรียน		เลขที่	
คะแนนที่ได้		วันที่	

แบบฝึกวิชาคณิตศาสตร์ เรื่อง เศษส่วน สัญลักษณ์แทนเศษส่วน

คำชี้แจง : ให้นักเรียนเขียนเศษส่วนจากสัญลักษณ์ที่กำหนดให้ต่อไปนี้

436.

แปลงเป็นเศษส่วน เท่ากับ

437.

แปลงเป็นเศษส่วน เท่ากับ

438.

แปลงเป็นเศษส่วน เท่ากับ

439.

แปลงเป็นเศษส่วน เท่ากับ

440.

แปลงเป็นเศษส่วน เท่ากับ



ครูโยย www.ontous.info

ชื่อ-สกุล			
ชั้นเรียน		เลขที่	
คะแนนที่ได้		วันที่	

แบบฝึกวิชาคณิตศาสตร์ เรื่อง เศษส่วน สัญลักษณ์แทนเศษส่วน

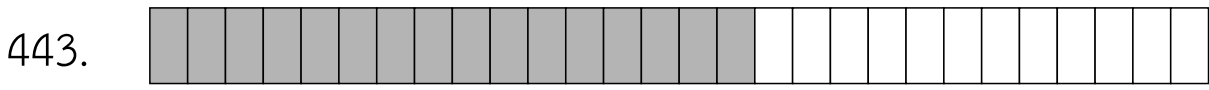
คำชี้แจง : ให้นักเรียนเขียนเศษส่วนจากสัญลักษณ์ที่กำหนดให้ต่อไปนี้



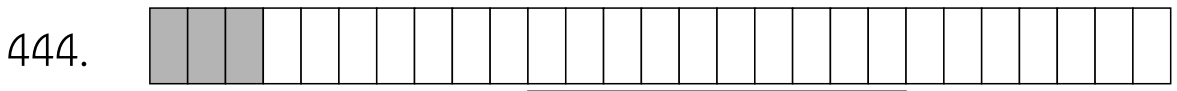
แปลงเป็นเศษส่วน เท่ากับ



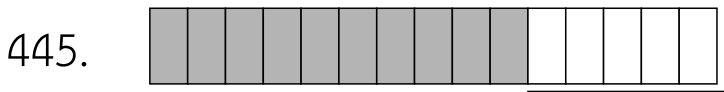
แปลงเป็นเศษส่วน เท่ากับ



แปลงเป็นเศษส่วน เท่ากับ



แปลงเป็นเศษส่วน เท่ากับ



แปลงเป็นเศษส่วน เท่ากับ



ครูโยย www.ontous.info

ชื่อ-สกุล			
ชั้นเรียน		เลขที่	
คะแนนที่ได้		วันที่	

แบบฝึกวิชาคณิตศาสตร์ เรื่อง เศษส่วน สัญลักษณ์แทนเศษส่วน

คำชี้แจง : ให้นักเรียนเขียนเศษส่วนจากสัญลักษณ์ที่กำหนดให้ต่อไปนี้




แปลงเป็นเศษส่วน เท่ากับ




แปลงเป็นเศษส่วน เท่ากับ



แปลงเป็นเศษส่วน เท่ากับ



แปลงเป็นเศษส่วน เท่ากับ



แปลงเป็นเศษส่วน เท่ากับ



ครูโยย www.ontous.info

ชื่อ-สกุล			
ชั้นเรียน		เลขที่	
คะแนนที่ได้		วันที่	

แบบฝึกวิชาคณิตศาสตร์ เรื่อง เศษส่วน สัญลักษณ์แทนเศษส่วน

คำชี้แจง : ให้นักเรียนเขียนเศษส่วนจากสัญลักษณ์ที่กำหนดให้ต่อไปนี้



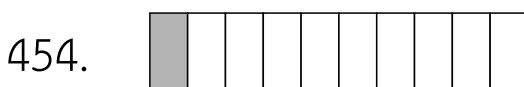
แปลงเป็นเศษส่วน เท่ากับ



แปลงเป็นเศษส่วน เท่ากับ



แปลงเป็นเศษส่วน เท่ากับ



แปลงเป็นเศษส่วน เท่ากับ



แปลงเป็นเศษส่วน เท่ากับ



ครูโยย www.ontous.info

ชื่อ-สกุล			
ชั้นเรียน		เลขที่	
คะแนนที่ได้		วันที่	

แบบฝึกวิชาคณิตศาสตร์ เรื่อง เศษส่วน สัญลักษณ์แทนเศษส่วน

คำชี้แจง : ให้นักเรียนเขียนเศษส่วนจากสัญลักษณ์ที่กำหนดให้ต่อไปนี้

456.



แปลงเป็นเศษส่วน เท่ากับ

457.



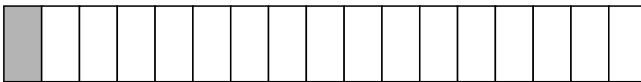
แปลงเป็นเศษส่วน เท่ากับ

458.



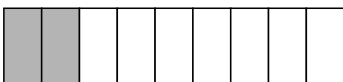
แปลงเป็นเศษส่วน เท่ากับ

459.



แปลงเป็นเศษส่วน เท่ากับ

460.



แปลงเป็นเศษส่วน เท่ากับ



ครูโยย www.ontous.info

ชื่อ-สกุล			
ชั้นเรียน		เลขที่	
คะแนนที่ได้		วันที่	

แบบฝึกวิชาคณิตศาสตร์ เรื่อง เศษส่วน สัญลักษณ์แทนเศษส่วน

คำชี้แจง : ให้นักเรียนเขียนเศษส่วนจากสัญลักษณ์ที่กำหนดให้ต่อไปนี้



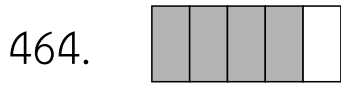
แปลงเป็นเศษส่วน เท่ากับ




แปลงเป็นเศษส่วน เท่ากับ




แปลงเป็นเศษส่วน เท่ากับ



แปลงเป็นเศษส่วน เท่ากับ



แปลงเป็นเศษส่วน เท่ากับ



ครูโยย www.ontous.info

ชื่อ-สกุล			
ชั้นเรียน		เลขที่	
คะแนนที่ได้		วันที่	

แบบฝึกวิชาคณิตศาสตร์ เรื่อง เศษส่วน สัญลักษณ์แทนเศษส่วน

คำชี้แจง : ให้นักเรียนเขียนเศษส่วนจากสัญลักษณ์ที่กำหนดให้ต่อไปนี้

466.



แปลงเป็นเศษส่วน เท่ากับ

467.



แปลงเป็นเศษส่วน เท่ากับ

468.




แปลงเป็นเศษส่วน เท่ากับ

469.



แปลงเป็นเศษส่วน เท่ากับ

470.



แปลงเป็นเศษส่วน เท่ากับ



ครูโยย www.ontous.info


ชื่อ-สกุล			
ชั้นเรียน		เลขที่	
คะแนนที่ได้		วันที่	

แบบฝึกวิชาคณิตศาสตร์ เรื่อง เศษส่วน สัญลักษณ์แทนเศษส่วน

คำชี้แจง : ให้นักเรียนเขียนเศษส่วนจากสัญลักษณ์ที่กำหนดให้ต่อไปนี้

471. 


แปลงเป็นเศษส่วน เท่ากับ

472. 

แปลงเป็นเศษส่วน เท่ากับ

473. 

แปลงเป็นเศษส่วน เท่ากับ

474. 

แปลงเป็นเศษส่วน เท่ากับ

475. 

แปลงเป็นเศษส่วน เท่ากับ



ครูโยย www.ontous.info

ชื่อ-สกุล			
ชั้นเรียน		เลขที่	
คะแนนที่ได้		วันที่	

แบบฝึกวิชาคณิตศาสตร์ เรื่อง เศษส่วน สัญลักษณ์แทนเศษส่วน

คำชี้แจง : ให้นักเรียนเขียนเศษส่วนจากสัญลักษณ์ที่กำหนดให้ต่อไปนี้



แปลงเป็นเศษส่วน เท่ากับ




แปลงเป็นเศษส่วน เท่ากับ



แปลงเป็นเศษส่วน เท่ากับ



แปลงเป็นเศษส่วน เท่ากับ



แปลงเป็นเศษส่วน เท่ากับ



ครูโยย www.ontous.info

ชื่อ-สกุล			
ชั้นเรียน		เลขที่	
คะแนนที่ได้		วันที่	

แบบฝึกวิชาคณิตศาสตร์ เรื่อง เศษส่วน สัญลักษณ์แทนเศษส่วน

คำชี้แจง : ให้นักเรียนเขียนเศษส่วนจากสัญลักษณ์ที่กำหนดให้ต่อไปนี้

481.

แปลงเป็นเศษส่วน เท่ากับ

482.

แปลงเป็นเศษส่วน เท่ากับ

483.

แปลงเป็นเศษส่วน เท่ากับ

484.

แปลงเป็นเศษส่วน เท่ากับ

485.

แปลงเป็นเศษส่วน เท่ากับ



ครูโยย www.ontous.info

ชื่อ-สกุล			
ชั้นเรียน		เลขที่	
คะแนนที่ได้		วันที่	

แบบฝึกวิชาคณิตศาสตร์ เรื่อง เศษส่วน สัญลักณ์แทนเศษส่วน

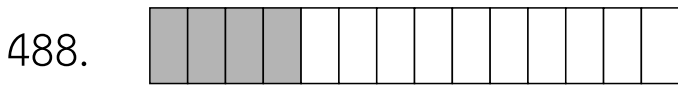
คำชี้แจง : ให้นักเรียนเขียนเศษส่วนจากสัญลักณ์ที่กำหนดให้ต่อไปนี้



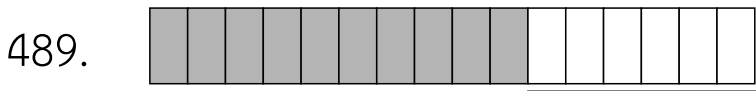
แปลงเป็นเศษส่วน เท่ากับ



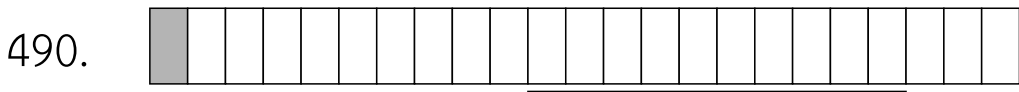
แปลงเป็นเศษส่วน เท่ากับ



แปลงเป็นเศษส่วน เท่ากับ



แปลงเป็นเศษส่วน เท่ากับ



แปลงเป็นเศษส่วน เท่ากับ



ครูโยย www.ontous.info

ชื่อ-สกุล			
ชั้นเรียน		เลขที่	
คะแนนที่ได้		วันที่	

แบบฝึกวิชาคณิตศาสตร์ เรื่อง เศษส่วน สัญลักษณ์แทนเศษส่วน

คำชี้แจง : ให้นักเรียนเขียนเศษส่วนจากสัญลักษณ์ที่กำหนดให้ต่อไปนี้

491.

แปลงเป็นเศษส่วน เท่ากับ

492.

แปลงเป็นเศษส่วน เท่ากับ

493.

แปลงเป็นเศษส่วน เท่ากับ

494.

แปลงเป็นเศษส่วน เท่ากับ

495.

แปลงเป็นเศษส่วน เท่ากับ



ครูโยย www.ontous.info

ชื่อ-สกุล			
ชั้นเรียน		เลขที่	
คะแนนที่ได้		วันที่	

แบบฝึกวิชาคณิตศาสตร์ เรื่อง เศษส่วน สัญลักษณ์แทนเศษส่วน

คำชี้แจง : ให้นักเรียนเขียนเศษส่วนจากสัญลักษณ์ที่กำหนดให้ต่อไปนี้

496.

แปลงเป็นเศษส่วน เท่ากับ

497.

แปลงเป็นเศษส่วน เท่ากับ

498.

แปลงเป็นเศษส่วน เท่ากับ

499.

แปลงเป็นเศษส่วน เท่ากับ

500.

แปลงเป็นเศษส่วน เท่ากับ



ครูโยย www.ontous.info


ชื่อ-สกุล			
ชั้นเรียน		เลขที่	
คะแนนที่ได้		วันที่	

แบบฝึกวิชาคณิตศาสตร์ เรื่อง เศษส่วน สัญลักษณ์แทนเศษส่วน


คำชี้แจง : ให้นักเรียนเขียนเศษส่วนจากสัญลักษณ์ที่กำหนดให้ต่อไปนี้

501. 


แปลงเป็นเศษส่วน เท่ากับ

502. 

แปลงเป็นเศษส่วน เท่ากับ

503. 

แปลงเป็นเศษส่วน เท่ากับ

504. 

แปลงเป็นเศษส่วน เท่ากับ

505. 

แปลงเป็นเศษส่วน เท่ากับ



ครูย์ www.ontous.info

ชื่อ-สกุล			
ชั้นเรียน		เลขที่	
คะแนนที่ได้		วันที่	

แบบฝึกวิชาคณิตศาสตร์ เรื่อง เศษส่วน สัญลักษณ์แทนเศษส่วน

คำชี้แจง : ให้นักเรียนเขียนเศษส่วนจากสัญลักษณ์ที่กำหนดให้ต่อไปนี้




แปลงเป็นเศษส่วน เท่ากับ



แปลงเป็นเศษส่วน เท่ากับ



แปลงเป็นเศษส่วน เท่ากับ



แปลงเป็นเศษส่วน เท่ากับ



แปลงเป็นเศษส่วน เท่ากับ



ครูโยย www.ontous.info

ชื่อ-สกุล			
ชั้นเรียน		เลขที่	
คะแนนที่ได้		วันที่	

แบบฝึกวิชาคณิตศาสตร์ เรื่อง เศษส่วน สัญลักษณ์แทนเศษส่วน

คำชี้แจง : ให้นักเรียนเขียนเศษส่วนจากสัญลักษณ์ที่กำหนดให้ต่อไปนี้

511.

แปลงเป็นเศษส่วน เท่ากับ

512.

แปลงเป็นเศษส่วน เท่ากับ

513.

แปลงเป็นเศษส่วน เท่ากับ

514.

แปลงเป็นเศษส่วน เท่ากับ

515.

แปลงเป็นเศษส่วน เท่ากับ



ครูโยย www.ontous.info

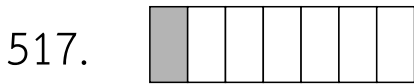
ชื่อ-สกุล			
ชั้นเรียน		เลขที่	
คะแนนที่ได้		วันที่	

แบบฝึกวิชาคณิตศาสตร์ เรื่อง เศษส่วน สัญลักษณ์แทนเศษส่วน


คำชี้แจง : ให้นักเรียนเขียนเศษส่วนจากสัญลักษณ์ที่กำหนดให้ต่อไปนี้



แปลงเป็นเศษส่วน เท่ากับ



แปลงเป็นเศษส่วน เท่ากับ



แปลงเป็นเศษส่วน เท่ากับ



แปลงเป็นเศษส่วน เท่ากับ



แปลงเป็นเศษส่วน เท่ากับ



ครูโยย www.ontous.info

ชื่อ-สกุล			
ชั้นเรียน		เลขที่	
คะแนนที่ได้		วันที่	

แบบฝึกวิชาคณิตศาสตร์ เรื่อง เศษส่วน สัญลักษณ์แทนเศษส่วน

คำชี้แจง : ให้นักเรียนเขียนเศษส่วนจากสัญลักษณ์ที่กำหนดให้ต่อไปนี้

521.

แปลงเป็นเศษส่วน เท่ากับ

522.

แปลงเป็นเศษส่วน เท่ากับ

523.

แปลงเป็นเศษส่วน เท่ากับ

524.

แปลงเป็นเศษส่วน เท่ากับ

525.

แปลงเป็นเศษส่วน เท่ากับ




ครูโยย www.ontous.info

ชื่อ-สกุล			
ชั้นเรียน		เลขที่	
คะแนนที่ได้		วันที่	

แบบฝึกวิชาคณิตศาสตร์ เรื่อง เศษส่วน สัญลักษณ์แทนเศษส่วน

คำชี้แจง : ให้นักเรียนเขียนเศษส่วนจากสัญลักษณ์ที่กำหนดให้ต่อไปนี้




แปลงเป็นเศษส่วน เท่ากับ



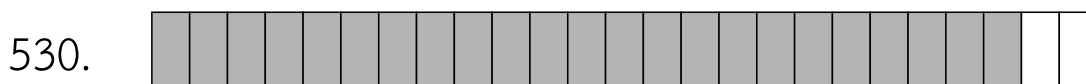
แปลงเป็นเศษส่วน เท่ากับ



แปลงเป็นเศษส่วน เท่ากับ



แปลงเป็นเศษส่วน เท่ากับ



แปลงเป็นเศษส่วน เท่ากับ



ครูโยย www.ontous.info

ชื่อ-สกุล			
ชั้นเรียน		เลขที่	
คะแนนที่ได้		วันที่	

แบบฝึกวิชาคณิตศาสตร์ เรื่อง เศษส่วน สัญลักณ์แทนเศษส่วน

คำชี้แจง : ให้นักเรียนเขียนเศษส่วนจากสัญลักณ์ที่กำหนดให้ต่อไปนี้

531. 

แปลงเป็นเศษส่วน เท่ากับ

532. 

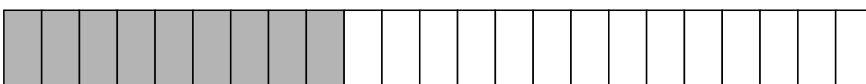
แปลงเป็นเศษส่วน เท่ากับ

533. 

แปลงเป็นเศษส่วน เท่ากับ

534. 

แปลงเป็นเศษส่วน เท่ากับ

535. 

แปลงเป็นเศษส่วน เท่ากับ



ครูโยย www.ontous.info

ชื่อ-สกุล			
ชั้นเรียน		เลขที่	
คะแนนที่ได้		วันที่	

แบบฝึกวิชาคณิตศาสตร์ เรื่อง เศษส่วน สัญลักษณ์แทนเศษส่วน

คำชี้แจง : ให้นักเรียนเขียนเศษส่วนจากสัญลักษณ์ที่กำหนดให้ต่อไปนี้



แปลงเป็นเศษส่วน เท่ากับ



แปลงเป็นเศษส่วน เท่ากับ



แปลงเป็นเศษส่วน เท่ากับ



แปลงเป็นเศษส่วน เท่ากับ



แปลงเป็นเศษส่วน เท่ากับ




ครูโยย www.ontous.info

ชื่อ-สกุล			
ชั้นเรียน		เลขที่	
คะแนนที่ได้		วันที่	

แบบฝึกวิชาคณิตศาสตร์ เรื่อง เศษส่วน สัญลักษณ์แทนเศษส่วน

คำชี้แจง : ให้นักเรียนเขียนเศษส่วนจากสัญลักษณ์ที่กำหนดให้ต่อไปนี้

541. 

แปลงเป็นเศษส่วน เท่ากับ

542. 

แปลงเป็นเศษส่วน เท่ากับ

543. 

แปลงเป็นเศษส่วน เท่ากับ

544. 

แปลงเป็นเศษส่วน เท่ากับ

545. 

แปลงเป็นเศษส่วน เท่ากับ



ครูโยย www.ontous.info

ชื่อ-สกุล			
ชั้นเรียน		เลขที่	
คะแนนที่ได้		วันที่	

แบบฝึกวิชาคณิตศาสตร์ เรื่อง เศษส่วน สัญลักษณ์แทนเศษส่วน

คำชี้แจง : ให้นักเรียนเขียนเศษส่วนจากสัญลักษณ์ที่กำหนดให้ต่อไปนี้

546.

แปลงเป็นเศษส่วน เท่ากับ

547.

แปลงเป็นเศษส่วน เท่ากับ

548.

แปลงเป็นเศษส่วน เท่ากับ

549.

แปลงเป็นเศษส่วน เท่ากับ

550.

แปลงเป็นเศษส่วน เท่ากับ



ครูโยย www.ontous.info

ชื่อ-สกุล			
ชั้นเรียน		เลขที่	
คะแนนที่ได้		วันที่	

แบบฝึกวิชาคณิตศาสตร์ เรื่อง เศษส่วน สัญลักษณ์แทนเศษส่วน

คำชี้แจง : ให้นักเรียนเขียนเศษส่วนจากสัญลักษณ์ที่กำหนดให้ต่อไปนี้

551.

แปลงเป็นเศษส่วน เท่ากับ

552.

แปลงเป็นเศษส่วน เท่ากับ

553.

แปลงเป็นเศษส่วน เท่ากับ

554.

แปลงเป็นเศษส่วน เท่ากับ

555.

แปลงเป็นเศษส่วน เท่ากับ



ครูโยย www.ontous.info

ชื่อ-สกุล			
ชั้นเรียน		เลขที่	
คะแนนที่ได้		วันที่	

แบบฝึกวิชาคณิตศาสตร์ เรื่อง เศษส่วน สัญลักษณ์แทนเศษส่วน

คำชี้แจง : ให้นักเรียนเขียนเศษส่วนจากสัญลักษณ์ที่กำหนดให้ต่อไปนี้



แปลงเป็นเศษส่วน เท่ากับ



แปลงเป็นเศษส่วน เท่ากับ



แปลงเป็นเศษส่วน เท่ากับ



แปลงเป็นเศษส่วน เท่ากับ



แปลงเป็นเศษส่วน เท่ากับ



ครูโยย www.ontous.info

ชื่อ-สกุล			
ชั้นเรียน		เลขที่	
คะแนนที่ได้		วันที่	

แบบฝึกวิชาคณิตศาสตร์ เรื่อง เศษส่วน สัญลักษณ์แทนเศษส่วน

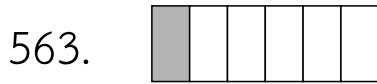
คำชี้แจง : ให้นักเรียนเขียนเศษส่วนจากสัญลักษณ์ที่กำหนดให้ต่อไปนี้



แปลงเป็นเศษส่วน เท่ากับ



แปลงเป็นเศษส่วน เท่ากับ



แปลงเป็นเศษส่วน เท่ากับ



แปลงเป็นเศษส่วน เท่ากับ



แปลงเป็นเศษส่วน เท่ากับ



ครูโยย www.ontous.info

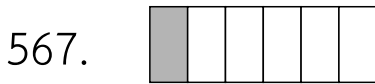
ชื่อ-สกุล			
ชั้นเรียน		เลขที่	
คะแนนที่ได้		วันที่	

แบบฝึกวิชาคณิตศาสตร์ เรื่อง เศษส่วน สัญลักษณ์แทนเศษส่วน

คำชี้แจง : ให้นักเรียนเขียนเศษส่วนจากสัญลักษณ์ที่กำหนดให้ต่อไปนี้



แปลงเป็นเศษส่วน เท่ากับ



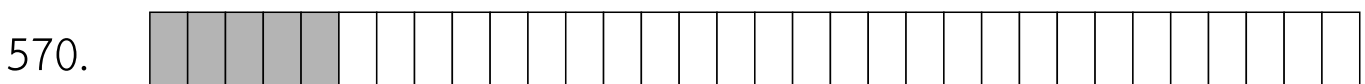
แปลงเป็นเศษส่วน เท่ากับ



แปลงเป็นเศษส่วน เท่ากับ



แปลงเป็นเศษส่วน เท่ากับ



แปลงเป็นเศษส่วน เท่ากับ



ครูโยย www.ontous.info

ชื่อ-สกุล			
ชั้นเรียน		เลขที่	
คะแนนที่ได้		วันที่	

แบบฝึกวิชาคณิตศาสตร์ เรื่อง เศษส่วน สัญลักษณ์แทนเศษส่วน

คำชี้แจง : ให้นักเรียนเขียนเศษส่วนจากสัญลักษณ์ที่กำหนดให้ต่อไปนี้

571.

แปลงเป็นเศษส่วน เท่ากับ

572.

แปลงเป็นเศษส่วน เท่ากับ

573.

แปลงเป็นเศษส่วน เท่ากับ

574.

แปลงเป็นเศษส่วน เท่ากับ

575.

แปลงเป็นเศษส่วน เท่ากับ



ครูโยย www.ontous.info

ชื่อ-สกุล			
ชั้นเรียน		เลขที่	
คะแนนที่ได้		วันที่	

แบบฝึกวิชาคณิตศาสตร์ เรื่อง เศษส่วน สัญลักษณ์แทนเศษส่วน

คำชี้แจง : ให้นักเรียนเขียนเศษส่วนจากสัญลักษณ์ที่กำหนดให้ต่อไปนี้



แปลงเป็นเศษส่วน เท่ากับ




แปลงเป็นเศษส่วน เท่ากับ



แปลงเป็นเศษส่วน เท่ากับ



แปลงเป็นเศษส่วน เท่ากับ



แปลงเป็นเศษส่วน เท่ากับ



ครูโยย www.ontous.info

ชื่อ-สกุล			
ชั้นเรียน		เลขที่	
คะแนนที่ได้		วันที่	

แบบฝึกวิชาคณิตศาสตร์ เรื่อง เศษส่วน สัญลักษณ์แทนเศษส่วน

คำชี้แจง : ให้นักเรียนเขียนเศษส่วนจากสัญลักษณ์ที่กำหนดให้ต่อไปนี้



แปลงเป็นเศษส่วน เท่ากับ



แปลงเป็นเศษส่วน เท่ากับ



แปลงเป็นเศษส่วน เท่ากับ



แปลงเป็นเศษส่วน เท่ากับ



แปลงเป็นเศษส่วน เท่ากับ



ครูโยย www.ontous.info

ชื่อ-สกุล			
ชั้นเรียน		เลขที่	
คะแนนที่ได้		วันที่	

แบบฝึกวิชาคณิตศาสตร์ เรื่อง เศษส่วน สัญลักษณ์แทนเศษส่วน

คำชี้แจง : ให้นักเรียนเขียนเศษส่วนจากสัญลักษณ์ที่กำหนดให้ต่อไปนี้

586.

แปลงเป็นเศษส่วน เท่ากับ

587.

แปลงเป็นเศษส่วน เท่ากับ

588.

แปลงเป็นเศษส่วน เท่ากับ

589.

แปลงเป็นเศษส่วน เท่ากับ

590.

แปลงเป็นเศษส่วน เท่ากับ



ครูโยย www.ontous.info

ชื่อ-สกุล			
ชั้นเรียน		เลขที่	
คะแนนที่ได้		วันที่	

แบบฝึกวิชาคณิตศาสตร์ เรื่อง เศษส่วน สัญลักษณ์แทนเศษส่วน


คำชี้แจง : ให้นักเรียนเขียนเศษส่วนจากสัญลักษณ์ที่กำหนดให้ต่อไปนี้

591. 

แปลงเป็นเศษส่วน เท่ากับ

592. 


แปลงเป็นเศษส่วน เท่ากับ

593. 

แปลงเป็นเศษส่วน เท่ากับ

594. 

แปลงเป็นเศษส่วน เท่ากับ

595. 

แปลงเป็นเศษส่วน เท่ากับ



ครูโยย www.ontous.info

ชื่อ-สกุล			
ชั้นเรียน		เลขที่	
คะแนนที่ได้		วันที่	

แบบฝึกวิชาคณิตศาสตร์ เรื่อง เศษส่วน สัญลักณ์แทนเศษส่วน


คำชี้แจง : ให้นักเรียนเขียนเศษส่วนจากสัญลักณ์ที่กำหนดให้ต่อไปนี้

596.



แปลงเป็นเศษส่วน เท่ากับ

597.



แปลงเป็นเศษส่วน เท่ากับ

598.



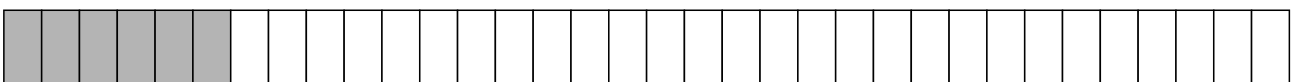
แปลงเป็นเศษส่วน เท่ากับ

599.



แปลงเป็นเศษส่วน เท่ากับ

600.



แปลงเป็นเศษส่วน เท่ากับ



ครูโยย www.ontous.info

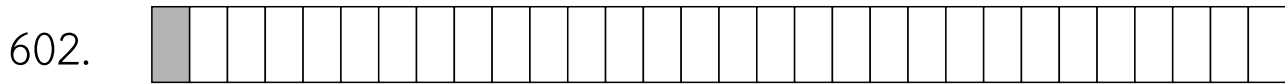
ชื่อ-สกุล			
ชั้นเรียน		เลขที่	
คะแนนที่ได้		วันที่	

แบบฝึกวิชาคณิตศาสตร์ เรื่อง เศษส่วน สัญลักษณ์แทนเศษส่วน

คำชี้แจง : ให้นักเรียนเขียนเศษส่วนจากสัญลักษณ์ที่กำหนดให้ต่อไปนี้



แปลงเป็นเศษส่วน เท่ากับ



แปลงเป็นเศษส่วน เท่ากับ



แปลงเป็นเศษส่วน เท่ากับ



แปลงเป็นเศษส่วน เท่ากับ



แปลงเป็นเศษส่วน เท่ากับ



ครูโยย www.ontous.info

ชื่อ-สกุล			
ชั้นเรียน		เลขที่	
คะแนนที่ได้		วันที่	

แบบฝึกวิชาคณิตศาสตร์ เรื่อง เศษส่วน สัญลักษณ์แทนเศษส่วน

คำชี้แจง : ให้นักเรียนเขียนเศษส่วนจากสัญลักษณ์ที่กำหนดให้ต่อไปนี้

606.



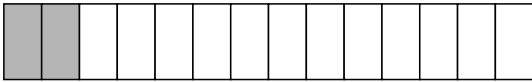
แปลงเป็นเศษส่วน เท่ากับ

607.



แปลงเป็นเศษส่วน เท่ากับ

608.



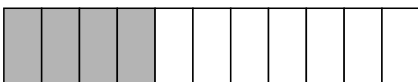
แปลงเป็นเศษส่วน เท่ากับ

609.



แปลงเป็นเศษส่วน เท่ากับ

610.



แปลงเป็นเศษส่วน เท่ากับ



ครูโยย www.ontous.info

ชื่อ-สกุล			
ชั้นเรียน		เลขที่	
คะแนนที่ได้		วันที่	

แบบฝึกวิชาคณิตศาสตร์ เรื่อง เศษส่วน สัญลักษณ์แทนเศษส่วน

คำชี้แจง : ให้นักเรียนเขียนเศษส่วนจากสัญลักษณ์ที่กำหนดให้ต่อไปนี้

611.

แปลงเป็นเศษส่วน เท่ากับ

612.

แปลงเป็นเศษส่วน เท่ากับ

613.

แปลงเป็นเศษส่วน เท่ากับ

614.

แปลงเป็นเศษส่วน เท่ากับ

615.

แปลงเป็นเศษส่วน เท่ากับ




ครูโยย www.ontous.info


ชื่อ-สกุล			
ชั้นเรียน		เลขที่	
คะแนนที่ได้		วันที่	

แบบฝึกวิชาคณิตศาสตร์ เรื่อง เศษส่วน สัญลักษณ์แทนเศษส่วน


คำชี้แจง : ให้นักเรียนเขียนเศษส่วนจากสัญลักษณ์ที่กำหนดให้ต่อไปนี้



แปลงเป็นเศษส่วน เท่ากับ



แปลงเป็นเศษส่วน เท่ากับ



แปลงเป็นเศษส่วน เท่ากับ



แปลงเป็นเศษส่วน เท่ากับ



แปลงเป็นเศษส่วน เท่ากับ



ครูโยย www.ontous.info

ชื่อ-สกุล			
ชั้นเรียน		เลขที่	
คะแนนที่ได้		วันที่	

แบบฝึกวิชาคณิตศาสตร์ เรื่อง เศษส่วน สัญลักษณ์แทนเศษส่วน

คำชี้แจง : ให้นักเรียนเขียนเศษส่วนจากสัญลักษณ์ที่กำหนดให้ต่อไปนี้



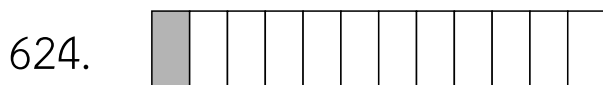
แปลงเป็นเศษส่วน เท่ากับ



แปลงเป็นเศษส่วน เท่ากับ



แปลงเป็นเศษส่วน เท่ากับ



แปลงเป็นเศษส่วน เท่ากับ



แปลงเป็นเศษส่วน เท่ากับ



ครูโยย www.ontous.info

ชื่อ-สกุล			
ชั้นเรียน		เลขที่	
คะแนนที่ได้		วันที่	

แบบฝึกวิชาคณิตศาสตร์ เรื่อง เศษส่วน สัญลักษณ์แทนเศษส่วน

คำชี้แจง : ให้นักเรียนเขียนเศษส่วนจากสัญลักษณ์ที่กำหนดให้ต่อไปนี้

626.

แปลงเป็นเศษส่วน เท่ากับ

627.

แปลงเป็นเศษส่วน เท่ากับ

628.

แปลงเป็นเศษส่วน เท่ากับ

629.

แปลงเป็นเศษส่วน เท่ากับ

630.

แปลงเป็นเศษส่วน เท่ากับ



ครูโยย www.ontous.info

ชื่อ-สกุล			
ชั้นเรียน		เลขที่	
คะแนนที่ได้		วันที่	

แบบฝึกวิชาคณิตศาสตร์ เรื่อง เศษส่วน สัญลักษณ์แทนเศษส่วน

คำชี้แจง : ให้นักเรียนเขียนเศษส่วนจากสัญลักษณ์ที่กำหนดให้ต่อไปนี้

631.



แปลงเป็นเศษส่วน เท่ากับ

632.



แปลงเป็นเศษส่วน เท่ากับ

633.



แปลงเป็นเศษส่วน เท่ากับ

634.



แปลงเป็นเศษส่วน เท่ากับ

635.



แปลงเป็นเศษส่วน เท่ากับ



ครูโยย www.ontous.info

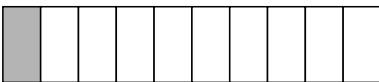
ชื่อ-สกุล			
ชั้นเรียน		เลขที่	
คะแนนที่ได้		วันที่	

แบบฝึกวิชาคณิตศาสตร์ เรื่อง เศษส่วน สัญลักษณ์แทนเศษส่วน

คำชี้แจง : ให้นักเรียนเขียนเศษส่วนจากสัญลักษณ์ที่กำหนดให้ต่อไปนี้

636. 

แปลงเป็นเศษส่วน เท่ากับ

637. 

แปลงเป็นเศษส่วน เท่ากับ

638. 

แปลงเป็นเศษส่วน เท่ากับ

639. 

แปลงเป็นเศษส่วน เท่ากับ

640. 

แปลงเป็นเศษส่วน เท่ากับ

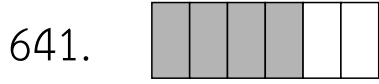


ครูโยย www.ontous.info


ชื่อ-สกุล			
ชั้นเรียน		เลขที่	
คะแนนที่ได้		วันที่	

แบบฝึกวิชาคณิตศาสตร์ เรื่อง เศษส่วน สัญลักษณ์แทนเศษส่วน

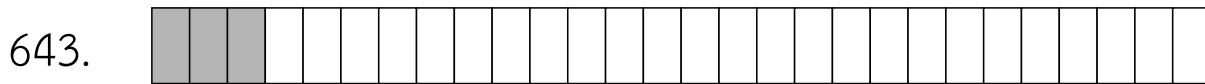
คำชี้แจง : ให้นักเรียนเขียนเศษส่วนจากสัญลักษณ์ที่กำหนดให้ต่อไปนี้



แปลงเป็นเศษส่วน เท่ากับ



แปลงเป็นเศษส่วน เท่ากับ



แปลงเป็นเศษส่วน เท่ากับ



แปลงเป็นเศษส่วน เท่ากับ



แปลงเป็นเศษส่วน เท่ากับ



ครูโยย www.ontous.info

ชื่อ-สกุล			
ชั้นเรียน		เลขที่	
คะแนนที่ได้		วันที่	

แบบฝึกวิชาคณิตศาสตร์ เรื่อง เศษส่วน สัญลักษณ์แทนเศษส่วน

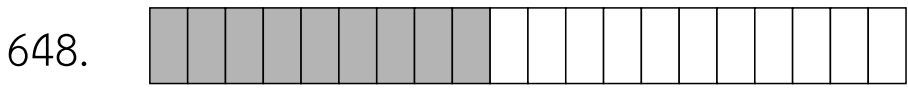
คำชี้แจง : ให้นักเรียนเขียนเศษส่วนจากสัญลักษณ์ที่กำหนดให้ต่อไปนี้



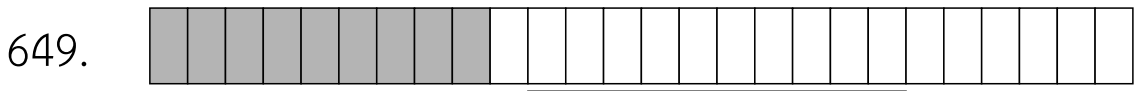
แปลงเป็นเศษส่วน เท่ากับ



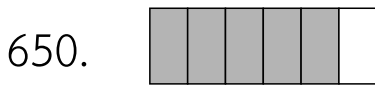
แปลงเป็นเศษส่วน เท่ากับ



แปลงเป็นเศษส่วน เท่ากับ



แปลงเป็นเศษส่วน เท่ากับ



แปลงเป็นเศษส่วน เท่ากับ



ครูโยย www.ontous.info

ชื่อ-สกุล			
ชั้นเรียน		เลขที่	
คะแนนที่ได้		วันที่	

แบบฝึกวิชาคณิตศาสตร์ เรื่อง เศษส่วน สัญลักษณ์แทนเศษส่วน


คำชี้แจง : ให้นักเรียนเขียนเศษส่วนจากสัญลักษณ์ที่กำหนดให้ต่อไปนี้



แปลงเป็นเศษส่วน เท่ากับ



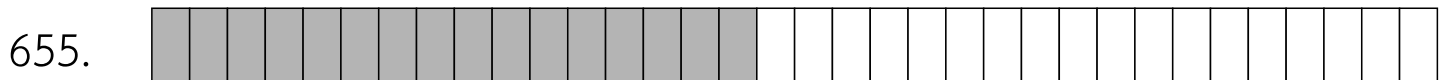
แปลงเป็นเศษส่วน เท่ากับ



แปลงเป็นเศษส่วน เท่ากับ



แปลงเป็นเศษส่วน เท่ากับ



แปลงเป็นเศษส่วน เท่ากับ




ครูย์ www.ontous.info

ชื่อ-สกุล			
ชั้นเรียน		เลขที่	
คะแนนที่ได้		วันที่	

แบบฝึกวิชาคณิตศาสตร์ เรื่อง เศษส่วน สัญลักษณ์แทนเศษส่วน

คำชี้แจง : ให้นักเรียนเขียนเศษส่วนจากสัญลักษณ์ที่กำหนดให้ต่อไปนี้



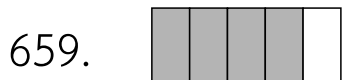
แปลงเป็นเศษส่วน เท่ากับ



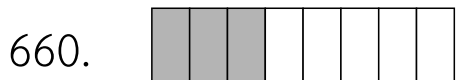
แปลงเป็นเศษส่วน เท่ากับ



แปลงเป็นเศษส่วน เท่ากับ



แปลงเป็นเศษส่วน เท่ากับ



แปลงเป็นเศษส่วน เท่ากับ



ครูโยย www.ontous.info

ชื่อ-สกุล			
ชั้นเรียน		เลขที่	
คะแนนที่ได้		วันที่	

แบบฝึกวิชาคณิตศาสตร์ เรื่อง เศษส่วน สัญลักษณ์แทนเศษส่วน

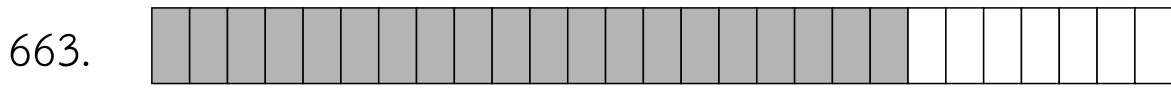
คำชี้แจง : ให้นักเรียนเขียนเศษส่วนจากสัญลักษณ์ที่กำหนดให้ต่อไปนี้



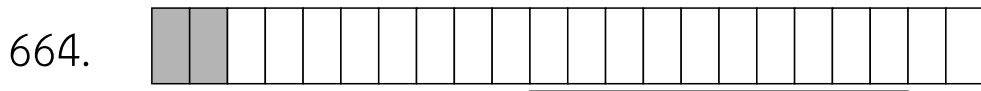
แปลงเป็นเศษส่วน เท่ากับ



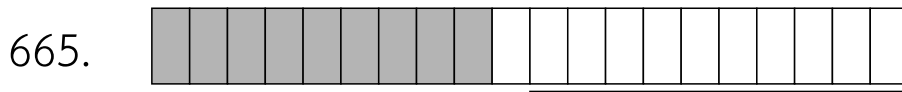
แปลงเป็นเศษส่วน เท่ากับ



แปลงเป็นเศษส่วน เท่ากับ



แปลงเป็นเศษส่วน เท่ากับ



แปลงเป็นเศษส่วน เท่ากับ



ครูโยย www.ontous.info

ชื่อ-สกุล			
ชั้นเรียน		เลขที่	
คะแนนที่ได้		วันที่	

แบบฝึกวิชาคณิตศาสตร์ เรื่อง เศษส่วน สัญลักษณ์แทนเศษส่วน

คำชี้แจง : ให้นักเรียนเขียนเศษส่วนจากสัญลักษณ์ที่กำหนดให้ต่อไปนี้

666.

แปลงเป็นเศษส่วน เท่ากับ

667.

แปลงเป็นเศษส่วน เท่ากับ

668.

แปลงเป็นเศษส่วน เท่ากับ

669.

แปลงเป็นเศษส่วน เท่ากับ

670.

แปลงเป็นเศษส่วน เท่ากับ



ครูโยย www.ontous.info

ชื่อ-สกุล			
ชั้นเรียน		เลขที่	
คะแนนที่ได้		วันที่	

แบบฝึกวิชาคณิตศาสตร์ เรื่อง เศษส่วน สัญลักษณ์แทนเศษส่วน

คำชี้แจง : ให้นักเรียนเขียนเศษส่วนจากสัญลักษณ์ที่กำหนดให้ต่อไปนี้

671.

แปลงเป็นเศษส่วน เท่ากับ

672.

แปลงเป็นเศษส่วน เท่ากับ

673.

แปลงเป็นเศษส่วน เท่ากับ

674.

แปลงเป็นเศษส่วน เท่ากับ

675.

แปลงเป็นเศษส่วน เท่ากับ



ครูโยย www.ontous.info

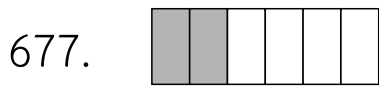
ชื่อ-สกุล			
ชั้นเรียน		เลขที่	
คะแนนที่ได้		วันที่	

แบบฝึกวิชาคณิตศาสตร์ เรื่อง เศษส่วน สัญลักษณ์แทนเศษส่วน

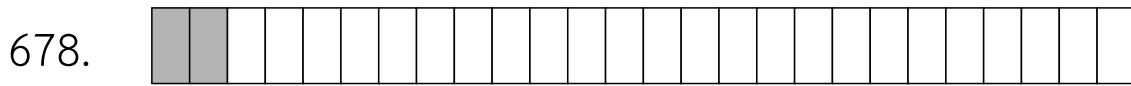
คำชี้แจง : ให้นักเรียนเขียนเศษส่วนจากสัญลักษณ์ที่กำหนดให้ต่อไปนี้



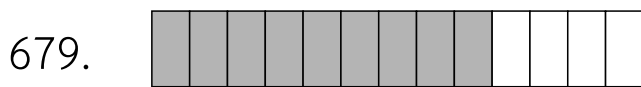
แปลงเป็นเศษส่วน เท่ากับ



แปลงเป็นเศษส่วน เท่ากับ



แปลงเป็นเศษส่วน เท่ากับ



แปลงเป็นเศษส่วน เท่ากับ



แปลงเป็นเศษส่วน เท่ากับ



ครูโยย www.ontous.info

ชื่อ-สกุล			
ชั้นเรียน		เลขที่	
คะแนนที่ได้		วันที่	

แบบฝึกวิชาคณิตศาสตร์ เรื่อง เศษส่วน สัญลักษณ์แทนเศษส่วน

คำชี้แจง : ให้นักเรียนเขียนเศษส่วนจากสัญลักษณ์ที่กำหนดให้ต่อไปนี้

681.



แปลงเป็นเศษส่วน เท่ากับ

682.



แปลงเป็นเศษส่วน เท่ากับ

683.



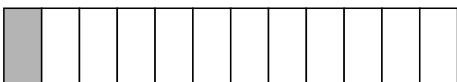
แปลงเป็นเศษส่วน เท่ากับ

684.



แปลงเป็นเศษส่วน เท่ากับ

685.



แปลงเป็นเศษส่วน เท่ากับ



ครูโยย www.ontous.info

ชื่อ-สกุล			
ชั้นเรียน		เลขที่	
คะแนนที่ได้		วันที่	

แบบฝึกวิชาคณิตศาสตร์ เรื่อง เศษส่วน สัญลักษณ์แทนเศษส่วน

คำชี้แจง : ให้นักเรียนเขียนเศษส่วนจากสัญลักษณ์ที่กำหนดให้ต่อไปนี้

686. 


แปลงเป็นเศษส่วน เท่ากับ

687. 

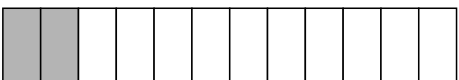
แปลงเป็นเศษส่วน เท่ากับ

688. 

แปลงเป็นเศษส่วน เท่ากับ

689. 

แปลงเป็นเศษส่วน เท่ากับ

690. 

แปลงเป็นเศษส่วน เท่ากับ



ครูโยย www.ontous.info

ชื่อ-สกุล			
ชั้นเรียน		เลขที่	
คะแนนที่ได้		วันที่	

แบบฝึกวิชาคณิตศาสตร์ เรื่อง เศษส่วน สัญลักณ์แทนเศษส่วน

คำชี้แจง : ให้นักเรียนเขียนเศษส่วนจากสัญลักณ์ที่กำหนดให้ต่อไปนี้

691.

แปลงเป็นเศษส่วน เท่ากับ

692.

แปลงเป็นเศษส่วน เท่ากับ

693.

แปลงเป็นเศษส่วน เท่ากับ

694.

แปลงเป็นเศษส่วน เท่ากับ

695.

แปลงเป็นเศษส่วน เท่ากับ



ครูโยย www.ontous.info

ชื่อ-สกุล			
ชั้นเรียน		เลขที่	
คะแนนที่ได้		วันที่	

แบบฝึกวิชาคณิตศาสตร์ เรื่อง เศษส่วน สัญลักษณ์แทนเศษส่วน

คำชี้แจง : ให้นักเรียนเขียนเศษส่วนจากสัญลักษณ์ที่กำหนดให้ต่อไปนี้

696.



แปลงเป็นเศษส่วน เท่ากับ

697.



แปลงเป็นเศษส่วน เท่ากับ

698.




แปลงเป็นเศษส่วน เท่ากับ

699.



แปลงเป็นเศษส่วน เท่ากับ

700.



แปลงเป็นเศษส่วน เท่ากับ



ครูโยย www.ontous.info

ชื่อ-สกุล			
ชั้นเรียน		เลขที่	
คะแนนที่ได้		วันที่	

แบบฝึกวิชาคณิตศาสตร์ เรื่อง เศษส่วน สัญลักษณ์แทนเศษส่วน

คำชี้แจง : ให้นักเรียนเขียนเศษส่วนจากสัญลักษณ์ที่กำหนดให้ต่อไปนี้

701. 


แปลงเป็นเศษส่วน เท่ากับ

702. 


แปลงเป็นเศษส่วน เท่ากับ

703. 

แปลงเป็นเศษส่วน เท่ากับ

704. 

แปลงเป็นเศษส่วน เท่ากับ

705. 

แปลงเป็นเศษส่วน เท่ากับ



ครูโยย www.ontous.info

ชื่อ-สกุล			
ชั้นเรียน		เลขที่	
คะแนนที่ได้		วันที่	

แบบฝึกวิชาคณิตศาสตร์ เรื่อง เศษส่วน สัญลักษณ์แทนเศษส่วน

คำชี้แจง : ให้นักเรียนเขียนเศษส่วนจากสัญลักษณ์ที่กำหนดให้ต่อไปนี้



แปลงเป็นเศษส่วน เท่ากับ



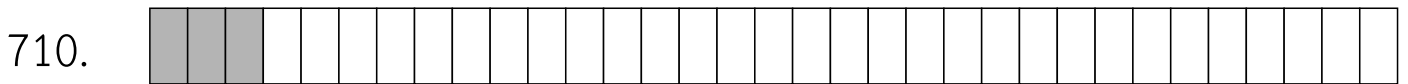
แปลงเป็นเศษส่วน เท่ากับ



แปลงเป็นเศษส่วน เท่ากับ



แปลงเป็นเศษส่วน เท่ากับ



แปลงเป็นเศษส่วน เท่ากับ




ครูโยย www.ontous.info

ชื่อ-สกุล			
ชั้นเรียน		เลขที่	
คะแนนที่ได้		วันที่	

แบบฝึกวิชาคณิตศาสตร์ เรื่อง เศษส่วน สัญลักษณ์แทนเศษส่วน

คำชี้แจง : ให้นักเรียนเขียนเศษส่วนจากสัญลักษณ์ที่กำหนดให้ต่อไปนี้



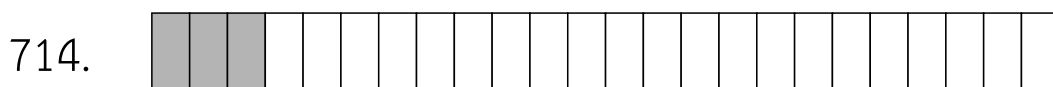
แปลงเป็นเศษส่วน เท่ากับ



แปลงเป็นเศษส่วน เท่ากับ



แปลงเป็นเศษส่วน เท่ากับ



แปลงเป็นเศษส่วน เท่ากับ



แปลงเป็นเศษส่วน เท่ากับ



ครูโยย www.ontous.info

ชื่อ-สกุล			
ชั้นเรียน		เลขที่	
คะแนนที่ได้		วันที่	

แบบฝึกวิชาคณิตศาสตร์ เรื่อง เศษส่วน สัญลักษณ์แทนเศษส่วน


คำชี้แจง : ให้นักเรียนเขียนเศษส่วนจากสัญลักษณ์ที่กำหนดให้ต่อไปนี้

716. 

แปลงเป็นเศษส่วน เท่ากับ

717. 

แปลงเป็นเศษส่วน เท่ากับ

718. 

แปลงเป็นเศษส่วน เท่ากับ

719. 

แปลงเป็นเศษส่วน เท่ากับ

720. 

แปลงเป็นเศษส่วน เท่ากับ




ครูโยย www.ontous.info

ชื่อ-สกุล			
ชั้นเรียน		เลขที่	
คะแนนที่ได้		วันที่	

แบบฝึกวิชาคณิตศาสตร์ เรื่อง เศษส่วน สัญลักษณ์แทนเศษส่วน

คำชี้แจง : ให้นักเรียนเขียนเศษส่วนจากสัญลักษณ์ที่กำหนดให้ต่อไปนี้



แปลงเป็นเศษส่วน เท่ากับ




แปลงเป็นเศษส่วน เท่ากับ



แปลงเป็นเศษส่วน เท่ากับ



แปลงเป็นเศษส่วน เท่ากับ



แปลงเป็นเศษส่วน เท่ากับ



ครูโยย www.ontous.info

ชื่อ-สกุล			
ชั้นเรียน		เลขที่	
คะแนนที่ได้		วันที่	

แบบฝึกวิชาคณิตศาสตร์ เรื่อง เศษส่วน สัญลักษณ์แทนเศษส่วน

คำชี้แจง : ให้นักเรียนเขียนเศษส่วนจากสัญลักษณ์ที่กำหนดให้ต่อไปนี้

726.



แปลงเป็นเศษส่วน เท่ากับ

727.



แปลงเป็นเศษส่วน เท่ากับ

728.



แปลงเป็นเศษส่วน เท่ากับ

729.



แปลงเป็นเศษส่วน เท่ากับ

730.



แปลงเป็นเศษส่วน เท่ากับ



ครูโยย www.ontous.info

ชื่อ-สกุล			
ชั้นเรียน		เลขที่	
คะแนนที่ได้		วันที่	

แบบฝึกวิชาคณิตศาสตร์ เรื่อง เศษส่วน สัญลักษณ์แทนเศษส่วน

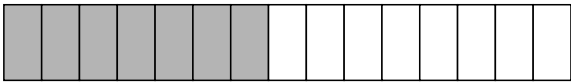
คำชี้แจง : ให้นักเรียนเขียนเศษส่วนจากสัญลักษณ์ที่กำหนดให้ต่อไปนี้

731.



แปลงเป็นเศษส่วน เท่ากับ

732.




แปลงเป็นเศษส่วน เท่ากับ

733.




แปลงเป็นเศษส่วน เท่ากับ

734.



แปลงเป็นเศษส่วน เท่ากับ

735.



แปลงเป็นเศษส่วน เท่ากับ



ครูโยย www.ontous.info

ชื่อ-สกุล			
ชั้นเรียน		เลขที่	
คะแนนที่ได้		วันที่	

แบบฝึกวิชาคณิตศาสตร์ เรื่อง เศษส่วน สัญลักษณ์แทนเศษส่วน

คำชี้แจง : ให้นักเรียนเขียนเศษส่วนจากสัญลักษณ์ที่กำหนดให้ต่อไปนี้

736.

แปลงเป็นเศษส่วน เท่ากับ

737.

แปลงเป็นเศษส่วน เท่ากับ

738.

แปลงเป็นเศษส่วน เท่ากับ

739.

แปลงเป็นเศษส่วน เท่ากับ

740.

แปลงเป็นเศษส่วน เท่ากับ



ครูโยย www.ontous.info

ชื่อ-สกุล			
ชั้นเรียน		เลขที่	
คะแนนที่ได้		วันที่	

แบบฝึกวิชาคณิตศาสตร์ เรื่อง เศษส่วน สัญลักษณ์แทนเศษส่วน

คำชี้แจง : ให้นักเรียนเขียนเศษส่วนจากสัญลักษณ์ที่กำหนดให้ต่อไปนี้

741.



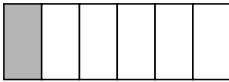
แปลงเป็นเศษส่วน เท่ากับ

742.



แปลงเป็นเศษส่วน เท่ากับ

743.



แปลงเป็นเศษส่วน เท่ากับ

744.



แปลงเป็นเศษส่วน เท่ากับ

745.



แปลงเป็นเศษส่วน เท่ากับ



ครูโยย www.ontous.info

ชื่อ-สกุล			
ชั้นเรียน		เลขที่	
คะแนนที่ได้		วันที่	

แบบฝึกวิชาคณิตศาสตร์ เรื่อง เศษส่วน สัญลักษณ์แทนเศษส่วน

คำชี้แจง : ให้นักเรียนเขียนเศษส่วนจากสัญลักษณ์ที่กำหนดให้ต่อไปนี้




แปลงเป็นเศษส่วน เท่ากับ



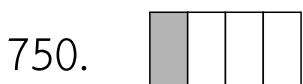
แปลงเป็นเศษส่วน เท่ากับ



แปลงเป็นเศษส่วน เท่ากับ



แปลงเป็นเศษส่วน เท่ากับ



แปลงเป็นเศษส่วน เท่ากับ



ครูโยย www.ontous.info

ชื่อ-สกุล			
ชั้นเรียน		เลขที่	
คะแนนที่ได้		วันที่	

แบบฝึกวิชาคณิตศาสตร์ เรื่อง เศษส่วน สัญลักษณ์แทนเศษส่วน

คำชี้แจง : ให้นักเรียนเขียนเศษส่วนจากสัญลักษณ์ที่กำหนดให้ต่อไปนี้

751.



แปลงเป็นเศษส่วน เท่ากับ

752.



แปลงเป็นเศษส่วน เท่ากับ

753.



แปลงเป็นเศษส่วน เท่ากับ

754.



แปลงเป็นเศษส่วน เท่ากับ

755.



แปลงเป็นเศษส่วน เท่ากับ



ครูโยย www.ontous.info

ชื่อ-สกุล			
ชั้นเรียน		เลขที่	
คะแนนที่ได้		วันที่	

แบบฝึกวิชาคณิตศาสตร์ เรื่อง เศษส่วน สัญลักษณ์แทนเศษส่วน

คำชี้แจง : ให้นักเรียนเขียนเศษส่วนจากสัญลักษณ์ที่กำหนดให้ต่อไปนี้

756.



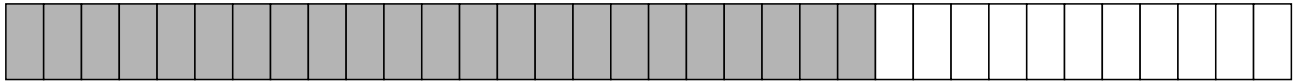
แปลงเป็นเศษส่วน เท่ากับ

757.



แปลงเป็นเศษส่วน เท่ากับ

758.



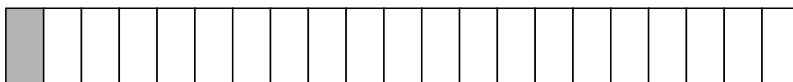
แปลงเป็นเศษส่วน เท่ากับ

759.



แปลงเป็นเศษส่วน เท่ากับ

760.



แปลงเป็นเศษส่วน เท่ากับ



ครูโยย www.ontous.info

ชื่อ-สกุล			
ชั้นเรียน		เลขที่	
คะแนนที่ได้		วันที่	

แบบฝึกวิชาคณิตศาสตร์ เรื่อง เศษส่วน สัญลักษณ์แทนเศษส่วน

คำชี้แจง : ให้นักเรียนเขียนเศษส่วนจากสัญลักษณ์ที่กำหนดให้ต่อไปนี้

761.

แปลงเป็นเศษส่วน เท่ากับ

762.

แปลงเป็นเศษส่วน เท่ากับ

763.

แปลงเป็นเศษส่วน เท่ากับ

764.

แปลงเป็นเศษส่วน เท่ากับ

765.

แปลงเป็นเศษส่วน เท่ากับ



ครูย์ www.ontous.info

ชื่อ-สกุล			
ชั้นเรียน		เลขที่	
คะแนนที่ได้		วันที่	

แบบฝึกวิชาคณิตศาสตร์ เรื่อง เศษส่วน สัญลักษณ์แทนเศษส่วน

คำชี้แจง : ให้นักเรียนเขียนเศษส่วนจากสัญลักษณ์ที่กำหนดให้ต่อไปนี้

766.

แปลงเป็นเศษส่วน เท่ากับ

767.

แปลงเป็นเศษส่วน เท่ากับ

768.

แปลงเป็นเศษส่วน เท่ากับ

769.

แปลงเป็นเศษส่วน เท่ากับ

770.

แปลงเป็นเศษส่วน เท่ากับ



ครูโยย www.ontous.info

ชื่อ-สกุล			
ชั้นเรียน		เลขที่	
คะแนนที่ได้		วันที่	

แบบฝึกวิชาคณิตศาสตร์ เรื่อง เศษส่วน สัญลักษณ์แทนเศษส่วน

คำชี้แจง : ให้นักเรียนเขียนเศษส่วนจากสัญลักษณ์ที่กำหนดให้ต่อไปนี้

771.

แปลงเป็นเศษส่วน เท่ากับ

772.

แปลงเป็นเศษส่วน เท่ากับ

773.

แปลงเป็นเศษส่วน เท่ากับ

774.

แปลงเป็นเศษส่วน เท่ากับ

775.

แปลงเป็นเศษส่วน เท่ากับ



ครูโยย www.ontous.info


ชื่อ-สกุล			
ชั้นเรียน		เลขที่	
คะแนนที่ได้		วันที่	

แบบฝึกวิชาคณิตศาสตร์ เรื่อง เศษส่วน สัญลักษณ์แทนเศษส่วน

คำชี้แจง : ให้นักเรียนเขียนเศษส่วนจากสัญลักษณ์ที่กำหนดให้ต่อไปนี้

776. 


แปลงเป็นเศษส่วน เท่ากับ

777. 


แปลงเป็นเศษส่วน เท่ากับ

778. 

แปลงเป็นเศษส่วน เท่ากับ

779. 

แปลงเป็นเศษส่วน เท่ากับ

780. 

แปลงเป็นเศษส่วน เท่ากับ



ครูโยย www.ontous.info

ชื่อ-สกุล			
ชั้นเรียน		เลขที่	
คะแนนที่ได้		วันที่	

แบบฝึกวิชาคณิตศาสตร์ เรื่อง เศษส่วน สัญลักษณ์แทนเศษส่วน

คำชี้แจง : ให้นักเรียนเขียนเศษส่วนจากสัญลักษณ์ที่กำหนดให้ต่อไปนี้

781.

แปลงเป็นเศษส่วน เท่ากับ

782.

แปลงเป็นเศษส่วน เท่ากับ

783.

แปลงเป็นเศษส่วน เท่ากับ

784.

แปลงเป็นเศษส่วน เท่ากับ

785.

แปลงเป็นเศษส่วน เท่ากับ




ครูโยย www.ontous.info

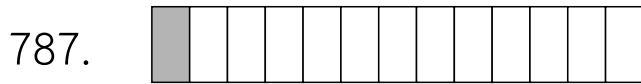
ชื่อ-สกุล			
ชั้นเรียน		เลขที่	
คะแนนที่ได้		วันที่	

แบบฝึกวิชาคณิตศาสตร์ เรื่อง เศษส่วน สัญลักษณ์แทนเศษส่วน

คำชี้แจง : ให้นักเรียนเขียนเศษส่วนจากสัญลักษณ์ที่กำหนดให้ต่อไปนี้



แปลงเป็นเศษส่วน เท่ากับ



แปลงเป็นเศษส่วน เท่ากับ



แปลงเป็นเศษส่วน เท่ากับ



แปลงเป็นเศษส่วน เท่ากับ



แปลงเป็นเศษส่วน เท่ากับ




ครูโยย www.ontous.info


ชื่อ-สกุล			
ชั้นเรียน		เลขที่	
คะแนนที่ได้		วันที่	

แบบฝึกวิชาคณิตศาสตร์ เรื่อง เศษส่วน สัญลักษณ์แทนเศษส่วน


คำชี้แจง : ให้นักเรียนเขียนเศษส่วนจากสัญลักษณ์ที่กำหนดให้ต่อไปนี้

791. 

แปลงเป็นเศษส่วน เท่ากับ

792. 


แปลงเป็นเศษส่วน เท่ากับ

793. 

แปลงเป็นเศษส่วน เท่ากับ

794. 

แปลงเป็นเศษส่วน เท่ากับ

795. 

แปลงเป็นเศษส่วน เท่ากับ



ครูโยย www.ontous.info

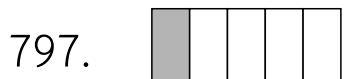
ชื่อ-สกุล			
ชั้นเรียน		เลขที่	
คะแนนที่ได้		วันที่	

แบบฝึกวิชาคณิตศาสตร์ เรื่อง เศษส่วน สัญลักษณ์แทนเศษส่วน

คำชี้แจง : ให้นักเรียนเขียนเศษส่วนจากสัญลักษณ์ที่กำหนดให้ต่อไปนี้



แปลงเป็นเศษส่วน เท่ากับ




แปลงเป็นเศษส่วน เท่ากับ



แปลงเป็นเศษส่วน เท่ากับ



แปลงเป็นเศษส่วน เท่ากับ



แปลงเป็นเศษส่วน เท่ากับ



ครูโยย www.ontous.info

ชื่อ-สกุล			
ชั้นเรียน		เลขที่	
คะแนนที่ได้		วันที่	

แบบฝึกวิชาคณิตศาสตร์ เรื่อง เศษส่วน สัญลักษณ์แทนเศษส่วน

คำชี้แจง : ให้นักเรียนเขียนเศษส่วนจากสัญลักษณ์ที่กำหนดให้ต่อไปนี้

801.

แปลงเป็นเศษส่วน เท่ากับ

802.

แปลงเป็นเศษส่วน เท่ากับ

803.

แปลงเป็นเศษส่วน เท่ากับ

804.

แปลงเป็นเศษส่วน เท่ากับ

805.

แปลงเป็นเศษส่วน เท่ากับ



ครูโยย www.ontous.info

ชื่อ-สกุล			
ชั้นเรียน		เลขที่	
คะแนนที่ได้		วันที่	

แบบฝึกวิชาคณิตศาสตร์ เรื่อง เศษส่วน สัญลักษณ์แทนเศษส่วน

คำชี้แจง : ให้นักเรียนเขียนเศษส่วนจากสัญลักษณ์ที่กำหนดให้ต่อไปนี้

806.



แปลงเป็นเศษส่วน เท่ากับ

807.



แปลงเป็นเศษส่วน เท่ากับ

808.



แปลงเป็นเศษส่วน เท่ากับ

809.



แปลงเป็นเศษส่วน เท่ากับ

810.



แปลงเป็นเศษส่วน เท่ากับ



ครูโยย www.ontous.info

ชื่อ-สกุล			
ชั้นเรียน		เลขที่	
คะแนนที่ได้		วันที่	

แบบฝึกวิชาคณิตศาสตร์ เรื่อง เศษส่วน สัญลักษณ์แทนเศษส่วน

คำชี้แจง : ให้นักเรียนเขียนเศษส่วนจากสัญลักษณ์ที่กำหนดให้ต่อไปนี้



แปลงเป็นเศษส่วน เท่ากับ



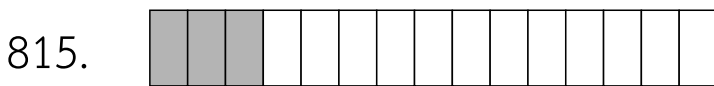
แปลงเป็นเศษส่วน เท่ากับ



แปลงเป็นเศษส่วน เท่ากับ



แปลงเป็นเศษส่วน เท่ากับ



แปลงเป็นเศษส่วน เท่ากับ



ครูโยย www.ontous.info

ชื่อ-สกุล			
ชั้นเรียน		เลขที่	
คะแนนที่ได้		วันที่	

แบบฝึกวิชาคณิตศาสตร์ เรื่อง เศษส่วน สัญลักษณ์แทนเศษส่วน

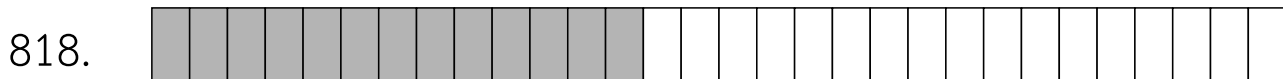
คำชี้แจง : ให้นักเรียนเขียนเศษส่วนจากสัญลักษณ์ที่กำหนดให้ต่อไปนี้




แปลงเป็นเศษส่วน เท่ากับ



แปลงเป็นเศษส่วน เท่ากับ



แปลงเป็นเศษส่วน เท่ากับ



แปลงเป็นเศษส่วน เท่ากับ



แปลงเป็นเศษส่วน เท่ากับ



ครูโยย www.ontous.info

ชื่อ-สกุล			
ชั้นเรียน		เลขที่	
คะแนนที่ได้		วันที่	

แบบฝึกวิชาคณิตศาสตร์ เรื่อง เศษส่วน สัญลักษณ์แทนเศษส่วน

คำชี้แจง : ให้นักเรียนเขียนเศษส่วนจากสัญลักษณ์ที่กำหนดให้ต่อไปนี้

821.




แปลงเป็นเศษส่วน เท่ากับ

822.



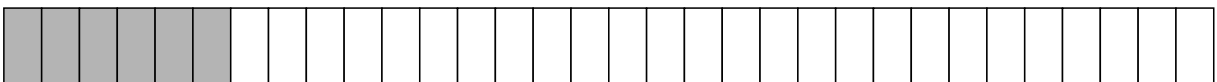
แปลงเป็นเศษส่วน เท่ากับ

823.



แปลงเป็นเศษส่วน เท่ากับ

824.



แปลงเป็นเศษส่วน เท่ากับ

825.



แปลงเป็นเศษส่วน เท่ากับ




ครูโยย www.ontous.info

ชื่อ-สกุล			
ชั้นเรียน		เลขที่	
คะแนนที่ได้		วันที่	

แบบฝึกวิชาคณิตศาสตร์ เรื่อง เศษส่วน สัญลักษณ์แทนเศษส่วน


คำชี้แจง : ให้นักเรียนเขียนเศษส่วนจากสัญลักษณ์ที่กำหนดให้ต่อไปนี้



แปลงเป็นเศษส่วน เท่ากับ



แปลงเป็นเศษส่วน เท่ากับ



แปลงเป็นเศษส่วน เท่ากับ



แปลงเป็นเศษส่วน เท่ากับ



แปลงเป็นเศษส่วน เท่ากับ



ครูโยย www.ontous.info

ชื่อ-สกุล			
ชั้นเรียน		เลขที่	
คะแนนที่ได้		วันที่	

แบบฝึกวิชาคณิตศาสตร์ เรื่อง เศษส่วน สัญลักษณ์แทนเศษส่วน

คำชี้แจง : ให้นักเรียนเขียนเศษส่วนจากสัญลักษณ์ที่กำหนดให้ต่อไปนี้

831. 

แปลงเป็นเศษส่วน เท่ากับ

832. 

แปลงเป็นเศษส่วน เท่ากับ

833. 

แปลงเป็นเศษส่วน เท่ากับ

834. 

แปลงเป็นเศษส่วน เท่ากับ

835. 

แปลงเป็นเศษส่วน เท่ากับ



ครูโยย www.ontous.info

ชื่อ-สกุล			
ชั้นเรียน		เลขที่	
คะแนนที่ได้		วันที่	

แบบฝึกวิชาคณิตศาสตร์ เรื่อง เศษส่วน สัญลักษณ์แทนเศษส่วน

คำชี้แจง : ให้นักเรียนเขียนเศษส่วนจากสัญลักษณ์ที่กำหนดให้ต่อไปนี้

836.

แปลงเป็นเศษส่วน เท่ากับ

837.

แปลงเป็นเศษส่วน เท่ากับ

838.

แปลงเป็นเศษส่วน เท่ากับ

839.

แปลงเป็นเศษส่วน เท่ากับ

840.

แปลงเป็นเศษส่วน เท่ากับ



ครูโยย www.ontous.info

ชื่อ-สกุล			
ชั้นเรียน		เลขที่	
คะแนนที่ได้		วันที่	

แบบฝึกวิชาคณิตศาสตร์ เรื่อง เศษส่วน สัญลักษณ์แทนเศษส่วน

คำชี้แจง : ให้นักเรียนเขียนเศษส่วนจากสัญลักษณ์ที่กำหนดให้ต่อไปนี้

841.



แปลงเป็นเศษส่วน เท่ากับ

842.



แปลงเป็นเศษส่วน เท่ากับ

843.



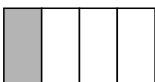
แปลงเป็นเศษส่วน เท่ากับ

844.



แปลงเป็นเศษส่วน เท่ากับ

845.



แปลงเป็นเศษส่วน เท่ากับ




ครูโยย www.ontous.info

ชื่อ-สกุล			
ชั้นเรียน		เลขที่	
คะแนนที่ได้		วันที่	

แบบฝึกวิชาคณิตศาสตร์ เรื่อง เศษส่วน สัญลักษณ์แทนเศษส่วน

คำชี้แจง : ให้นักเรียนเขียนเศษส่วนจากสัญลักษณ์ที่กำหนดให้ต่อไปนี้

846.



แปลงเป็นเศษส่วน เท่ากับ

847.



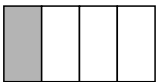
แปลงเป็นเศษส่วน เท่ากับ

848.




แปลงเป็นเศษส่วน เท่ากับ

849.



แปลงเป็นเศษส่วน เท่ากับ

850.



แปลงเป็นเศษส่วน เท่ากับ



ครูโยย www.ontous.info

ชื่อ-สกุล			
ชั้นเรียน		เลขที่	
คะแนนที่ได้		วันที่	

แบบฝึกวิชาคณิตศาสตร์ เรื่อง เศษส่วน สัญลักษณ์แทนเศษส่วน

คำชี้แจง : ให้นักเรียนเขียนเศษส่วนจากสัญลักษณ์ที่กำหนดให้ต่อไปนี้

851.



แปลงเป็นเศษส่วน เท่ากับ

852.



แปลงเป็นเศษส่วน เท่ากับ

853.



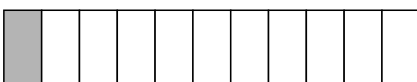
แปลงเป็นเศษส่วน เท่ากับ

854.



แปลงเป็นเศษส่วน เท่ากับ

855.



แปลงเป็นเศษส่วน เท่ากับ



ครูโยย www.ontous.info

ชื่อ-สกุล			
ชั้นเรียน		เลขที่	
คะแนนที่ได้		วันที่	

แบบฝึกวิชาคณิตศาสตร์ เรื่อง เศษส่วน สัญลักษณ์แทนเศษส่วน

คำชี้แจง : ให้นักเรียนเขียนเศษส่วนจากสัญลักษณ์ที่กำหนดให้ต่อไปนี้

856.



แปลงเป็นเศษส่วน เท่ากับ

857.



แปลงเป็นเศษส่วน เท่ากับ

858.




แปลงเป็นเศษส่วน เท่ากับ

859.



แปลงเป็นเศษส่วน เท่ากับ

860.



แปลงเป็นเศษส่วน เท่ากับ



ครูโยย www.ontous.info

ชื่อ-สกุล			
ชั้นเรียน		เลขที่	
คะแนนที่ได้		วันที่	

แบบฝึกวิชาคณิตศาสตร์ เรื่อง เศษส่วน สัญลักษณ์แทนเศษส่วน

คำชี้แจง : ให้นักเรียนเขียนเศษส่วนจากสัญลักษณ์ที่กำหนดให้ต่อไปนี้

861.

แปลงเป็นเศษส่วน เท่ากับ

862.

แปลงเป็นเศษส่วน เท่ากับ

863.

แปลงเป็นเศษส่วน เท่ากับ

864.

แปลงเป็นเศษส่วน เท่ากับ

865.

แปลงเป็นเศษส่วน เท่ากับ



ครูโยย www.ontous.info

ชื่อ-สกุล			
ชั้นเรียน		เลขที่	
คะแนนที่ได้		วันที่	

แบบฝึกวิชาคณิตศาสตร์ เรื่อง เศษส่วน สัญลักษณ์แทนเศษส่วน

คำชี้แจง : ให้นักเรียนเขียนเศษส่วนจากสัญลักษณ์ที่กำหนดให้ต่อไปนี้

866.

แปลงเป็นเศษส่วน เท่ากับ

867.

แปลงเป็นเศษส่วน เท่ากับ

868.

แปลงเป็นเศษส่วน เท่ากับ

869.

แปลงเป็นเศษส่วน เท่ากับ

870.

แปลงเป็นเศษส่วน เท่ากับ



ครูโยย www.ontous.info

ชื่อ-สกุล			
ชั้นเรียน		เลขที่	
คะแนนที่ได้		วันที่	

แบบฝึกวิชาคณิตศาสตร์ เรื่อง เศษส่วน สัญลักษณ์แทนเศษส่วน

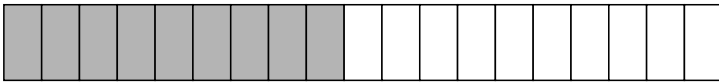
คำชี้แจง : ให้นักเรียนเขียนเศษส่วนจากสัญลักษณ์ที่กำหนดให้ต่อไปนี้

871.



แปลงเป็นเศษส่วน เท่ากับ

872.



แปลงเป็นเศษส่วน เท่ากับ

873.



แปลงเป็นเศษส่วน เท่ากับ

874.



แปลงเป็นเศษส่วน เท่ากับ

875.



แปลงเป็นเศษส่วน เท่ากับ



ครูโยย www.ontous.info

ชื่อ-สกุล			
ชั้นเรียน		เลขที่	
คะแนนที่ได้		วันที่	

แบบฝึกวิชาคณิตศาสตร์ เรื่อง เศษส่วน สัญลักษณ์แทนเศษส่วน

คำชี้แจง : ให้นักเรียนเขียนเศษส่วนจากสัญลักษณ์ที่กำหนดให้ต่อไปนี้

876.

แปลงเป็นเศษส่วน เท่ากับ

877.

แปลงเป็นเศษส่วน เท่ากับ

878.

แปลงเป็นเศษส่วน เท่ากับ

879.

แปลงเป็นเศษส่วน เท่ากับ

880.

แปลงเป็นเศษส่วน เท่ากับ



ครูโยย www.ontous.info

ชื่อ-สกุล			
ชั้นเรียน		เลขที่	
คะแนนที่ได้		วันที่	

แบบฝึกวิชาคณิตศาสตร์ เรื่อง เศษส่วน สัญลักษณ์แทนเศษส่วน

คำชี้แจง : ให้นักเรียนเขียนเศษส่วนจากสัญลักษณ์ที่กำหนดให้ต่อไปนี้

881.



แปลงเป็นเศษส่วน เท่ากับ

882.



แปลงเป็นเศษส่วน เท่ากับ

883.




แปลงเป็นเศษส่วน เท่ากับ

884.



แปลงเป็นเศษส่วน เท่ากับ

885.



แปลงเป็นเศษส่วน เท่ากับ



ครู้อย www.ontous.info

ชื่อ-สกุล			
ชั้นเรียน		เลขที่	
คะแนนที่ได้		วันที่	

แบบฝึกวิชาคณิตศาสตร์ เรื่อง เศษส่วน สัญลักษณ์แทนเศษส่วน

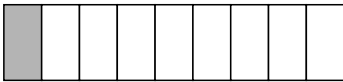
คำชี้แจง : ให้นักเรียนเขียนเศษส่วนจากสัญลักษณ์ที่กำหนดให้ต่อไปนี้

886.



แปลงเป็นเศษส่วน เท่ากับ

887.



แปลงเป็นเศษส่วน เท่ากับ

888.




แปลงเป็นเศษส่วน เท่ากับ

889.



แปลงเป็นเศษส่วน เท่ากับ

890.



แปลงเป็นเศษส่วน เท่ากับ



ครูโยย www.ontous.info

ชื่อ-สกุล			
ชั้นเรียน		เลขที่	
คะแนนที่ได้		วันที่	

แบบฝึกวิชาคณิตศาสตร์ เรื่อง เศษส่วน สัญลักษณ์แทนเศษส่วน


คำชี้แจง : ให้นักเรียนเขียนเศษส่วนจากสัญลักษณ์ที่กำหนดให้ต่อไปนี้

891. 

แปลงเป็นเศษส่วน เท่ากับ

892. 

แปลงเป็นเศษส่วน เท่ากับ

893. 

แปลงเป็นเศษส่วน เท่ากับ

894. 

แปลงเป็นเศษส่วน เท่ากับ

895. 

แปลงเป็นเศษส่วน เท่ากับ



ครูโยย www.ontous.info

ชื่อ-สกุล			
ชั้นเรียน		เลขที่	
คะแนนที่ได้		วันที่	

แบบฝึกวิชาคณิตศาสตร์ เรื่อง เศษส่วน สัญลักษณ์แทนเศษส่วน

คำชี้แจง : ให้นักเรียนเขียนเศษส่วนจากสัญลักษณ์ที่กำหนดให้ต่อไปนี้

896.

แปลงเป็นเศษส่วน เท่ากับ

897.

แปลงเป็นเศษส่วน เท่ากับ

898.

แปลงเป็นเศษส่วน เท่ากับ

899.

แปลงเป็นเศษส่วน เท่ากับ

900.

แปลงเป็นเศษส่วน เท่ากับ




ครูโยย www.ontous.info

ชื่อ-สกุล			
ชั้นเรียน		เลขที่	
คะแนนที่ได้		วันที่	

แบบฝึกวิชาคณิตศาสตร์ เรื่อง เศษส่วน สัญลักษณ์แทนเศษส่วน

คำชี้แจง : ให้นักเรียนเขียนเศษส่วนจากสัญลักษณ์ที่กำหนดให้ต่อไปนี้

901.



แปลงเป็นเศษส่วน เท่ากับ

902.



แปลงเป็นเศษส่วน เท่ากับ

903.




แปลงเป็นเศษส่วน เท่ากับ

904.



แปลงเป็นเศษส่วน เท่ากับ

905.



แปลงเป็นเศษส่วน เท่ากับ



ครูโย www.ontous.info

ชื่อ-สกุล			
ชั้นเรียน		เลขที่	
คะแนนที่ได้		วันที่	

แบบฝึกวิชาคณิตศาสตร์ เรื่อง เศษส่วน สัญลักษณ์แทนเศษส่วน

คำชี้แจง : ให้นักเรียนเขียนเศษส่วนจากสัญลักษณ์ที่กำหนดให้ต่อไปนี้

906.

แปลงเป็นเศษส่วน เท่ากับ

907.

แปลงเป็นเศษส่วน เท่ากับ

908.

แปลงเป็นเศษส่วน เท่ากับ

909.

แปลงเป็นเศษส่วน เท่ากับ

910.

แปลงเป็นเศษส่วน เท่ากับ



ครูโยย www.ontous.info

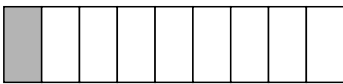
ชื่อ-สกุล			
ชั้นเรียน		เลขที่	
คะแนนที่ได้		วันที่	

แบบฝึกวิชาคณิตศาสตร์ เรื่อง เศษส่วน สัญลักษณ์แทนเศษส่วน

คำชี้แจง : ให้นักเรียนเขียนเศษส่วนจากสัญลักษณ์ที่กำหนดให้ต่อไปนี้

911. 

แปลงเป็นเศษส่วน เท่ากับ

912. 

แปลงเป็นเศษส่วน เท่ากับ

913. 

แปลงเป็นเศษส่วน เท่ากับ

914. 

แปลงเป็นเศษส่วน เท่ากับ

915. 

แปลงเป็นเศษส่วน เท่ากับ



ครูโยย www.ontous.info

ชื่อ-สกุล			
ชั้นเรียน		เลขที่	
คะแนนที่ได้		วันที่	

แบบฝึกวิชาคณิตศาสตร์ เรื่อง เศษส่วน สัญลักษณ์แทนเศษส่วน

คำชี้แจง : ให้นักเรียนเขียนเศษส่วนจากสัญลักษณ์ที่กำหนดให้ต่อไปนี้



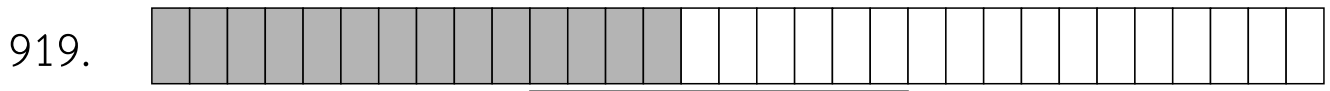
แปลงเป็นเศษส่วน เท่ากับ



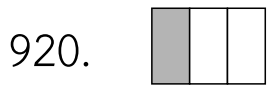
แปลงเป็นเศษส่วน เท่ากับ



แปลงเป็นเศษส่วน เท่ากับ



แปลงเป็นเศษส่วน เท่ากับ



แปลงเป็นเศษส่วน เท่ากับ



ครูโยย www.ontous.info

ชื่อ-สกุล			
ชั้นเรียน		เลขที่	
คะแนนที่ได้		วันที่	

แบบฝึกวิชาคณิตศาสตร์ เรื่อง เศษส่วน สัญลักษณ์แทนเศษส่วน

คำชี้แจง : ให้นักเรียนเขียนเศษส่วนจากสัญลักษณ์ที่กำหนดให้ต่อไปนี้

921.

แปลงเป็นเศษส่วน เท่ากับ

922.

แปลงเป็นเศษส่วน เท่ากับ

923.

แปลงเป็นเศษส่วน เท่ากับ

924.

แปลงเป็นเศษส่วน เท่ากับ

925.

แปลงเป็นเศษส่วน เท่ากับ



ครูโยย www.ontous.info

ชื่อ-สกุล			
ชั้นเรียน		เลขที่	
คะแนนที่ได้		วันที่	

แบบฝึกวิชาคณิตศาสตร์ เรื่อง เศษส่วน สัญลักษณ์แทนเศษส่วน

คำชี้แจง : ให้นักเรียนเขียนเศษส่วนจากสัญลักษณ์ที่กำหนดให้ต่อไปนี้

926.



แปลงเป็นเศษส่วน เท่ากับ

927.



แปลงเป็นเศษส่วน เท่ากับ

928.



แปลงเป็นเศษส่วน เท่ากับ

929.



แปลงเป็นเศษส่วน เท่ากับ

930.



แปลงเป็นเศษส่วน เท่ากับ



ครูโยย www.ontous.info

ชื่อ-สกุล			
ชั้นเรียน		เลขที่	
คะแนนที่ได้		วันที่	

แบบฝึกวิชาคณิตศาสตร์ เรื่อง เศษส่วน สัญลักษณ์แทนเศษส่วน

คำชี้แจง : ให้นักเรียนเขียนเศษส่วนจากสัญลักษณ์ที่กำหนดให้ต่อไปนี้

931.

แปลงเป็นเศษส่วน เท่ากับ

932.

แปลงเป็นเศษส่วน เท่ากับ

933.

แปลงเป็นเศษส่วน เท่ากับ

934.

แปลงเป็นเศษส่วน เท่ากับ

935.

แปลงเป็นเศษส่วน เท่ากับ



ครูโยย www.ontous.info

ชื่อ-สกุล			
ชั้นเรียน		เลขที่	
คะแนนที่ได้		วันที่	

แบบฝึกวิชาคณิตศาสตร์ เรื่อง เศษส่วน สัญลักษณ์แทนเศษส่วน


คำชี้แจง : ให้นักเรียนเขียนเศษส่วนจากสัญลักษณ์ที่กำหนดให้ต่อไปนี้

936. 


แปลงเป็นเศษส่วน เท่ากับ

937. 

แปลงเป็นเศษส่วน เท่ากับ

938. 

แปลงเป็นเศษส่วน เท่ากับ

939. 

แปลงเป็นเศษส่วน เท่ากับ

940. 

แปลงเป็นเศษส่วน เท่ากับ



ครูโยย www.ontous.info

ชื่อ-สกุล			
ชั้นเรียน		เลขที่	
คะแนนที่ได้		วันที่	

แบบฝึกวิชาคณิตศาสตร์ เรื่อง เศษส่วน สัญลักณ์แทนเศษส่วน

คำชี้แจง : ให้นักเรียนเขียนเศษส่วนจากสัญลักณ์ที่กำหนดให้ต่อไปนี้

941.

แปลงเป็นเศษส่วน เท่ากับ

942.

แปลงเป็นเศษส่วน เท่ากับ

943.

แปลงเป็นเศษส่วน เท่ากับ

944.

แปลงเป็นเศษส่วน เท่ากับ

945.

แปลงเป็นเศษส่วน เท่ากับ



ครูโยย www.ontous.info

ชื่อ-สกุล			
ชั้นเรียน		เลขที่	
คะแนนที่ได้		วันที่	

แบบฝึกวิชาคณิตศาสตร์ เรื่อง เศษส่วน สัญลักษณ์แทนเศษส่วน

คำชี้แจง : ให้นักเรียนเขียนเศษส่วนจากสัญลักษณ์ที่กำหนดให้ต่อไปนี้

946.

แปลงเป็นเศษส่วน เท่ากับ

947.

แปลงเป็นเศษส่วน เท่ากับ

948.

แปลงเป็นเศษส่วน เท่ากับ

949.

แปลงเป็นเศษส่วน เท่ากับ

950.

แปลงเป็นเศษส่วน เท่ากับ



ครูโยย www.ontous.info

ชื่อ-สกุล			
ชั้นเรียน		เลขที่	
คะแนนที่ได้		วันที่	

แบบฝึกวิชาคณิตศาสตร์ เรื่อง เศษส่วน สัญลักษณ์แทนเศษส่วน

คำชี้แจง : ให้นักเรียนเขียนเศษส่วนจากสัญลักษณ์ที่กำหนดให้ต่อไปนี้

951. 

แปลงเป็นเศษส่วน เท่ากับ

952. 

แปลงเป็นเศษส่วน เท่ากับ

953. 

แปลงเป็นเศษส่วน เท่ากับ

954. 

แปลงเป็นเศษส่วน เท่ากับ

955. 

แปลงเป็นเศษส่วน เท่ากับ




ครูโยย www.ontous.info

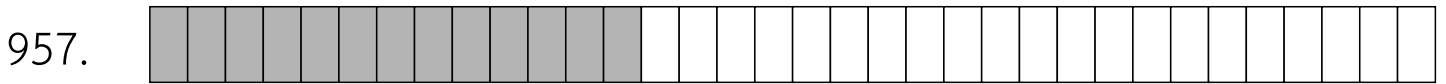
ชื่อ-สกุล			
ชั้นเรียน		เลขที่	
คะแนนที่ได้		วันที่	

แบบฝึกวิชาคณิตศาสตร์ เรื่อง เศษส่วน สัญลักษณ์แทนเศษส่วน

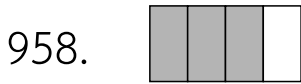
คำชี้แจง : ให้นักเรียนเขียนเศษส่วนจากสัญลักษณ์ที่กำหนดให้ต่อไปนี้




แปลงเป็นเศษส่วน เท่ากับ




แปลงเป็นเศษส่วน เท่ากับ



แปลงเป็นเศษส่วน เท่ากับ



แปลงเป็นเศษส่วน เท่ากับ



แปลงเป็นเศษส่วน เท่ากับ



ครูโยย www.ontous.info

ชื่อ-สกุล			
ชั้นเรียน		เลขที่	
คะแนนที่ได้		วันที่	

แบบฝึกวิชาคณิตศาสตร์ เรื่อง เศษส่วน สัญลักษณ์แทนเศษส่วน

คำชี้แจง : ให้นักเรียนเขียนเศษส่วนจากสัญลักษณ์ที่กำหนดให้ต่อไปนี้

961.

แปลงเป็นเศษส่วน เท่ากับ

962.

แปลงเป็นเศษส่วน เท่ากับ

963.

แปลงเป็นเศษส่วน เท่ากับ

964.

แปลงเป็นเศษส่วน เท่ากับ

965.

แปลงเป็นเศษส่วน เท่ากับ



ครูโยย www.ontous.info

ชื่อ-สกุล			
ชั้นเรียน		เลขที่	
คะแนนที่ได้		วันที่	

แบบฝึกวิชาคณิตศาสตร์ เรื่อง เศษส่วน สัญลักษณ์แทนเศษส่วน


คำชี้แจง : ให้นักเรียนเขียนเศษส่วนจากสัญลักษณ์ที่กำหนดให้ต่อไปนี้



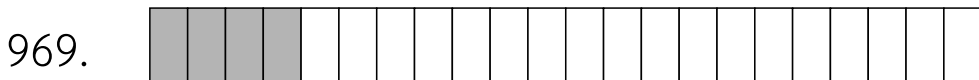
แปลงเป็นเศษส่วน เท่ากับ




แปลงเป็นเศษส่วน เท่ากับ



แปลงเป็นเศษส่วน เท่ากับ



แปลงเป็นเศษส่วน เท่ากับ



แปลงเป็นเศษส่วน เท่ากับ



ครูโยย www.ontous.info

ชื่อ-สกุล			
ชั้นเรียน		เลขที่	
คะแนนที่ได้		วันที่	

แบบฝึกวิชาคณิตศาสตร์ เรื่อง เศษส่วน สัญลักษณ์แทนเศษส่วน


คำชี้แจง : ให้นักเรียนเขียนเศษส่วนจากสัญลักษณ์ที่กำหนดให้ต่อไปนี้

971. 


แปลงเป็นเศษส่วน เท่ากับ

972. 

แปลงเป็นเศษส่วน เท่ากับ

973. 

แปลงเป็นเศษส่วน เท่ากับ

974. 

แปลงเป็นเศษส่วน เท่ากับ

975. 

แปลงเป็นเศษส่วน เท่ากับ



ครูโยย www.ontous.info

ชื่อ-สกุล			
ชั้นเรียน		เลขที่	
คะแนนที่ได้		วันที่	

แบบฝึกวิชาคณิตศาสตร์ เรื่อง เศษส่วน สัญลักษณ์แทนเศษส่วน

คำชี้แจง : ให้นักเรียนเขียนเศษส่วนจากสัญลักษณ์ที่กำหนดให้ต่อไปนี้




แปลงเป็นเศษส่วน เท่ากับ



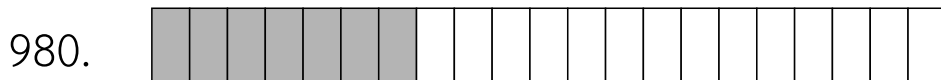
แปลงเป็นเศษส่วน เท่ากับ



แปลงเป็นเศษส่วน เท่ากับ



แปลงเป็นเศษส่วน เท่ากับ



แปลงเป็นเศษส่วน เท่ากับ



ครูโยย www.ontous.info

ชื่อ-สกุล			
ชั้นเรียน		เลขที่	
คะแนนที่ได้		วันที่	

แบบฝึกวิชาคณิตศาสตร์ เรื่อง เศษส่วน สัญลักษณ์แทนเศษส่วน

คำชี้แจง : ให้นักเรียนเขียนเศษส่วนจากสัญลักษณ์ที่กำหนดให้ต่อไปนี้

981.

แปลงเป็นเศษส่วน เท่ากับ

982.

แปลงเป็นเศษส่วน เท่ากับ

983.

แปลงเป็นเศษส่วน เท่ากับ

984.

แปลงเป็นเศษส่วน เท่ากับ

985.

แปลงเป็นเศษส่วน เท่ากับ



ครูโยย www.ontous.info

ชื่อ-สกุล			
ชั้นเรียน		เลขที่	
คะแนนที่ได้		วันที่	

แบบฝึกวิชาคณิตศาสตร์ เรื่อง เศษส่วน สัญลักษณ์แทนเศษส่วน

คำชี้แจง : ให้นักเรียนเขียนเศษส่วนจากสัญลักษณ์ที่กำหนดให้ต่อไปนี้

986. 


แปลงเป็นเศษส่วน เท่ากับ

987. 

แปลงเป็นเศษส่วน เท่ากับ

988. 

แปลงเป็นเศษส่วน เท่ากับ

989. 

แปลงเป็นเศษส่วน เท่ากับ

990. 

แปลงเป็นเศษส่วน เท่ากับ



ครูโยย www.ontous.info


ชื่อ-สกุล			
ชั้นเรียน		เลขที่	
คะแนนที่ได้		วันที่	

แบบฝึกวิชาคณิตศาสตร์ เรื่อง เศษส่วน สัญลักษณ์แทนเศษส่วน

คำชี้แจง : ให้นักเรียนเขียนเศษส่วนจากสัญลักษณ์ที่กำหนดให้ต่อไปนี้

991. 


แปลงเป็นเศษส่วน เท่ากับ

992. 

แปลงเป็นเศษส่วน เท่ากับ

993. 

แปลงเป็นเศษส่วน เท่ากับ

994. 

แปลงเป็นเศษส่วน เท่ากับ

995. 

แปลงเป็นเศษส่วน เท่ากับ



ครูโยย www.ontous.info

ชื่อ-สกุล			
ชั้นเรียน		เลขที่	
คะแนนที่ได้		วันที่	

แบบฝึกวิชาคณิตศาสตร์ เรื่อง เศษส่วน สัญลักษณ์แทนเศษส่วน

คำชี้แจง : ให้นักเรียนเขียนเศษส่วนจากสัญลักษณ์ที่กำหนดให้ต่อไปนี้

996.



แปลงเป็นเศษส่วน เท่ากับ

997.




แปลงเป็นเศษส่วน เท่ากับ

998.




แปลงเป็นเศษส่วน เท่ากับ

999.



แปลงเป็นเศษส่วน เท่ากับ

1,000.



แปลงเป็นเศษส่วน เท่ากับ

เฉลย

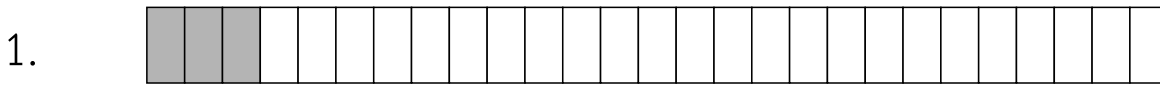


ครูโย www.ontous.info

ชื่อ-สกุล			
ชั้นเรียน		เลขที่	
คะแนนที่ได้		วันที่	

แบบฝึกวิชาคณิตศาสตร์ เรื่อง เศษส่วน สัญลักษณ์แทนเศษส่วน

คำชี้แจง : ให้นักเรียนเขียนเศษส่วนจากสัญลักษณ์ที่กำหนดให้ต่อไปนี้




แปลงเป็นเศษส่วน เท่ากับ

3
27



แปลงเป็นเศษส่วน เท่ากับ

11
17



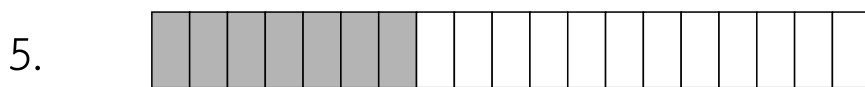
แปลงเป็นเศษส่วน เท่ากับ

4
5



แปลงเป็นเศษส่วน เท่ากับ

5
7



แปลงเป็นเศษส่วน เท่ากับ

7
19



ครู้อย www.ontous.info

ชื่อ-สกุล			
ชั้นเรียน		เลขที่	
คะแนนที่ได้		วันที่	

แบบฝึกวิชาคณิตศาสตร์ เรื่อง เศษส่วน สัญลักษณ์แทนเศษส่วน

คำชี้แจง : ให้นักเรียนเขียนเศษส่วนจากสัญลักษณ์ที่กำหนดให้ต่อไปนี้



แปลงเป็นเศษส่วน เท่ากับ

2
6



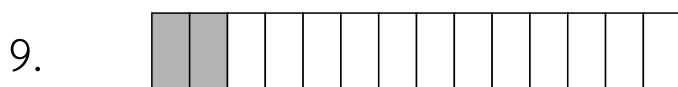
แปลงเป็นเศษส่วน เท่ากับ

2
8



แปลงเป็นเศษส่วน เท่ากับ

20
21



แปลงเป็นเศษส่วน เท่ากับ

2
14



แปลงเป็นเศษส่วน เท่ากับ

2
19



ครูโยย www.ontous.info

ชื่อ-สกุล			
ชั้นเรียน		เลขที่	
คะแนนที่ได้		วันที่	

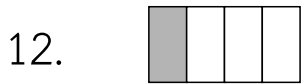
แบบฝึกวิชาคณิตศาสตร์ เรื่อง เศษส่วน สัญลักษณ์แทนเศษส่วน

คำชี้แจง : ให้นักเรียนเขียนเศษส่วนจากสัญลักษณ์ที่กำหนดให้ต่อไปนี้



แปลงเป็นเศษส่วน เท่ากับ

24
32



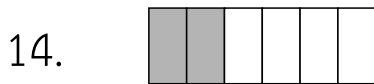
แปลงเป็นเศษส่วน เท่ากับ

1
4



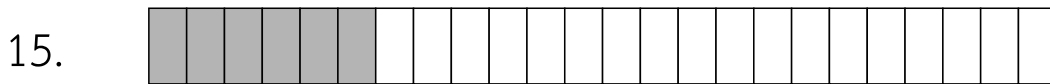
แปลงเป็นเศษส่วน เท่ากับ

9
11



แปลงเป็นเศษส่วน เท่ากับ

2
6



แปลงเป็นเศษส่วน เท่ากับ

6
24



ครูย์ www.ontous.info

ชื่อ-สกุล			
ชั้นเรียน		เลขที่	
คะแนนที่ได้		วันที่	

แบบฝึกวิชาคณิตศาสตร์ เรื่อง เศษส่วน สัญลักษณ์แทนเศษส่วน

คำชี้แจง : ให้นักเรียนเขียนเศษส่วนจากสัญลักษณ์ที่กำหนดให้ต่อไปนี้

16.



แปลงเป็นเศษส่วน เท่ากับ

7
14

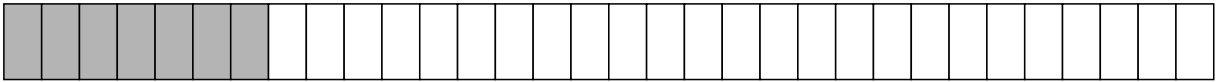
17.



แปลงเป็นเศษส่วน เท่ากับ

25
33


18.



แปลงเป็นเศษส่วน เท่ากับ

7
32

19.



แปลงเป็นเศษส่วน เท่ากับ

8
20

20.



แปลงเป็นเศษส่วน เท่ากับ

1
6



ครูโย www.ontous.info

ชื่อ-สกุล			
ชั้นเรียน		เลขที่	
คะแนนที่ได้		วันที่	

แบบฝึกวิชาคณิตศาสตร์ เรื่อง เศษส่วน สัญลักษณ์แทนเศษส่วน

คำชี้แจง : ให้นักเรียนเขียนเศษส่วนจากสัญลักษณ์ที่กำหนดให้ต่อไปนี้



แปลงเป็นเศษส่วน เท่ากับ

2
10



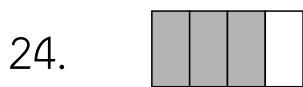
แปลงเป็นเศษส่วน เท่ากับ

10
20



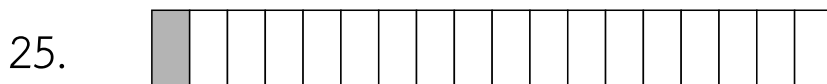
แปลงเป็นเศษส่วน เท่ากับ

3
23



แปลงเป็นเศษส่วน เท่ากับ

3
4



แปลงเป็นเศษส่วน เท่ากับ

1
18



ครูโยย www.ontous.info

ชื่อ-สกุล			
ชั้นเรียน		เลขที่	
คะแนนที่ได้		วันที่	

แบบฝึกวิชาคณิตศาสตร์ เรื่อง เศษส่วน สัญลักษณ์แทนเศษส่วน

คำชี้แจง : ให้นักเรียนเขียนเศษส่วนจากสัญลักษณ์ที่กำหนดให้ต่อไปนี้



แปลงเป็นเศษส่วน เท่ากับ

11
31



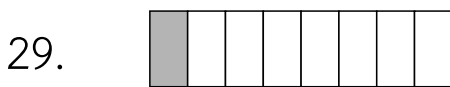
แปลงเป็นเศษส่วน เท่ากับ

27
31




แปลงเป็นเศษส่วน เท่ากับ

8
12



แปลงเป็นเศษส่วน เท่ากับ

1
8



แปลงเป็นเศษส่วน เท่ากับ

22
24



ครูโยย www.ontous.info

ชื่อ-สกุล			
ชั้นเรียน		เลขที่	
คะแนนที่ได้		วันที่	

แบบฝึกวิชาคณิตศาสตร์ เรื่อง เศษส่วน สัญลักษณ์แทนเศษส่วน

คำชี้แจง : ให้นักเรียนเขียนเศษส่วนจากสัญลักษณ์ที่กำหนดให้ต่อไปนี้



แปลงเป็นเศษส่วน เท่ากับ

2
12



แปลงเป็นเศษส่วน เท่ากับ

10
20



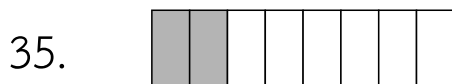
แปลงเป็นเศษส่วน เท่ากับ

11
17



แปลงเป็นเศษส่วน เท่ากับ

3
26



แปลงเป็นเศษส่วน เท่ากับ

2
8



ครูโยย www.ontous.info

ชื่อ-สกุล			
ชั้นเรียน		เลขที่	
คะแนนที่ได้		วันที่	

แบบฝึกวิชาคณิตศาสตร์ เรื่อง เศษส่วน สัญลักษณ์แทนเศษส่วน

คำชี้แจง : ให้นักเรียนเขียนเศษส่วนจากสัญลักษณ์ที่กำหนดให้ต่อไปนี้



แปลงเป็นเศษส่วน เท่ากับ

12
17



แปลงเป็นเศษส่วน เท่ากับ

15
28




แปลงเป็นเศษส่วน เท่ากับ

21
28



แปลงเป็นเศษส่วน เท่ากับ

8
14



แปลงเป็นเศษส่วน เท่ากับ

5
11



ครูโยย www.ontous.info

ชื่อ-สกุล			
ชั้นเรียน		เลขที่	
คะแนนที่ได้		วันที่	

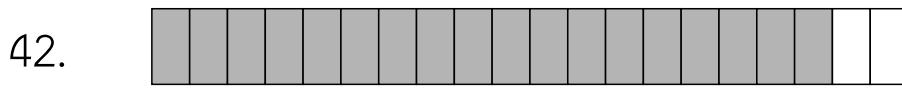
แบบฝึกวิชาคณิตศาสตร์ เรื่อง เศษส่วน สัญลักษณ์แทนเศษส่วน

คำชี้แจง : ให้นักเรียนเขียนเศษส่วนจากสัญลักษณ์ที่กำหนดให้ต่อไปนี้



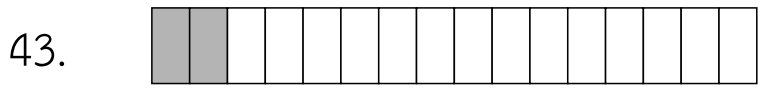
แปลงเป็นเศษส่วน เท่ากับ

12
14



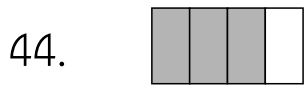
แปลงเป็นเศษส่วน เท่ากับ

18
20



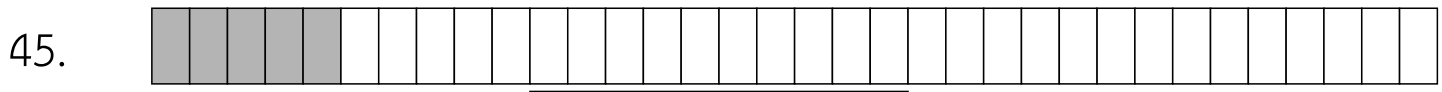
แปลงเป็นเศษส่วน เท่ากับ

2
16



แปลงเป็นเศษส่วน เท่ากับ

3
4



แปลงเป็นเศษส่วน เท่ากับ

5
34



ครูย์ www.ontous.info

ชื่อ-สกุล			
ชั้นเรียน		เลขที่	
คะแนนที่ได้		วันที่	

แบบฝึกวิชาคณิตศาสตร์ เรื่อง เศษส่วน สัญลักษณ์แทนเศษส่วน

คำชี้แจง : ให้นักเรียนเขียนเศษส่วนจากสัญลักษณ์ที่กำหนดให้ต่อไปนี้



แปลงเป็นเศษส่วน เท่ากับ

13
26



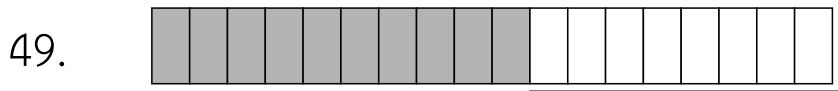
แปลงเป็นเศษส่วน เท่ากับ

20
25



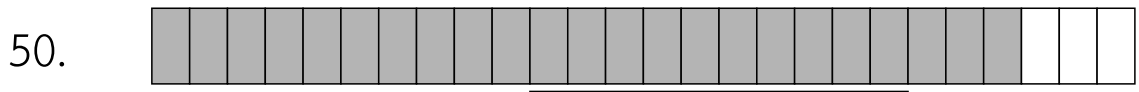
แปลงเป็นเศษส่วน เท่ากับ

5
29



แปลงเป็นเศษส่วน เท่ากับ

10
18



แปลงเป็นเศษส่วน เท่ากับ

23
26



ครูโยย www.ontous.info

ชื่อ-สกุล			
ชั้นเรียน		เลขที่	
คะแนนที่ได้		วันที่	

แบบฝึกวิชาคณิตศาสตร์ เรื่อง เศษส่วน สัญลักษณ์แทนเศษส่วน

คำชี้แจง : ให้นักเรียนเขียนเศษส่วนจากสัญลักษณ์ที่กำหนดให้ต่อไปนี้



แปลงเป็นเศษส่วน เท่ากับ

9
11




แปลงเป็นเศษส่วน เท่ากับ

1
11




แปลงเป็นเศษส่วน เท่ากับ

18
28



แปลงเป็นเศษส่วน เท่ากับ

20
23



แปลงเป็นเศษส่วน เท่ากับ

30
33



ครูย์ www.ontous.info

ชื่อ-สกุล			
ชั้นเรียน		เลขที่	
คะแนนที่ได้		วันที่	

แบบฝึกวิชาคณิตศาสตร์ เรื่อง เศษส่วน สัญลักษณ์แทนเศษส่วน

คำชี้แจง : ให้นักเรียนเขียนเศษส่วนจากสัญลักษณ์ที่กำหนดให้ต่อไปนี้



แปลงเป็นเศษส่วน เท่ากับ

13
22




แปลงเป็นเศษส่วน เท่ากับ

5
10



แปลงเป็นเศษส่วน เท่ากับ

6
11



แปลงเป็นเศษส่วน เท่ากับ

2
5



แปลงเป็นเศษส่วน เท่ากับ

20
30



ครูโยย www.ontous.info

ชื่อ-สกุล			
ชั้นเรียน		เลขที่	
คะแนนที่ได้		วันที่	

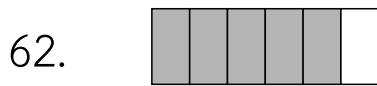
แบบฝึกวิชาคณิตศาสตร์ เรื่อง เศษส่วน สัญลักษณ์แทนเศษส่วน

คำชี้แจง : ให้นักเรียนเขียนเศษส่วนจากสัญลักษณ์ที่กำหนดให้ต่อไปนี้



แปลงเป็นเศษส่วน เท่ากับ

21
33




แปลงเป็นเศษส่วน เท่ากับ

5
6




แปลงเป็นเศษส่วน เท่ากับ

10
11



แปลงเป็นเศษส่วน เท่ากับ

16
21



แปลงเป็นเศษส่วน เท่ากับ

29
33




ครูโยย www.ontous.info

ชื่อ-สกุล			
ชั้นเรียน		เลขที่	
คะแนนที่ได้		วันที่	

แบบฝึกวิชาคณิตศาสตร์ เรื่อง เศษส่วน สัญลักษณ์แทนเศษส่วน

คำชี้แจง : ให้นักเรียนเขียนเศษส่วนจากสัญลักษณ์ที่กำหนดให้ต่อไปนี้



แปลงเป็นเศษส่วน เท่ากับ

1
29




แปลงเป็นเศษส่วน เท่ากับ

30
32



แปลงเป็นเศษส่วน เท่ากับ

6
9



แปลงเป็นเศษส่วน เท่ากับ

1
7



แปลงเป็นเศษส่วน เท่ากับ

2
35




ครูโยย www.ontous.info

ชื่อ-สกุล			
ชั้นเรียน		เลขที่	
คะแนนที่ได้		วันที่	

แบบฝึกวิชาคณิตศาสตร์ เรื่อง เศษส่วน สัญลักษณ์แทนเศษส่วน

คำชี้แจง : ให้นักเรียนเขียนเศษส่วนจากสัญลักษณ์ที่กำหนดให้ต่อไปนี้



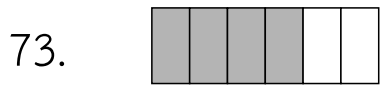
แปลงเป็นเศษส่วน เท่ากับ

5
21



แปลงเป็นเศษส่วน เท่ากับ

3
17



แปลงเป็นเศษส่วน เท่ากับ

4
6



แปลงเป็นเศษส่วน เท่ากับ

10
27



แปลงเป็นเศษส่วน เท่ากับ

4
29



ครูโยย www.ontous.info

ชื่อ-สกุล			
ชั้นเรียน		เลขที่	
คะแนนที่ได้		วันที่	

แบบฝึกวิชาคณิตศาสตร์ เรื่อง เศษส่วน สัญลักษณ์แทนเศษส่วน

คำชี้แจง : ให้นักเรียนเขียนเศษส่วนจากสัญลักษณ์ที่กำหนดให้ต่อไปนี้



แปลงเป็นเศษส่วน เท่ากับ

23
28



แปลงเป็นเศษส่วน เท่ากับ

22
30



แปลงเป็นเศษส่วน เท่ากับ

10
25



แปลงเป็นเศษส่วน เท่ากับ

18
31



แปลงเป็นเศษส่วน เท่ากับ

16
22



ครู้อย www.ontous.info

ชื่อ-สกุล			
ชั้นเรียน		เลขที่	
คะแนนที่ได้		วันที่	

แบบฝึกวิชาคณิตศาสตร์ เรื่อง เศษส่วน สัญลักษณ์แทนเศษส่วน

คำชี้แจง : ให้นักเรียนเขียนเศษส่วนจากสัญลักษณ์ที่กำหนดให้ต่อไปนี้



แปลงเป็นเศษส่วน เท่ากับ

10
20



แปลงเป็นเศษส่วน เท่ากับ

4
21



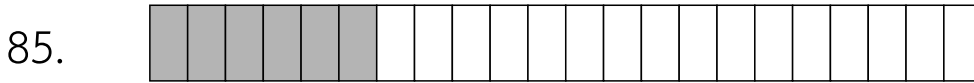
แปลงเป็นเศษส่วน เท่ากับ

1
7



แปลงเป็นเศษส่วน เท่ากับ

19
25



แปลงเป็นเศษส่วน เท่ากับ

6
22



ครูโยย www.ontous.info

ชื่อ-สกุล			
ชั้นเรียน		เลขที่	
คะแนนที่ได้		วันที่	

แบบฝึกวิชาคณิตศาสตร์ เรื่อง เศษส่วน สัญลักษณ์แทนเศษส่วน

คำชี้แจง : ให้นักเรียนเขียนเศษส่วนจากสัญลักษณ์ที่กำหนดให้ต่อไปนี้

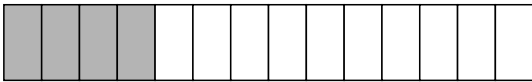
86.



แปลงเป็นเศษส่วน เท่ากับ

4
6

87.



แปลงเป็นเศษส่วน เท่ากับ

4
14

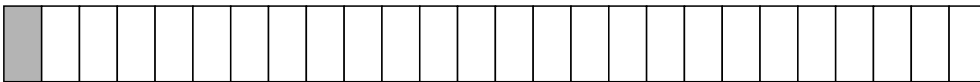
88.



แปลงเป็นเศษส่วน เท่ากับ

5
15


89.



แปลงเป็นเศษส่วน เท่ากับ

1
26

90.



แปลงเป็นเศษส่วน เท่ากับ

8
12



ครูโยย www.ontous.info

ชื่อ-สกุล			
ชั้นเรียน		เลขที่	
คะแนนที่ได้		วันที่	

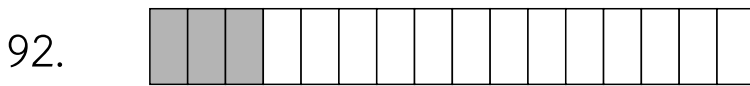
แบบฝึกวิชาคณิตศาสตร์ เรื่อง เศษส่วน สัญลักษณ์แทนเศษส่วน

คำชี้แจง : ให้นักเรียนเขียนเศษส่วนจากสัญลักษณ์ที่กำหนดให้ต่อไปนี้



แปลงเป็นเศษส่วน เท่ากับ

18
25



แปลงเป็นเศษส่วน เท่ากับ

3
16



แปลงเป็นเศษส่วน เท่ากับ

1
3



แปลงเป็นเศษส่วน เท่ากับ

19
24



แปลงเป็นเศษส่วน เท่ากับ

29
31



ครูโยย www.ontous.info

ชื่อ-สกุล			
ชั้นเรียน		เลขที่	
คะแนนที่ได้		วันที่	

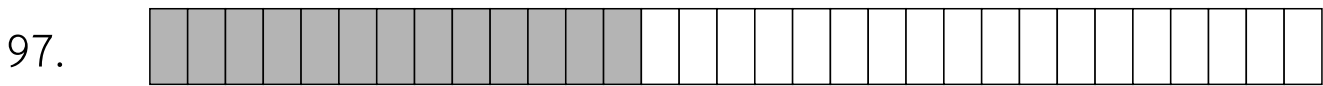
แบบฝึกวิชาคณิตศาสตร์ เรื่อง เศษส่วน สัญลักษณ์แทนเศษส่วน

คำชี้แจง : ให้นักเรียนเขียนเศษส่วนจากสัญลักษณ์ที่กำหนดให้ต่อไปนี้



แปลงเป็นเศษส่วน เท่ากับ

12
20



แปลงเป็นเศษส่วน เท่ากับ

13
31




แปลงเป็นเศษส่วน เท่ากับ

6
27



แปลงเป็นเศษส่วน เท่ากับ

14
19



แปลงเป็นเศษส่วน เท่ากับ

11
24

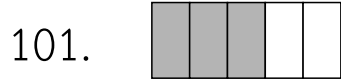


ครูโยย www.ontous.info

ชื่อ-สกุล			
ชั้นเรียน		เลขที่	
คะแนนที่ได้		วันที่	

แบบฝึกวิชาคณิตศาสตร์ เรื่อง เศษส่วน สัญลักษณ์แทนเศษส่วน

คำชี้แจง : ให้นักเรียนเขียนเศษส่วนจากสัญลักษณ์ที่กำหนดให้ต่อไปนี้



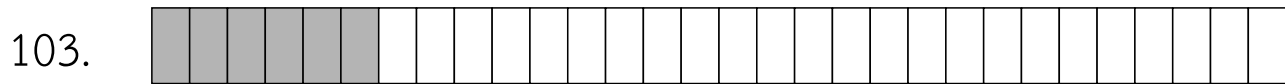
แปลงเป็นเศษส่วน เท่ากับ

3
5



แปลงเป็นเศษส่วน เท่ากับ

11
19



แปลงเป็นเศษส่วน เท่ากับ

6
30



แปลงเป็นเศษส่วน เท่ากับ

2
20



แปลงเป็นเศษส่วน เท่ากับ

1
11



ครูโยย www.ontous.info

ชื่อ-สกุล			
ชั้นเรียน		เลขที่	
คะแนนที่ได้		วันที่	

แบบฝึกวิชาคณิตศาสตร์ เรื่อง เศษส่วน สัญลักษณ์แทนเศษส่วน

คำชี้แจง : ให้นักเรียนเขียนเศษส่วนจากสัญลักษณ์ที่กำหนดให้ต่อไปนี้

106.



แปลงเป็นเศษส่วน เท่ากับ

21
32

107.



แปลงเป็นเศษส่วน เท่ากับ

31
35


108.



แปลงเป็นเศษส่วน เท่ากับ

17
23


109.



แปลงเป็นเศษส่วน เท่ากับ

12
25

110.



แปลงเป็นเศษส่วน เท่ากับ

5
8



ครูโยย www.ontous.info

ชื่อ-สกุล			
ชั้นเรียน		เลขที่	
คะแนนที่ได้		วันที่	

แบบฝึกวิชาคณิตศาสตร์ เรื่อง เศษส่วน สัญลักษณ์แทนเศษส่วน

คำชี้แจง : ให้นักเรียนเขียนเศษส่วนจากสัญลักษณ์ที่กำหนดให้ต่อไปนี้

111.



แปลงเป็นเศษส่วน เท่ากับ

15
32

112.



แปลงเป็นเศษส่วน เท่ากับ

2
3

113.



แปลงเป็นเศษส่วน เท่ากับ

19
32

114.



แปลงเป็นเศษส่วน เท่ากับ

6
8

115.



แปลงเป็นเศษส่วน เท่ากับ

21
26



ครูโยย www.ontous.info

ชื่อ-สกุล			
ชั้นเรียน		เลขที่	
คะแนนที่ได้		วันที่	

แบบฝึกวิชาคณิตศาสตร์ เรื่อง เศษส่วน สัญลักษณ์แทนเศษส่วน

คำชี้แจง : ให้นักเรียนเขียนเศษส่วนจากสัญลักษณ์ที่กำหนดให้ต่อไปนี้

116.



แปลงเป็นเศษส่วน เท่ากับ

14
18

117.



แปลงเป็นเศษส่วน เท่ากับ

8
17


118.



แปลงเป็นเศษส่วน เท่ากับ

2
23

119.



แปลงเป็นเศษส่วน เท่ากับ

16
22

120.



แปลงเป็นเศษส่วน เท่ากับ

25
28



ครูโยย www.ontous.info

ชื่อ-สกุล			
ชั้นเรียน		เลขที่	
คะแนนที่ได้		วันที่	

แบบฝึกวิชาคณิตศาสตร์ เรื่อง เศษส่วน สัญลักษณ์แทนเศษส่วน

คำชี้แจง : ให้นักเรียนเขียนเศษส่วนจากสัญลักษณ์ที่กำหนดให้ต่อไปนี้

121.



แปลงเป็นเศษส่วน เท่ากับ

5
10

122.



แปลงเป็นเศษส่วน เท่ากับ

8
20

123.



แปลงเป็นเศษส่วน เท่ากับ

3
10


124.



แปลงเป็นเศษส่วน เท่ากับ

3
30

125.



แปลงเป็นเศษส่วน เท่ากับ

4
5



ครูโยย www.ontous.info

ชื่อ-สกุล			
ชั้นเรียน		เลขที่	
คะแนนที่ได้		วันที่	

แบบฝึกวิชาคณิตศาสตร์ เรื่อง เศษส่วน สัญลักษณ์แทนเศษส่วน

คำชี้แจง : ให้นักเรียนเขียนเศษส่วนจากสัญลักษณ์ที่กำหนดให้ต่อไปนี้

126.



แปลงเป็นเศษส่วน เท่ากับ

10
15

127.



แปลงเป็นเศษส่วน เท่ากับ

4
5

128.



แปลงเป็นเศษส่วน เท่ากับ

8
16

129.



แปลงเป็นเศษส่วน เท่ากับ

3
10

130.



แปลงเป็นเศษส่วน เท่ากับ

10
18



ครูโยย www.ontous.info

ชื่อ-สกุล			
ชั้นเรียน		เลขที่	
คะแนนที่ได้		วันที่	

แบบฝึกวิชาคณิตศาสตร์ เรื่อง เศษส่วน สัญลักษณ์แทนเศษส่วน

คำชี้แจง : ให้นักเรียนเขียนเศษส่วนจากสัญลักษณ์ที่กำหนดให้ต่อไปนี้

131.



แปลงเป็นเศษส่วน เท่ากับ

1
5

132.



แปลงเป็นเศษส่วน เท่ากับ

12
25

133.



แปลงเป็นเศษส่วน เท่ากับ

4
5

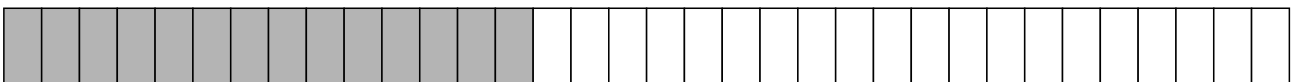
134.



แปลงเป็นเศษส่วน เท่ากับ

6
21

135.



แปลงเป็นเศษส่วน เท่ากับ

14
34



ครูโยย www.ontous.info

ชื่อ-สกุล			
ชั้นเรียน		เลขที่	
คะแนนที่ได้		วันที่	

แบบฝึกวิชาคณิตศาสตร์ เรื่อง เศษส่วน สัญลักษณ์แทนเศษส่วน

คำชี้แจง : ให้นักเรียนเขียนเศษส่วนจากสัญลักษณ์ที่กำหนดให้ต่อไปนี้

136.



แปลงเป็นเศษส่วน เท่ากับ

1
22

137.



แปลงเป็นเศษส่วน เท่ากับ

1
5

138.



แปลงเป็นเศษส่วน เท่ากับ

29
31


139.



แปลงเป็นเศษส่วน เท่ากับ

1
4

140.



แปลงเป็นเศษส่วน เท่ากับ

3
22



ครูโยย www.ontous.info

ชื่อ-สกุล			
ชั้นเรียน		เลขที่	
คะแนนที่ได้		วันที่	

แบบฝึกวิชาคณิตศาสตร์ เรื่อง เศษส่วน สัญลักษณ์แทนเศษส่วน

คำชี้แจง : ให้นักเรียนเขียนเศษส่วนจากสัญลักษณ์ที่กำหนดให้ต่อไปนี้

141.



แปลงเป็นเศษส่วน เท่ากับ

16
27

142.



แปลงเป็นเศษส่วน เท่ากับ

3
8


143.



แปลงเป็นเศษส่วน เท่ากับ

9
10

144.



แปลงเป็นเศษส่วน เท่ากับ

6
24

145.



แปลงเป็นเศษส่วน เท่ากับ

24
28



ครูโยย www.ontous.info

ชื่อ-สกุล			
ชั้นเรียน		เลขที่	
คะแนนที่ได้		วันที่	

แบบฝึกวิชาคณิตศาสตร์ เรื่อง เศษส่วน สัญลักษณ์แทนเศษส่วน

คำชี้แจง : ให้นักเรียนเขียนเศษส่วนจากสัญลักษณ์ที่กำหนดให้ต่อไปนี้

146.



แปลงเป็นเศษส่วน เท่ากับ

6
7

147.



แปลงเป็นเศษส่วน เท่ากับ

23
35

148.



แปลงเป็นเศษส่วน เท่ากับ

6
7

149.



แปลงเป็นเศษส่วน เท่ากับ

3
4

150.



แปลงเป็นเศษส่วน เท่ากับ

4
6



ครูโยย www.ontous.info

ชื่อ-สกุล			
ชั้นเรียน		เลขที่	
คะแนนที่ได้		วันที่	

แบบฝึกวิชาคณิตศาสตร์ เรื่อง เศษส่วน สัญลักษณ์แทนเศษส่วน

คำชี้แจง : ให้นักเรียนเขียนเศษส่วนจากสัญลักษณ์ที่กำหนดให้ต่อไปนี้


151.



แปลงเป็นเศษส่วน เท่ากับ

6
9

152.



แปลงเป็นเศษส่วน เท่ากับ

3
10


153.



แปลงเป็นเศษส่วน เท่ากับ

25
27


154.



แปลงเป็นเศษส่วน เท่ากับ

10
12

155.



แปลงเป็นเศษส่วน เท่ากับ

6
16



ครูโยย www.ontous.info

ชื่อ-สกุล			
ชั้นเรียน		เลขที่	
คะแนนที่ได้		วันที่	

แบบฝึกวิชาคณิตศาสตร์ เรื่อง เศษส่วน สัญลักษณ์แทนเศษส่วน

คำชี้แจง : ให้นักเรียนเขียนเศษส่วนจากสัญลักษณ์ที่กำหนดให้ต่อไปนี้

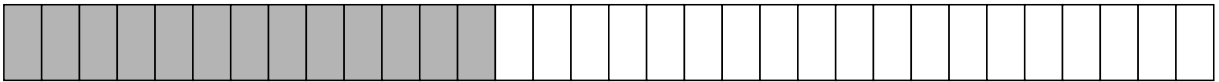
156.



แปลงเป็นเศษส่วน เท่ากับ

1
6

157.



แปลงเป็นเศษส่วน เท่ากับ

13
32

158.



แปลงเป็นเศษส่วน เท่ากับ

2
11


159.



แปลงเป็นเศษส่วน เท่ากับ

20
25

160.



แปลงเป็นเศษส่วน เท่ากับ

17
30



ครู้อย www.ontous.info

ชื่อ-สกุล			
ชั้นเรียน		เลขที่	
คะแนนที่ได้		วันที่	

แบบฝึกวิชาคณิตศาสตร์ เรื่อง เศษส่วน สัญลักษณ์แทนเศษส่วน

คำชี้แจง : ให้นักเรียนเขียนเศษส่วนจากสัญลักษณ์ที่กำหนดให้ต่อไปนี้

161.



แปลงเป็นเศษส่วน เท่ากับ

9
10

162.



แปลงเป็นเศษส่วน เท่ากับ

5
16

163.



แปลงเป็นเศษส่วน เท่ากับ

9
16


164.



แปลงเป็นเศษส่วน เท่ากับ

5
6

165.



แปลงเป็นเศษส่วน เท่ากับ

19
21



ครูโยย www.ontous.info

ชื่อ-สกุล			
ชั้นเรียน		เลขที่	
คะแนนที่ได้		วันที่	

แบบฝึกวิชาคณิตศาสตร์ เรื่อง เศษส่วน สัญลักษณ์แทนเศษส่วน

คำชี้แจง : ให้นักเรียนเขียนเศษส่วนจากสัญลักษณ์ที่กำหนดให้ต่อไปนี้

166.



แปลงเป็นเศษส่วน เท่ากับ

8
24

167.



แปลงเป็นเศษส่วน เท่ากับ

3
8

168.



แปลงเป็นเศษส่วน เท่ากับ

7
15

169.



แปลงเป็นเศษส่วน เท่ากับ

3
4

170.



แปลงเป็นเศษส่วน เท่ากับ

1
5



ครูโยย www.ontous.info

ชื่อ-สกุล			
ชั้นเรียน		เลขที่	
คะแนนที่ได้		วันที่	

แบบฝึกวิชาคณิตศาสตร์ เรื่อง เศษส่วน สัญลักษณ์แทนเศษส่วน

คำชี้แจง : ให้นักเรียนเขียนเศษส่วนจากสัญลักษณ์ที่กำหนดให้ต่อไปนี้

171.



แปลงเป็นเศษส่วน เท่ากับ

14
31

172.



แปลงเป็นเศษส่วน เท่ากับ

2
5

173.



แปลงเป็นเศษส่วน เท่ากับ

11
25


174.



แปลงเป็นเศษส่วน เท่ากับ

17
26

175.



แปลงเป็นเศษส่วน เท่ากับ

3
7



ครูโยย www.ontous.info

ชื่อ-สกุล			
ชั้นเรียน		เลขที่	
คะแนนที่ได้		วันที่	

แบบฝึกวิชาคณิตศาสตร์ เรื่อง เศษส่วน สัญลักษณ์แทนเศษส่วน

คำชี้แจง : ให้นักเรียนเขียนเศษส่วนจากสัญลักษณ์ที่กำหนดให้ต่อไปนี้

176.



แปลงเป็นเศษส่วน เท่ากับ

21
24

177.



แปลงเป็นเศษส่วน เท่ากับ

23
35

178.



แปลงเป็นเศษส่วน เท่ากับ

3
21


179.



แปลงเป็นเศษส่วน เท่ากับ

3
13

180.



แปลงเป็นเศษส่วน เท่ากับ

12
13



ครูโยย www.ontous.info

ชื่อ-สกุล			
ชั้นเรียน		เลขที่	
คะแนนที่ได้		วันที่	

แบบฝึกวิชาคณิตศาสตร์ เรื่อง เศษส่วน สัญลักษณ์แทนเศษส่วน

คำชี้แจง : ให้นักเรียนเขียนเศษส่วนจากสัญลักษณ์ที่กำหนดให้ต่อไปนี้

181.



แปลงเป็นเศษส่วน เท่ากับ

13
31

182.



แปลงเป็นเศษส่วน เท่ากับ

14
17

183.



แปลงเป็นเศษส่วน เท่ากับ

10
15


184.



แปลงเป็นเศษส่วน เท่ากับ

7
12

185.



แปลงเป็นเศษส่วน เท่ากับ

5
11



ครูโยย www.ontous.info

ชื่อ-สกุล			
ชั้นเรียน		เลขที่	
คะแนนที่ได้		วันที่	

แบบฝึกวิชาคณิตศาสตร์ เรื่อง เศษส่วน สัญลักษณ์แทนเศษส่วน

คำชี้แจง : ให้นักเรียนเขียนเศษส่วนจากสัญลักษณ์ที่กำหนดให้ต่อไปนี้

186.



แปลงเป็นเศษส่วน เท่ากับ

4
26

187.



แปลงเป็นเศษส่วน เท่ากับ

1
4

188.



แปลงเป็นเศษส่วน เท่ากับ

4
13

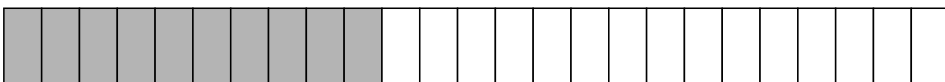
189.



แปลงเป็นเศษส่วน เท่ากับ

16
18

190.



แปลงเป็นเศษส่วน เท่ากับ

10
25



ครูโยย www.ontous.info

ชื่อ-สกุล			
ชั้นเรียน		เลขที่	
คะแนนที่ได้		วันที่	

แบบฝึกวิชาคณิตศาสตร์ เรื่อง เศษส่วน สัญลักณ์แทนเศษส่วน

คำชี้แจง : ให้นักเรียนเขียนเศษส่วนจากสัญลักณ์ที่กำหนดให้ต่อไปนี้

191.



แปลงเป็นเศษส่วน เท่ากับ

1
6

192.



แปลงเป็นเศษส่วน เท่ากับ

13
35

193.



แปลงเป็นเศษส่วน เท่ากับ

2
4

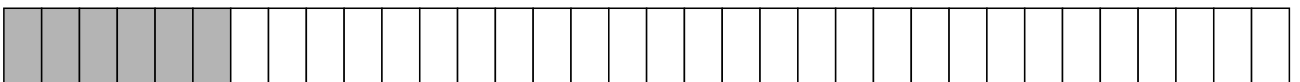
194.



แปลงเป็นเศษส่วน เท่ากับ

11
13

195.



แปลงเป็นเศษส่วน เท่ากับ

6
34



ครูโยย www.ontous.info

ชื่อ-สกุล			
ชั้นเรียน		เลขที่	
คะแนนที่ได้		วันที่	

แบบฝึกวิชาคณิตศาสตร์ เรื่อง เศษส่วน สัญลักษณ์แทนเศษส่วน

คำชี้แจง : ให้นักเรียนเขียนเศษส่วนจากสัญลักษณ์ที่กำหนดให้ต่อไปนี้

196.



แปลงเป็นเศษส่วน เท่ากับ

13
17

197.



แปลงเป็นเศษส่วน เท่ากับ

9
11

198.



แปลงเป็นเศษส่วน เท่ากับ

2
26

199.



แปลงเป็นเศษส่วน เท่ากับ

15
30

200.



แปลงเป็นเศษส่วน เท่ากับ

7
8




ครูโยย www.ontous.info

ชื่อ-สกุล			
ชั้นเรียน		เลขที่	
คะแนนที่ได้		วันที่	

แบบฝึกวิชาคณิตศาสตร์ เรื่อง เศษส่วน สัญลักษณ์แทนเศษส่วน

คำชี้แจง : ให้นักเรียนเขียนเศษส่วนจากสัญลักษณ์ที่กำหนดให้ต่อไปนี้

201.



แปลงเป็นเศษส่วน เท่ากับ

6
12

202.



แปลงเป็นเศษส่วน เท่ากับ

9
16


203.



แปลงเป็นเศษส่วน เท่ากับ

5
19

204.



แปลงเป็นเศษส่วน เท่ากับ

1
10

205.



แปลงเป็นเศษส่วน เท่ากับ

6
8



ครูโยย www.ontous.info

ชื่อ-สกุล			
ชั้นเรียน		เลขที่	
คะแนนที่ได้		วันที่	

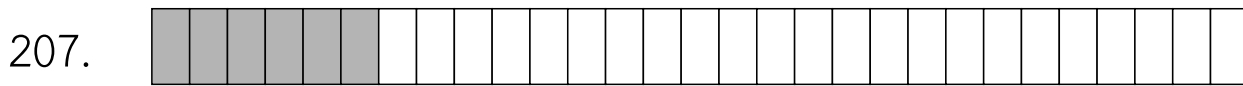
แบบฝึกวิชาคณิตศาสตร์ เรื่อง เศษส่วน สัญลักษณ์แทนเศษส่วน

คำชี้แจง : ให้นักเรียนเขียนเศษส่วนจากสัญลักษณ์ที่กำหนดให้ต่อไปนี้




แปลงเป็นเศษส่วน เท่ากับ

2
13



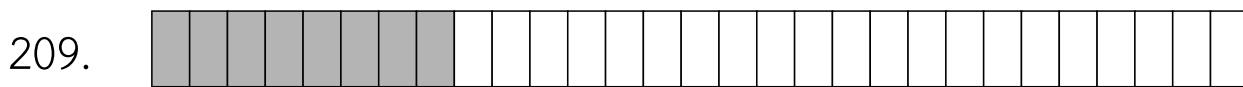
แปลงเป็นเศษส่วน เท่ากับ

6
29



แปลงเป็นเศษส่วน เท่ากับ

3
4



แปลงเป็นเศษส่วน เท่ากับ

8
29



แปลงเป็นเศษส่วน เท่ากับ

1
4



ครูโย www.ontous.info

ชื่อ-สกุล			
ชั้นเรียน		เลขที่	
คะแนนที่ได้		วันที่	

แบบฝึกวิชาคณิตศาสตร์ เรื่อง เศษส่วน สัญลักษณ์แทนเศษส่วน

คำชี้แจง : ให้นักเรียนเขียนเศษส่วนจากสัญลักษณ์ที่กำหนดให้ต่อไปนี้



แปลงเป็นเศษส่วน เท่ากับ

4
31



แปลงเป็นเศษส่วน เท่ากับ

16
31



แปลงเป็นเศษส่วน เท่ากับ

28
31



แปลงเป็นเศษส่วน เท่ากับ

11
13



แปลงเป็นเศษส่วน เท่ากับ

25
31



ครูโยย www.ontous.info

ชื่อ-สกุล			
ชั้นเรียน		เลขที่	
คะแนนที่ได้		วันที่	

แบบฝึกวิชาคณิตศาสตร์ เรื่อง เศษส่วน สัญลักษณ์แทนเศษส่วน

คำชี้แจง : ให้นักเรียนเขียนเศษส่วนจากสัญลักษณ์ที่กำหนดให้ต่อไปนี้



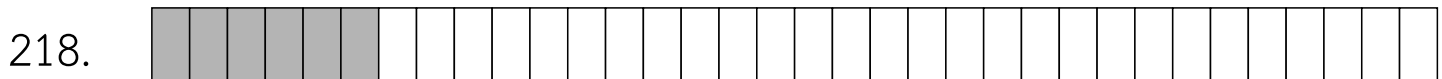
แปลงเป็นเศษส่วน เท่ากับ

10
20




แปลงเป็นเศษส่วน เท่ากับ

26
33



แปลงเป็นเศษส่วน เท่ากับ

6
34



แปลงเป็นเศษส่วน เท่ากับ

22
27



แปลงเป็นเศษส่วน เท่ากับ

22
24



ครูโยย www.ontous.info

ชื่อ-สกุล			
ชั้นเรียน		เลขที่	
คะแนนที่ได้		วันที่	

แบบฝึกวิชาคณิตศาสตร์ เรื่อง เศษส่วน สัญลักษณ์แทนเศษส่วน

คำชี้แจง : ให้นักเรียนเขียนเศษส่วนจากสัญลักษณ์ที่กำหนดให้ต่อไปนี้

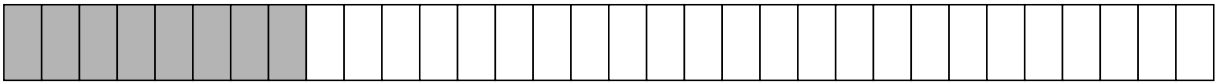
221.



แปลงเป็นเศษส่วน เท่ากับ

2
11

222.



แปลงเป็นเศษส่วน เท่ากับ

8
32

223.



แปลงเป็นเศษส่วน เท่ากับ

3
20

224.



แปลงเป็นเศษส่วน เท่ากับ

5
16

225.



แปลงเป็นเศษส่วน เท่ากับ

15
18



ครูโยย www.ontous.info

ชื่อ-สกุล			
ชั้นเรียน		เลขที่	
คะแนนที่ได้		วันที่	


แบบฝึกวิชาคณิตศาสตร์ เรื่อง เศษส่วน สัญลักษณ์แทนเศษส่วน

คำชี้แจง : ให้นักเรียนเขียนเศษส่วนจากสัญลักษณ์ที่กำหนดให้ต่อไปนี้



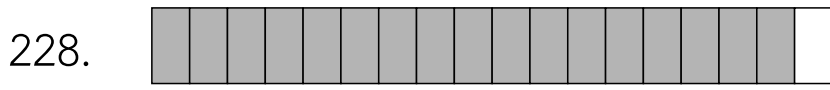
แปลงเป็นเศษส่วน เท่ากับ

16
20



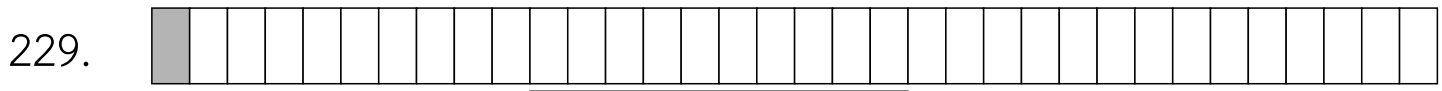
แปลงเป็นเศษส่วน เท่ากับ

3
8



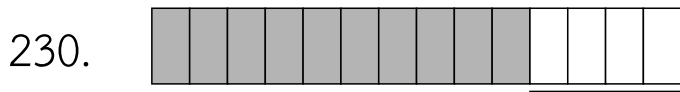
แปลงเป็นเศษส่วน เท่ากับ

17
18



แปลงเป็นเศษส่วน เท่ากับ

1
34



แปลงเป็นเศษส่วน เท่ากับ

10
14



ครูโยย www.ontous.info

ชื่อ-สกุล			
ชั้นเรียน		เลขที่	
คะแนนที่ได้		วันที่	

แบบฝึกวิชาคณิตศาสตร์ เรื่อง เศษส่วน สัญลักษณ์แทนเศษส่วน

คำชี้แจง : ให้นักเรียนเขียนเศษส่วนจากสัญลักษณ์ที่กำหนดให้ต่อไปนี้



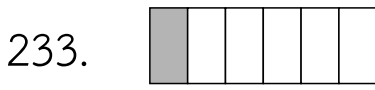
แปลงเป็นเศษส่วน เท่ากับ

9
18



แปลงเป็นเศษส่วน เท่ากับ

3
4



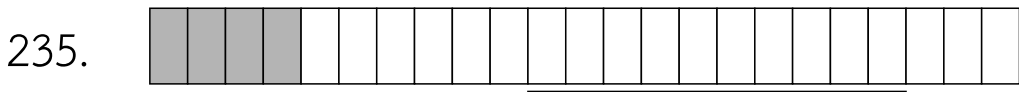
แปลงเป็นเศษส่วน เท่ากับ

1
6



แปลงเป็นเศษส่วน เท่ากับ

22
34



แปลงเป็นเศษส่วน เท่ากับ

4
23



ครูโยย www.ontous.info

ชื่อ-สกุล			
ชั้นเรียน		เลขที่	
คะแนนที่ได้		วันที่	

แบบฝึกวิชาคณิตศาสตร์ เรื่อง เศษส่วน สัญลักษณ์แทนเศษส่วน

คำชี้แจง : ให้นักเรียนเขียนเศษส่วนจากสัญลักษณ์ที่กำหนดให้ต่อไปนี้

236.



แปลงเป็นเศษส่วน เท่ากับ

7
8

237.



แปลงเป็นเศษส่วน เท่ากับ

1
3

238.



แปลงเป็นเศษส่วน เท่ากับ

7
15

239.



แปลงเป็นเศษส่วน เท่ากับ

1
26

240.



แปลงเป็นเศษส่วน เท่ากับ

1
5



ครู้อย www.ontous.info

ชื่อ-สกุล			
ชั้นเรียน		เลขที่	
คะแนนที่ได้		วันที่	

แบบฝึกวิชาคณิตศาสตร์ เรื่อง เศษส่วน สัญลักษณ์แทนเศษส่วน

คำชี้แจง : ให้นักเรียนเขียนเศษส่วนจากสัญลักษณ์ที่กำหนดให้ต่อไปนี้



แปลงเป็นเศษส่วน เท่ากับ

8
29



แปลงเป็นเศษส่วน เท่ากับ

9
21



แปลงเป็นเศษส่วน เท่ากับ

2
3



แปลงเป็นเศษส่วน เท่ากับ

4
27



แปลงเป็นเศษส่วน เท่ากับ

20
26



ครูโยย www.ontous.info

ชื่อ-สกุล			
ชั้นเรียน		เลขที่	
คะแนนที่ได้		วันที่	


แบบฝึกวิชาคณิตศาสตร์ เรื่อง เศษส่วน สัญลักษณ์แทนเศษส่วน

คำชี้แจง : ให้นักเรียนเขียนเศษส่วนจากสัญลักษณ์ที่กำหนดให้ต่อไปนี้



แปลงเป็นเศษส่วน เท่ากับ

19
32



แปลงเป็นเศษส่วน เท่ากับ

2
9



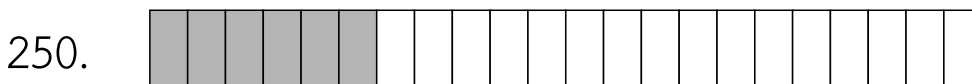
แปลงเป็นเศษส่วน เท่ากับ

2
27



แปลงเป็นเศษส่วน เท่ากับ

12
18



แปลงเป็นเศษส่วน เท่ากับ

6
22



ครูโยย www.ontous.info

ชื่อ-สกุล			
ชั้นเรียน		เลขที่	
คะแนนที่ได้		วันที่	

แบบฝึกวิชาคณิตศาสตร์ เรื่อง เศษส่วน สัญลักษณ์แทนเศษส่วน

คำชี้แจง : ให้นักเรียนเขียนเศษส่วนจากสัญลักษณ์ที่กำหนดให้ต่อไปนี้



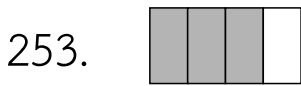
แปลงเป็นเศษส่วน เท่ากับ

13
16



แปลงเป็นเศษส่วน เท่ากับ

1
3



แปลงเป็นเศษส่วน เท่ากับ

3
4



แปลงเป็นเศษส่วน เท่ากับ

1
15



แปลงเป็นเศษส่วน เท่ากับ

14
30



ครู้อย www.ontous.info

ชื่อ-สกุล			
ชั้นเรียน		เลขที่	
คะแนนที่ได้		วันที่	

แบบฝึกวิชาคณิตศาสตร์ เรื่อง เศษส่วน สัญลักษณ์แทนเศษส่วน

คำชี้แจง : ให้นักเรียนเขียนเศษส่วนจากสัญลักษณ์ที่กำหนดให้ต่อไปนี้



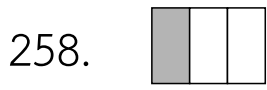
แปลงเป็นเศษส่วน เท่ากับ

18
26



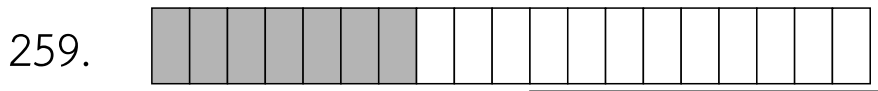
แปลงเป็นเศษส่วน เท่ากับ

25
29



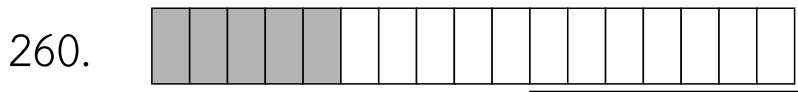
แปลงเป็นเศษส่วน เท่ากับ

1
3



แปลงเป็นเศษส่วน เท่ากับ

7
19



แปลงเป็นเศษส่วน เท่ากับ

5
17



ครูโยย www.ontous.info

ชื่อ-สกุล			
ชั้นเรียน		เลขที่	
คะแนนที่ได้		วันที่	

แบบฝึกวิชาคณิตศาสตร์ เรื่อง เศษส่วน สัญลักษณ์แทนเศษส่วน

คำชี้แจง : ให้นักเรียนเขียนเศษส่วนจากสัญลักษณ์ที่กำหนดให้ต่อไปนี้



แปลงเป็นเศษส่วน เท่ากับ

18
23



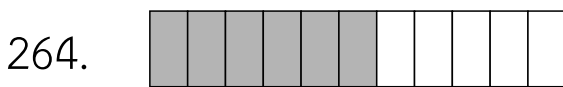
แปลงเป็นเศษส่วน เท่ากับ

6
16



แปลงเป็นเศษส่วน เท่ากับ

6
7



แปลงเป็นเศษส่วน เท่ากับ

6
11



แปลงเป็นเศษส่วน เท่ากับ

21
25



ครูโยย www.ontous.info

ชื่อ-สกุล			
ชั้นเรียน		เลขที่	
คะแนนที่ได้		วันที่	

แบบฝึกวิชาคณิตศาสตร์ เรื่อง เศษส่วน สัญลักษณ์แทนเศษส่วน

คำชี้แจง : ให้นักเรียนเขียนเศษส่วนจากสัญลักษณ์ที่กำหนดให้ต่อไปนี้



แปลงเป็นเศษส่วน เท่ากับ

7
30



แปลงเป็นเศษส่วน เท่ากับ

18
32



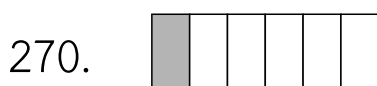
แปลงเป็นเศษส่วน เท่ากับ

5
10



แปลงเป็นเศษส่วน เท่ากับ

1
7



แปลงเป็นเศษส่วน เท่ากับ

1
6



ครูโยย www.ontous.info

ชื่อ-สกุล			
ชั้นเรียน		เลขที่	
คะแนนที่ได้		วันที่	

แบบฝึกวิชาคณิตศาสตร์ เรื่อง เศษส่วน สัญลักษณ์แทนเศษส่วน

คำชี้แจง : ให้นักเรียนเขียนเศษส่วนจากสัญลักษณ์ที่กำหนดให้ต่อไปนี้



แปลงเป็นเศษส่วน เท่ากับ

2
14



แปลงเป็นเศษส่วน เท่ากับ

9
20




แปลงเป็นเศษส่วน เท่ากับ

5
13



แปลงเป็นเศษส่วน เท่ากับ

21
28



แปลงเป็นเศษส่วน เท่ากับ

5
9



ครูโยย www.ontous.info

ชื่อ-สกุล			
ชั้นเรียน		เลขที่	
คะแนนที่ได้		วันที่	

แบบฝึกวิชาคณิตศาสตร์ เรื่อง เศษส่วน สัญลักษณ์แทนเศษส่วน

คำชี้แจง : ให้นักเรียนเขียนเศษส่วนจากสัญลักษณ์ที่กำหนดให้ต่อไปนี้



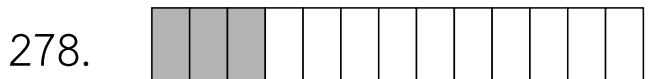
แปลงเป็นเศษส่วน เท่ากับ

14
21



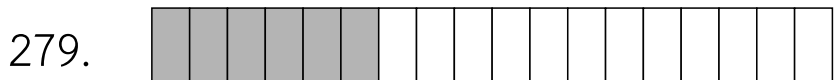
แปลงเป็นเศษส่วน เท่ากับ

9
25




แปลงเป็นเศษส่วน เท่ากับ

3
13



แปลงเป็นเศษส่วน เท่ากับ

6
18



แปลงเป็นเศษส่วน เท่ากับ

12
15



ครูโยย www.ontous.info

ชื่อ-สกุล			
ชั้นเรียน		เลขที่	
คะแนนที่ได้		วันที่	

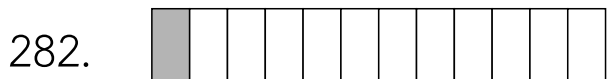
แบบฝึกวิชาคณิตศาสตร์ เรื่อง เศษส่วน สัญลักษณ์แทนเศษส่วน

คำชี้แจง : ให้นักเรียนเขียนเศษส่วนจากสัญลักษณ์ที่กำหนดให้ต่อไปนี้



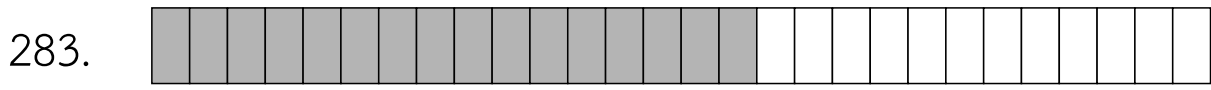
แปลงเป็นเศษส่วน เท่ากับ

3
15



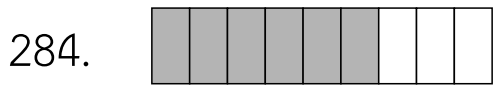
แปลงเป็นเศษส่วน เท่ากับ

1
12



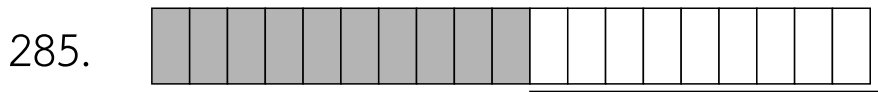
แปลงเป็นเศษส่วน เท่ากับ

16
28



แปลงเป็นเศษส่วน เท่ากับ

6
9



แปลงเป็นเศษส่วน เท่ากับ

10
19




ครูโยย www.ontous.info

ชื่อ-สกุล			
ชั้นเรียน		เลขที่	
คะแนนที่ได้		วันที่	

แบบฝึกวิชาคณิตศาสตร์ เรื่อง เศษส่วน สัญลักษณ์แทนเศษส่วน

คำชี้แจง : ให้นักเรียนเขียนเศษส่วนจากสัญลักษณ์ที่กำหนดให้ต่อไปนี้



แปลงเป็นเศษส่วน เท่ากับ

4
25



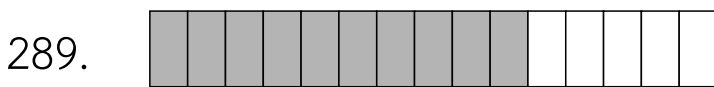
แปลงเป็นเศษส่วน เท่ากับ

18
28



แปลงเป็นเศษส่วน เท่ากับ

33
35



แปลงเป็นเศษส่วน เท่ากับ

10
15



แปลงเป็นเศษส่วน เท่ากับ

8
14



ครูโยย www.ontous.info

ชื่อ-สกุล			
ชั้นเรียน		เลขที่	
คะแนนที่ได้		วันที่	

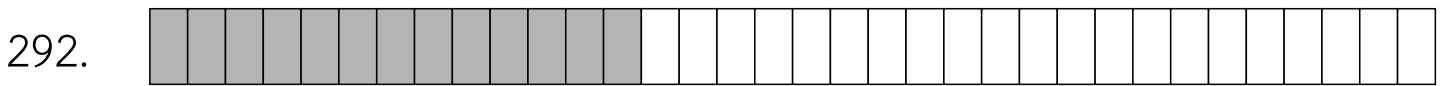
แบบฝึกวิชาคณิตศาสตร์ เรื่อง เศษส่วน สัญลักษณ์แทนเศษส่วน

คำชี้แจง : ให้นักเรียนเขียนเศษส่วนจากสัญลักษณ์ที่กำหนดให้ต่อไปนี้



แปลงเป็นเศษส่วน เท่ากับ

19
22




แปลงเป็นเศษส่วน เท่ากับ

13
34



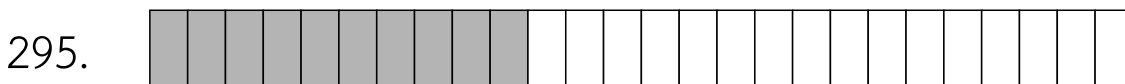
แปลงเป็นเศษส่วน เท่ากับ

4
11



แปลงเป็นเศษส่วน เท่ากับ

5
7



แปลงเป็นเศษส่วน เท่ากับ

10
26



ครูโยย www.ontous.info

ชื่อ-สกุล			
ชั้นเรียน		เลขที่	
คะแนนที่ได้		วันที่	

แบบฝึกวิชาคณิตศาสตร์ เรื่อง เศษส่วน สัญลักษณ์แทนเศษส่วน

คำชี้แจง : ให้นักเรียนเขียนเศษส่วนจากสัญลักษณ์ที่กำหนดให้ต่อไปนี้

296.



แปลงเป็นเศษส่วน เท่ากับ

2
4

297.



แปลงเป็นเศษส่วน เท่ากับ

1
9

298.



แปลงเป็นเศษส่วน เท่ากับ

23
30


299.



แปลงเป็นเศษส่วน เท่ากับ

7
34

300.



แปลงเป็นเศษส่วน เท่ากับ

18
21



ครูโยย www.ontous.info

ชื่อ-สกุล			
ชั้นเรียน		เลขที่	
คะแนนที่ได้		วันที่	

แบบฝึกวิชาคณิตศาสตร์ เรื่อง เศษส่วน สัญลักษณ์แทนเศษส่วน

คำชี้แจง : ให้นักเรียนเขียนเศษส่วนจากสัญลักษณ์ที่กำหนดให้ต่อไปนี้



แปลงเป็นเศษส่วน เท่ากับ

10
22



แปลงเป็นเศษส่วน เท่ากับ

17
27



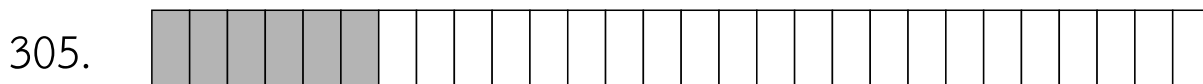
แปลงเป็นเศษส่วน เท่ากับ

3
10



แปลงเป็นเศษส่วน เท่ากับ

17
19



แปลงเป็นเศษส่วน เท่ากับ

6
28



ครูโยย www.ontous.info

ชื่อ-สกุล			
ชั้นเรียน		เลขที่	
คะแนนที่ได้		วันที่	

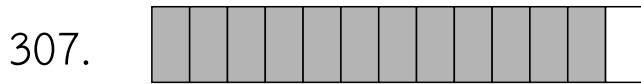
แบบฝึกวิชาคณิตศาสตร์ เรื่อง เศษส่วน สัญลักษณ์แทนเศษส่วน

คำชี้แจง : ให้นักเรียนเขียนเศษส่วนจากสัญลักษณ์ที่กำหนดให้ต่อไปนี้



แปลงเป็นเศษส่วน เท่ากับ

2
29




แปลงเป็นเศษส่วน เท่ากับ

12
13



แปลงเป็นเศษส่วน เท่ากับ

16
18



แปลงเป็นเศษส่วน เท่ากับ

20
25



แปลงเป็นเศษส่วน เท่ากับ

2
15



ครูโยย www.ontous.info

ชื่อ-สกุล			
ชั้นเรียน		เลขที่	
คะแนนที่ได้		วันที่	

แบบฝึกวิชาคณิตศาสตร์ เรื่อง เศษส่วน สัญลักษณ์แทนเศษส่วน

คำชี้แจง : ให้นักเรียนเขียนเศษส่วนจากสัญลักษณ์ที่กำหนดให้ต่อไปนี้



แปลงเป็นเศษส่วน เท่ากับ

3
9



แปลงเป็นเศษส่วน เท่ากับ

1
15



แปลงเป็นเศษส่วน เท่ากับ

2
3



แปลงเป็นเศษส่วน เท่ากับ

2
8



แปลงเป็นเศษส่วน เท่ากับ

9
13



ครูโยย www.ontous.info

ชื่อ-สกุล			
ชั้นเรียน		เลขที่	
คะแนนที่ได้		วันที่	

แบบฝึกวิชาคณิตศาสตร์ เรื่อง เศษส่วน สัญลักษณ์แทนเศษส่วน

คำชี้แจง : ให้นักเรียนเขียนเศษส่วนจากสัญลักษณ์ที่กำหนดให้ต่อไปนี้

316.



แปลงเป็นเศษส่วน เท่ากับ

5
9

317.



แปลงเป็นเศษส่วน เท่ากับ

4
5

318.



แปลงเป็นเศษส่วน เท่ากับ

9
23


319.



แปลงเป็นเศษส่วน เท่ากับ

13
14

320.



แปลงเป็นเศษส่วน เท่ากับ

6
11



ครูโยย www.ontous.info

ชื่อ-สกุล			
ชั้นเรียน		เลขที่	
คะแนนที่ได้		วันที่	

แบบฝึกวิชาคณิตศาสตร์ เรื่อง เศษส่วน สัญลักษณ์แทนเศษส่วน

คำชี้แจง : ให้นักเรียนเขียนเศษส่วนจากสัญลักษณ์ที่กำหนดให้ต่อไปนี้



แปลงเป็นเศษส่วน เท่ากับ

17
20



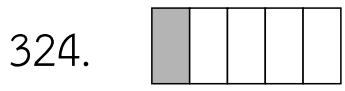
แปลงเป็นเศษส่วน เท่ากับ

7
13



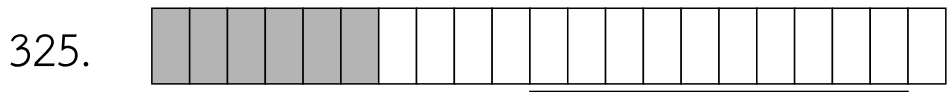
แปลงเป็นเศษส่วน เท่ากับ

6
9



แปลงเป็นเศษส่วน เท่ากับ

1
5



แปลงเป็นเศษส่วน เท่ากับ

6
21



ครูโยย www.ontous.info

ชื่อ-สกุล			
ชั้นเรียน		เลขที่	
คะแนนที่ได้		วันที่	

แบบฝึกวิชาคณิตศาสตร์ เรื่อง เศษส่วน สัญลักษณ์แทนเศษส่วน

คำชี้แจง : ให้นักเรียนเขียนเศษส่วนจากสัญลักษณ์ที่กำหนดให้ต่อไปนี้

326.



แปลงเป็นเศษส่วน เท่ากับ

17
18

327.



แปลงเป็นเศษส่วน เท่ากับ

3
7

328.



แปลงเป็นเศษส่วน เท่ากับ

25
33


329.



แปลงเป็นเศษส่วน เท่ากับ

12
18

330.



แปลงเป็นเศษส่วน เท่ากับ

3
5



ครูโยย www.ontous.info

ชื่อ-สกุล			
ชั้นเรียน		เลขที่	
คะแนนที่ได้		วันที่	


แบบฝึกวิชาคณิตศาสตร์ เรื่อง เศษส่วน สัญลักษณ์แทนเศษส่วน

คำชี้แจง : ให้นักเรียนเขียนเศษส่วนจากสัญลักษณ์ที่กำหนดให้ต่อไปนี้



แปลงเป็นเศษส่วน เท่ากับ

12
27



แปลงเป็นเศษส่วน เท่ากับ

12
13



แปลงเป็นเศษส่วน เท่ากับ

5
18



แปลงเป็นเศษส่วน เท่ากับ

5
33



แปลงเป็นเศษส่วน เท่ากับ

13
34



ครูโยย www.ontous.info

ชื่อ-สกุล			
ชั้นเรียน		เลขที่	
คะแนนที่ได้		วันที่	

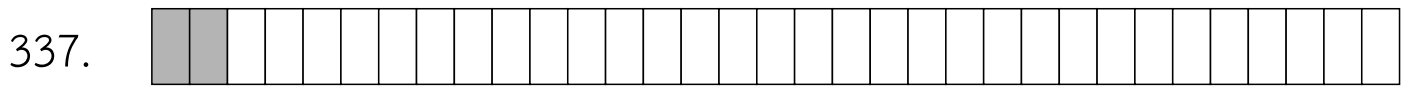
แบบฝึกวิชาคณิตศาสตร์ เรื่อง เศษส่วน สัญลักษณ์แทนเศษส่วน

คำชี้แจง : ให้นักเรียนเขียนเศษส่วนจากสัญลักษณ์ที่กำหนดให้ต่อไปนี้



แปลงเป็นเศษส่วน เท่ากับ

7
9



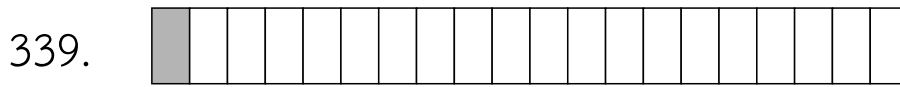
แปลงเป็นเศษส่วน เท่ากับ

2
33



แปลงเป็นเศษส่วน เท่ากับ

9
33



แปลงเป็นเศษส่วน เท่ากับ

1
20



แปลงเป็นเศษส่วน เท่ากับ

20
21




ครูโยย www.ontous.info

ชื่อ-สกุล			
ชั้นเรียน		เลขที่	
คะแนนที่ได้		วันที่	

แบบฝึกวิชาคณิตศาสตร์ เรื่อง เศษส่วน สัญลักษณ์แทนเศษส่วน

คำชี้แจง : ให้นักเรียนเขียนเศษส่วนจากสัญลักษณ์ที่กำหนดให้ต่อไปนี้



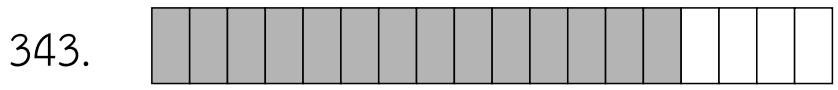
แปลงเป็นเศษส่วน เท่ากับ

10
24



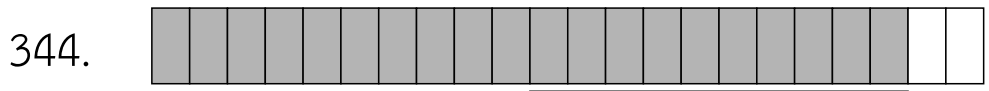
แปลงเป็นเศษส่วน เท่ากับ

7
16



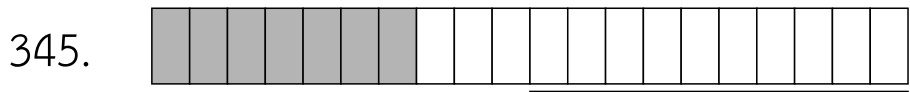
แปลงเป็นเศษส่วน เท่ากับ

14
18



แปลงเป็นเศษส่วน เท่ากับ

20
22



แปลงเป็นเศษส่วน เท่ากับ

7
20



ครูโยย www.ontous.info

ชื่อ-สกุล			
ชั้นเรียน		เลขที่	
คะแนนที่ได้		วันที่	

แบบฝึกวิชาคณิตศาสตร์ เรื่อง เศษส่วน สัญลักษณ์แทนเศษส่วน

คำชี้แจง : ให้นักเรียนเขียนเศษส่วนจากสัญลักษณ์ที่กำหนดให้ต่อไปนี้

346.



แปลงเป็นเศษส่วน เท่ากับ

1
8

347.



แปลงเป็นเศษส่วน เท่ากับ

4
30

348.



แปลงเป็นเศษส่วน เท่ากับ

17
25


349.



แปลงเป็นเศษส่วน เท่ากับ

24
30

350.



แปลงเป็นเศษส่วน เท่ากับ

3
5



ครูโยย www.ontous.info

ชื่อ-สกุล			
ชั้นเรียน		เลขที่	
คะแนนที่ได้		วันที่	

แบบฝึกวิชาคณิตศาสตร์ เรื่อง เศษส่วน สัญลักษณ์แทนเศษส่วน

คำชี้แจง : ให้นักเรียนเขียนเศษส่วนจากสัญลักษณ์ที่กำหนดให้ต่อไปนี้

351.



แปลงเป็นเศษส่วน เท่ากับ

4
11

352.



แปลงเป็นเศษส่วน เท่ากับ

3
6

353.



แปลงเป็นเศษส่วน เท่ากับ

5
27


354.



แปลงเป็นเศษส่วน เท่ากับ

2
3

355.



แปลงเป็นเศษส่วน เท่ากับ

7
15




ครูโยย www.ontous.info

ชื่อ-สกุล			
ชั้นเรียน		เลขที่	
คะแนนที่ได้		วันที่	

แบบฝึกวิชาคณิตศาสตร์ เรื่อง เศษส่วน สัญลักณ์แทนเศษส่วน

คำชี้แจง : ให้นักเรียนเขียนเศษส่วนจากสัญลักษณ์ที่กำหนดให้ต่อไปนี้



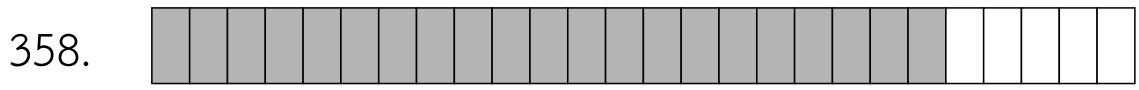
แปลงเป็นเศษส่วน เท่ากับ

9
21



แปลงเป็นเศษส่วน เท่ากับ

18
21



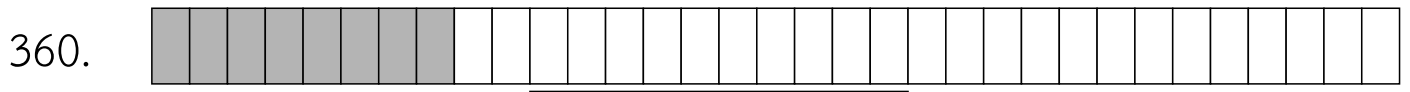
แปลงเป็นเศษส่วน เท่ากับ

21
26



แปลงเป็นเศษส่วน เท่ากับ

19
26



แปลงเป็นเศษส่วน เท่ากับ

8
33



ครูโยย www.ontous.info

ชื่อ-สกุล			
ชั้นเรียน		เลขที่	
คะแนนที่ได้		วันที่	

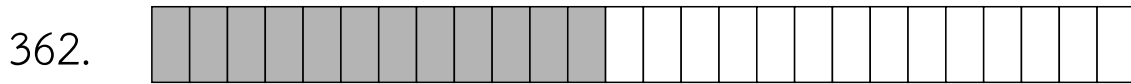
แบบฝึกวิชาคณิตศาสตร์ เรื่อง เศษส่วน สัญลักษณ์แทนเศษส่วน

คำชี้แจง : ให้นักเรียนเขียนเศษส่วนจากสัญลักษณ์ที่กำหนดให้ต่อไปนี้



แปลงเป็นเศษส่วน เท่ากับ

27
31



แปลงเป็นเศษส่วน เท่ากับ

12
26




แปลงเป็นเศษส่วน เท่ากับ

10
33



แปลงเป็นเศษส่วน เท่ากับ

27
28



แปลงเป็นเศษส่วน เท่ากับ

3
7



ครูโยย www.ontous.info

ชื่อ-สกุล			
ชั้นเรียน		เลขที่	
คะแนนที่ได้		วันที่	

แบบฝึกวิชาคณิตศาสตร์ เรื่อง เศษส่วน สัญลักษณ์แทนเศษส่วน

คำชี้แจง : ให้นักเรียนเขียนเศษส่วนจากสัญลักษณ์ที่กำหนดให้ต่อไปนี้



แปลงเป็นเศษส่วน เท่ากับ

27
34




แปลงเป็นเศษส่วน เท่ากับ

8
16




แปลงเป็นเศษส่วน เท่ากับ

8
28



แปลงเป็นเศษส่วน เท่ากับ

32
33



แปลงเป็นเศษส่วน เท่ากับ

20
22



ครูโยย www.ontous.info

ชื่อ-สกุล			
ชั้นเรียน		เลขที่	
คะแนนที่ได้		วันที่	

แบบฝึกวิชาคณิตศาสตร์ เรื่อง เศษส่วน สัญลักษณ์แทนเศษส่วน

คำชี้แจง : ให้นักเรียนเขียนเศษส่วนจากสัญลักษณ์ที่กำหนดให้ต่อไปนี้



แปลงเป็นเศษส่วน เท่ากับ

14
24



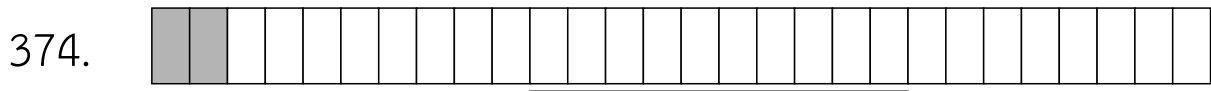
แปลงเป็นเศษส่วน เท่ากับ

15
21



แปลงเป็นเศษส่วน เท่ากับ

15
25



แปลงเป็นเศษส่วน เท่ากับ

2
28



แปลงเป็นเศษส่วน เท่ากับ

17
34



ครูโยย www.ontous.info

ชื่อ-สกุล			
ชั้นเรียน		เลขที่	
คะแนนที่ได้		วันที่	

แบบฝึกวิชาคณิตศาสตร์ เรื่อง เศษส่วน สัญลักษณ์แทนเศษส่วน

คำชี้แจง : ให้นักเรียนเขียนเศษส่วนจากสัญลักษณ์ที่กำหนดให้ต่อไปนี้



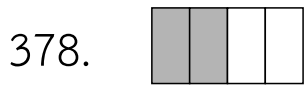
แปลงเป็นเศษส่วน เท่ากับ

12
24



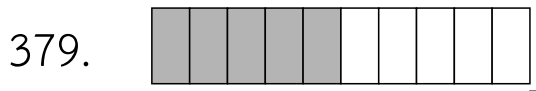
แปลงเป็นเศษส่วน เท่ากับ

2
7



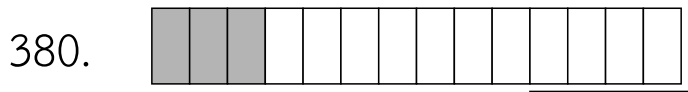
แปลงเป็นเศษส่วน เท่ากับ

2
4



แปลงเป็นเศษส่วน เท่ากับ

5
10



แปลงเป็นเศษส่วน เท่ากับ

3
14



ครูโยย www.ontous.info

ชื่อ-สกุล			
ชั้นเรียน		เลขที่	
คะแนนที่ได้		วันที่	

แบบฝึกวิชาคณิตศาสตร์ เรื่อง เศษส่วน สัญลักษณ์แทนเศษส่วน

คำชี้แจง : ให้นักเรียนเขียนเศษส่วนจากสัญลักษณ์ที่กำหนดให้ต่อไปนี้



แปลงเป็นเศษส่วน เท่ากับ

7
29



แปลงเป็นเศษส่วน เท่ากับ

10
12



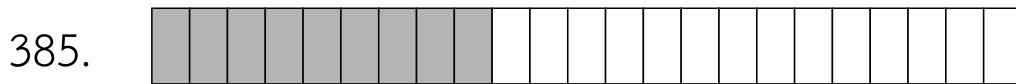
แปลงเป็นเศษส่วน เท่ากับ

5
15



แปลงเป็นเศษส่วน เท่ากับ

13
30



แปลงเป็นเศษส่วน เท่ากับ

9
23



ครูโยย www.ontous.info

ชื่อ-สกุล			
ชั้นเรียน		เลขที่	
คะแนนที่ได้		วันที่	

แบบฝึกวิชาคณิตศาสตร์ เรื่อง เศษส่วน สัญลักษณ์แทนเศษส่วน

คำชี้แจง : ให้นักเรียนเขียนเศษส่วนจากสัญลักษณ์ที่กำหนดให้ต่อไปนี้



แปลงเป็นเศษส่วน เท่ากับ

28
34



แปลงเป็นเศษส่วน เท่ากับ

21
25



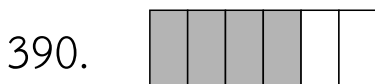
แปลงเป็นเศษส่วน เท่ากับ

15
22



แปลงเป็นเศษส่วน เท่ากับ

5
19



แปลงเป็นเศษส่วน เท่ากับ

4
6



ครูโยย www.ontous.info

ชื่อ-สกุล			
ชั้นเรียน		เลขที่	
คะแนนที่ได้		วันที่	


แบบฝึกวิชาคณิตศาสตร์ เรื่อง เศษส่วน สัญลักษณ์แทนเศษส่วน

คำชี้แจง : ให้นักเรียนเขียนเศษส่วนจากสัญลักษณ์ที่กำหนดให้ต่อไปนี้



แปลงเป็นเศษส่วน เท่ากับ

15
17




แปลงเป็นเศษส่วน เท่ากับ

2
9



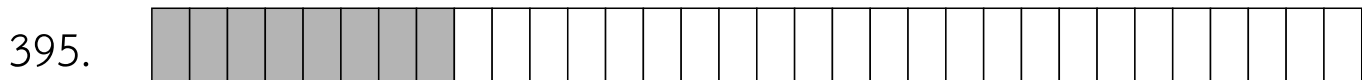
แปลงเป็นเศษส่วน เท่ากับ

7
14



แปลงเป็นเศษส่วน เท่ากับ

13
27



แปลงเป็นเศษส่วน เท่ากับ

8
32




ครูโยย www.ontous.info

ชื่อ-สกุล			
ชั้นเรียน		เลขที่	
คะแนนที่ได้		วันที่	


แบบฝึกวิชาคณิตศาสตร์ เรื่อง เศษส่วน สัญลักษณ์แทนเศษส่วน

คำชี้แจง : ให้นักเรียนเขียนเศษส่วนจากสัญลักษณ์ที่กำหนดให้ต่อไปนี้



แปลงเป็นเศษส่วน เท่ากับ

2
17



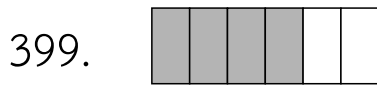
แปลงเป็นเศษส่วน เท่ากับ

1
4



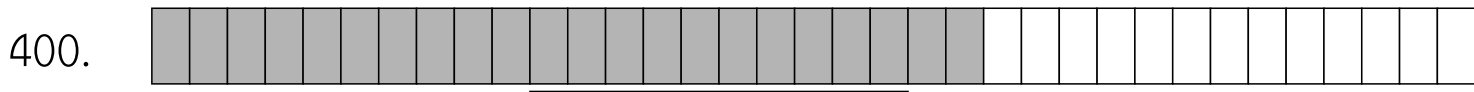
แปลงเป็นเศษส่วน เท่ากับ

9
11



แปลงเป็นเศษส่วน เท่ากับ

4
6



แปลงเป็นเศษส่วน เท่ากับ

22
35




ครูโยย www.ontous.info

ชื่อ-สกุล			
ชั้นเรียน		เลขที่	
คะแนนที่ได้		วันที่	

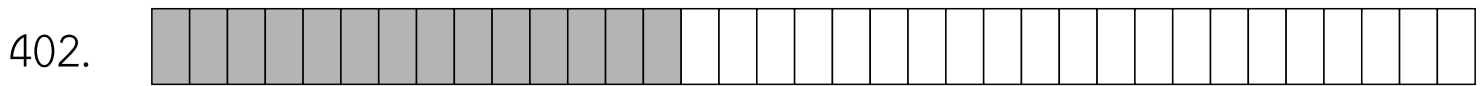
แบบฝึกวิชาคณิตศาสตร์ เรื่อง เศษส่วน สัญลักษณ์แทนเศษส่วน

คำชี้แจง : ให้นักเรียนเขียนเศษส่วนจากสัญลักษณ์ที่กำหนดให้ต่อไปนี้



แปลงเป็นเศษส่วน เท่ากับ

11
27




แปลงเป็นเศษส่วน เท่ากับ

14
35



แปลงเป็นเศษส่วน เท่ากับ

2
14



แปลงเป็นเศษส่วน เท่ากับ

18
27



แปลงเป็นเศษส่วน เท่ากับ

8
11



ครูโยย www.ontous.info

ชื่อ-สกุล			
ชั้นเรียน		เลขที่	
คะแนนที่ได้		วันที่	

แบบฝึกวิชาคณิตศาสตร์ เรื่อง เศษส่วน สัญลักษณ์แทนเศษส่วน

คำชี้แจง : ให้นักเรียนเขียนเศษส่วนจากสัญลักษณ์ที่กำหนดให้ต่อไปนี้



แปลงเป็นเศษส่วน เท่ากับ

12
13



แปลงเป็นเศษส่วน เท่ากับ

8
9




แปลงเป็นเศษส่วน เท่ากับ

15
25



แปลงเป็นเศษส่วน เท่ากับ

8
23



แปลงเป็นเศษส่วน เท่ากับ

8
13



ครูโยย www.ontous.info

ชื่อ-สกุล			
ชั้นเรียน		เลขที่	
คะแนนที่ได้		วันที่	

แบบฝึกวิชาคณิตศาสตร์ เรื่อง เศษส่วน สัญลักษณ์แทนเศษส่วน

คำชี้แจง : ให้นักเรียนเขียนเศษส่วนจากสัญลักษณ์ที่กำหนดให้ต่อไปนี้



แปลงเป็นเศษส่วน เท่ากับ

3
4



แปลงเป็นเศษส่วน เท่ากับ

9
16



แปลงเป็นเศษส่วน เท่ากับ

10
11



แปลงเป็นเศษส่วน เท่ากับ

5
7



แปลงเป็นเศษส่วน เท่ากับ

13
14



ครูโยย www.ontous.info

ชื่อ-สกุล			
ชั้นเรียน		เลขที่	
คะแนนที่ได้		วันที่	

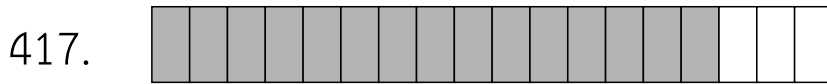
แบบฝึกวิชาคณิตศาสตร์ เรื่อง เศษส่วน สัญลักษณ์แทนเศษส่วน

คำชี้แจง : ให้นักเรียนเขียนเศษส่วนจากสัญลักษณ์ที่กำหนดให้ต่อไปนี้



แปลงเป็นเศษส่วน เท่ากับ

26
31



แปลงเป็นเศษส่วน เท่ากับ

15
18




แปลงเป็นเศษส่วน เท่ากับ

4
24



แปลงเป็นเศษส่วน เท่ากับ

4
35



แปลงเป็นเศษส่วน เท่ากับ

4
9



ครูโยย www.ontous.info

ชื่อ-สกุล			
ชั้นเรียน		เลขที่	
คะแนนที่ได้		วันที่	

แบบฝึกวิชาคณิตศาสตร์ เรื่อง เศษส่วน สัญลักษณ์แทนเศษส่วน

คำชี้แจง : ให้นักเรียนเขียนเศษส่วนจากสัญลักษณ์ที่กำหนดให้ต่อไปนี้

421.



แปลงเป็นเศษส่วน เท่ากับ

5
7

422.



แปลงเป็นเศษส่วน เท่ากับ

2
21

423.



แปลงเป็นเศษส่วน เท่ากับ

6
13


424.



แปลงเป็นเศษส่วน เท่ากับ

4
6

425.



แปลงเป็นเศษส่วน เท่ากับ

3
22



ครู้อย www.ontous.info

ชื่อ-สกุล			
ชั้นเรียน		เลขที่	
คะแนนที่ได้		วันที่	

แบบฝึกวิชาคณิตศาสตร์ เรื่อง เศษส่วน สัญลักษณ์แทนเศษส่วน

คำชี้แจง : ให้นักเรียนเขียนเศษส่วนจากสัญลักษณ์ที่กำหนดให้ต่อไปนี้

426.



แปลงเป็นเศษส่วน เท่ากับ

4
6

427.



แปลงเป็นเศษส่วน เท่ากับ

2
15

428.



แปลงเป็นเศษส่วน เท่ากับ

4
5


429.



แปลงเป็นเศษส่วน เท่ากับ

6
7

430.



แปลงเป็นเศษส่วน เท่ากับ

4
7




ครูโยย www.ontous.info

ชื่อ-สกุล			
ชั้นเรียน		เลขที่	
คะแนนที่ได้		วันที่	

แบบฝึกวิชาคณิตศาสตร์ เรื่อง เศษส่วน สัญลักษณ์แทนเศษส่วน

คำชี้แจง : ให้นักเรียนเขียนเศษส่วนจากสัญลักษณ์ที่กำหนดให้ต่อไปนี้



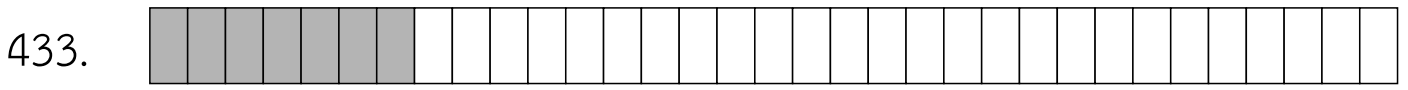
แปลงเป็นเศษส่วน เท่ากับ

9
21



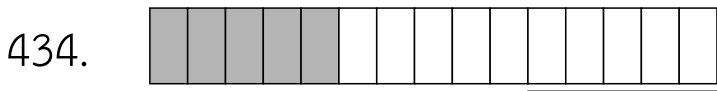
แปลงเป็นเศษส่วน เท่ากับ

18
23



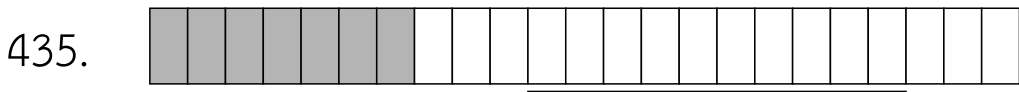
แปลงเป็นเศษส่วน เท่ากับ

7
33



แปลงเป็นเศษส่วน เท่ากับ

5
15



แปลงเป็นเศษส่วน เท่ากับ

7
23



ครูโยย www.ontous.info

ชื่อ-สกุล			
ชั้นเรียน		เลขที่	
คะแนนที่ได้		วันที่	

แบบฝึกวิชาคณิตศาสตร์ เรื่อง เศษส่วน สัญลักษณ์แทนเศษส่วน

คำชี้แจง : ให้นักเรียนเขียนเศษส่วนจากสัญลักษณ์ที่กำหนดให้ต่อไปนี้

436.



แปลงเป็นเศษส่วน เท่ากับ

1
10

437.



แปลงเป็นเศษส่วน เท่ากับ

6
34

438.



แปลงเป็นเศษส่วน เท่ากับ

19
30

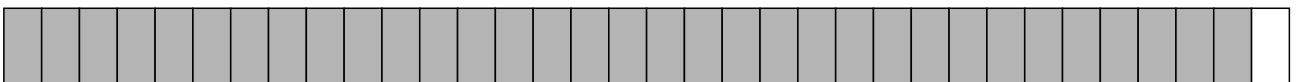
439.



แปลงเป็นเศษส่วน เท่ากับ

3
11

440.



แปลงเป็นเศษส่วน เท่ากับ

33
34



ครูโยย www.ontous.info

ชื่อ-สกุล			
ชั้นเรียน		เลขที่	
คะแนนที่ได้		วันที่	

แบบฝึกวิชาคณิตศาสตร์ เรื่อง เศษส่วน สัญลักษณ์แทนเศษส่วน

คำชี้แจง : ให้นักเรียนเขียนเศษส่วนจากสัญลักษณ์ที่กำหนดให้ต่อไปนี้



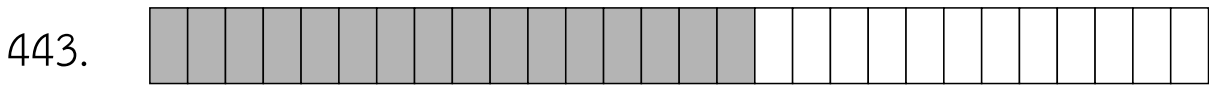
แปลงเป็นเศษส่วน เท่ากับ

23
24



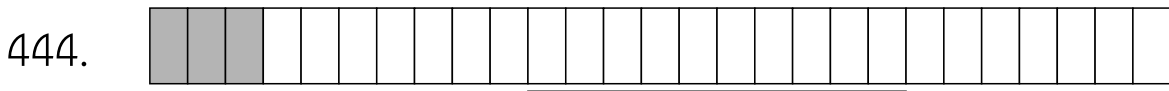
แปลงเป็นเศษส่วน เท่ากับ

7
10



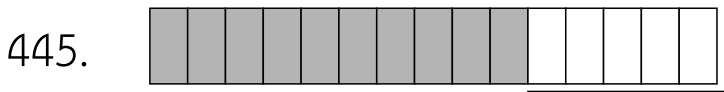
แปลงเป็นเศษส่วน เท่ากับ

16
28



แปลงเป็นเศษส่วน เท่ากับ

3
27



แปลงเป็นเศษส่วน เท่ากับ

10
15



ครู้อย www.ontous.info

ชื่อ-สกุล			
ชั้นเรียน		เลขที่	
คะแนนที่ได้		วันที่	

แบบฝึกวิชาคณิตศาสตร์ เรื่อง เศษส่วน สัญลักษณ์แทนเศษส่วน

คำชี้แจง : ให้นักเรียนเขียนเศษส่วนจากสัญลักษณ์ที่กำหนดให้ต่อไปนี้

446.



แปลงเป็นเศษส่วน เท่ากับ

11
15

447.



แปลงเป็นเศษส่วน เท่ากับ

13
21

448.



แปลงเป็นเศษส่วน เท่ากับ

19
21

449.



แปลงเป็นเศษส่วน เท่ากับ

14
17

450.



แปลงเป็นเศษส่วน เท่ากับ

24
25



ครูโยย www.ontous.info

ชื่อ-สกุล			
ชั้นเรียน		เลขที่	
คะแนนที่ได้		วันที่	

แบบฝึกวิชาคณิตศาสตร์ เรื่อง เศษส่วน สัญลักษณ์แทนเศษส่วน

คำชี้แจง : ให้นักเรียนเขียนเศษส่วนจากสัญลักษณ์ที่กำหนดให้ต่อไปนี้



แปลงเป็นเศษส่วน เท่ากับ

1
4



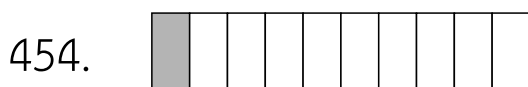
แปลงเป็นเศษส่วน เท่ากับ

15
27



แปลงเป็นเศษส่วน เท่ากับ

21
34



แปลงเป็นเศษส่วน เท่ากับ

1
10



แปลงเป็นเศษส่วน เท่ากับ

19
29




ครู้อย www.ontous.info

ชื่อ-สกุล			
ชั้นเรียน		เลขที่	
คะแนนที่ได้		วันที่	

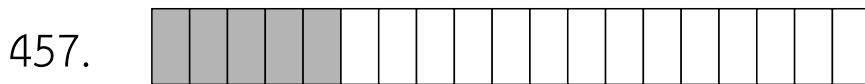
แบบฝึกวิชาคณิตศาสตร์ เรื่อง เศษส่วน สัญลักษณ์แทนเศษส่วน

คำชี้แจง : ให้นักเรียนเขียนเศษส่วนจากสัญลักษณ์ที่กำหนดให้ต่อไปนี้




แปลงเป็นเศษส่วน เท่ากับ

1
6



แปลงเป็นเศษส่วน เท่ากับ

5
19



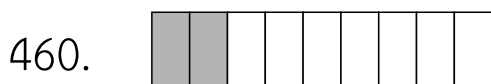
แปลงเป็นเศษส่วน เท่ากับ

3
4



แปลงเป็นเศษส่วน เท่ากับ

1
17



แปลงเป็นเศษส่วน เท่ากับ

2
9



ครูโยย www.ontous.info

ชื่อ-สกุล			
ชั้นเรียน		เลขที่	
คะแนนที่ได้		วันที่	

แบบฝึกวิชาคณิตศาสตร์ เรื่อง เศษส่วน สัญลักษณ์แทนเศษส่วน

คำชี้แจง : ให้นักเรียนเขียนเศษส่วนจากสัญลักษณ์ที่กำหนดให้ต่อไปนี้



แปลงเป็นเศษส่วน เท่ากับ

27
31




แปลงเป็นเศษส่วน เท่ากับ

13
21



แปลงเป็นเศษส่วน เท่ากับ

10
22



แปลงเป็นเศษส่วน เท่ากับ

4
5



แปลงเป็นเศษส่วน เท่ากับ

1
3



ครูโยย www.ontous.info

ชื่อ-สกุล			
ชั้นเรียน		เลขที่	
คะแนนที่ได้		วันที่	

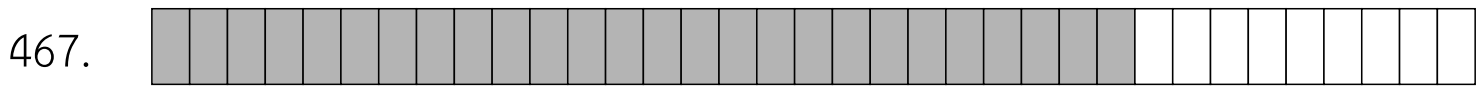
แบบฝึกวิชาคณิตศาสตร์ เรื่อง เศษส่วน สัญลักษณ์แทนเศษส่วน

คำชี้แจง : ให้นักเรียนเขียนเศษส่วนจากสัญลักษณ์ที่กำหนดให้ต่อไปนี้



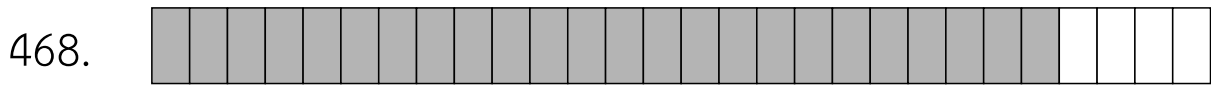
แปลงเป็นเศษส่วน เท่ากับ

9
15



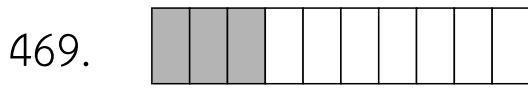
แปลงเป็นเศษส่วน เท่ากับ

26
35



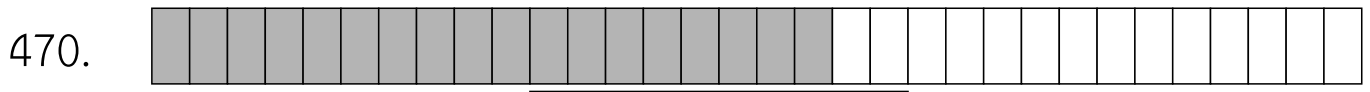
แปลงเป็นเศษส่วน เท่ากับ

24
28



แปลงเป็นเศษส่วน เท่ากับ

3
10



แปลงเป็นเศษส่วน เท่ากับ

18
32



ครูโยย www.ontous.info

ชื่อ-สกุล			
ชั้นเรียน		เลขที่	
คะแนนที่ได้		วันที่	


แบบฝึกวิชาคณิตศาสตร์ เรื่อง เศษส่วน สัญลักษณ์แทนเศษส่วน

คำชี้แจง : ให้นักเรียนเขียนเศษส่วนจากสัญลักษณ์ที่กำหนดให้ต่อไปนี้



แปลงเป็นเศษส่วน เท่ากับ

1
4



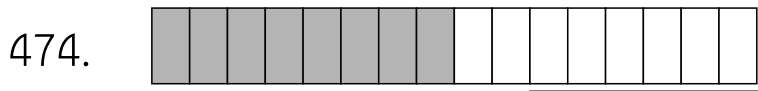
แปลงเป็นเศษส่วน เท่ากับ

8
21



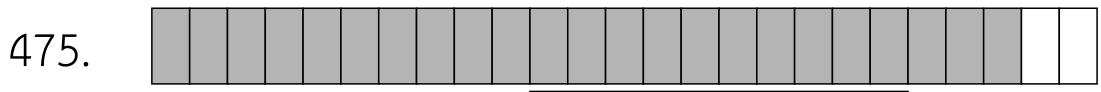
แปลงเป็นเศษส่วน เท่ากับ

25
31



แปลงเป็นเศษส่วน เท่ากับ

8
16



แปลงเป็นเศษส่วน เท่ากับ

23
25



ครูโยย www.ontous.info

ชื่อ-สกุล			
ชั้นเรียน		เลขที่	
คะแนนที่ได้		วันที่	

แบบฝึกวิชาคณิตศาสตร์ เรื่อง เศษส่วน สัญลักณ์แทนเศษส่วน

คำชี้แจง : ให้นักเรียนเขียนเศษส่วนจากสัญลักณ์ที่กำหนดให้ต่อไปนี้



แปลงเป็นเศษส่วน เท่ากับ

23
32




แปลงเป็นเศษส่วน เท่ากับ

12
19




แปลงเป็นเศษส่วน เท่ากับ

9
13



แปลงเป็นเศษส่วน เท่ากับ

13
30



แปลงเป็นเศษส่วน เท่ากับ

23
31



ครูย์ www.ontous.info

ชื่อ-สกุล			
ชั้นเรียน		เลขที่	
คะแนนที่ได้		วันที่	

แบบฝึกวิชาคณิตศาสตร์ เรื่อง เศษส่วน สัญลักษณ์แทนเศษส่วน

คำชี้แจง : ให้นักเรียนเขียนเศษส่วนจากสัญลักษณ์ที่กำหนดให้ต่อไปนี้



แปลงเป็นเศษส่วน เท่ากับ

2
3



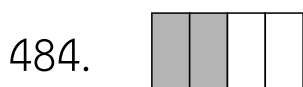
แปลงเป็นเศษส่วน เท่ากับ

23
25



แปลงเป็นเศษส่วน เท่ากับ

5
26



แปลงเป็นเศษส่วน เท่ากับ

2
4



แปลงเป็นเศษส่วน เท่ากับ

11
19



ครูโยย www.ontous.info

ชื่อ-สกุล			
ชั้นเรียน		เลขที่	
คะแนนที่ได้		วันที่	

แบบฝึกวิชาคณิตศาสตร์ เรื่อง เศษส่วน สัญลักษณ์แทนเศษส่วน

คำชี้แจง : ให้นักเรียนเขียนเศษส่วนจากสัญลักษณ์ที่กำหนดให้ต่อไปนี้

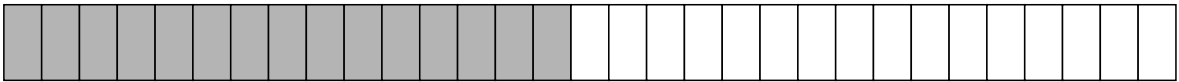
486.



แปลงเป็นเศษส่วน เท่ากับ

14
15

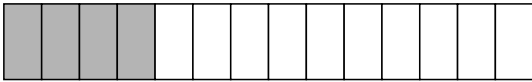
487.



แปลงเป็นเศษส่วน เท่ากับ

15
31

488.



แปลงเป็นเศษส่วน เท่ากับ

4
14

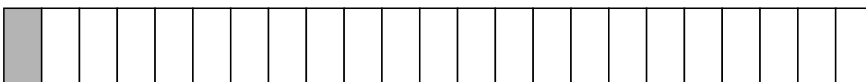
489.



แปลงเป็นเศษส่วน เท่ากับ

10
16

490.



แปลงเป็นเศษส่วน เท่ากับ

1
23



ครูโยย www.ontous.info

ชื่อ-สกุล			
ชั้นเรียน		เลขที่	
คะแนนที่ได้		วันที่	

แบบฝึกวิชาคณิตศาสตร์ เรื่อง เศษส่วน สัญลักษณ์แทนเศษส่วน

คำชี้แจง : ให้นักเรียนเขียนเศษส่วนจากสัญลักษณ์ที่กำหนดให้ต่อไปนี้



แปลงเป็นเศษส่วน เท่ากับ

2
12



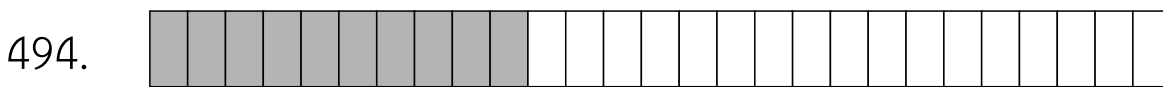
แปลงเป็นเศษส่วน เท่ากับ

19
25



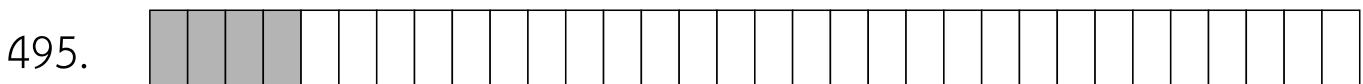
แปลงเป็นเศษส่วน เท่ากับ

8
19



แปลงเป็นเศษส่วน เท่ากับ

10
27



แปลงเป็นเศษส่วน เท่ากับ

4
32



ครู้อย www.ontous.info

ชื่อ-สกุล			
ชั้นเรียน		เลขที่	
คะแนนที่ได้		วันที่	

แบบฝึกวิชาคณิตศาสตร์ เรื่อง เศษส่วน สัญลักษณ์แทนเศษส่วน

คำชี้แจง : ให้นักเรียนเขียนเศษส่วนจากสัญลักษณ์ที่กำหนดให้ต่อไปนี้



แปลงเป็นเศษส่วน เท่ากับ

11
17



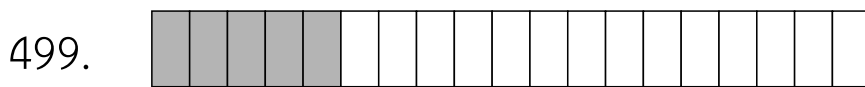
แปลงเป็นเศษส่วน เท่ากับ

19
26




แปลงเป็นเศษส่วน เท่ากับ

15
28



แปลงเป็นเศษส่วน เท่ากับ

5
19



แปลงเป็นเศษส่วน เท่ากับ

2
9



ครูโยย www.ontous.info

ชื่อ-สกุล			
ชั้นเรียน		เลขที่	
คะแนนที่ได้		วันที่	

แบบฝึกวิชาคณิตศาสตร์ เรื่อง เศษส่วน สัญลักษณ์แทนเศษส่วน

คำชี้แจง : ให้นักเรียนเขียนเศษส่วนจากสัญลักษณ์ที่กำหนดให้ต่อไปนี้



แปลงเป็นเศษส่วน เท่ากับ

11
23



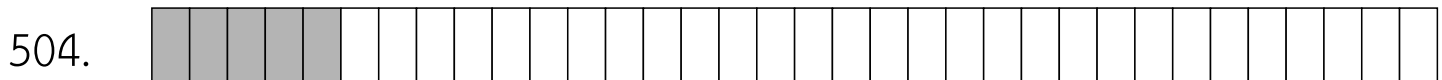
แปลงเป็นเศษส่วน เท่ากับ

31
34



แปลงเป็นเศษส่วน เท่ากับ

12
17



แปลงเป็นเศษส่วน เท่ากับ

5
34



แปลงเป็นเศษส่วน เท่ากับ

7
10



ครูโยย www.ontous.info

ชื่อ-สกุล			
ชั้นเรียน		เลขที่	
คะแนนที่ได้		วันที่	

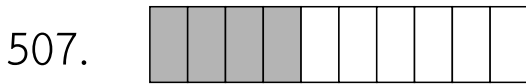
แบบฝึกวิชาคณิตศาสตร์ เรื่อง เศษส่วน สัญลักษณ์แทนเศษส่วน

คำชี้แจง : ให้นักเรียนเขียนเศษส่วนจากสัญลักษณ์ที่กำหนดให้ต่อไปนี้



แปลงเป็นเศษส่วน เท่ากับ

27
29



แปลงเป็นเศษส่วน เท่ากับ

4
10




แปลงเป็นเศษส่วน เท่ากับ

1
11



แปลงเป็นเศษส่วน เท่ากับ

6
31



แปลงเป็นเศษส่วน เท่ากับ

12
15



ครูโยย www.ontous.info

ชื่อ-สกุล			
ชั้นเรียน		เลขที่	
คะแนนที่ได้		วันที่	

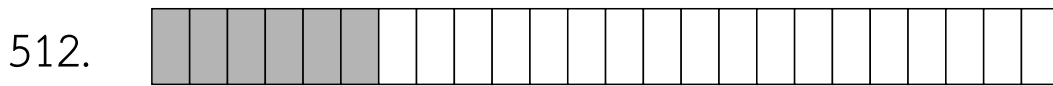
แบบฝึกวิชาคณิตศาสตร์ เรื่อง เศษส่วน สัญลักษณ์แทนเศษส่วน

คำชี้แจง : ให้นักเรียนเขียนเศษส่วนจากสัญลักษณ์ที่กำหนดให้ต่อไปนี้



แปลงเป็นเศษส่วน เท่ากับ

8
34



แปลงเป็นเศษส่วน เท่ากับ

6
24




แปลงเป็นเศษส่วน เท่ากับ

21
34



แปลงเป็นเศษส่วน เท่ากับ

5
12



แปลงเป็นเศษส่วน เท่ากับ

16
29



ครูโยย www.ontous.info

ชื่อ-สกุล			
ชั้นเรียน		เลขที่	
คะแนนที่ได้		วันที่	


แบบฝึกวิชาคณิตศาสตร์ เรื่อง เศษส่วน สัญลักษณ์แทนเศษส่วน

คำชี้แจง : ให้นักเรียนเขียนเศษส่วนจากสัญลักษณ์ที่กำหนดให้ต่อไปนี้



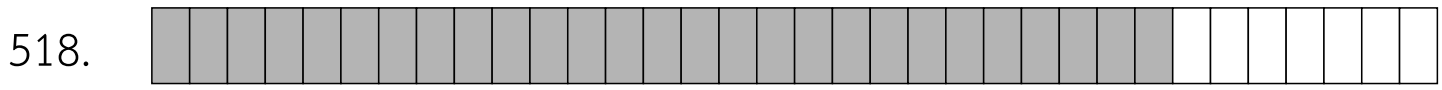
แปลงเป็นเศษส่วน เท่ากับ

2
16




แปลงเป็นเศษส่วน เท่ากับ

1
7



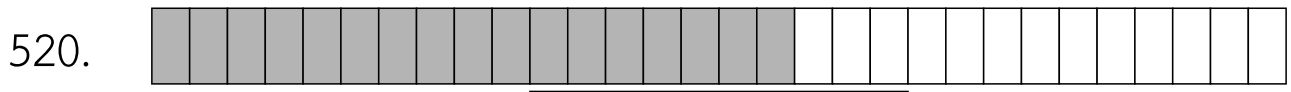
แปลงเป็นเศษส่วน เท่ากับ

27
34



แปลงเป็นเศษส่วน เท่ากับ

6
7



แปลงเป็นเศษส่วน เท่ากับ

17
30




ครูโยย www.ontous.info

ชื่อ-สกุล			
ชั้นเรียน		เลขที่	
คะแนนที่ได้		วันที่	

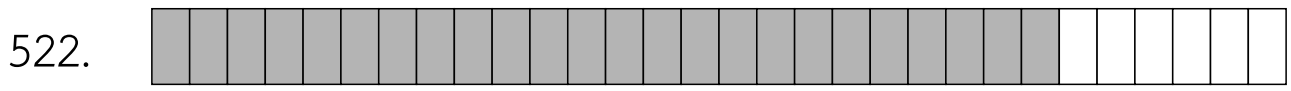
แบบฝึกวิชาคณิตศาสตร์ เรื่อง เศษส่วน สัญลักษณ์แทนเศษส่วน

คำชี้แจง : ให้นักเรียนเขียนเศษส่วนจากสัญลักษณ์ที่กำหนดให้ต่อไปนี้



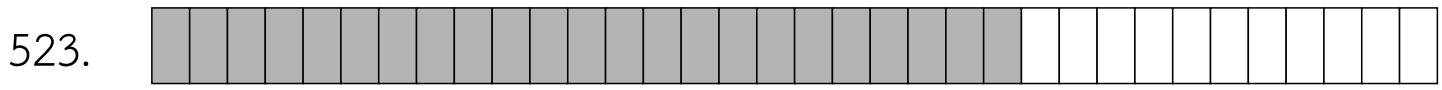
แปลงเป็นเศษส่วน เท่ากับ

7
21



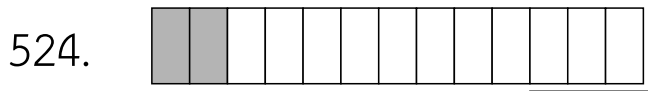
แปลงเป็นเศษส่วน เท่ากับ

24
30



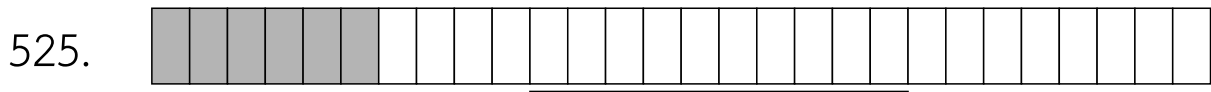
แปลงเป็นเศษส่วน เท่ากับ

23
34



แปลงเป็นเศษส่วน เท่ากับ

2
13



แปลงเป็นเศษส่วน เท่ากับ

6
28




ครูโยย www.ontous.info

ชื่อ-สกุล			
ชั้นเรียน		เลขที่	
คะแนนที่ได้		วันที่	

แบบฝึกวิชาคณิตศาสตร์ เรื่อง เศษส่วน สัญลักษณ์แทนเศษส่วน

คำชี้แจง : ให้นักเรียนเขียนเศษส่วนจากสัญลักษณ์ที่กำหนดให้ต่อไปนี้



แปลงเป็นเศษส่วน เท่ากับ

6
27



แปลงเป็นเศษส่วน เท่ากับ

28
31




แปลงเป็นเศษส่วน เท่ากับ

27
28



แปลงเป็นเศษส่วน เท่ากับ

3
5



แปลงเป็นเศษส่วน เท่ากับ

23
25



ครูโยย www.ontous.info

ชื่อ-สกุล			
ชั้นเรียน		เลขที่	
คะแนนที่ได้		วันที่	

แบบฝึกวิชาคณิตศาสตร์ เรื่อง เศษส่วน สัญลักษณ์แทนเศษส่วน

คำชี้แจง : ให้นักเรียนเขียนเศษส่วนจากสัญลักษณ์ที่กำหนดให้ต่อไปนี้



แปลงเป็นเศษส่วน เท่ากับ

8
11



แปลงเป็นเศษส่วน เท่ากับ

34
35



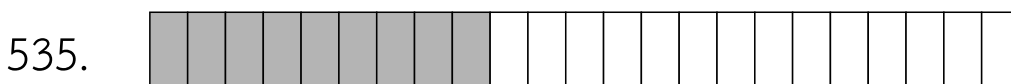
แปลงเป็นเศษส่วน เท่ากับ

16
26



แปลงเป็นเศษส่วน เท่ากับ

21
23



แปลงเป็นเศษส่วน เท่ากับ

9
23



ครูโยย www.ontous.info

ชื่อ-สกุล			
ชั้นเรียน		เลขที่	
คะแนนที่ได้		วันที่	


แบบฝึกวิชาคณิตศาสตร์ เรื่อง เศษส่วน สัญลักษณ์แทนเศษส่วน

คำชี้แจง : ให้นักเรียนเขียนเศษส่วนจากสัญลักษณ์ที่กำหนดให้ต่อไปนี้



แปลงเป็นเศษส่วน เท่ากับ

19
20



แปลงเป็นเศษส่วน เท่ากับ

1
9



แปลงเป็นเศษส่วน เท่ากับ

15
31



แปลงเป็นเศษส่วน เท่ากับ

25
33



แปลงเป็นเศษส่วน เท่ากับ

18
19



ครู้อย www.ontous.info

ชื่อ-สกุล			
ชั้นเรียน		เลขที่	
คะแนนที่ได้		วันที่	

แบบฝึกวิชาคณิตศาสตร์ เรื่อง เศษส่วน สัญลักษณ์แทนเศษส่วน

คำชี้แจง : ให้นักเรียนเขียนเศษส่วนจากสัญลักษณ์ที่กำหนดให้ต่อไปนี้

541.



แปลงเป็นเศษส่วน เท่ากับ

4
15

542.



แปลงเป็นเศษส่วน เท่ากับ

4
9

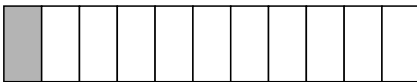
543.



แปลงเป็นเศษส่วน เท่ากับ

9
10

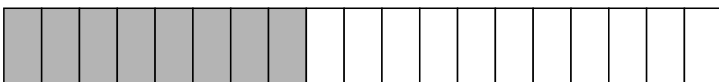
544.



แปลงเป็นเศษส่วน เท่ากับ

1
11

545.



แปลงเป็นเศษส่วน เท่ากับ

8
19



ครูโยย www.ontous.info

ชื่อ-สกุล			
ชั้นเรียน		เลขที่	
คะแนนที่ได้		วันที่	

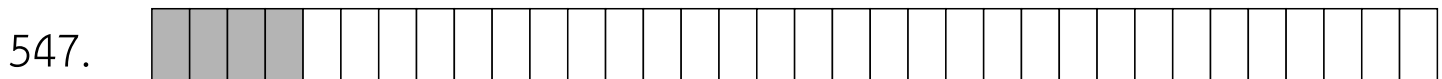
แบบฝึกวิชาคณิตศาสตร์ เรื่อง เศษส่วน สัญลักษณ์แทนเศษส่วน

คำชี้แจง : ให้นักเรียนเขียนเศษส่วนจากสัญลักษณ์ที่กำหนดให้ต่อไปนี้



แปลงเป็นเศษส่วน เท่ากับ

5
16



แปลงเป็นเศษส่วน เท่ากับ

4
34



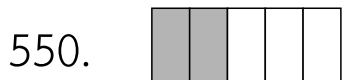
แปลงเป็นเศษส่วน เท่ากับ

15
34



แปลงเป็นเศษส่วน เท่ากับ

31
33



แปลงเป็นเศษส่วน เท่ากับ

2
5



ครูโย www.ontous.info

ชื่อ-สกุล			
ชั้นเรียน		เลขที่	
คะแนนที่ได้		วันที่	

แบบฝึกวิชาคณิตศาสตร์ เรื่อง เศษส่วน สัญลักษณ์แทนเศษส่วน

คำชี้แจง : ให้นักเรียนเขียนเศษส่วนจากสัญลักษณ์ที่กำหนดให้ต่อไปนี้

551.



แปลงเป็นเศษส่วน เท่ากับ

8
11

552.



แปลงเป็นเศษส่วน เท่ากับ

4
30


553.



แปลงเป็นเศษส่วน เท่ากับ

24
32


554.



แปลงเป็นเศษส่วน เท่ากับ

3
7

555.



แปลงเป็นเศษส่วน เท่ากับ

2
3



ครูโยย www.ontous.info

ชื่อ-สกุล			
ชั้นเรียน		เลขที่	
คะแนนที่ได้		วันที่	

แบบฝึกวิชาคณิตศาสตร์ เรื่อง เศษส่วน สัญลักษณ์แทนเศษส่วน

คำชี้แจง : ให้นักเรียนเขียนเศษส่วนจากสัญลักษณ์ที่กำหนดให้ต่อไปนี้



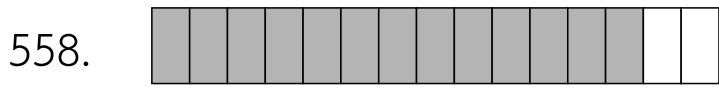
แปลงเป็นเศษส่วน เท่ากับ

16
23



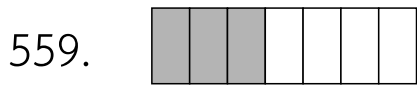
แปลงเป็นเศษส่วน เท่ากับ

30
32



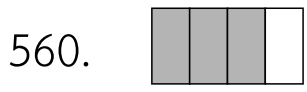
แปลงเป็นเศษส่วน เท่ากับ

13
15



แปลงเป็นเศษส่วน เท่ากับ

3
7



แปลงเป็นเศษส่วน เท่ากับ

3
4



ครูโยย www.ontous.info

ชื่อ-สกุล			
ชั้นเรียน		เลขที่	
คะแนนที่ได้		วันที่	

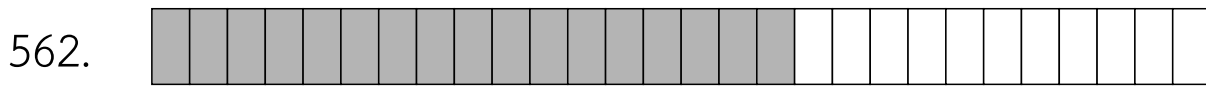
แบบฝึกวิชาคณิตศาสตร์ เรื่อง เศษส่วน สัญลักษณ์แทนเศษส่วน

คำชี้แจง : ให้นักเรียนเขียนเศษส่วนจากสัญลักษณ์ที่กำหนดให้ต่อไปนี้



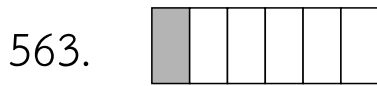
แปลงเป็นเศษส่วน เท่ากับ

16
31



แปลงเป็นเศษส่วน เท่ากับ

17
28



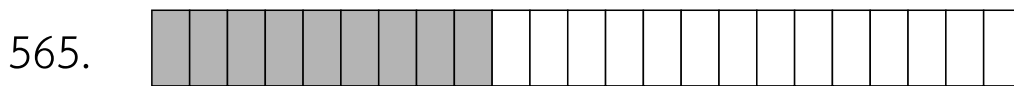
แปลงเป็นเศษส่วน เท่ากับ

1
6



แปลงเป็นเศษส่วน เท่ากับ

27
32



แปลงเป็นเศษส่วน เท่ากับ

9
23



ครูโยย www.ontous.info

ชื่อ-สกุล			
ชั้นเรียน		เลขที่	
คะแนนที่ได้		วันที่	

แบบฝึกวิชาคณิตศาสตร์ เรื่อง เศษส่วน สัญลักษณ์แทนเศษส่วน

คำชี้แจง : ให้นักเรียนเขียนเศษส่วนจากสัญลักษณ์ที่กำหนดให้ต่อไปนี้



แปลงเป็นเศษส่วน เท่ากับ

3
20



แปลงเป็นเศษส่วน เท่ากับ

1
6



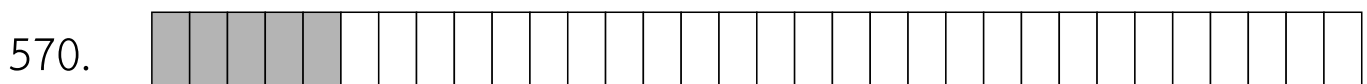
แปลงเป็นเศษส่วน เท่ากับ

9
16



แปลงเป็นเศษส่วน เท่ากับ

12
14



แปลงเป็นเศษส่วน เท่ากับ

5
32



ครูโยย www.ontous.info

ชื่อ-สกุล			
ชั้นเรียน		เลขที่	
คะแนนที่ได้		วันที่	

แบบฝึกวิชาคณิตศาสตร์ เรื่อง เศษส่วน สัญลักษณ์แทนเศษส่วน

คำชี้แจง : ให้นักเรียนเขียนเศษส่วนจากสัญลักษณ์ที่กำหนดให้ต่อไปนี้



แปลงเป็นเศษส่วน เท่ากับ

11
22



แปลงเป็นเศษส่วน เท่ากับ

24
33



แปลงเป็นเศษส่วน เท่ากับ

4
19



แปลงเป็นเศษส่วน เท่ากับ

3
33



แปลงเป็นเศษส่วน เท่ากับ

7
16



ครูโยย www.ontous.info

ชื่อ-สกุล			
ชั้นเรียน		เลขที่	
คะแนนที่ได้		วันที่	

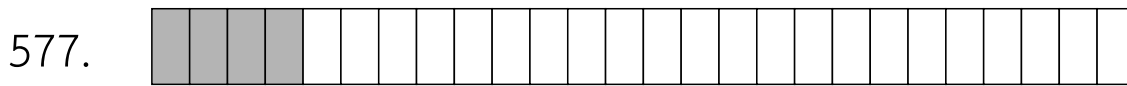
แบบฝึกวิชาคณิตศาสตร์ เรื่อง เศษส่วน สัญลักษณ์แทนเศษส่วน

คำชี้แจง : ให้นักเรียนเขียนเศษส่วนจากสัญลักษณ์ที่กำหนดให้ต่อไปนี้



แปลงเป็นเศษส่วน เท่ากับ

18
25



แปลงเป็นเศษส่วน เท่ากับ

4
26



แปลงเป็นเศษส่วน เท่ากับ

10
26



แปลงเป็นเศษส่วน เท่ากับ

19
34



แปลงเป็นเศษส่วน เท่ากับ

1
4



ครูโยย www.ontous.info

ชื่อ-สกุล			
ชั้นเรียน		เลขที่	
คะแนนที่ได้		วันที่	


แบบฝึกวิชาคณิตศาสตร์ เรื่อง เศษส่วน สัญลักษณ์แทนเศษส่วน

คำชี้แจง : ให้นักเรียนเขียนเศษส่วนจากสัญลักษณ์ที่กำหนดให้ต่อไปนี้



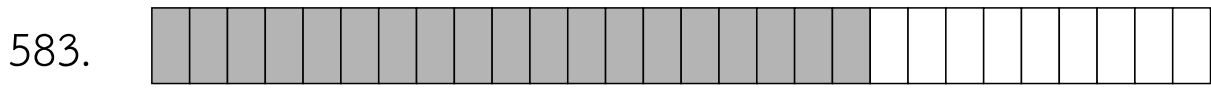
แปลงเป็นเศษส่วน เท่ากับ

12
18



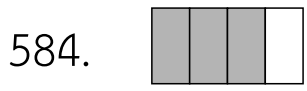
แปลงเป็นเศษส่วน เท่ากับ

11
18



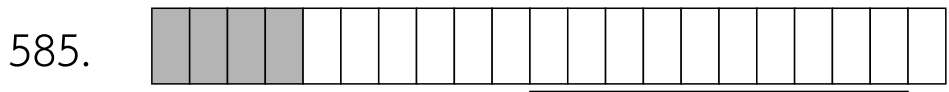
แปลงเป็นเศษส่วน เท่ากับ

19
28



แปลงเป็นเศษส่วน เท่ากับ

3
4



แปลงเป็นเศษส่วน เท่ากับ

4
21



ครูโยย www.ontous.info

ชื่อ-สกุล			
ชั้นเรียน		เลขที่	
คะแนนที่ได้		วันที่	

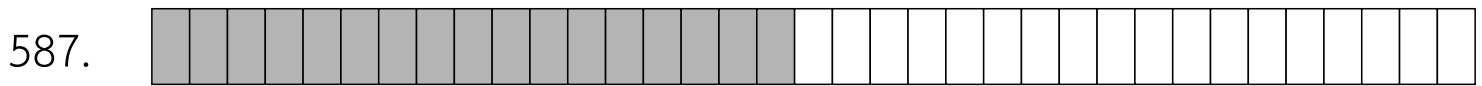
แบบฝึกวิชาคณิตศาสตร์ เรื่อง เศษส่วน สัญลักษณ์แทนเศษส่วน

คำชี้แจง : ให้นักเรียนเขียนเศษส่วนจากสัญลักษณ์ที่กำหนดให้ต่อไปนี้



แปลงเป็นเศษส่วน เท่ากับ

6
13



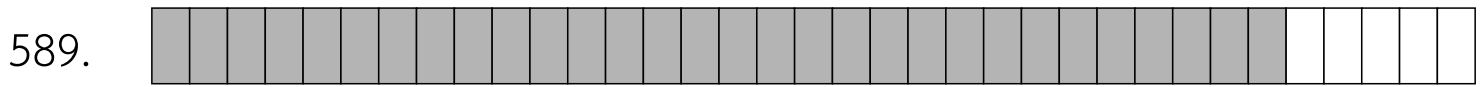
แปลงเป็นเศษส่วน เท่ากับ

17
35



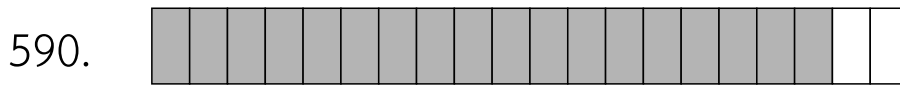
แปลงเป็นเศษส่วน เท่ากับ

9
15



แปลงเป็นเศษส่วน เท่ากับ

30
35



แปลงเป็นเศษส่วน เท่ากับ

18
20



ครูโยย www.ontous.info

ชื่อ-สกุล			
ชั้นเรียน		เลขที่	
คะแนนที่ได้		วันที่	

แบบฝึกวิชาคณิตศาสตร์ เรื่อง เศษส่วน สัญลักษณ์แทนเศษส่วน

คำชี้แจง : ให้นักเรียนเขียนเศษส่วนจากสัญลักษณ์ที่กำหนดให้ต่อไปนี้



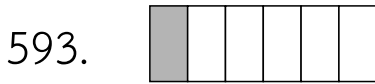
แปลงเป็นเศษส่วน เท่ากับ

31
35



แปลงเป็นเศษส่วน เท่ากับ

19
20



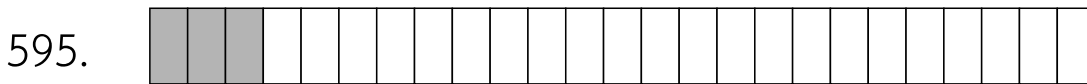
แปลงเป็นเศษส่วน เท่ากับ

1
6



แปลงเป็นเศษส่วน เท่ากับ

27
35



แปลงเป็นเศษส่วน เท่ากับ

3
25



ครูโยย www.ontous.info

ชื่อ-สกุล			
ชั้นเรียน		เลขที่	
คะแนนที่ได้		วันที่	

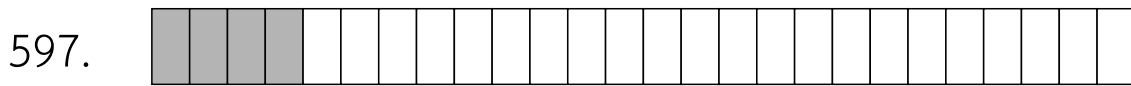
แบบฝึกวิชาคณิตศาสตร์ เรื่อง เศษส่วน สัญลักษณ์แทนเศษส่วน

คำชี้แจง : ให้นักเรียนเขียนเศษส่วนจากสัญลักษณ์ที่กำหนดให้ต่อไปนี้



แปลงเป็นเศษส่วน เท่ากับ

7
31



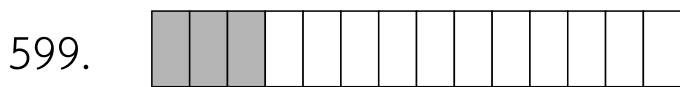
แปลงเป็นเศษส่วน เท่ากับ

4
26




แปลงเป็นเศษส่วน เท่ากับ

18
26



แปลงเป็นเศษส่วน เท่ากับ

3
14



แปลงเป็นเศษส่วน เท่ากับ

6
34

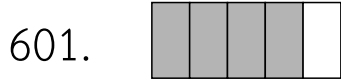


ครูโยย www.ontous.info

ชื่อ-สกุล			
ชั้นเรียน		เลขที่	
คะแนนที่ได้		วันที่	

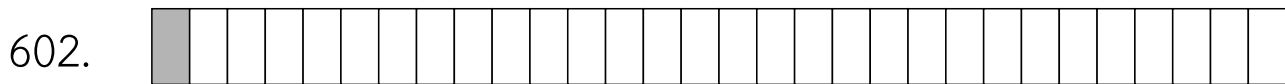
แบบฝึกวิชาคณิตศาสตร์ เรื่อง เศษส่วน สัญลักษณ์แทนเศษส่วน

คำชี้แจง : ให้นักเรียนเขียนเศษส่วนจากสัญลักษณ์ที่กำหนดให้ต่อไปนี้



แปลงเป็นเศษส่วน เท่ากับ

4
5



แปลงเป็นเศษส่วน เท่ากับ

1
30



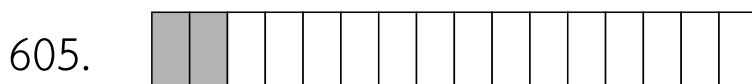
แปลงเป็นเศษส่วน เท่ากับ

21
30



แปลงเป็นเศษส่วน เท่ากับ

17
24



แปลงเป็นเศษส่วน เท่ากับ

2
16



ครูโยย www.ontous.info

ชื่อ-สกุล			
ชั้นเรียน		เลขที่	
คะแนนที่ได้		วันที่	

แบบฝึกวิชาคณิตศาสตร์ เรื่อง เศษส่วน สัญลักษณ์แทนเศษส่วน

คำชี้แจง : ให้นักเรียนเขียนเศษส่วนจากสัญลักษณ์ที่กำหนดให้ต่อไปนี้

606.



แปลงเป็นเศษส่วน เท่ากับ

2
5

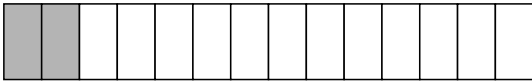
607.



แปลงเป็นเศษส่วน เท่ากับ

4
6

608.



แปลงเป็นเศษส่วน เท่ากับ

2
14

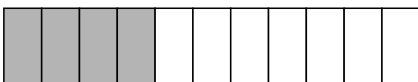
609.



แปลงเป็นเศษส่วน เท่ากับ

3
33

610.



แปลงเป็นเศษส่วน เท่ากับ

4
11



ครูโยย www.ontous.info

ชื่อ-สกุล			
ชั้นเรียน		เลขที่	
คะแนนที่ได้		วันที่	

แบบฝึกวิชาคณิตศาสตร์ เรื่อง เศษส่วน สัญลักษณ์แทนเศษส่วน

คำชี้แจง : ให้นักเรียนเขียนเศษส่วนจากสัญลักษณ์ที่กำหนดให้ต่อไปนี้



แปลงเป็นเศษส่วน เท่ากับ

5
21




แปลงเป็นเศษส่วน เท่ากับ

5
9




แปลงเป็นเศษส่วน เท่ากับ

24
28



แปลงเป็นเศษส่วน เท่ากับ

5
7



แปลงเป็นเศษส่วน เท่ากับ

11
14



ครูโยย www.ontous.info

ชื่อ-สกุล			
ชั้นเรียน		เลขที่	
คะแนนที่ได้		วันที่	


แบบฝึกวิชาคณิตศาสตร์ เรื่อง เศษส่วน สัญลักษณ์แทนเศษส่วน

คำชี้แจง : ให้นักเรียนเขียนเศษส่วนจากสัญลักษณ์ที่กำหนดให้ต่อไปนี้



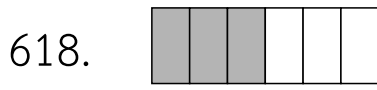
แปลงเป็นเศษส่วน เท่ากับ

4
16



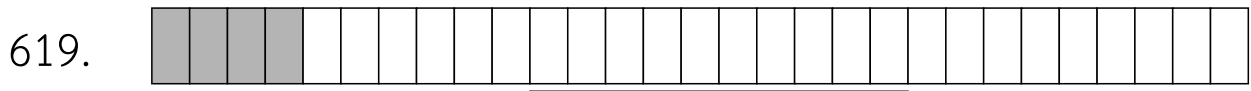
แปลงเป็นเศษส่วน เท่ากับ

1
4



แปลงเป็นเศษส่วน เท่ากับ

3
6



แปลงเป็นเศษส่วน เท่ากับ

4
29



แปลงเป็นเศษส่วน เท่ากับ

16
22



ครูโยย www.ontous.info

ชื่อ-สกุล			
ชั้นเรียน		เลขที่	
คะแนนที่ได้		วันที่	

แบบฝึกวิชาคณิตศาสตร์ เรื่อง เศษส่วน สัญลักษณ์แทนเศษส่วน

คำชี้แจง : ให้นักเรียนเขียนเศษส่วนจากสัญลักษณ์ที่กำหนดให้ต่อไปนี้



แปลงเป็นเศษส่วน เท่ากับ

7
14



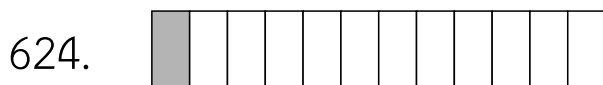
แปลงเป็นเศษส่วน เท่ากับ

12
16



แปลงเป็นเศษส่วน เท่ากับ

20
24



แปลงเป็นเศษส่วน เท่ากับ

1
12



แปลงเป็นเศษส่วน เท่ากับ

5
20




ครูโยย www.ontous.info

ชื่อ-สกุล			
ชั้นเรียน		เลขที่	
คะแนนที่ได้		วันที่	

แบบฝึกวิชาคณิตศาสตร์ เรื่อง เศษส่วน สัญลักษณ์แทนเศษส่วน

คำชี้แจง : ให้นักเรียนเขียนเศษส่วนจากสัญลักษณ์ที่กำหนดให้ต่อไปนี้



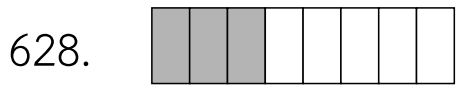
แปลงเป็นเศษส่วน เท่ากับ

5
21



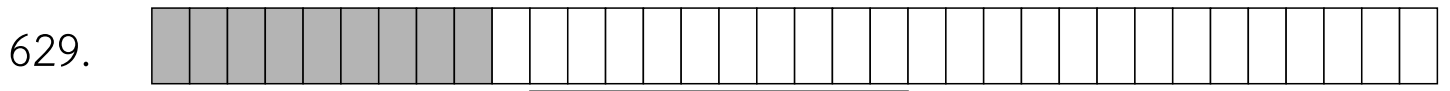
แปลงเป็นเศษส่วน เท่ากับ

3
30



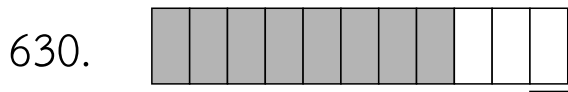
แปลงเป็นเศษส่วน เท่ากับ

3
8



แปลงเป็นเศษส่วน เท่ากับ

9
34



แปลงเป็นเศษส่วน เท่ากับ

8
11



ครูโยย www.ontous.info

ชื่อ-สกุล			
ชั้นเรียน		เลขที่	
คะแนนที่ได้		วันที่	

แบบฝึกวิชาคณิตศาสตร์ เรื่อง เศษส่วน สัญลักษณ์แทนเศษส่วน

คำชี้แจง : ให้นักเรียนเขียนเศษส่วนจากสัญลักษณ์ที่กำหนดให้ต่อไปนี้



แปลงเป็นเศษส่วน เท่ากับ

2
7



แปลงเป็นเศษส่วน เท่ากับ

10
19



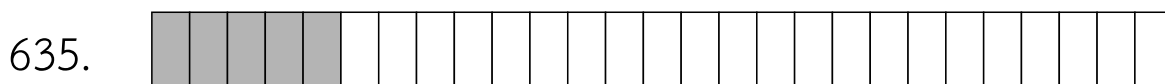
แปลงเป็นเศษส่วน เท่ากับ

6
12



แปลงเป็นเศษส่วน เท่ากับ

2
33



แปลงเป็นเศษส่วน เท่ากับ

5
27




ครูโยย www.ontous.info

ชื่อ-สกุล			
ชั้นเรียน		เลขที่	
คะแนนที่ได้		วันที่	

แบบฝึกวิชาคณิตศาสตร์ เรื่อง เศษส่วน สัญลักษณ์แทนเศษส่วน

คำชี้แจง : ให้นักเรียนเขียนเศษส่วนจากสัญลักษณ์ที่กำหนดให้ต่อไปนี้



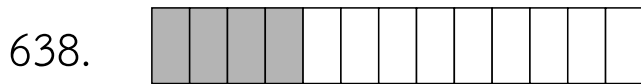
แปลงเป็นเศษส่วน เท่ากับ

1
8



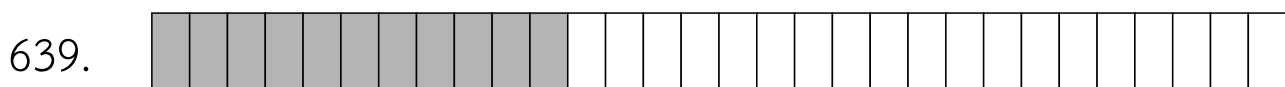
แปลงเป็นเศษส่วน เท่ากับ

1
10



แปลงเป็นเศษส่วน เท่ากับ

4
13



แปลงเป็นเศษส่วน เท่ากับ

11
30



แปลงเป็นเศษส่วน เท่ากับ

1
3

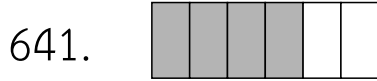


ครูโยย www.ontous.info

ชื่อ-สกุล			
ชั้นเรียน		เลขที่	
คะแนนที่ได้		วันที่	


แบบฝึกวิชาคณิตศาสตร์ เรื่อง เศษส่วน สัญลักษณ์แทนเศษส่วน

คำชี้แจง : ให้นักเรียนเขียนเศษส่วนจากสัญลักษณ์ที่กำหนดให้ต่อไปนี้



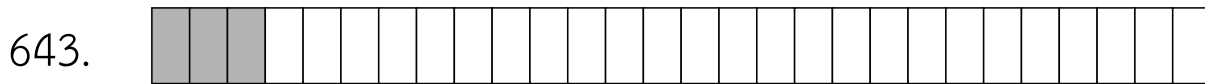
แปลงเป็นเศษส่วน เท่ากับ

4
6



แปลงเป็นเศษส่วน เท่ากับ

1
3



แปลงเป็นเศษส่วน เท่ากับ

3
28



แปลงเป็นเศษส่วน เท่ากับ

1
20



แปลงเป็นเศษส่วน เท่ากับ

1
10



ครูโยย www.ontous.info

ชื่อ-สกุล			
ชั้นเรียน		เลขที่	
คะแนนที่ได้		วันที่	

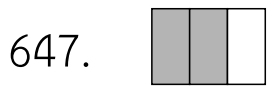
แบบฝึกวิชาคณิตศาสตร์ เรื่อง เศษส่วน สัญลักษณ์แทนเศษส่วน

คำชี้แจง : ให้นักเรียนเขียนเศษส่วนจากสัญลักษณ์ที่กำหนดให้ต่อไปนี้



แปลงเป็นเศษส่วน เท่ากับ

14
21



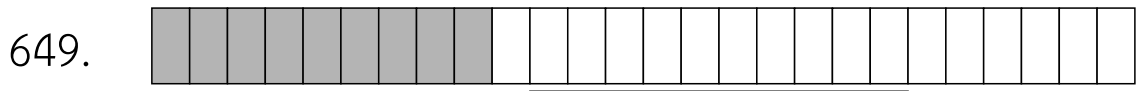
แปลงเป็นเศษส่วน เท่ากับ

2
3



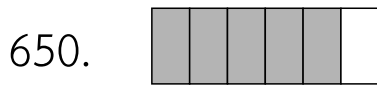
แปลงเป็นเศษส่วน เท่ากับ

9
20



แปลงเป็นเศษส่วน เท่ากับ

9
26



แปลงเป็นเศษส่วน เท่ากับ

5
6



ครูโยย www.ontous.info

ชื่อ-สกุล			
ชั้นเรียน		เลขที่	
คะแนนที่ได้		วันที่	

แบบฝึกวิชาคณิตศาสตร์ เรื่อง เศษส่วน สัญลักษณ์แทนเศษส่วน

คำชี้แจง : ให้นักเรียนเขียนเศษส่วนจากสัญลักษณ์ที่กำหนดให้ต่อไปนี้



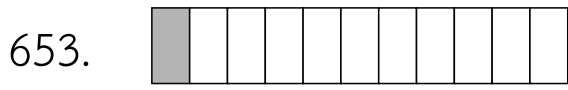
แปลงเป็นเศษส่วน เท่ากับ

14
21



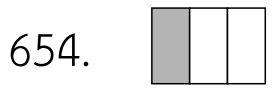
แปลงเป็นเศษส่วน เท่ากับ

4
9



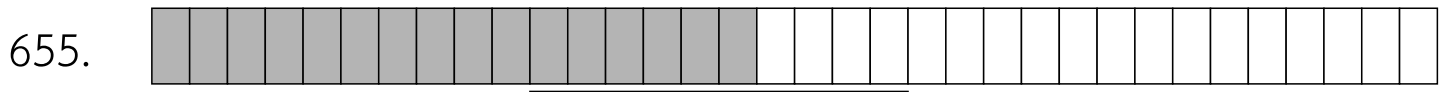
แปลงเป็นเศษส่วน เท่ากับ

1
11



แปลงเป็นเศษส่วน เท่ากับ

1
3



แปลงเป็นเศษส่วน เท่ากับ

16
34



ครูโยย www.ontous.info

ชื่อ-สกุล			
ชั้นเรียน		เลขที่	
คะแนนที่ได้		วันที่	

แบบฝึกวิชาคณิตศาสตร์ เรื่อง เศษส่วน สัญลักษณ์แทนเศษส่วน

คำชี้แจง : ให้นักเรียนเขียนเศษส่วนจากสัญลักษณ์ที่กำหนดให้ต่อไปนี้



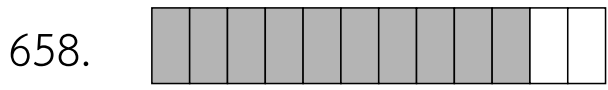
แปลงเป็นเศษส่วน เท่ากับ

14
33



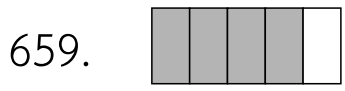
แปลงเป็นเศษส่วน เท่ากับ

24
27



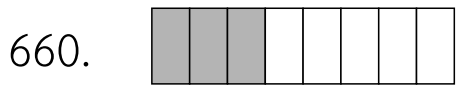
แปลงเป็นเศษส่วน เท่ากับ

10
12



แปลงเป็นเศษส่วน เท่ากับ

4
5



แปลงเป็นเศษส่วน เท่ากับ

3
8



ครูโยย www.ontous.info

ชื่อ-สกุล			
ชั้นเรียน		เลขที่	
คะแนนที่ได้		วันที่	

แบบฝึกวิชาคณิตศาสตร์ เรื่อง เศษส่วน สัญลักษณ์แทนเศษส่วน

คำชี้แจง : ให้นักเรียนเขียนเศษส่วนจากสัญลักษณ์ที่กำหนดให้ต่อไปนี้

661.



แปลงเป็นเศษส่วน เท่ากับ

6
10

662.



แปลงเป็นเศษส่วน เท่ากับ

13
17


663.



แปลงเป็นเศษส่วน เท่ากับ

20
27


664.



แปลงเป็นเศษส่วน เท่ากับ

2
22

665.



แปลงเป็นเศษส่วน เท่ากับ

9
20



ครูโยย www.ontous.info

ชื่อ-สกุล			
ชั้นเรียน		เลขที่	
คะแนนที่ได้		วันที่	

แบบฝึกวิชาคณิตศาสตร์ เรื่อง เศษส่วน สัญลักษณ์แทนเศษส่วน

คำชี้แจง : ให้นักเรียนเขียนเศษส่วนจากสัญลักษณ์ที่กำหนดให้ต่อไปนี้



แปลงเป็นเศษส่วน เท่ากับ

8
14



แปลงเป็นเศษส่วน เท่ากับ

2
16



แปลงเป็นเศษส่วน เท่ากับ

7
19



แปลงเป็นเศษส่วน เท่ากับ

16
20



แปลงเป็นเศษส่วน เท่ากับ

14
17



ครูโยย www.ontous.info

ชื่อ-สกุล			
ชั้นเรียน		เลขที่	
คะแนนที่ได้		วันที่	

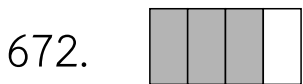
แบบฝึกวิชาคณิตศาสตร์ เรื่อง เศษส่วน สัญลักษณ์แทนเศษส่วน

คำชี้แจง : ให้นักเรียนเขียนเศษส่วนจากสัญลักษณ์ที่กำหนดให้ต่อไปนี้



แปลงเป็นเศษส่วน เท่ากับ

7
9



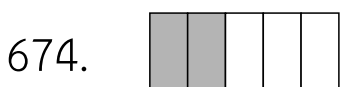
แปลงเป็นเศษส่วน เท่ากับ

3
4



แปลงเป็นเศษส่วน เท่ากับ

6
31



แปลงเป็นเศษส่วน เท่ากับ

2
5



แปลงเป็นเศษส่วน เท่ากับ

15
32



ครูโยย www.ontous.info

ชื่อ-สกุล			
ชั้นเรียน		เลขที่	
คะแนนที่ได้		วันที่	

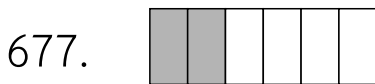
แบบฝึกวิชาคณิตศาสตร์ เรื่อง เศษส่วน สัญลักษณ์แทนเศษส่วน

คำชี้แจง : ให้นักเรียนเขียนเศษส่วนจากสัญลักษณ์ที่กำหนดให้ต่อไปนี้



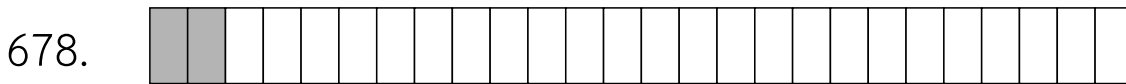
แปลงเป็นเศษส่วน เท่ากับ

19
33



แปลงเป็นเศษส่วน เท่ากับ

2
6



แปลงเป็นเศษส่วน เท่ากับ

2
26



แปลงเป็นเศษส่วน เท่ากับ

9
13



แปลงเป็นเศษส่วน เท่ากับ

2
29



ครูโยย www.ontous.info

ชื่อ-สกุล			
ชั้นเรียน		เลขที่	
คะแนนที่ได้		วันที่	

แบบฝึกวิชาคณิตศาสตร์ เรื่อง เศษส่วน สัญลักษณ์แทนเศษส่วน

คำชี้แจง : ให้นักเรียนเขียนเศษส่วนจากสัญลักษณ์ที่กำหนดให้ต่อไปนี้



แปลงเป็นเศษส่วน เท่ากับ

3
6



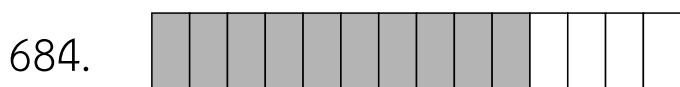
แปลงเป็นเศษส่วน เท่ากับ

7
8



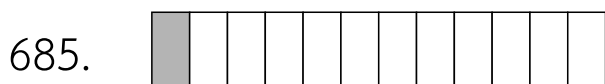
แปลงเป็นเศษส่วน เท่ากับ

16
20



แปลงเป็นเศษส่วน เท่ากับ

10
14



แปลงเป็นเศษส่วน เท่ากับ

1
12



ครูโยย www.ontous.info

ชื่อ-สกุล			
ชั้นเรียน		เลขที่	
คะแนนที่ได้		วันที่	

แบบฝึกวิชาคณิตศาสตร์ เรื่อง เศษส่วน สัญลักษณ์แทนเศษส่วน

คำชี้แจง : ให้นักเรียนเขียนเศษส่วนจากสัญลักษณ์ที่กำหนดให้ต่อไปนี้



แปลงเป็นเศษส่วน เท่ากับ

8
24



แปลงเป็นเศษส่วน เท่ากับ

8
16



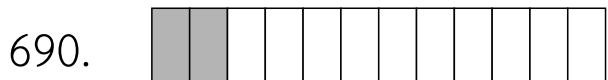
แปลงเป็นเศษส่วน เท่ากับ

7
11



แปลงเป็นเศษส่วน เท่ากับ

5
22



แปลงเป็นเศษส่วน เท่ากับ

2
12



ครูโยย www.ontous.info

ชื่อ-สกุล			
ชั้นเรียน		เลขที่	
คะแนนที่ได้		วันที่	

แบบฝึกวิชาคณิตศาสตร์ เรื่อง เศษส่วน สัญลักษณ์แทนเศษส่วน

คำชี้แจง : ให้นักเรียนเขียนเศษส่วนจากสัญลักษณ์ที่กำหนดให้ต่อไปนี้



แปลงเป็นเศษส่วน เท่ากับ

6
9



แปลงเป็นเศษส่วน เท่ากับ

2
14



แปลงเป็นเศษส่วน เท่ากับ

2
24



แปลงเป็นเศษส่วน เท่ากับ

4
15



แปลงเป็นเศษส่วน เท่ากับ

6
7




ครูโยย www.ontous.info

ชื่อ-สกุล			
ชั้นเรียน		เลขที่	
คะแนนที่ได้		วันที่	

แบบฝึกวิชาคณิตศาสตร์ เรื่อง เศษส่วน สัญลักษณ์แทนเศษส่วน

คำชี้แจง : ให้นักเรียนเขียนเศษส่วนจากสัญลักษณ์ที่กำหนดให้ต่อไปนี้



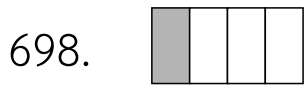
แปลงเป็นเศษส่วน เท่ากับ

11
35



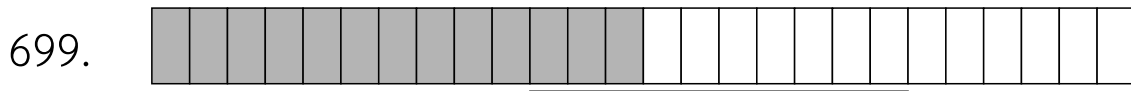
แปลงเป็นเศษส่วน เท่ากับ

5
10



แปลงเป็นเศษส่วน เท่ากับ

1
4



แปลงเป็นเศษส่วน เท่ากับ

13
26



แปลงเป็นเศษส่วน เท่ากับ

14
19



ครูโยย www.ontous.info

ชื่อ-สกุล			
ชั้นเรียน		เลขที่	
คะแนนที่ได้		วันที่	

แบบฝึกวิชาคณิตศาสตร์ เรื่อง เศษส่วน สัญลักษณ์แทนเศษส่วน

คำชี้แจง : ให้นักเรียนเขียนเศษส่วนจากสัญลักษณ์ที่กำหนดให้ต่อไปนี้



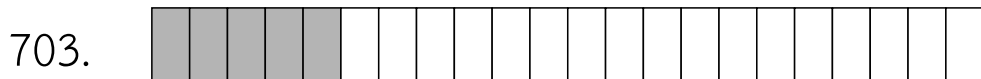
แปลงเป็นเศษส่วน เท่ากับ

27
33




แปลงเป็นเศษส่วน เท่ากับ

28
29




แปลงเป็นเศษส่วน เท่ากับ

5
22



แปลงเป็นเศษส่วน เท่ากับ

9
12



แปลงเป็นเศษส่วน เท่ากับ

2
11



ครูโยย www.ontous.info

ชื่อ-สกุล			
ชั้นเรียน		เลขที่	
คะแนนที่ได้		วันที่	

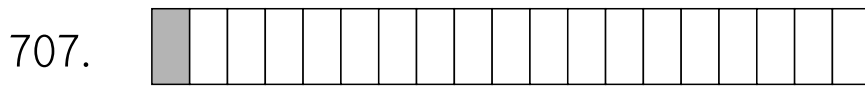
แบบฝึกวิชาคณิตศาสตร์ เรื่อง เศษส่วน สัญลักษณ์แทนเศษส่วน

คำชี้แจง : ให้นักเรียนเขียนเศษส่วนจากสัญลักษณ์ที่กำหนดให้ต่อไปนี้



แปลงเป็นเศษส่วน เท่ากับ

26
33



แปลงเป็นเศษส่วน เท่ากับ

1
19



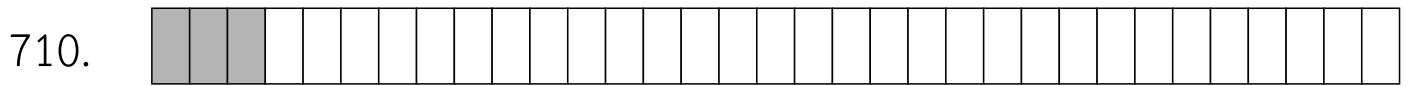
แปลงเป็นเศษส่วน เท่ากับ

17
19



แปลงเป็นเศษส่วน เท่ากับ

7
9



แปลงเป็นเศษส่วน เท่ากับ

3
33

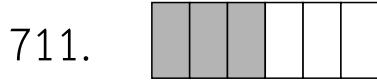


ครู้อย www.ontous.info

ชื่อ-สกุล			
ชั้นเรียน		เลขที่	
คะแนนที่ได้		วันที่	

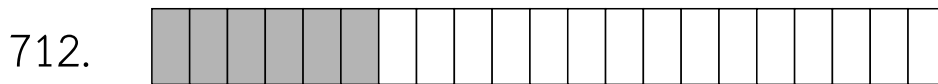
แบบฝึกวิชาคณิตศาสตร์ เรื่อง เศษส่วน สัญลักษณ์แทนเศษส่วน

คำชี้แจง : ให้นักเรียนเขียนเศษส่วนจากสัญลักษณ์ที่กำหนดให้ต่อไปนี้



แปลงเป็นเศษส่วน เท่ากับ

3
6



แปลงเป็นเศษส่วน เท่ากับ

6
21



แปลงเป็นเศษส่วน เท่ากับ

1
3



แปลงเป็นเศษส่วน เท่ากับ

3
24



แปลงเป็นเศษส่วน เท่ากับ

17
19



ครู้อย www.ontous.info

ชื่อ-สกุล			
ชั้นเรียน		เลขที่	
คะแนนที่ได้		วันที่	

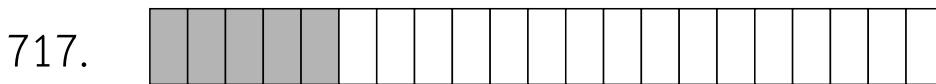
แบบฝึกวิชาคณิตศาสตร์ เรื่อง เศษส่วน สัญลักษณ์แทนเศษส่วน

คำชี้แจง : ให้นักเรียนเขียนเศษส่วนจากสัญลักษณ์ที่กำหนดให้ต่อไปนี้




แปลงเป็นเศษส่วน เท่ากับ

19
23



แปลงเป็นเศษส่วน เท่ากับ

5
21



แปลงเป็นเศษส่วน เท่ากับ

2
6



แปลงเป็นเศษส่วน เท่ากับ

29
32



แปลงเป็นเศษส่วน เท่ากับ

21
24




ครูโยย www.ontous.info

ชื่อ-สกุล			
ชั้นเรียน		เลขที่	
คะแนนที่ได้		วันที่	

แบบฝึกวิชาคณิตศาสตร์ เรื่อง เศษส่วน สัญลักษณ์แทนเศษส่วน

คำชี้แจง : ให้นักเรียนเขียนเศษส่วนจากสัญลักษณ์ที่กำหนดให้ต่อไปนี้



แปลงเป็นเศษส่วน เท่ากับ

2
26



แปลงเป็นเศษส่วน เท่ากับ

19
24




แปลงเป็นเศษส่วน เท่ากับ

32
35



แปลงเป็นเศษส่วน เท่ากับ

8
14



แปลงเป็นเศษส่วน เท่ากับ

20
25



ครูย์ www.ontous.info

ชื่อ-สกุล			
ชั้นเรียน		เลขที่	
คะแนนที่ได้		วันที่	

แบบฝึกวิชาคณิตศาสตร์ เรื่อง เศษส่วน สัญลักษณ์แทนเศษส่วน

คำชี้แจง : ให้นักเรียนเขียนเศษส่วนจากสัญลักษณ์ที่กำหนดให้ต่อไปนี้

726.



แปลงเป็นเศษส่วน เท่ากับ

10
16

727.



แปลงเป็นเศษส่วน เท่ากับ

2
10

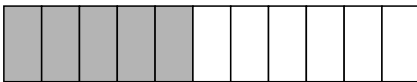
728.



แปลงเป็นเศษส่วน เท่ากับ

5
31

729.



แปลงเป็นเศษส่วน เท่ากับ

5
11

730.



แปลงเป็นเศษส่วน เท่ากับ

5
6



ครูโยย www.ontous.info

ชื่อ-สกุล			
ชั้นเรียน		เลขที่	
คะแนนที่ได้		วันที่	

แบบฝึกวิชาคณิตศาสตร์ เรื่อง เศษส่วน สัญลักษณ์แทนเศษส่วน

คำชี้แจง : ให้นักเรียนเขียนเศษส่วนจากสัญลักษณ์ที่กำหนดให้ต่อไปนี้



แปลงเป็นเศษส่วน เท่ากับ

22
24



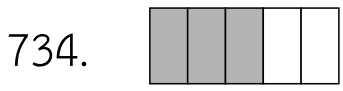
แปลงเป็นเศษส่วน เท่ากับ

7
15



แปลงเป็นเศษส่วน เท่ากับ

31
33



แปลงเป็นเศษส่วน เท่ากับ

3
5



แปลงเป็นเศษส่วน เท่ากับ

17
24



ครูโยย www.ontous.info

ชื่อ-สกุล			
ชั้นเรียน		เลขที่	
คะแนนที่ได้		วันที่	

แบบฝึกวิชาคณิตศาสตร์ เรื่อง เศษส่วน สัญลักษณ์แทนเศษส่วน

คำชี้แจง : ให้นักเรียนเขียนเศษส่วนจากสัญลักษณ์ที่กำหนดให้ต่อไปนี้

736.



แปลงเป็นเศษส่วน เท่ากับ

7
14

737.



แปลงเป็นเศษส่วน เท่ากับ

13
16

738.



แปลงเป็นเศษส่วน เท่ากับ

4
18


739.



แปลงเป็นเศษส่วน เท่ากับ

9
15

740.



แปลงเป็นเศษส่วน เท่ากับ

20
27



ครูโยย www.ontous.info

ชื่อ-สกุล			
ชั้นเรียน		เลขที่	
คะแนนที่ได้		วันที่	

แบบฝึกวิชาคณิตศาสตร์ เรื่อง เศษส่วน สัญลักษณ์แทนเศษส่วน

คำชี้แจง : ให้นักเรียนเขียนเศษส่วนจากสัญลักษณ์ที่กำหนดให้ต่อไปนี้

741.



แปลงเป็นเศษส่วน เท่ากับ

5
6

742.



แปลงเป็นเศษส่วน เท่ากับ

12
14

743.



แปลงเป็นเศษส่วน เท่ากับ

1
6


744.



แปลงเป็นเศษส่วน เท่ากับ

10
31

745.



แปลงเป็นเศษส่วน เท่ากับ

12
16



ครูโยย www.ontous.info

ชื่อ-สกุล			
ชั้นเรียน		เลขที่	
คะแนนที่ได้		วันที่	

แบบฝึกวิชาคณิตศาสตร์ เรื่อง เศษส่วน สัญลักษณ์แทนเศษส่วน

คำชี้แจง : ให้นักเรียนเขียนเศษส่วนจากสัญลักษณ์ที่กำหนดให้ต่อไปนี้




แปลงเป็นเศษส่วน เท่ากับ

10
23



แปลงเป็นเศษส่วน เท่ากับ

12
20



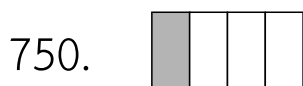
แปลงเป็นเศษส่วน เท่ากับ

2
3



แปลงเป็นเศษส่วน เท่ากับ

3
9



แปลงเป็นเศษส่วน เท่ากับ

1
4



ครูโยย www.ontous.info

ชื่อ-สกุล			
ชั้นเรียน		เลขที่	
คะแนนที่ได้		วันที่	

แบบฝึกวิชาคณิตศาสตร์ เรื่อง เศษส่วน สัญลักษณ์แทนเศษส่วน

คำชี้แจง : ให้นักเรียนเขียนเศษส่วนจากสัญลักษณ์ที่กำหนดให้ต่อไปนี้



แปลงเป็นเศษส่วน เท่ากับ

1
6



แปลงเป็นเศษส่วน เท่ากับ

14
28



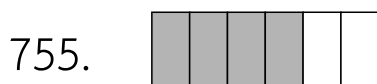
แปลงเป็นเศษส่วน เท่ากับ

7
17



แปลงเป็นเศษส่วน เท่ากับ

2
17



แปลงเป็นเศษส่วน เท่ากับ

4
6



ครูย์ www.ontous.info

ชื่อ-สกุล			
ชั้นเรียน		เลขที่	
คะแนนที่ได้		วันที่	

แบบฝึกวิชาคณิตศาสตร์ เรื่อง เศษส่วน สัญลักษณ์แทนเศษส่วน

คำชี้แจง : ให้นักเรียนเขียนเศษส่วนจากสัญลักษณ์ที่กำหนดให้ต่อไปนี้



แปลงเป็นเศษส่วน เท่ากับ

1
6




แปลงเป็นเศษส่วน เท่ากับ

16
20



แปลงเป็นเศษส่วน เท่ากับ

23
34



แปลงเป็นเศษส่วน เท่ากับ

25
29



แปลงเป็นเศษส่วน เท่ากับ

1
21



ครูโยย www.ontous.info

ชื่อ-สกุล			
ชั้นเรียน		เลขที่	
คะแนนที่ได้		วันที่	

แบบฝึกวิชาคณิตศาสตร์ เรื่อง เศษส่วน สัญลักษณ์แทนเศษส่วน

คำชี้แจง : ให้นักเรียนเขียนเศษส่วนจากสัญลักษณ์ที่กำหนดให้ต่อไปนี้

761.



แปลงเป็นเศษส่วน เท่ากับ

5
19

762.



แปลงเป็นเศษส่วน เท่ากับ

8
23

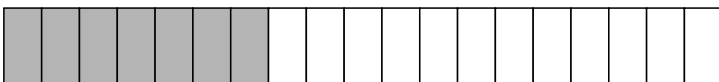
763.



แปลงเป็นเศษส่วน เท่ากับ

18
26

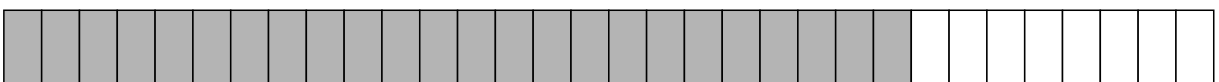
764.



แปลงเป็นเศษส่วน เท่ากับ

7
19

765.



แปลงเป็นเศษส่วน เท่ากับ

24
32




ครูย์ www.ontous.info

ชื่อ-สกุล			
ชั้นเรียน		เลขที่	
คะแนนที่ได้		วันที่	

แบบฝึกวิชาคณิตศาสตร์ เรื่อง เศษส่วน สัญลักษณ์แทนเศษส่วน

คำชี้แจง : ให้นักเรียนเขียนเศษส่วนจากสัญลักษณ์ที่กำหนดให้ต่อไปนี้



แปลงเป็นเศษส่วน เท่ากับ

3
27




แปลงเป็นเศษส่วน เท่ากับ

20
23



แปลงเป็นเศษส่วน เท่ากับ

23
28



แปลงเป็นเศษส่วน เท่ากับ

7
24



แปลงเป็นเศษส่วน เท่ากับ

2
4




ครู้อย www.ontous.info

ชื่อ-สกุล			
ชั้นเรียน		เลขที่	
คะแนนที่ได้		วันที่	

แบบฝึกวิชาคณิตศาสตร์ เรื่อง เศษส่วน สัญลักษณ์แทนเศษส่วน

คำชี้แจง : ให้นักเรียนเขียนเศษส่วนจากสัญลักษณ์ที่กำหนดให้ต่อไปนี้



แปลงเป็นเศษส่วน เท่ากับ

5
33



แปลงเป็นเศษส่วน เท่ากับ

7
22



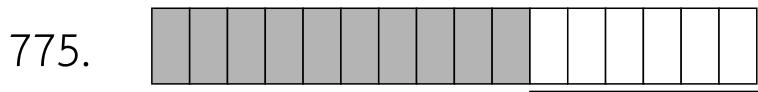
แปลงเป็นเศษส่วน เท่ากับ

3
9



แปลงเป็นเศษส่วน เท่ากับ

30
33



แปลงเป็นเศษส่วน เท่ากับ

10
16



ครู้อย www.ontous.info

ชื่อ-สกุล			
ชั้นเรียน		เลขที่	
คะแนนที่ได้		วันที่	

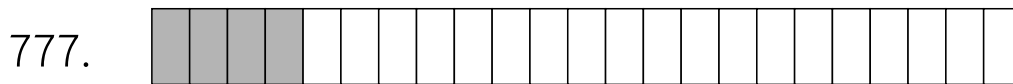
แบบฝึกวิชาคณิตศาสตร์ เรื่อง เศษส่วน สัญลักษณ์แทนเศษส่วน

คำชี้แจง : ให้นักเรียนเขียนเศษส่วนจากสัญลักษณ์ที่กำหนดให้ต่อไปนี้



แปลงเป็นเศษส่วน เท่ากับ

1
9



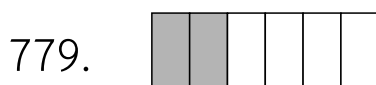
แปลงเป็นเศษส่วน เท่ากับ

4
23



แปลงเป็นเศษส่วน เท่ากับ

1
16



แปลงเป็นเศษส่วน เท่ากับ

2
6



แปลงเป็นเศษส่วน เท่ากับ

11
20



ครูโยย www.ontous.info

ชื่อ-สกุล			
ชั้นเรียน		เลขที่	
คะแนนที่ได้		วันที่	

แบบฝึกวิชาคณิตศาสตร์ เรื่อง เศษส่วน สัญลักษณ์แทนเศษส่วน

คำชี้แจง : ให้นักเรียนเขียนเศษส่วนจากสัญลักษณ์ที่กำหนดให้ต่อไปนี้



แปลงเป็นเศษส่วน เท่ากับ

4
22




แปลงเป็นเศษส่วน เท่ากับ

26
29



แปลงเป็นเศษส่วน เท่ากับ

10
17



แปลงเป็นเศษส่วน เท่ากับ

11
18



แปลงเป็นเศษส่วน เท่ากับ

26
32



ครูโยย www.ontous.info

ชื่อ-สกุล			
ชั้นเรียน		เลขที่	
คะแนนที่ได้		วันที่	

แบบฝึกวิชาคณิตศาสตร์ เรื่อง เศษส่วน สัญลักษณ์แทนเศษส่วน

คำชี้แจง : ให้นักเรียนเขียนเศษส่วนจากสัญลักษณ์ที่กำหนดให้ต่อไปนี้

786.



แปลงเป็นเศษส่วน เท่ากับ

4
12

787.



แปลงเป็นเศษส่วน เท่ากับ

1
13

788.



แปลงเป็นเศษส่วน เท่ากับ

9
16


789.



แปลงเป็นเศษส่วน เท่ากับ

18
26

790.



แปลงเป็นเศษส่วน เท่ากับ

16
29



ครูโยย www.ontous.info

ชื่อ-สกุล			
ชั้นเรียน		เลขที่	
คะแนนที่ได้		วันที่	

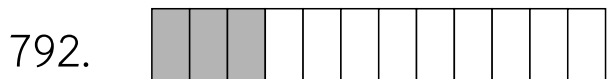
แบบฝึกวิชาคณิตศาสตร์ เรื่อง เศษส่วน สัญลักษณ์แทนเศษส่วน

คำชี้แจง : ให้นักเรียนเขียนเศษส่วนจากสัญลักษณ์ที่กำหนดให้ต่อไปนี้



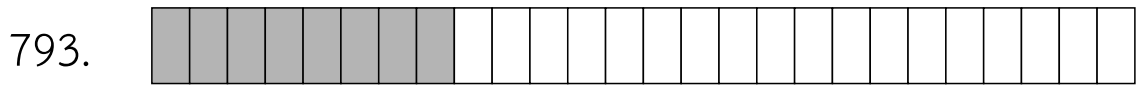
แปลงเป็นเศษส่วน เท่ากับ

6
28



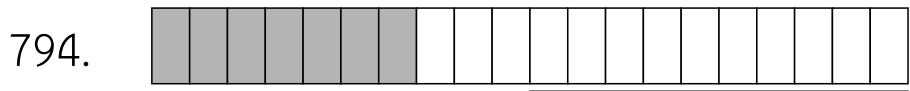
แปลงเป็นเศษส่วน เท่ากับ

3
12



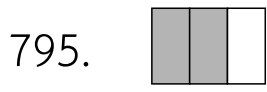
แปลงเป็นเศษส่วน เท่ากับ

8
26



แปลงเป็นเศษส่วน เท่ากับ

7
20



แปลงเป็นเศษส่วน เท่ากับ

2
3



ครูโยย www.ontous.info

ชื่อ-สกุล			
ชั้นเรียน		เลขที่	
คะแนนที่ได้		วันที่	

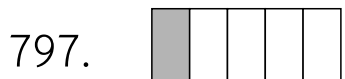
แบบฝึกวิชาคณิตศาสตร์ เรื่อง เศษส่วน สัญลักษณ์แทนเศษส่วน

คำชี้แจง : ให้นักเรียนเขียนเศษส่วนจากสัญลักษณ์ที่กำหนดให้ต่อไปนี้



แปลงเป็นเศษส่วน เท่ากับ

14
20



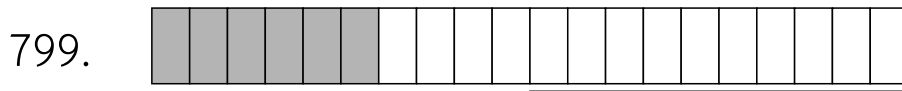
แปลงเป็นเศษส่วน เท่ากับ

1
5



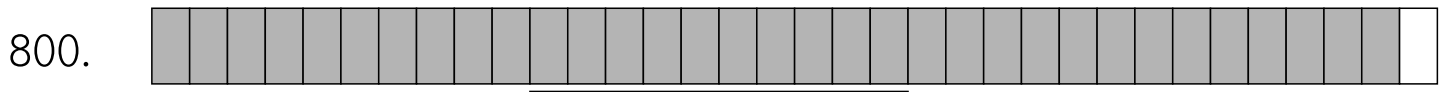
แปลงเป็นเศษส่วน เท่ากับ

21
25



แปลงเป็นเศษส่วน เท่ากับ

6
20



แปลงเป็นเศษส่วน เท่ากับ

33
34



ครูโยย www.ontous.info

ชื่อ-สกุล			
ชั้นเรียน		เลขที่	
คะแนนที่ได้		วันที่	

แบบฝึกวิชาคณิตศาสตร์ เรื่อง เศษส่วน สัญลักษณ์แทนเศษส่วน

คำชี้แจง : ให้นักเรียนเขียนเศษส่วนจากสัญลักษณ์ที่กำหนดให้ต่อไปนี้



แปลงเป็นเศษส่วน เท่ากับ

16
27




แปลงเป็นเศษส่วน เท่ากับ

26
33




แปลงเป็นเศษส่วน เท่ากับ

10
13



แปลงเป็นเศษส่วน เท่ากับ

19
21



แปลงเป็นเศษส่วน เท่ากับ

22
35



ครูโยย www.ontous.info

ชื่อ-สกุล			
ชั้นเรียน		เลขที่	
คะแนนที่ได้		วันที่	

แบบฝึกวิชาคณิตศาสตร์ เรื่อง เศษส่วน สัญลักษณ์แทนเศษส่วน

คำชี้แจง : ให้นักเรียนเขียนเศษส่วนจากสัญลักษณ์ที่กำหนดให้ต่อไปนี้

806.



แปลงเป็นเศษส่วน เท่ากับ

13
15

807.



แปลงเป็นเศษส่วน เท่ากับ

20
23

808.



แปลงเป็นเศษส่วน เท่ากับ

3
28

809.



แปลงเป็นเศษส่วน เท่ากับ

16
30

810.



แปลงเป็นเศษส่วน เท่ากับ

31
32



ครูโยย www.ontous.info

ชื่อ-สกุล			
ชั้นเรียน		เลขที่	
คะแนนที่ได้		วันที่	

แบบฝึกวิชาคณิตศาสตร์ เรื่อง เศษส่วน สัญลักษณ์แทนเศษส่วน

คำชี้แจง : ให้นักเรียนเขียนเศษส่วนจากสัญลักษณ์ที่กำหนดให้ต่อไปนี้



แปลงเป็นเศษส่วน เท่ากับ

15
25



แปลงเป็นเศษส่วน เท่ากับ

2
7



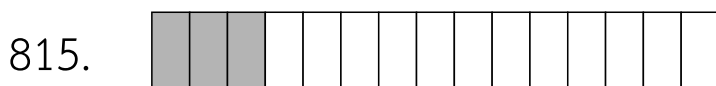
แปลงเป็นเศษส่วน เท่ากับ

10
15



แปลงเป็นเศษส่วน เท่ากับ

14
17



แปลงเป็นเศษส่วน เท่ากับ

3
15



ครูโยย www.ontous.info

ชื่อ-สกุล			
ชั้นเรียน		เลขที่	
คะแนนที่ได้		วันที่	

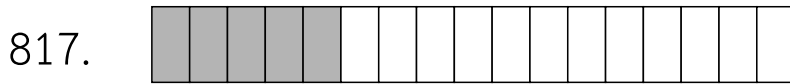
แบบฝึกวิชาคณิตศาสตร์ เรื่อง เศษส่วน สัญลักษณ์แทนเศษส่วน

คำชี้แจง : ให้นักเรียนเขียนเศษส่วนจากสัญลักษณ์ที่กำหนดให้ต่อไปนี้



แปลงเป็นเศษส่วน เท่ากับ

22
35



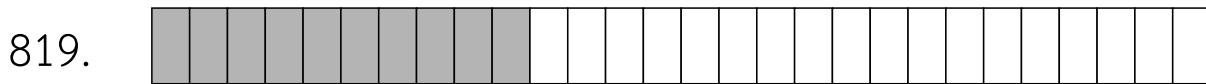
แปลงเป็นเศษส่วน เท่ากับ

5
17



แปลงเป็นเศษส่วน เท่ากับ

13
30



แปลงเป็นเศษส่วน เท่ากับ

10
28



แปลงเป็นเศษส่วน เท่ากับ

2
3



ครูโยย www.ontous.info

ชื่อ-สกุล			
ชั้นเรียน		เลขที่	
คะแนนที่ได้		วันที่	

แบบฝึกวิชาคณิตศาสตร์ เรื่อง เศษส่วน สัญลักษณ์แทนเศษส่วน

คำชี้แจง : ให้นักเรียนเขียนเศษส่วนจากสัญลักษณ์ที่กำหนดให้ต่อไปนี้



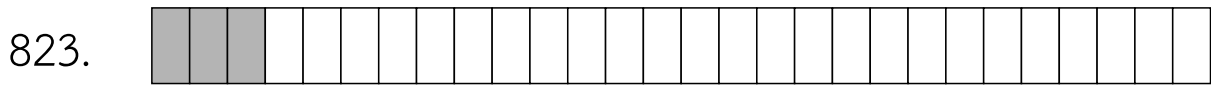
แปลงเป็นเศษส่วน เท่ากับ

10
17



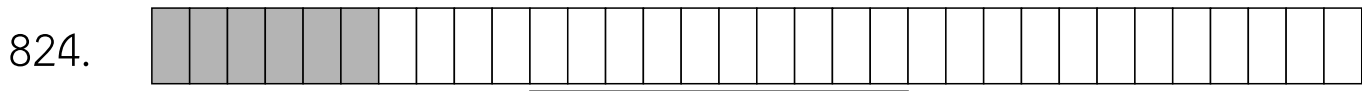
แปลงเป็นเศษส่วน เท่ากับ

1
20



แปลงเป็นเศษส่วน เท่ากับ

3
28



แปลงเป็นเศษส่วน เท่ากับ

6
32



แปลงเป็นเศษส่วน เท่ากับ

20
28



ครูโยย www.ontous.info

ชื่อ-สกุล			
ชั้นเรียน		เลขที่	
คะแนนที่ได้		วันที่	

แบบฝึกวิชาคณิตศาสตร์ เรื่อง เศษส่วน สัญลักษณ์แทนเศษส่วน

คำชี้แจง : ให้นักเรียนเขียนเศษส่วนจากสัญลักษณ์ที่กำหนดให้ต่อไปนี้

826.



แปลงเป็นเศษส่วน เท่ากับ

7
19

827.



แปลงเป็นเศษส่วน เท่ากับ

6
11

828.



แปลงเป็นเศษส่วน เท่ากับ

1
3


829.



แปลงเป็นเศษส่วน เท่ากับ

21
26

830.



แปลงเป็นเศษส่วน เท่ากับ

1
28



ครูโยย www.ontous.info

ชื่อ-สกุล			
ชั้นเรียน		เลขที่	
คะแนนที่ได้		วันที่	

แบบฝึกวิชาคณิตศาสตร์ เรื่อง เศษส่วน สัญลักษณ์แทนเศษส่วน

คำชี้แจง : ให้นักเรียนเขียนเศษส่วนจากสัญลักษณ์ที่กำหนดให้ต่อไปนี้



แปลงเป็นเศษส่วน เท่ากับ

1
3



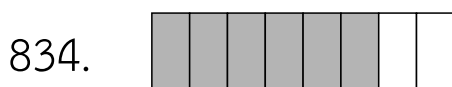
แปลงเป็นเศษส่วน เท่ากับ

13
14



แปลงเป็นเศษส่วน เท่ากับ

6
19



แปลงเป็นเศษส่วน เท่ากับ

6
8



แปลงเป็นเศษส่วน เท่ากับ

10
34



ครูโยย www.ontous.info

ชื่อ-สกุล			
ชั้นเรียน		เลขที่	
คะแนนที่ได้		วันที่	

แบบฝึกวิชาคณิตศาสตร์ เรื่อง เศษส่วน สัญลักษณ์แทนเศษส่วน

คำชี้แจง : ให้นักเรียนเขียนเศษส่วนจากสัญลักษณ์ที่กำหนดให้ต่อไปนี้



แปลงเป็นเศษส่วน เท่ากับ

12
20



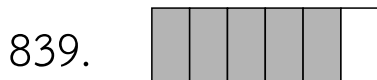
แปลงเป็นเศษส่วน เท่ากับ

6
27



แปลงเป็นเศษส่วน เท่ากับ

19
31



แปลงเป็นเศษส่วน เท่ากับ

5
6



แปลงเป็นเศษส่วน เท่ากับ

3
13



ครู้อย www.ontous.info

ชื่อ-สกุล			
ชั้นเรียน		เลขที่	
คะแนนที่ได้		วันที่	

แบบฝึกวิชาคณิตศาสตร์ เรื่อง เศษส่วน สัญลักษณ์แทนเศษส่วน

คำชี้แจง : ให้นักเรียนเขียนเศษส่วนจากสัญลักษณ์ที่กำหนดให้ต่อไปนี้

841.



แปลงเป็นเศษส่วน เท่ากับ

4
6

842.



แปลงเป็นเศษส่วน เท่ากับ

1
4


843.



แปลงเป็นเศษส่วน เท่ากับ

6
8

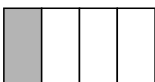
844.



แปลงเป็นเศษส่วน เท่ากับ

16
21

845.



แปลงเป็นเศษส่วน เท่ากับ

1
4




ครู้อย www.ontous.info

ชื่อ-สกุล			
ชั้นเรียน		เลขที่	
คะแนนที่ได้		วันที่	

แบบฝึกวิชาคณิตศาสตร์ เรื่อง เศษส่วน สัญลักษณ์แทนเศษส่วน

คำชี้แจง : ให้นักเรียนเขียนเศษส่วนจากสัญลักษณ์ที่กำหนดให้ต่อไปนี้

846.



แปลงเป็นเศษส่วน เท่ากับ

1
4

847.



แปลงเป็นเศษส่วน เท่ากับ

1
17

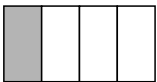
848.



แปลงเป็นเศษส่วน เท่ากับ

1
4


849.



แปลงเป็นเศษส่วน เท่ากับ

1
4

850.



แปลงเป็นเศษส่วน เท่ากับ

1
3



ครูโยย www.ontous.info

ชื่อ-สกุล			
ชั้นเรียน		เลขที่	
คะแนนที่ได้		วันที่	

แบบฝึกวิชาคณิตศาสตร์ เรื่อง เศษส่วน สัญลักษณ์แทนเศษส่วน

คำชี้แจง : ให้นักเรียนเขียนเศษส่วนจากสัญลักษณ์ที่กำหนดให้ต่อไปนี้

851.



แปลงเป็นเศษส่วน เท่ากับ

31
35

852.



แปลงเป็นเศษส่วน เท่ากับ

20
27

853.



แปลงเป็นเศษส่วน เท่ากับ

9
17

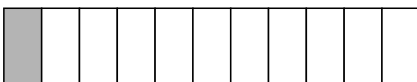
854.



แปลงเป็นเศษส่วน เท่ากับ

8
10

855.



แปลงเป็นเศษส่วน เท่ากับ

1
11



ครูย์ www.ontous.info

ชื่อ-สกุล			
ชั้นเรียน		เลขที่	
คะแนนที่ได้		วันที่	

แบบฝึกวิชาคณิตศาสตร์ เรื่อง เศษส่วน สัญลักษณ์แทนเศษส่วน

คำชี้แจง : ให้นักเรียนเขียนเศษส่วนจากสัญลักษณ์ที่กำหนดให้ต่อไปนี้

856.



แปลงเป็นเศษส่วน เท่ากับ

6
8

857.



แปลงเป็นเศษส่วน เท่ากับ

15
20

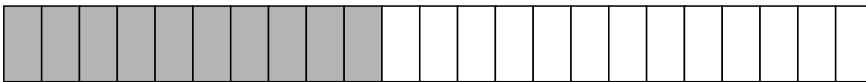
858.



แปลงเป็นเศษส่วน เท่ากับ

15
34


859.



แปลงเป็นเศษส่วน เท่ากับ

10
23

860.



แปลงเป็นเศษส่วน เท่ากับ

3
20



ครูโยย www.ontous.info

ชื่อ-สกุล			
ชั้นเรียน		เลขที่	
คะแนนที่ได้		วันที่	

แบบฝึกวิชาคณิตศาสตร์ เรื่อง เศษส่วน สัญลักษณ์แทนเศษส่วน

คำชี้แจง : ให้นักเรียนเขียนเศษส่วนจากสัญลักษณ์ที่กำหนดให้ต่อไปนี้



แปลงเป็นเศษส่วน เท่ากับ

16
22



แปลงเป็นเศษส่วน เท่ากับ

14
31




แปลงเป็นเศษส่วน เท่ากับ

14
22



แปลงเป็นเศษส่วน เท่ากับ

5
7



แปลงเป็นเศษส่วน เท่ากับ

4
11



ครูโยย www.ontous.info

ชื่อ-สกุล			
ชั้นเรียน		เลขที่	
คะแนนที่ได้		วันที่	


แบบฝึกวิชาคณิตศาสตร์ เรื่อง เศษส่วน สัญลักษณ์แทนเศษส่วน

คำชี้แจง : ให้นักเรียนเขียนเศษส่วนจากสัญลักษณ์ที่กำหนดให้ต่อไปนี้



แปลงเป็นเศษส่วน เท่ากับ

7
13



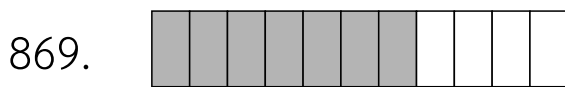
แปลงเป็นเศษส่วน เท่ากับ

2
3




แปลงเป็นเศษส่วน เท่ากับ

1
22



แปลงเป็นเศษส่วน เท่ากับ

7
11



แปลงเป็นเศษส่วน เท่ากับ

9
26



ครูโยย www.ontous.info

ชื่อ-สกุล			
ชั้นเรียน		เลขที่	
คะแนนที่ได้		วันที่	

แบบฝึกวิชาคณิตศาสตร์ เรื่อง เศษส่วน สัญลักษณ์แทนเศษส่วน

คำชี้แจง : ให้นักเรียนเขียนเศษส่วนจากสัญลักษณ์ที่กำหนดให้ต่อไปนี้

871.



แปลงเป็นเศษส่วน เท่ากับ

1
5

872.



แปลงเป็นเศษส่วน เท่ากับ

9
18


873.



แปลงเป็นเศษส่วน เท่ากับ

8
33

874.



แปลงเป็นเศษส่วน เท่ากับ

23
33

875.



แปลงเป็นเศษส่วน เท่ากับ

15
16



ครูโยย www.ontous.info

ชื่อ-สกุล			
ชั้นเรียน		เลขที่	
คะแนนที่ได้		วันที่	

แบบฝึกวิชาคณิตศาสตร์ เรื่อง เศษส่วน สัญลักษณ์แทนเศษส่วน

คำชี้แจง : ให้นักเรียนเขียนเศษส่วนจากสัญลักษณ์ที่กำหนดให้ต่อไปนี้



แปลงเป็นเศษส่วน เท่ากับ

19
22



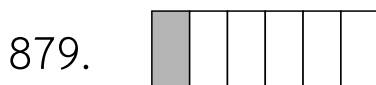
แปลงเป็นเศษส่วน เท่ากับ

2
16



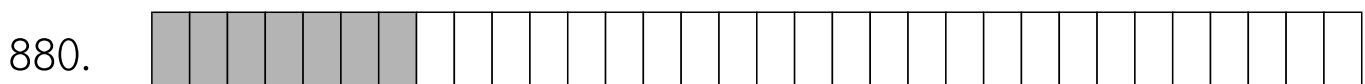
แปลงเป็นเศษส่วน เท่ากับ

5
12



แปลงเป็นเศษส่วน เท่ากับ

1
6



แปลงเป็นเศษส่วน เท่ากับ

7
32



ครูโยย www.ontous.info

ชื่อ-สกุล			
ชั้นเรียน		เลขที่	
คะแนนที่ได้		วันที่	

แบบฝึกวิชาคณิตศาสตร์ เรื่อง เศษส่วน สัญลักษณ์แทนเศษส่วน

คำชี้แจง : ให้นักเรียนเขียนเศษส่วนจากสัญลักษณ์ที่กำหนดให้ต่อไปนี้




แปลงเป็นเศษส่วน เท่ากับ

29
30




แปลงเป็นเศษส่วน เท่ากับ

14
26




แปลงเป็นเศษส่วน เท่ากับ

4
11



แปลงเป็นเศษส่วน เท่ากับ

24
25



แปลงเป็นเศษส่วน เท่ากับ

10
11



ครู้อย www.ontous.info

ชื่อ-สกุล			
ชั้นเรียน		เลขที่	
คะแนนที่ได้		วันที่	

แบบฝึกวิชาคณิตศาสตร์ เรื่อง เศษส่วน สัญลักษณ์แทนเศษส่วน

คำชี้แจง : ให้นักเรียนเขียนเศษส่วนจากสัญลักษณ์ที่กำหนดให้ต่อไปนี้

886.



แปลงเป็นเศษส่วน เท่ากับ

5
11

887.



แปลงเป็นเศษส่วน เท่ากับ

1
9

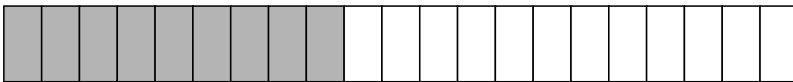
888.



แปลงเป็นเศษส่วน เท่ากับ

3
4


889.



แปลงเป็นเศษส่วน เท่ากับ

9
21

890.



แปลงเป็นเศษส่วน เท่ากับ

7
16



ครูโยย www.ontous.info

ชื่อ-สกุล			
ชั้นเรียน		เลขที่	
คะแนนที่ได้		วันที่	

แบบฝึกวิชาคณิตศาสตร์ เรื่อง เศษส่วน สัญลักษณ์แทนเศษส่วน

คำชี้แจง : ให้นักเรียนเขียนเศษส่วนจากสัญลักษณ์ที่กำหนดให้ต่อไปนี้



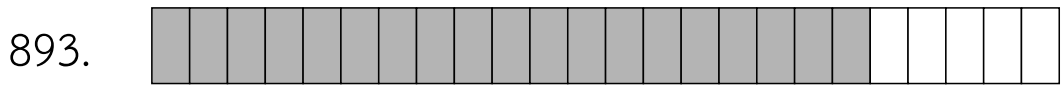
แปลงเป็นเศษส่วน เท่ากับ

20
26



แปลงเป็นเศษส่วน เท่ากับ

21
26



แปลงเป็นเศษส่วน เท่ากับ

19
24



แปลงเป็นเศษส่วน เท่ากับ

24
34



แปลงเป็นเศษส่วน เท่ากับ

22
23



ครูโยย www.ontous.info

ชื่อ-สกุล			
ชั้นเรียน		เลขที่	
คะแนนที่ได้		วันที่	

แบบฝึกวิชาคณิตศาสตร์ เรื่อง เศษส่วน สัญลักษณ์แทนเศษส่วน

คำชี้แจง : ให้นักเรียนเขียนเศษส่วนจากสัญลักษณ์ที่กำหนดให้ต่อไปนี้



แปลงเป็นเศษส่วน เท่ากับ

2
19



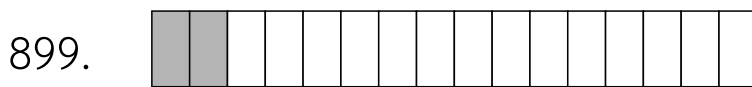
แปลงเป็นเศษส่วน เท่ากับ

24
31




แปลงเป็นเศษส่วน เท่ากับ

26
32



แปลงเป็นเศษส่วน เท่ากับ

2
16



แปลงเป็นเศษส่วน เท่ากับ

23
28



ครูโยย www.ontous.info

ชื่อ-สกุล			
ชั้นเรียน		เลขที่	
คะแนนที่ได้		วันที่	

แบบฝึกวิชาคณิตศาสตร์ เรื่อง เศษส่วน สัญลักษณ์แทนเศษส่วน

คำชี้แจง : ให้นักเรียนเขียนเศษส่วนจากสัญลักษณ์ที่กำหนดให้ต่อไปนี้

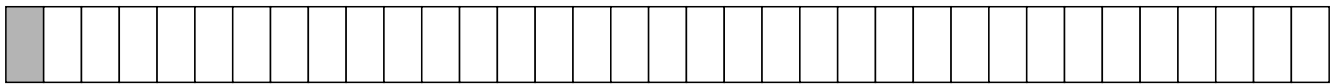
901.



แปลงเป็นเศษส่วน เท่ากับ

1
4

902.



แปลงเป็นเศษส่วน เท่ากับ

1
35

903.



แปลงเป็นเศษส่วน เท่ากับ

3
8


904.



แปลงเป็นเศษส่วน เท่ากับ

25
29

905.



แปลงเป็นเศษส่วน เท่ากับ

14
21



ครูโยย www.ontous.info

ชื่อ-สกุล			
ชั้นเรียน		เลขที่	
คะแนนที่ได้		วันที่	

แบบฝึกวิชาคณิตศาสตร์ เรื่อง เศษส่วน สัญลักษณ์แทนเศษส่วน

คำชี้แจง : ให้นักเรียนเขียนเศษส่วนจากสัญลักษณ์ที่กำหนดให้ต่อไปนี้

906.



แปลงเป็นเศษส่วน เท่ากับ

18
20

907.



แปลงเป็นเศษส่วน เท่ากับ

15
23

908.



แปลงเป็นเศษส่วน เท่ากับ

1
3


909.



แปลงเป็นเศษส่วน เท่ากับ

3
12

910.



แปลงเป็นเศษส่วน เท่ากับ

2
3



ครูโยย www.ontous.info

ชื่อ-สกุล			
ชั้นเรียน		เลขที่	
คะแนนที่ได้		วันที่	

แบบฝึกวิชาคณิตศาสตร์ เรื่อง เศษส่วน สัญลักษณ์แทนเศษส่วน

คำชี้แจง : ให้นักเรียนเขียนเศษส่วนจากสัญลักษณ์ที่กำหนดให้ต่อไปนี้



แปลงเป็นเศษส่วน เท่ากับ

21
30



แปลงเป็นเศษส่วน เท่ากับ

1
9



แปลงเป็นเศษส่วน เท่ากับ

18
27



แปลงเป็นเศษส่วน เท่ากับ

7
35



แปลงเป็นเศษส่วน เท่ากับ

11
22




ครูโยย www.ontous.info

ชื่อ-สกุล			
ชั้นเรียน		เลขที่	
คะแนนที่ได้		วันที่	

แบบฝึกวิชาคณิตศาสตร์ เรื่อง เศษส่วน สัญลักษณ์แทนเศษส่วน

คำชี้แจง : ให้นักเรียนเขียนเศษส่วนจากสัญลักษณ์ที่กำหนดให้ต่อไปนี้



แปลงเป็นเศษส่วน เท่ากับ

11
28




แปลงเป็นเศษส่วน เท่ากับ

1
25



แปลงเป็นเศษส่วน เท่ากับ

11
31



แปลงเป็นเศษส่วน เท่ากับ

14
31



แปลงเป็นเศษส่วน เท่ากับ

1
3




ครูโยย www.ontous.info

ชื่อ-สกุล			
ชั้นเรียน		เลขที่	
คะแนนที่ได้		วันที่	

แบบฝึกวิชาคณิตศาสตร์ เรื่อง เศษส่วน สัญลักษณ์แทนเศษส่วน

คำชี้แจง : ให้นักเรียนเขียนเศษส่วนจากสัญลักษณ์ที่กำหนดให้ต่อไปนี้



แปลงเป็นเศษส่วน เท่ากับ

3
15



แปลงเป็นเศษส่วน เท่ากับ

28
35



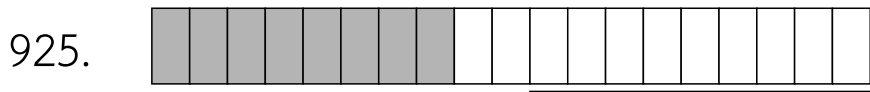
แปลงเป็นเศษส่วน เท่ากับ

2
3



แปลงเป็นเศษส่วน เท่ากับ

20
28



แปลงเป็นเศษส่วน เท่ากับ

8
19



ครูโยย www.ontous.info

ชื่อ-สกุล			
ชั้นเรียน		เลขที่	
คะแนนที่ได้		วันที่	


แบบฝึกวิชาคณิตศาสตร์ เรื่อง เศษส่วน สัญลักษณ์แทนเศษส่วน

คำชี้แจง : ให้นักเรียนเขียนเศษส่วนจากสัญลักษณ์ที่กำหนดให้ต่อไปนี้



แปลงเป็นเศษส่วน เท่ากับ

1
7



แปลงเป็นเศษส่วน เท่ากับ

9
21



แปลงเป็นเศษส่วน เท่ากับ

9
10



แปลงเป็นเศษส่วน เท่ากับ

14
19



แปลงเป็นเศษส่วน เท่ากับ

15
26




ครูโยย www.ontous.info

ชื่อ-สกุล			
ชั้นเรียน		เลขที่	
คะแนนที่ได้		วันที่	

แบบฝึกวิชาคณิตศาสตร์ เรื่อง เศษส่วน สัญลักษณ์แทนเศษส่วน

คำชี้แจง : ให้นักเรียนเขียนเศษส่วนจากสัญลักษณ์ที่กำหนดให้ต่อไปนี้

931.



แปลงเป็นเศษส่วน เท่ากับ

3
18

932.



แปลงเป็นเศษส่วน เท่ากับ

4
9

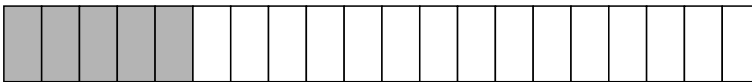
933.



แปลงเป็นเศษส่วน เท่ากับ

5
22

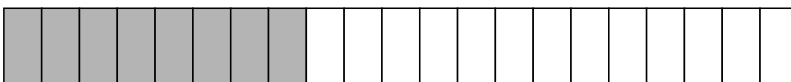
934.



แปลงเป็นเศษส่วน เท่ากับ

5
20

935.



แปลงเป็นเศษส่วน เท่ากับ

8
21



ครูโยย www.ontous.info

ชื่อ-สกุล			
ชั้นเรียน		เลขที่	
คะแนนที่ได้		วันที่	

แบบฝึกวิชาคณิตศาสตร์ เรื่อง เศษส่วน สัญลักษณ์แทนเศษส่วน

คำชี้แจง : ให้นักเรียนเขียนเศษส่วนจากสัญลักษณ์ที่กำหนดให้ต่อไปนี้



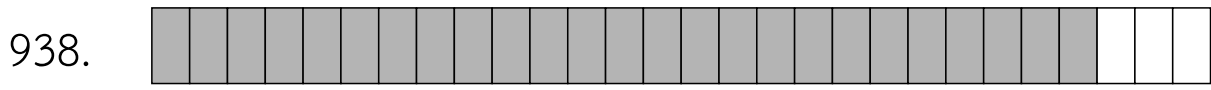
แปลงเป็นเศษส่วน เท่ากับ

16
26



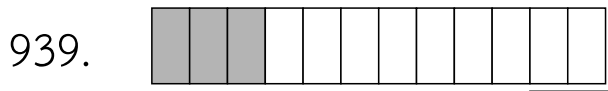
แปลงเป็นเศษส่วน เท่ากับ

23
30



แปลงเป็นเศษส่วน เท่ากับ

25
28



แปลงเป็นเศษส่วน เท่ากับ

3
12



แปลงเป็นเศษส่วน เท่ากับ

27
34



ครูโยย www.ontous.info

ชื่อ-สกุล			
ชั้นเรียน		เลขที่	
คะแนนที่ได้		วันที่	

แบบฝึกวิชาคณิตศาสตร์ เรื่อง เศษส่วน สัญลักษณ์แทนเศษส่วน

คำชี้แจง : ให้นักเรียนเขียนเศษส่วนจากสัญลักษณ์ที่กำหนดให้ต่อไปนี้



แปลงเป็นเศษส่วน เท่ากับ

3
15



แปลงเป็นเศษส่วน เท่ากับ

7
12




แปลงเป็นเศษส่วน เท่ากับ

13
16



แปลงเป็นเศษส่วน เท่ากับ

16
22



แปลงเป็นเศษส่วน เท่ากับ

14
33



ครูโยย www.ontous.info

ชื่อ-สกุล			
ชั้นเรียน		เลขที่	
คะแนนที่ได้		วันที่	

แบบฝึกวิชาคณิตศาสตร์ เรื่อง เศษส่วน สัญลักษณ์แทนเศษส่วน

คำชี้แจง : ให้นักเรียนเขียนเศษส่วนจากสัญลักษณ์ที่กำหนดให้ต่อไปนี้

946.



แปลงเป็นเศษส่วน เท่ากับ

2
13

947.



แปลงเป็นเศษส่วน เท่ากับ

8
27

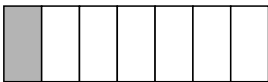
948.



แปลงเป็นเศษส่วน เท่ากับ

18
24


949.



แปลงเป็นเศษส่วน เท่ากับ

1
7

950.



แปลงเป็นเศษส่วน เท่ากับ

2
3



ครูโยย www.ontous.info

ชื่อ-สกุล			
ชั้นเรียน		เลขที่	
คะแนนที่ได้		วันที่	

แบบฝึกวิชาคณิตศาสตร์ เรื่อง เศษส่วน สัญลักษณ์แทนเศษส่วน

คำชี้แจง : ให้นักเรียนเขียนเศษส่วนจากสัญลักษณ์ที่กำหนดให้ต่อไปนี้



แปลงเป็นเศษส่วน เท่ากับ

19
25



แปลงเป็นเศษส่วน เท่ากับ

24
29



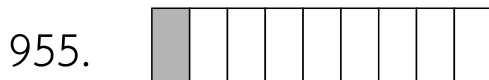
แปลงเป็นเศษส่วน เท่ากับ

8
11



แปลงเป็นเศษส่วน เท่ากับ

28
33



แปลงเป็นเศษส่วน เท่ากับ

1
9



ครูโยย www.ontous.info

ชื่อ-สกุล			
ชั้นเรียน		เลขที่	
คะแนนที่ได้		วันที่	

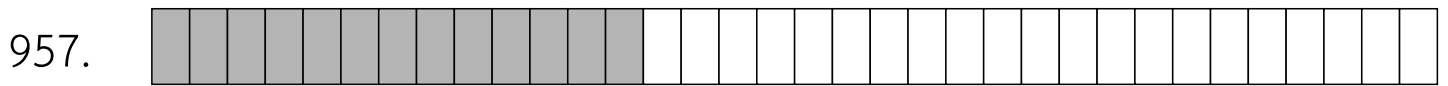
แบบฝึกวิชาคณิตศาสตร์ เรื่อง เศษส่วน สัญลักษณ์แทนเศษส่วน

คำชี้แจง : ให้นักเรียนเขียนเศษส่วนจากสัญลักษณ์ที่กำหนดให้ต่อไปนี้



แปลงเป็นเศษส่วน เท่ากับ

7
22




แปลงเป็นเศษส่วน เท่ากับ

13
34



แปลงเป็นเศษส่วน เท่ากับ

3
4



แปลงเป็นเศษส่วน เท่ากับ

8
21



แปลงเป็นเศษส่วน เท่ากับ

15
20



ครูโยย www.ontous.info

ชื่อ-สกุล			
ชั้นเรียน		เลขที่	
คะแนนที่ได้		วันที่	

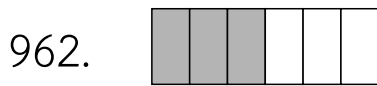
แบบฝึกวิชาคณิตศาสตร์ เรื่อง เศษส่วน สัญลักษณ์แทนเศษส่วน

คำชี้แจง : ให้นักเรียนเขียนเศษส่วนจากสัญลักษณ์ที่กำหนดให้ต่อไปนี้



แปลงเป็นเศษส่วน เท่ากับ

1
31



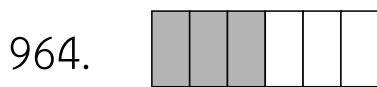
แปลงเป็นเศษส่วน เท่ากับ

3
6



แปลงเป็นเศษส่วน เท่ากับ

16
19



แปลงเป็นเศษส่วน เท่ากับ

3
6



แปลงเป็นเศษส่วน เท่ากับ

9
15



ครูโยย www.ontous.info

ชื่อ-สกุล			
ชั้นเรียน		เลขที่	
คะแนนที่ได้		วันที่	

แบบฝึกวิชาคณิตศาสตร์ เรื่อง เศษส่วน สัญลักษณ์แทนเศษส่วน

คำชี้แจง : ให้นักเรียนเขียนเศษส่วนจากสัญลักษณ์ที่กำหนดให้ต่อไปนี้



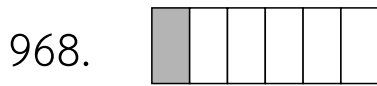
แปลงเป็นเศษส่วน เท่ากับ

29
33



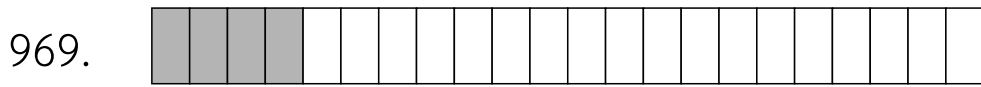
แปลงเป็นเศษส่วน เท่ากับ

15
30



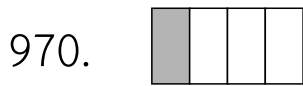
แปลงเป็นเศษส่วน เท่ากับ

1
6



แปลงเป็นเศษส่วน เท่ากับ

4
22



แปลงเป็นเศษส่วน เท่ากับ

1
4



ครูโยย www.ontous.info

ชื่อ-สกุล			
ชั้นเรียน		เลขที่	
คะแนนที่ได้		วันที่	

แบบฝึกวิชาคณิตศาสตร์ เรื่อง เศษส่วน สัญลักษณ์แทนเศษส่วน

คำชี้แจง : ให้นักเรียนเขียนเศษส่วนจากสัญลักษณ์ที่กำหนดให้ต่อไปนี้



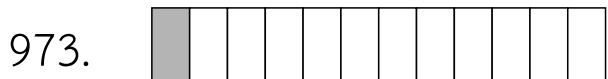
แปลงเป็นเศษส่วน เท่ากับ

17
25




แปลงเป็นเศษส่วน เท่ากับ

1
19



แปลงเป็นเศษส่วน เท่ากับ

1
12



แปลงเป็นเศษส่วน เท่ากับ

1
7



แปลงเป็นเศษส่วน เท่ากับ

7
16



ครูโยย www.ontous.info

ชื่อ-สกุล			
ชั้นเรียน		เลขที่	
คะแนนที่ได้		วันที่	

แบบฝึกวิชาคณิตศาสตร์ เรื่อง เศษส่วน สัญลักษณ์แทนเศษส่วน

คำชี้แจง : ให้นักเรียนเขียนเศษส่วนจากสัญลักษณ์ที่กำหนดให้ต่อไปนี้



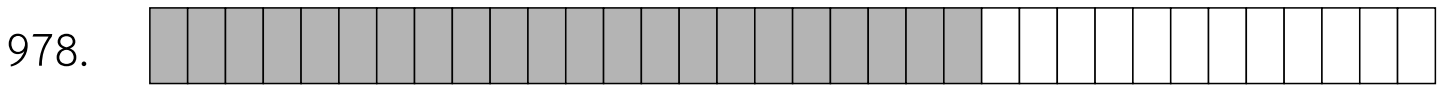
แปลงเป็นเศษส่วน เท่ากับ

26
35



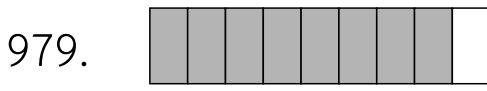
แปลงเป็นเศษส่วน เท่ากับ

2
33



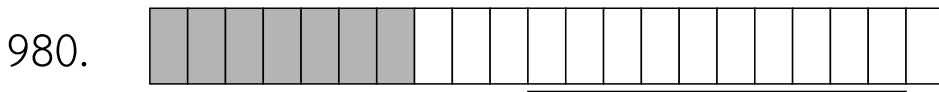
แปลงเป็นเศษส่วน เท่ากับ

22
34



แปลงเป็นเศษส่วน เท่ากับ

8
9



แปลงเป็นเศษส่วน เท่ากับ

7
21



ครูโยย www.ontous.info

ชื่อ-สกุล			
ชั้นเรียน		เลขที่	
คะแนนที่ได้		วันที่	

แบบฝึกวิชาคณิตศาสตร์ เรื่อง เศษส่วน สัญลักษณ์แทนเศษส่วน

คำชี้แจง : ให้นักเรียนเขียนเศษส่วนจากสัญลักษณ์ที่กำหนดให้ต่อไปนี้

981.

แปลงเป็นเศษส่วน เท่ากับ

2
3

982.

แปลงเป็นเศษส่วน เท่ากับ

2
5

983.

แปลงเป็นเศษส่วน เท่ากับ

12
19

984.

แปลงเป็นเศษส่วน เท่ากับ

15
16

985.

แปลงเป็นเศษส่วน เท่ากับ

5
6



ครูโยย www.ontous.info

ชื่อ-สกุล			
ชั้นเรียน		เลขที่	
คะแนนที่ได้		วันที่	

แบบฝึกวิชาคณิตศาสตร์ เรื่อง เศษส่วน สัญลักษณ์แทนเศษส่วน

คำชี้แจง : ให้นักเรียนเขียนเศษส่วนจากสัญลักษณ์ที่กำหนดให้ต่อไปนี้



แปลงเป็นเศษส่วน เท่ากับ

10
22



แปลงเป็นเศษส่วน เท่ากับ

14
17



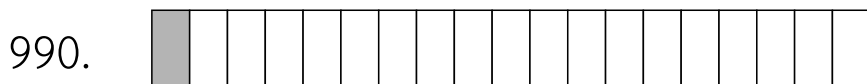
แปลงเป็นเศษส่วน เท่ากับ

4
12



แปลงเป็นเศษส่วน เท่ากับ

17
18



แปลงเป็นเศษส่วน เท่ากับ

1
19



ครูโยย www.ontous.info

ชื่อ-สกุล			
ชั้นเรียน		เลขที่	
คะแนนที่ได้		วันที่	

แบบฝึกวิชาคณิตศาสตร์ เรื่อง เศษส่วน สัญลักษณ์แทนเศษส่วน

คำชี้แจง : ให้นักเรียนเขียนเศษส่วนจากสัญลักษณ์ที่กำหนดให้ต่อไปนี้



แปลงเป็นเศษส่วน เท่ากับ

17
32




แปลงเป็นเศษส่วน เท่ากับ

4
14



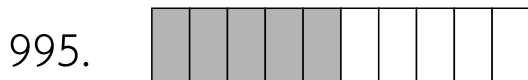
แปลงเป็นเศษส่วน เท่ากับ

7
25



แปลงเป็นเศษส่วน เท่ากับ

12
25



แปลงเป็นเศษส่วน เท่ากับ

5
10



ครูโยย www.ontous.info

ชื่อ-สกุล			
ชั้นเรียน		เลขที่	
คะแนนที่ได้		วันที่	


แบบฝึกวิชาคณิตศาสตร์ เรื่อง เศษส่วน สัญลักษณ์แทนเศษส่วน

คำชี้แจง : ให้นักเรียนเขียนเศษส่วนจากสัญลักษณ์ที่กำหนดให้ต่อไปนี้



แปลงเป็นเศษส่วน เท่ากับ

6
10



แปลงเป็นเศษส่วน เท่ากับ

7
12



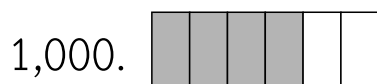
แปลงเป็นเศษส่วน เท่ากับ

5
13



แปลงเป็นเศษส่วน เท่ากับ

10
19



แปลงเป็นเศษส่วน เท่ากับ

4
6