



ครู้อย www.ontous.info

ชื่อ-สกุล			
ชั้นเรียน		เลขที่	
คะแนนที่ได้		วันที่	

แบบฝึกวิชาคณิตศาสตร์ เรื่อง การหาร

คำชี้แจง : ให้นักเรียนหาผลหารหารต่อไปนี้ให้ถูกต้อง

(1) $462 \div 42 = ?$ จงแสดงวิธีการหาร

(2) $663 \div 3 = ?$ จงแสดงวิธีการหาร



ครู้อย www.ontous.info

ชื่อ-สกุล			
ชั้นเรียน		เลขที่	
คะแนนที่ได้		วันที่	

แบบฝึกวิชาคณิตศาสตร์ เรื่อง การหาร

คำชี้แจง : ให้นักเรียนหาผลหารหารต่อไปนี้ให้ถูกต้อง

(3) $405 \div 9 = ?$ จงแสดงวิธีการหาร

(4) $594 \div 3 = ?$ จงแสดงวิธีการหาร



ครู้อย www.ontous.info

ชื่อ-สกุล			
ชั้นเรียน		เลขที่	
คะแนนที่ได้		วันที่	

แบบฝึกวิชาคณิตศาสตร์ เรื่อง การหาร

คำชี้แจง : ให้นักเรียนหาผลหารหารต่อไปนี้ให้ถูกต้อง

(5) $836 \div 22 = ?$ จงแสดงวิธีการหาร

(6) $996 \div 3 = ?$ จงแสดงวิธีการหาร



ครู้อย www.ontous.info


ชื่อ-สกุล			
ชั้นเรียน		เลขที่	
คะแนนที่ได้		วันที่	

แบบฝึกวิชาคณิตศาสตร์ เรื่อง การหาร

คำชี้แจง : ให้นักเรียนหาผลหารหารต่อไปนี้ให้ถูกต้อง

(7) $416 \div 52 = ?$ จงแสดงวิธีการหาร

(8) $572 \div 44 = ?$ จงแสดงวิธีการหาร



ครู้อย www.ontous.info

ชื่อ-สกุล			
ชั้นเรียน		เลขที่	
คะแนนที่ได้		วันที่	

แบบฝึกวิชาคณิตศาสตร์ เรื่อง การหาร

คำชี้แจง : ให้นักเรียนหาผลหารหารต่อไปนี้ให้ถูกต้อง

(9) $442 \div 26 = ?$ จงแสดงวิธีการหาร

(10) $884 \div 68 = ?$ จงแสดงวิธีการหาร



ครู้อย www.ontous.info

ชื่อ-สกุล			
ชั้นเรียน		เลขที่	
คะแนนที่ได้		วันที่	

แบบฝึกวิชาคณิตศาสตร์ เรื่อง การหาร

คำชี้แจง : ให้นักเรียนหาผลหารหารต่อไปนี้ให้ถูกต้อง

(11) $530 \div 53 = ?$ จงแสดงวิธีการหาร

(12) $715 \div 65 = ?$ จงแสดงวิธีการหาร



ครู้อย www.ontous.info

ชื่อ-สกุล			
ชั้นเรียน		เลขที่	
คะแนนที่ได้		วันที่	

แบบฝึกวิชาคณิตศาสตร์ เรื่อง การหาร

คำชี้แจง : ให้นักเรียนหาผลหารหารต่อไปนี้ให้ถูกต้อง

(13) $291 \div 97 = ?$ จงแสดงวิธีการหาร

(14) $558 \div 31 = ?$ จงแสดงวิธีการหาร



ครู้อย www.ontous.info

ชื่อ-สกุล			
ชั้นเรียน		เลขที่	
คะแนนที่ได้		วันที่	

แบบฝึกวิชาคณิตศาสตร์ เรื่อง การหาร

คำชี้แจง : ให้นักเรียนหาผลหารหารต่อไปนี้ให้ถูกต้อง

(15) $884 \div 68 = ?$ จงแสดงวิธีการหาร

(16) $576 \div 1 = ?$ จงแสดงวิธีการหาร



ครู้อย www.ontous.info


ชื่อ-สกุล			
ชั้นเรียน		เลขที่	
คะแนนที่ได้		วันที่	

แบบฝึกวิชาคณิตศาสตร์ เรื่อง การหาร

คำชี้แจง : ให้นักเรียนหาผลหารหารต่อไปนี้ให้ถูกต้อง

(17) $174 \div 87 = ?$ จงแสดงวิธีการหาร

(18) $962 \div 26 = ?$ จงแสดงวิธีการหาร



ครู้อย www.ontous.info

ชื่อ-สกุล			
ชั้นเรียน		เลขที่	
คะแนนที่ได้		วันที่	

แบบฝึกวิชาคณิตศาสตร์ เรื่อง การหาร

คำชี้แจง : ให้นักเรียนหาผลหารหารต่อไปนี้ให้ถูกต้อง

(19) $810 \div 45 = ?$ จงแสดงวิธีการหาร

(20) $581 \div 83 = ?$ จงแสดงวิธีการหาร



ครู้อย www.ontous.info

ชื่อ-สกุล			
ชั้นเรียน		เลขที่	
คะแนนที่ได้		วันที่	

แบบฝึกวิชาคณิตศาสตร์ เรื่อง การหาร

คำชี้แจง : ให้นักเรียนหาผลหารต่อไปนี้ให้ถูกต้อง

(21) $532 \div 76 = ?$ จงแสดงวิธีการหาร

(22) $423 \div 47 = ?$ จงแสดงวิธีการหาร



ครู้อย www.ontous.info

ชื่อ-สกุล			
ชั้นเรียน		เลขที่	
คะแนนที่ได้		วันที่	

แบบฝึกวิชาคณิตศาสตร์ เรื่อง การหาร

คำชี้แจง : ให้นักเรียนหาผลหารต่อไปนี้ให้ถูกต้อง

(23) $588 \div 28 = ?$ จงแสดงวิธีการหาร

(24) $672 \div 14 = ?$ จงแสดงวิธีการหาร



ครู้อย www.ontous.info


ชื่อ-สกุล			
ชั้นเรียน		เลขที่	
คะแนนที่ได้		วันที่	

แบบฝึกวิชาคณิตศาสตร์ เรื่อง การหาร

คำชี้แจง : ให้นักเรียนหาผลหารหารต่อไปนี้ให้ถูกต้อง

(25) $405 \div 45 = ?$ จงแสดงวิธีการหาร

(26) $104 \div 8 = ?$ จงแสดงวิธีการหาร



ครู้อย www.ontous.info

ชื่อ-สกุล			
ชั้นเรียน		เลขที่	
คะแนนที่ได้		วันที่	

แบบฝึกวิชาคณิตศาสตร์ เรื่อง การหาร

คำชี้แจง : ให้นักเรียนหาผลหารหารต่อไปนี้ให้ถูกต้อง

(27) $972 \div 54 = ?$ จงแสดงวิธีการหาร

(28) $189 \div 21 = ?$ จงแสดงวิธีการหาร



ครู้อย www.ontous.info

ชื่อ-สกุล			
ชั้นเรียน		เลขที่	
คะแนนที่ได้		วันที่	

แบบฝึกวิชาคณิตศาสตร์ เรื่อง การหาร

คำชี้แจง : ให้นักเรียนหาผลหารหารต่อไปนี้ให้ถูกต้อง

(29) $425 \div 85 = ?$ จงแสดงวิธีการหาร

(30) $984 \div 82 = ?$ จงแสดงวิธีการหาร

เฉลี่ย



ครู้อย www.ontous.info

ชื่อ-สกุล			
ชั้นเรียน		เลขที่	
คะแนนที่ได้		วันที่	

แบบฝึกวิชาคณิตศาสตร์ เรื่อง การหาร

คำชี้แจง : ให้นักเรียนหาผลหารต่อไปนี้ให้ถูกต้อง

(1) $462 \div 42 = ?$ =

(2) $663 \div 3 = ?$ =

(3) $405 \div 9 = ?$ =

(4) $594 \div 3 = ?$ =

(5) $836 \div 22 = ?$ =

(6) $996 \div 3 = ?$ =

(7) $416 \div 52 = ?$ =

(8) $572 \div 44 = ?$ =

(9) $442 \div 26 = ?$ =

(10) $884 \div 68 = ?$ =



ครู้อย www.ontous.info

ชื่อ-สกุล			
ชั้นเรียน		เลขที่	
คะแนนที่ได้		วันที่	

แบบฝึกวิชาคณิตศาสตร์ เรื่อง การหาร

คำชี้แจง : ให้นักเรียนหาผลหารต่อไปนี้ให้ถูกต้อง

(11) $530 \div 53 = ?$ =

(12) $715 \div 65 = ?$ =

(13) $291 \div 97 = ?$ =

(14) $558 \div 31 = ?$ =

(15) $884 \div 68 = ?$ =

(16) $576 \div 1 = ?$ =

(17) $174 \div 87 = ?$ =

(18) $962 \div 26 = ?$ =

(19) $810 \div 45 = ?$ =

(20) $581 \div 83 = ?$ =



ครู้อย www.ontous.info

ชื่อ-สกุล			
ชั้นเรียน		เลขที่	
คะแนนที่ได้		วันที่	

แบบฝึกวิชาคณิตศาสตร์ เรื่อง การหาร

คำชี้แจง : ให้นักเรียนหาผลหารต่อไปนี้ให้ถูกต้อง

$$(21) 532 \div 76 = ? \quad = \quad \boxed{7}$$

$$(22) 423 \div 47 = ? \quad = \quad \boxed{9}$$

$$(23) 588 \div 28 = ? \quad = \quad \boxed{21}$$

$$(24) 672 \div 14 = ? \quad = \quad \boxed{48}$$

$$(25) 405 \div 45 = ? \quad = \quad \boxed{9}$$

$$(26) 104 \div 8 = ? \quad = \quad \boxed{13}$$

$$(27) 972 \div 54 = ? \quad = \quad \boxed{18}$$

$$(28) 189 \div 21 = ? \quad = \quad \boxed{9}$$

$$(29) 425 \div 85 = ? \quad = \quad \boxed{5}$$

$$(30) 984 \div 82 = ? \quad = \quad \boxed{12}$$