






ครูย์ www.ontous.info

ชื่อ-สกุล			
ชั้นเรียน		เลขที่	
คะแนนที่ได้		วันที่	

คำชี้แจง : ฝึกนับเพิ่มเวลาและนับลดเวลาตามโจทย์กำหนดให้ถูกต้อง นาฬิกาช่วง 1 นาที




<p>1.</p> 	<p>เพิ่มอีก 43 นาที</p>
<p>2.</p> 	<p>ลดเวลา 23 นาที</p>
<p>3.</p> 	<p>ลดเวลา 39 นาที</p>



ครูย์ www.ontous.info

ชื่อ-สกุล			
ชั้นเรียน		เลขที่	
คะแนนที่ได้		วันที่	

คำชี้แจง : ฝึกนับเพิ่มเวลาและนับลดเวลาตามโจทย์กำหนดให้ถูกต้อง นาฬิกาช่วง 1 นาที




<p>4.</p> 	<p>ลดเวลา 21 นาที</p>
<p>5.</p> 	<p>ลดเวลา 59 นาที</p>
<p>6.</p> 	<p>เพิ่มอีก 21 นาที</p>



ครูย์ www.ontous.info

ชื่อ-สกุล			
ชั้นเรียน		เลขที่	
คะแนนที่ได้		วันที่	

คำชี้แจง : ฝึกนับเพิ่มเวลาและนับลดเวลาตามโจทย์กำหนดให้ถูกต้อง นาฬิกาช่วง 1 นาที




<p>7.</p> 	<p>เพิ่มอีก 55 นาที</p>
<p>8.</p> 	<p>ลดเวลา 38 นาที</p>
<p>9.</p> 	<p>ลดเวลา 31 นาที</p>



ครูย์ www.ontous.info

ชื่อ-สกุล			
ชั้นเรียน		เลขที่	
คะแนนที่ได้		วันที่	

คำชี้แจง : ฝึกนับเพิ่มเวลาและนับลดเวลาตามโจทย์กำหนดให้ถูกต้อง นาฬิกาช่วง 1 นาที



 <p>10.</p>	<p>ลดเวลา 55 นาที</p>
 <p>11.</p>	<p>ลดเวลา 31 นาที</p>
 <p>12.</p>	<p>ลดเวลา 44 นาที</p>



ครูย์ www.ontous.info

ชื่อ-สกุล			
ชั้นเรียน		เลขที่	
คะแนนที่ได้		วันที่	

คำชี้แจง : ฝึกนับเพิ่มเวลาและนับลดเวลาตามโจทย์กำหนดให้ถูกต้อง นาฬิกาช่วง 1 นาที




<p>13.</p> 	<p>ลดเวลา 14 นาที</p>
<p>14.</p> 	<p>เพิ่มอีก 43 นาที</p>
<p>15.</p> 	<p>เพิ่มอีก 27 นาที</p>



ครูย์ www.ontous.info

ชื่อ-สกุล			
ชั้นเรียน		เลขที่	
คะแนนที่ได้		วันที่	

คำชี้แจง : ฝึกนับเพิ่มเวลาและนับลดเวลาตามโจทย์กำหนดให้ถูกต้อง นาฬิกาช่วง 1 นาที




 <p>16.</p>	<p>เพิ่มอีก 22 นาที</p>
 <p>17.</p>	<p>ลดเวลา 23 นาที</p>
 <p>18.</p>	<p>เพิ่มอีก 41 นาที</p>



ครูย์ www.ontous.info

ชื่อ-สกุล			
ชั้นเรียน		เลขที่	
คะแนนที่ได้		วันที่	

คำชี้แจง : ฝึกนับเพิ่มเวลาและนับลดเวลาตามโจทย์กำหนดให้ถูกต้อง นาฬิกาช่วง 1 นาที




<p>19.</p> 	<p>ลดเวลา 9 นาที</p>
<p>20.</p> 	<p>เพิ่มอีก 52 นาที</p>
<p>21.</p> 	<p>ลดเวลา 27 นาที</p>



ครูย์ www.ontous.info

ชื่อ-สกุล			
ชั้นเรียน		เลขที่	
คะแนนที่ได้		วันที่	

คำชี้แจง : ฝึกนับเพิ่มเวลาและนับลดเวลาตามโจทย์กำหนดให้ถูกต้อง นาฬิกาช่วง 1 นาที




<p>22.</p> 	<p>ลดเวลา 30 นาที</p>
<p>23.</p> 	<p>เพิ่มอีก 38 นาที</p>
<p>24.</p> 	<p>ลดเวลา 21 นาที</p>



ครูย์ www.ontous.info

ชื่อ-สกุล			
ชั้นเรียน		เลขที่	
คะแนนที่ได้		วันที่	

คำชี้แจง : ฝึกนับเพิ่มเวลาและนับลดเวลาตามโจทย์กำหนดให้ถูกต้อง นาฬิกาช่วง 1 นาที




<p>25.</p> 	<p>ลดเวลา 14 นาที</p>
<p>26.</p> 	<p>เพิ่มอีก 9 นาที</p>
<p>27.</p> 	<p>เพิ่มอีก 33 นาที</p>



ครูย์ www.ontous.info

ชื่อ-สกุล			
ชั้นเรียน		เลขที่	
คะแนนที่ได้		วันที่	

คำชี้แจง : ฝึกนับเพิ่มเวลาและนับลดเวลาตามโจทย์กำหนดให้ถูกต้อง นาฬิกาช่วง 1 นาที



<p>28.</p> 	<p>เพิ่มอีก 49 นาที</p>
<p>29.</p> 	<p>เพิ่มอีก 55 นาที</p>
<p>30.</p> 	<p>เพิ่มอีก 9 นาที</p>



ครูย์ www.ontous.info

ชื่อ-สกุล			
ชั้นเรียน		เลขที่	
คะแนนที่ได้		วันที่	

คำชี้แจง : ฝึกนับเพิ่มเวลาและนับลดเวลาตามโจทย์กำหนดให้ถูกต้อง นาฬิกาช่วง 1 นาที




<p>31.</p> 	<p>ลดเวลา 21 นาที</p>
<p>32.</p> 	<p>เพิ่มอีก 8 นาที</p>
<p>33.</p> 	<p>ลดเวลา 49 นาที</p>



ครูย์ www.ontous.info

ชื่อ-สกุล			
ชั้นเรียน		เลขที่	
คะแนนที่ได้		วันที่	

คำชี้แจง : ฝึกนับเพิ่มเวลาและนับลดเวลาตามโจทย์กำหนดให้ถูกต้อง นาฬิกาช่วง 1 นาที




<p>34.</p> 	<p>เพิ่มอีก 56 นาที</p>
<p>35.</p> 	<p>ลดเวลา 58 นาที</p>
<p>36.</p> 	<p>เพิ่มอีก 20 นาที</p>



ครูย์ www.ontous.info

ชื่อ-สกุล			
ชั้นเรียน		เลขที่	
คะแนนที่ได้		วันที่	

คำชี้แจง : ฝึกนับเพิ่มเวลาและนับลดเวลาตามโจทย์กำหนดให้ถูกต้อง นาฬิกาช่วง 1 นาที



<p>37.</p> 	<p>ลดเวลา 22 นาที</p>
<p>38.</p> 	<p>เพิ่มอีก 56 นาที</p>
<p>39.</p> 	<p>ลดเวลา 31 นาที</p>



ครูย์ www.ontous.info

ชื่อ-สกุล			
ชั้นเรียน		เลขที่	
คะแนนที่ได้		วันที่	

คำชี้แจง : ฝึกนับเพิ่มเวลาและนับลดเวลาตามโจทย์กำหนดให้ถูกต้อง นาฬิกาช่วง 1 นาที




<p>40.</p> 	<p>เพิ่มอีก 5 นาที</p>
<p>41.</p> 	<p>เพิ่มอีก 14 นาที</p>
<p>42.</p> 	<p>เพิ่มอีก 14 นาที</p>



ครูย์ www.ontous.info

ชื่อ-สกุล			
ชั้นเรียน		เลขที่	
คะแนนที่ได้		วันที่	

คำชี้แจง : ฝึกนับเพิ่มเวลาและนับลดเวลาตามโจทย์กำหนดให้ถูกต้อง นาฬิกาช่วง 1 นาที




<p>43.</p> 	<p>เพิ่มอีก 51 นาที</p>
<p>44.</p> 	<p>ลดเวลา 55 นาที</p>
<p>45.</p> 	<p>ลดเวลา 14 นาที</p>



ครูย์ www.ontous.info

ชื่อ-สกุล			
ชั้นเรียน		เลขที่	
คะแนนที่ได้		วันที่	

คำชี้แจง : ฝึกนับเพิ่มเวลาและนับลดเวลาตามโจทย์กำหนดให้ถูกต้อง นาฬิกาช่วง 1 นาที



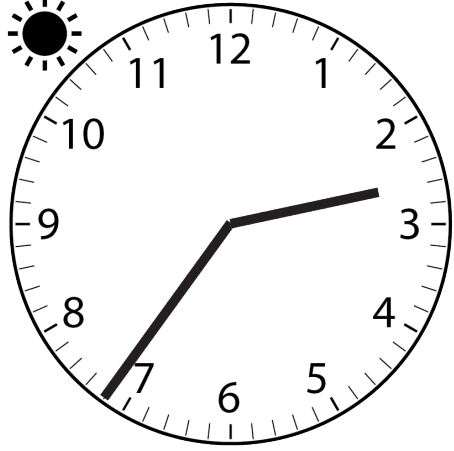
<p>46.</p> 	<p>ลดเวลา 46 นาที</p>
<p>47.</p> 	<p>ลดเวลา 48 นาที</p>
<p>48.</p> 	<p>เพิ่มอีก 54 นาที</p>



ครูย์ www.ontous.info

ชื่อ-สกุล			
ชั้นเรียน		เลขที่	
คะแนนที่ได้		วันที่	

คำชี้แจง : ฝึกนับเพิ่มเวลาและนับลดเวลาตามโจทย์กำหนดให้ถูกต้อง นาฬิกาช่วง 1 นาที




<p>49.</p> 	<p>เพิ่มอีก 19 นาที</p>
<p>50.</p> 	<p>เพิ่มอีก 36 นาที</p>
<p>51.</p> 	<p>เพิ่มอีก 6 นาที</p>



ครูย์ www.ontous.info

ชื่อ-สกุล			
ชั้นเรียน		เลขที่	
คะแนนที่ได้		วันที่	

คำชี้แจง : ฝึกนับเพิ่มเวลาและนับลดเวลาตามโจทย์กำหนดให้ถูกต้อง นาฬิกาช่วง 1 นาที




<p>52.</p> 	<p>เพิ่มอีก 25 นาที</p>
<p>53.</p> 	<p>เพิ่มอีก 42 นาที</p>
<p>54.</p> 	<p>เพิ่มอีก 44 นาที</p>



ครูย์ www.ontous.info

ชื่อ-สกุล			
ชั้นเรียน		เลขที่	
คะแนนที่ได้		วันที่	

คำชี้แจง : ฝึกนับเพิ่มเวลาและนับลดเวลาตามโจทย์กำหนดให้ถูกต้อง นาฬิกาช่วง 1 นาที




<p>55.</p> 	<p>เพิ่มอีก 11 นาที</p>
<p>56.</p> 	<p>ลดเวลา 41 นาที</p>
<p>57.</p> 	<p>ลดเวลา 57 นาที</p>



ครูย์ www.ontous.info

ชื่อ-สกุล			
ชั้นเรียน		เลขที่	
คะแนนที่ได้		วันที่	

คำชี้แจง : ฝึกนับเพิ่มเวลาและนับลดเวลาตามโจทย์กำหนดให้ถูกต้อง นาฬิกาช่วง 1 นาที



<p>58.</p> 	<p>ลดเวลา 27 นาที</p>
<p>59.</p> 	<p>เพิ่มอีก 21 นาที</p>
<p>60.</p> 	<p>ลดเวลา 26 นาที</p>



ครูย์ www.ontous.info

ชื่อ-สกุล			
ชั้นเรียน		เลขที่	
คะแนนที่ได้		วันที่	

คำชี้แจง : ฝึกนับเพิ่มเวลาและนับลดเวลาตามโจทย์กำหนดให้ถูกต้อง นาฬิกาช่วง 1 นาที




<p>61.</p> 	<p>ลดเวลา 21 นาที</p>
<p>62.</p> 	<p>เพิ่มอีก 29 นาที</p>
<p>63.</p> 	<p>ลดเวลา 40 นาที</p>



ครูย์ www.ontous.info

ชื่อ-สกุล			
ชั้นเรียน		เลขที่	
คะแนนที่ได้		วันที่	

คำชี้แจง : ฝึกนับเพิ่มเวลาและนับลดเวลาตามโจทย์กำหนดให้ถูกต้อง นาฬิกาช่วง 1 นาที

<p>64.</p> 	<p>เพิ่มอีก 51 นาที</p>
<p>65.</p> 	<p>เพิ่มอีก 48 นาที</p>
<p>66.</p> 	<p>ลดเวลา 42 นาที</p>



ครูย์ www.ontous.info

ชื่อ-สกุล			
ชั้นเรียน		เลขที่	
คะแนนที่ได้		วันที่	

คำชี้แจง : ฝึกนับเพิ่มเวลาและนับลดเวลาตามโจทย์กำหนดให้ถูกต้อง นาฬิกาช่วง 1 นาที




<p>67.</p> 	<p>เพิ่มอีก 58 นาที</p>
<p>68.</p> 	<p>เพิ่มอีก 13 นาที</p>
<p>69.</p> 	<p>เพิ่มอีก 7 นาที</p>



ครูย์ www.ontous.info

ชื่อ-สกุล			
ชั้นเรียน		เลขที่	
คะแนนที่ได้		วันที่	

คำชี้แจง : ฝึกนับเพิ่มเวลาและนับลดเวลาตามโจทย์กำหนดให้ถูกต้อง นาฬิกาช่วง 1 นาที




<p>70.</p> 	<p>เพิ่มอีก 54 นาที</p>
<p>71.</p> 	<p>เพิ่มอีก 58 นาที</p>
<p>72.</p> 	<p>เพิ่มอีก 48 นาที</p>



ครูย์ www.ontous.info

ชื่อ-สกุล			
ชั้นเรียน		เลขที่	
คะแนนที่ได้		วันที่	

คำชี้แจง : ฝึกนับเพิ่มเวลาและนับลดเวลาตามโจทย์กำหนดให้ถูกต้อง นาฬิกาช่วง 1 นาที



<p>73.</p> 	<p>เพิ่มอีก 13 นาที</p>
<p>74.</p> 	<p>เพิ่มอีก 19 นาที</p>
<p>75.</p> 	<p>เพิ่มอีก 16 นาที</p>



ครูย์ www.ontous.info

ชื่อ-สกุล			
ชั้นเรียน		เลขที่	
คะแนนที่ได้		วันที่	

คำชี้แจง : ฝึกนับเพิ่มเวลาและนับลดเวลาตามโจทย์กำหนดให้ถูกต้อง นาฬิกาช่วง 1 นาที




<p>76.</p> 	<p>ลดเวลา 43 นาที</p>
<p>77.</p> 	<p>เพิ่มอีก 21 นาที</p>
<p>78.</p> 	<p>ลดเวลา 16 นาที</p>



ครูย์ www.ontous.info

ชื่อ-สกุล			
ชั้นเรียน		เลขที่	
คะแนนที่ได้		วันที่	

คำชี้แจง : ฝึกนับเพิ่มเวลาและนับลดเวลาตามโจทย์กำหนดให้ถูกต้อง นาฬิกาช่วง 1 นาที




<p>79.</p> 	<p>ลดเวลา 46 นาที</p>
<p>80.</p> 	<p>ลดเวลา 49 นาที</p>
<p>81.</p> 	<p>ลดเวลา 56 นาที</p>



ครูย์ www.ontous.info

ชื่อ-สกุล			
ชั้นเรียน		เลขที่	
คะแนนที่ได้		วันที่	

คำชี้แจง : ฝึกนับเพิ่มเวลาและนับลดเวลาตามโจทย์กำหนดให้ถูกต้อง นาฬิกาช่วง 1 นาที


<p>82.</p> 	<p>ลดเวลา 6 นาที</p>
<p>83.</p> 	<p>ลดเวลา 14 นาที</p>
<p>84.</p> 	<p>เพิ่มอีก 23 นาที</p>



ครูย์ www.ontous.info

ชื่อ-สกุล			
ชั้นเรียน		เลขที่	
คะแนนที่ได้		วันที่	

คำชี้แจง : ฝึกนับเพิ่มเวลาและนับลดเวลาตามโจทย์กำหนดให้ถูกต้อง นาฬิกาช่วง 1 นาที

<p>85.</p> 	<p>เพิ่มอีก 32 นาที</p>
<p>86.</p> 	<p>ลดเวลา 5 นาที</p>
<p>87.</p> 	<p>ลดเวลา 31 นาที</p>



ครูย์ www.ontous.info

ชื่อ-สกุล			
ชั้นเรียน		เลขที่	
คะแนนที่ได้		วันที่	

คำชี้แจง : ฝึกนับเพิ่มเวลาและนับลดเวลาตามโจทย์กำหนดให้ถูกต้อง นาฬิกาช่วง 1 นาที

<p>88.</p> 	<p>ลดเวลา 48 นาที</p>
<p>89.</p> 	<p>เพิ่มอีก 40 นาที</p>
<p>90.</p> 	<p>ลดเวลา 15 นาที</p>




เฉลี่ย



ครูย์ www.ontous.info

ชื่อ-สกุล			
ชั้นเรียน		เลขที่	
คะแนนที่ได้		วันที่	

คำชี้แจง : ฝึกนับเพิ่มเวลาและนับลดเวลาตามโจทย์กำหนดให้ถูกต้อง นาฬิกาช่วง 1 นาที




<p>1.</p> 	<p>เพิ่มอีก 43 นาที</p> <p>ตอบ 14:25</p>
<p>2.</p> 	<p>ลดเวลา 23 นาที</p> <p>ตอบ 03:05</p>
<p>3.</p> 	<p>ลดเวลา 39 นาที</p> <p>ตอบ 10:45</p>



ครูย์ www.ontous.info

ชื่อ-สกุล			
ชั้นเรียน		เลขที่	
คะแนนที่ได้		วันที่	

คำชี้แจง : ฝึกนับเพิ่มเวลาและนับลดเวลาตามโจทย์กำหนดให้ถูกต้อง นาฬิกาช่วง 1 นาที




4. 	ลดเวลา 21 นาที
	ตอบ 00:25
5. 	ลดเวลา 59 นาที
	ตอบ 00:22
6. 	เพิ่มอีก 21 นาที
	ตอบ 04:00



ครูย์ www.ontous.info

ชื่อ-สกุล			
ชั้นเรียน		เลขที่	
คะแนนที่ได้		วันที่	

คำชี้แจง : ฝึกนับเพิ่มเวลาและนับลดเวลาตามโจทย์กำหนดให้ถูกต้อง นาฬิกาช่วง 1 นาที




<p>7.</p> 	<p>เพิ่มอีก 55 นาที</p> <p>ตอบ 04:21</p>
<p>8.</p> 	<p>ลดเวลา 38 นาที</p> <p>ตอบ 10:37</p>
<p>9.</p> 	<p>ลดเวลา 31 นาที</p> <p>ตอบ 20:01</p>



ครูย์ www.ontous.info

ชื่อ-สกุล			
ชั้นเรียน		เลขที่	
คะแนนที่ได้		วันที่	

คำชี้แจง : ฝึกนับเพิ่มเวลาและนับลดเวลาตามโจทย์กำหนดให้ถูกต้อง นาฬิกาช่วง 1 นาที




 <p>10.</p>	<p>ลดเวลา 55 นาที</p> <hr/> <p>ตอบ 07:34</p>
 <p>11.</p>	<p>ลดเวลา 31 นาที</p> <hr/> <p>ตอบ 02:52</p>
 <p>12.</p>	<p>ลดเวลา 44 นาที</p> <hr/> <p>ตอบ 03:03</p>



ครูย์ www.ontous.info

ชื่อ-สกุล			
ชั้นเรียน		เลขที่	
คะแนนที่ได้		วันที่	

คำชี้แจง : ฝึกนับเพิ่มเวลาและนับลดเวลาตามโจทย์กำหนดให้ถูกต้อง นาฬิกาช่วง 1 นาที




<p>13.</p> 	<p>ลดเวลา 14 นาที</p> <p>ตอบ 07:22</p>
<p>14.</p> 	<p>เพิ่มอีก 43 นาที</p> <p>ตอบ 06:50</p>
<p>15.</p> 	<p>เพิ่มอีก 27 นาที</p> <p>ตอบ 13:05</p>



ครูย์ www.ontous.info

ชื่อ-สกุล			
ชั้นเรียน		เลขที่	
คะแนนที่ได้		วันที่	

คำชี้แจง : ฝึกนับเพิ่มเวลาและนับลดเวลาตามโจทย์กำหนดให้ถูกต้อง นาฬิกาช่วง 1 นาที




<p>16.</p> 	<p>เพิ่มอีก 22 นาที</p> <hr/> <p>ตอบ 11:42</p>
<p>17.</p> 	<p>ลดเวลา 23 นาที</p> <hr/> <p>ตอบ 18:22</p>
<p>18.</p> 	<p>เพิ่มอีก 41 นาที</p> <hr/> <p>ตอบ 10:19</p>



ครูย์ www.ontous.info

ชื่อ-สกุล			
ชั้นเรียน		เลขที่	
คะแนนที่ได้		วันที่	

คำชี้แจง : ฝึกนับเพิ่มเวลาและนับลดเวลาตามโจทย์กำหนดให้ถูกต้อง นาฬิกาช่วง 1 นาที




<p>19.</p> 	<p>ลดเวลา 9 นาที</p> <p>ตอบ 03:32</p>
<p>20.</p> 	<p>เพิ่มอีก 52 นาที</p> <p>ตอบ 14:40</p>
<p>21.</p> 	<p>ลดเวลา 27 นาที</p> <p>ตอบ 02:11</p>



ชื่อ-สกุล			
ชั้นเรียน		เลขที่	
คะแนนที่ได้		วันที่	

ครูย์ www.ontous.info

คำชี้แจง : ฝึกนับเพิ่มเวลาและนับลดเวลาตามโจทย์กำหนดให้ถูกต้อง นาฬิกาช่วง 1 นาที




<p>22.</p> 	<p>ลดเวลา 30 นาที</p>
<p>23.</p> 	<p>เพิ่มอีก 38 นาที</p>
<p>24.</p> 	<p>ลดเวลา 21 นาที</p>
	<p>ตอบ 23:34</p> <p>ตอบ 20:53</p> <p>ตอบ 01:32</p>



ครูย์ www.ontous.info

ชื่อ-สกุล			
ชั้นเรียน		เลขที่	
คะแนนที่ได้		วันที่	

คำชี้แจง : ฝึกนับเพิ่มเวลาและนับลดเวลาตามโจทย์กำหนดให้ถูกต้อง นาฬิกาช่วง 1 นาที



<p>25.</p> 	<p>ลดเวลา 14 นาที</p> <p>ตอบ 02:17</p>
<p>26.</p> 	<p>เพิ่มอีก 9 นาที</p> <p>ตอบ 06:42</p>
<p>27.</p> 	<p>เพิ่มอีก 33 นาที</p> <p>ตอบ 01:22</p>



ครูย์ www.ontous.info

ชื่อ-สกุล			
ชั้นเรียน		เลขที่	
คะแนนที่ได้		วันที่	

คำชี้แจง : ฝึกนับเพิ่มเวลาและนับลดเวลาตามโจทย์กำหนดให้ถูกต้อง นาฬิกาช่วง 1 นาที


<p>28.</p> 	<p>เพิ่มอีก 49 นาที</p> <hr/> <p>ตอบ 14:09</p>
<p>29.</p> 	<p>เพิ่มอีก 55 นาที</p> <hr/> <p>ตอบ 19:18</p>
<p>30.</p> 	<p>เพิ่มอีก 9 นาที</p> <hr/> <p>ตอบ 13:53</p>



ครูย์ www.ontous.info

ชื่อ-สกุล			
ชั้นเรียน		เลขที่	
คะแนนที่ได้		วันที่	

คำชี้แจง : ฝึกนับเพิ่มเวลาและนับลดเวลาตามโจทย์กำหนดให้ถูกต้อง นาฬิกาช่วง 1 นาที




<p>31.</p> 	<p>ลดเวลา 21 นาที</p> <p>ตอบ 19:54</p>
<p>32.</p> 	<p>เพิ่มอีก 8 นาที</p> <p>ตอบ 16:15</p>
<p>33.</p> 	<p>ลดเวลา 49 นาที</p> <p>ตอบ 10:23</p>



ครูย์ www.ontous.info

ชื่อ-สกุล			
ชั้นเรียน		เลขที่	
คะแนนที่ได้		วันที่	

คำชี้แจง : ฝึกนับเพิ่มเวลาและนับลดเวลาตามโจทย์กำหนดให้ถูกต้อง นาฬิกาช่วง 1 นาที




34. 	เพิ่มอีก 56 นาที
	ตอบ 09:24
35. 	ลดเวลา 58 นาที
	ตอบ 15:12
36. 	เพิ่มอีก 20 นาที
	ตอบ 19:11



ครูย์ www.ontous.info

ชื่อ-สกุล			
ชั้นเรียน		เลขที่	
คะแนนที่ได้		วันที่	

คำชี้แจง : ฝึกนับเพิ่มเวลาและนับลดเวลาตามโจทย์กำหนดให้ถูกต้อง นาฬิกาช่วง 1 นาที


<p>37.</p> 	<p>ลดเวลา 22 นาที</p> <p>ตอบ 06:05</p>
<p>38.</p> 	<p>เพิ่มอีก 56 นาที</p> <p>ตอบ 02:29</p>
<p>39.</p> 	<p>ลดเวลา 31 นาที</p> <p>ตอบ 21:18</p>



ครูย์ www.ontous.info

ชื่อ-สกุล			
ชั้นเรียน		เลขที่	
คะแนนที่ได้		วันที่	

คำชี้แจง : ฝึกนับเพิ่มเวลาและนับลดเวลาตามโจทย์กำหนดให้ถูกต้อง นาฬิกาช่วง 1 นาที




40. 	เพิ่มอีก 5 นาที
	ตอบ 22:34
41. 	เพิ่มอีก 14 นาที
	ตอบ 17:09
42. 	เพิ่มอีก 14 นาที
	ตอบ 02:14



ครูย์ www.ontous.info

ชื่อ-สกุล			
ชั้นเรียน		เลขที่	
คะแนนที่ได้		วันที่	

คำชี้แจง : ฝึกนับเพิ่มเวลาและนับลดเวลาตามโจทย์กำหนดให้ถูกต้อง นาฬิกาช่วง 1 นาที




<p>43.</p> 	<p>เพิ่มอีก 51 นาที</p> <hr/> <p>ตอบ 07:42</p>
<p>44.</p> 	<p>ลดเวลา 55 นาที</p> <hr/> <p>ตอบ 12:52</p>
<p>45.</p> 	<p>ลดเวลา 14 นาที</p> <hr/> <p>ตอบ 03:16</p>



ครูย์ www.ontous.info

ชื่อ-สกุล			
ชั้นเรียน		เลขที่	
คะแนนที่ได้		วันที่	

คำชี้แจง : ฝึกนับเพิ่มเวลาและนับลดเวลาตามโจทย์กำหนดให้ถูกต้อง นาฬิกาช่วง 1 นาที



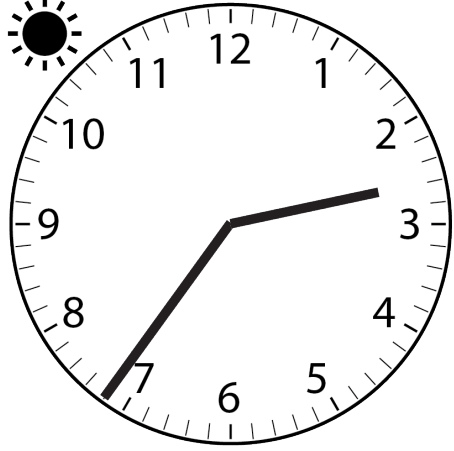
<p>46.</p> 	<p>ลดเวลา 46 นาที</p> <p>ตอบ 12:32</p>
<p>47.</p> 	<p>ลดเวลา 48 นาที</p> <p>ตอบ 20:19</p>
<p>48.</p> 	<p>เพิ่มอีก 54 นาที</p> <p>ตอบ 16:28</p>



ครูย์ www.ontous.info

ชื่อ-สกุล			
ชั้นเรียน		เลขที่	
คะแนนที่ได้		วันที่	

คำชี้แจง : ฝึกนับเพิ่มเวลาและนับลดเวลาตามโจทย์กำหนดให้ถูกต้อง นาฬิกาช่วง 1 นาที




<p>49.</p> 	<p>เพิ่มอีก 19 นาที</p> <hr/> <p>ตอบ 19:04</p>
<p>50.</p> 	<p>เพิ่มอีก 36 นาที</p> <hr/> <p>ตอบ 06:59</p>
<p>51.</p> 	<p>เพิ่มอีก 6 นาที</p> <hr/> <p>ตอบ 14:42</p>



ครูย์ www.ontous.info

ชื่อ-สกุล			
ชั้นเรียน		เลขที่	
คะแนนที่ได้		วันที่	

คำชี้แจง : ฝึกนับเพิ่มเวลาและนับลดเวลาตามโจทย์กำหนดให้ถูกต้อง นาฬิกาช่วง 1 นาที




<p>52.</p> 	<p>เพิ่มอีก 25 นาที</p> <hr/> <p>ตอบ 11:22</p>
<p>53.</p> 	<p>เพิ่มอีก 42 นาที</p> <hr/> <p>ตอบ 12:07</p>
<p>54.</p> 	<p>เพิ่มอีก 44 นาที</p> <hr/> <p>ตอบ 05:27</p>



ครูย์ www.ontous.info

ชื่อ-สกุล			
ชั้นเรียน		เลขที่	
คะแนนที่ได้		วันที่	

คำชี้แจง : ฝึกนับเพิ่มเวลาและนับลดเวลาตามโจทย์กำหนดให้ถูกต้อง นาฬิกาช่วง 1 นาที




<p>55.</p> 	<p>เพิ่มอีก 11 นาที</p> <hr/> <p>ตอบ 20:53</p>
<p>56.</p> 	<p>ลดเวลา 41 นาที</p> <hr/> <p>ตอบ 06:02</p>
<p>57.</p> 	<p>ลดเวลา 57 นาที</p> <hr/> <p>ตอบ 02:03</p>



ครูย์ www.ontous.info

ชื่อ-สกุล			
ชั้นเรียน		เลขที่	
คะแนนที่ได้		วันที่	

คำชี้แจง : ฝึกนับเพิ่มเวลาและนับลดเวลาตามโจทย์กำหนดให้ถูกต้อง นาฬิกาช่วง 1 นาที

<p>58.</p> 	<p>ลดเวลา 27 นาที</p> <p>ตอบ 12:58</p>
<p>59.</p> 	<p>เพิ่มอีก 21 นาที</p> <p>ตอบ 09:11</p>
<p>60.</p> 	<p>ลดเวลา 26 นาที</p> <p>ตอบ 01:41</p>



ครูย์ www.ontous.info

ชื่อ-สกุล			
ชั้นเรียน		เลขที่	
คะแนนที่ได้		วันที่	

คำชี้แจง : ฝึกนับเพิ่มเวลาและนับลดเวลาตามโจทย์กำหนดให้ถูกต้อง นาฬิกาช่วง 1 นาที




<p>61.</p> 	<p>ลดเวลา 21 นาที</p> <p>ตอบ 05:02</p>
<p>62.</p> 	<p>เพิ่มอีก 29 นาที</p> <p>ตอบ 23:04</p>
<p>63.</p> 	<p>ลดเวลา 40 นาที</p> <p>ตอบ 23:01</p>



ครูย์ www.ontous.info

ชื่อ-สกุล			
ชั้นเรียน		เลขที่	
คะแนนที่ได้		วันที่	

คำชี้แจง : ฝึกนับเพิ่มเวลาและนับลดเวลาตามโจทย์กำหนดให้ถูกต้อง นาฬิกาช่วง 1 นาที

<p>64.</p> 	<p>เพิ่มอีก 51 นาที</p> <hr/> <p>ตอบ 04:34</p>
<p>65.</p> 	<p>เพิ่มอีก 48 นาที</p> <hr/> <p>ตอบ 12:44</p>
<p>66.</p> 	<p>ลดเวลา 42 นาที</p> <hr/> <p>ตอบ 10:49</p>



ครูย์ www.ontous.info

ชื่อ-สกุล			
ชั้นเรียน		เลขที่	
คะแนนที่ได้		วันที่	

คำชี้แจง : ฝึกนับเพิ่มเวลาและนับลดเวลาตามโจทย์กำหนดให้ถูกต้อง นาฬิกาช่วง 1 นาที




<p>67.</p> 	<p>เพิ่มอีก 58 นาที</p> <p>ตอบ 04:09</p>
<p>68.</p> 	<p>เพิ่มอีก 13 นาที</p> <p>ตอบ 23:47</p>
<p>69.</p> 	<p>เพิ่มอีก 7 นาที</p> <p>ตอบ 08:21</p>



ครูย์ www.ontous.info

ชื่อ-สกุล			
ชั้นเรียน		เลขที่	
คะแนนที่ได้		วันที่	

คำชี้แจง : ฝึกนับเพิ่มเวลาและนับลดเวลาตามโจทย์กำหนดให้ถูกต้อง นาฬิกาช่วง 1 นาที




<p>70.</p> 	<p>เพิ่มอีก 54 นาที</p> <hr/> <p>ตอบ 13:41</p>
<p>71.</p> 	<p>เพิ่มอีก 58 นาที</p> <hr/> <p>ตอบ 10:06</p>
<p>72.</p> 	<p>เพิ่มอีก 48 นาที</p> <hr/> <p>ตอบ 06:15</p>



ครูย์ www.ontous.info

ชื่อ-สกุล			
ชั้นเรียน		เลขที่	
คะแนนที่ได้		วันที่	

คำชี้แจง : ฝึกนับเพิ่มเวลาและนับลดเวลาตามโจทย์กำหนดให้ถูกต้อง นาฬิกาช่วง 1 นาที

<p>73.</p> 	<p>เพิ่มอีก 13 นาที</p> <hr/> <p>ตอบ 12:26</p>
<p>74.</p> 	<p>เพิ่มอีก 19 นาที</p> <hr/> <p>ตอบ 02:13</p>
<p>75.</p> 	<p>เพิ่มอีก 16 นาที</p> <hr/> <p>ตอบ 18:13</p>



ครูย์ www.ontous.info

ชื่อ-สกุล			
ชั้นเรียน		เลขที่	
คะแนนที่ได้		วันที่	

คำชี้แจง : ฝึกนับเพิ่มเวลาและนับลดเวลาตามโจทย์กำหนดให้ถูกต้อง นาฬิกาช่วง 1 นาที




<p>76.</p> 	<p>ลดเวลา 43 นาที</p> <p>ตอบ 03:23</p>
<p>77.</p> 	<p>เพิ่มอีก 21 นาที</p> <p>ตอบ 17:21</p>
<p>78.</p> 	<p>ลดเวลา 16 นาที</p> <p>ตอบ 11:18</p>



ครูย์ www.ontous.info

ชื่อ-สกุล			
ชั้นเรียน		เลขที่	
คะแนนที่ได้		วันที่	

คำชี้แจง : ฝึกนับเพิ่มเวลาและนับลดเวลาตามโจทย์กำหนดให้ถูกต้อง นาฬิกาช่วง 1 นาที


<p>79.</p> 	<p>ลดเวลา 46 นาที</p> <p>ตอบ 21:07</p>
<p>80.</p> 	<p>ลดเวลา 49 นาที</p> <p>ตอบ 11:01</p>
<p>81.</p> 	<p>ลดเวลา 56 นาที</p> <p>ตอบ 23:33</p>



ครูย์ www.ontous.info

ชื่อ-สกุล			
ชั้นเรียน		เลขที่	
คะแนนที่ได้		วันที่	

คำชี้แจง : ฝึกนับเพิ่มเวลาและนับลดเวลาตามโจทย์กำหนดให้ถูกต้อง นาฬิกาช่วง 1 นาที

<p>82.</p> 	<p>ลดเวลา 6 นาที</p> <p>ตอบ 07:58</p>
<p>83.</p> 	<p>ลดเวลา 14 นาที</p> <p>ตอบ 07:24</p>
<p>84.</p> 	<p>เพิ่มอีก 23 นาที</p> <p>ตอบ 01:49</p>



ครูย์ www.ontous.info

ชื่อ-สกุล			
ชั้นเรียน		เลขที่	
คะแนนที่ได้		วันที่	

คำชี้แจง : ฝึกนับเพิ่มเวลาและนับลดเวลาตามโจทย์กำหนดให้ถูกต้อง นาฬิกาช่วง 1 นาที

<p>85.</p> 	<p>เพิ่มอีก 32 นาที</p> <hr/> <p>ตอบ 03:10</p>
<p>86.</p> 	<p>ลดเวลา 5 นาที</p> <hr/> <p>ตอบ 00:59</p>
<p>87.</p> 	<p>ลดเวลา 31 นาที</p> <hr/> <p>ตอบ 01:27</p>



ครูย์ www.ontous.info

ชื่อ-สกุล			
ชั้นเรียน		เลขที่	
คะแนนที่ได้		วันที่	

คำชี้แจง : ฝึกนับเพิ่มเวลาและนับลดเวลาตามโจทย์กำหนดให้ถูกต้อง นาฬิกาช่วง 1 นาที

<p>88.</p> 	<p>ลดเวลา 48 นาที</p>
<p>89.</p> 	<p>เพิ่มอีก 40 นาที</p>
<p>90.</p> 	<p>ลดเวลา 15 นาที</p>
	<p>ตอบ 11:30</p>