






ครูย์ www.ontous.info

ชื่อ-สกุล			
ชั้นเรียน		เลขที่	
คะแนนที่ได้		วันที่	

คำชี้แจง : ฝึกนับลดเวลาตามโจทย์กำหนดให้ถูกต้อง นาฬิกาช่วง 5 นาที




<p>1.</p> 	<p>ลดเวลา 5 นาที</p>
<p>2.</p> 	<p>ลดเวลา 40 นาที</p>
<p>3.</p> 	<p>ลดเวลา 5 นาที</p>



ครูย์ www.ontous.info

ชื่อ-สกุล			
ชั้นเรียน		เลขที่	
คะแนนที่ได้		วันที่	

คำชี้แจง : ฝึกนับลดเวลาตามโจทย์กำหนดให้ถูกต้อง นาฬิกาช่วง 5 นาที




<p>4.</p> 	<p>ลดเวลา 55 นาที</p>
<p>5.</p> 	<p>ลดเวลา 45 นาที</p>
<p>6.</p> 	<p>ลดเวลา 30 นาที</p>



ครูย์ www.ontous.info

ชื่อ-สกุล			
ชั้นเรียน		เลขที่	
คะแนนที่ได้		วันที่	

คำชี้แจง : ฝึกนับลดเวลาตามโจทย์กำหนดให้ถูกต้อง นาฬิกาช่วง 5 นาที

<p>7.</p> 	<p>ลดเวลา 5 นาที</p>
<p>8.</p> 	<p>ลดเวลา 45 นาที</p>
<p>9.</p> 	<p>ลดเวลา 0 นาที</p>



ครูย์ www.ontous.info

ชื่อ-สกุล			
ชั้นเรียน		เลขที่	
คะแนนที่ได้		วันที่	

คำชี้แจง : ฝึกนับลดเวลาตามโจทย์กำหนดให้ถูกต้อง นาฬิกาช่วง 5 นาที




	<p>ลดเวลา 0 นาที</p>
	<p>ลดเวลา 30 นาที</p>
	<p>ลดเวลา 0 นาที</p>



ครูย์ www.ontous.info

ชื่อ-สกุล			
ชั้นเรียน		เลขที่	
คะแนนที่ได้		วันที่	

คำชี้แจง : ฝึกนับลดเวลาตามโจทย์กำหนดให้ถูกต้อง นาฬิกาช่วง 5 นาที




<p>13.</p> 	<p>ลดเวลา 20 นาที</p>
<p>14.</p> 	<p>ลดเวลา 45 นาที</p>
<p>15.</p> 	<p>ลดเวลา 25 นาที</p>



ครูย์ www.ontous.info

ชื่อ-สกุล			
ชั้นเรียน		เลขที่	
คะแนนที่ได้		วันที่	

คำชี้แจง : ฝึกนับลดเวลาตามโจทย์กำหนดให้ถูกต้อง นาฬิกาช่วง 5 นาที




 <p>16.</p>	<p>ลดเวลา 0 นาที</p>
 <p>17.</p>	<p>ลดเวลา 25 นาที</p>
 <p>18.</p>	<p>ลดเวลา 30 นาที</p>



ครูย์ www.ontous.info

ชื่อ-สกุล			
ชั้นเรียน		เลขที่	
คะแนนที่ได้		วันที่	

คำชี้แจง : ฝึกนับลดเวลาตามโจทย์กำหนดให้ถูกต้อง นาฬิกาช่วง 5 นาที




<p>19.</p> 	<p>ลดเวลา 35 นาที</p>
<p>20.</p> 	<p>ลดเวลา 35 นาที</p>
<p>21.</p> 	<p>ลดเวลา 0 นาที</p>



ครูย์ www.ontous.info

ชื่อ-สกุล			
ชั้นเรียน		เลขที่	
คะแนนที่ได้		วันที่	

คำชี้แจง : ฝึกนับลดเวลาตามโจทย์กำหนดให้ถูกต้อง นาฬิกาช่วง 5 นาที




<p>22.</p> 	<p>ลดเวลา 45 นาที</p>
<p>23.</p> 	<p>ลดเวลา 5 นาที</p>
<p>24.</p> 	<p>ลดเวลา 35 นาที</p>



ครูย์ www.ontous.info

ชื่อ-สกุล			
ชั้นเรียน		เลขที่	
คะแนนที่ได้		วันที่	

คำชี้แจง : ฝึกนับลดเวลาตามโจทย์กำหนดให้ถูกต้อง นาฬิกาช่วง 5 นาที




<p>25.</p> 	<p>ลดเวลา 0 นาที</p>
<p>26.</p> 	<p>ลดเวลา 5 นาที</p>
<p>27.</p> 	<p>ลดเวลา 20 นาที</p>



ครูย์ www.ontous.info

ชื่อ-สกุล			
ชั้นเรียน		เลขที่	
คะแนนที่ได้		วันที่	

คำชี้แจง : ฝึกนับลดเวลาตามโจทย์กำหนดให้ถูกต้อง นาฬิกาช่วง 5 นาที




<p>28.</p> 	<p>ลดเวลา 35 นาที</p>
<p>29.</p> 	<p>ลดเวลา 25 นาที</p>
<p>30.</p> 	<p>ลดเวลา 5 นาที</p>



ครูย์ www.ontous.info

ชื่อ-สกุล			
ชั้นเรียน		เลขที่	
คะแนนที่ได้		วันที่	

คำชี้แจง : ฝึกนับลดเวลาตามโจทย์กำหนดให้ถูกต้อง นาฬิกาช่วง 5 นาที




<p>31.</p> 	<p>ลดเวลา 10 นาที</p>
<p>32.</p> 	<p>ลดเวลา 30 นาที</p>
<p>33.</p> 	<p>ลดเวลา 35 นาที</p>



ครูย์ www.ontous.info

ชื่อ-สกุล			
ชั้นเรียน		เลขที่	
คะแนนที่ได้		วันที่	

คำชี้แจง : ฝึกนับลดเวลาตามโจทย์กำหนดให้ถูกต้อง นาฬิกาช่วง 5 นาที




<p>34.</p> 	<p>ลดเวลา 45 นาที</p>
<p>35.</p> 	<p>ลดเวลา 55 นาที</p>
<p>36.</p> 	<p>ลดเวลา 40 นาที</p>



ครูย์ www.ontous.info

ชื่อ-สกุล			
ชั้นเรียน		เลขที่	
คะแนนที่ได้		วันที่	

คำชี้แจง : ฝึกนับลดเวลาตามโจทย์กำหนดให้ถูกต้อง นาฬิกาช่วง 5 นาที




<p>37.</p> 	<p>ลดเวลา 50 นาที</p>
<p>38.</p> 	<p>ลดเวลา 45 นาที</p>
<p>39.</p> 	<p>ลดเวลา 40 นาที</p>



ครูย์ www.ontous.info

ชื่อ-สกุล			
ชั้นเรียน		เลขที่	
คะแนนที่ได้		วันที่	

คำชี้แจง : ฝึกนับลดเวลาตามโจทย์กำหนดให้ถูกต้อง นาฬิกาช่วง 5 นาที




<p>40.</p> 	<p>ลดเวลา 45 นาที</p>
<p>41.</p> 	<p>ลดเวลา 30 นาที</p>
<p>42.</p> 	<p>ลดเวลา 30 นาที</p>



ครูย์ www.ontous.info

ชื่อ-สกุล			
ชั้นเรียน		เลขที่	
คะแนนที่ได้		วันที่	

คำชี้แจง : ฝึกนับลดเวลาตามโจทย์กำหนดให้ถูกต้อง นาฬิกาช่วง 5 นาที




<p>43.</p> 	<p>ลดเวลา 10 นาที</p>
<p>44.</p> 	<p>ลดเวลา 40 นาที</p>
<p>45.</p> 	<p>ลดเวลา 45 นาที</p>



ครูย์ www.ontous.info

ชื่อ-สกุล			
ชั้นเรียน		เลขที่	
คะแนนที่ได้		วันที่	

คำชี้แจง : ฝึกนับลดเวลาตามโจทย์กำหนดให้ถูกต้อง นาฬิกาช่วง 5 นาที




<p>46.</p> 	<p>ลดเวลา 50 นาที</p>
<p>47.</p> 	<p>ลดเวลา 20 นาที</p>
<p>48.</p> 	<p>ลดเวลา 45 นาที</p>



ครูย์ www.ontous.info

ชื่อ-สกุล			
ชั้นเรียน		เลขที่	
คะแนนที่ได้		วันที่	

คำชี้แจง : ฝึกนับลดเวลาตามโจทย์กำหนดให้ถูกต้อง นาฬิกาช่วง 5 นาที




<p>49.</p> 	<p>ลดเวลา 35 นาที</p>
<p>50.</p> 	<p>ลดเวลา 50 นาที</p>
<p>51.</p> 	<p>ลดเวลา 0 นาที</p>



ครูย์ www.ontous.info

ชื่อ-สกุล			
ชั้นเรียน		เลขที่	
คะแนนที่ได้		วันที่	

คำชี้แจง : ฝึกนับลดเวลาตามโจทย์กำหนดให้ถูกต้อง นาฬิกาช่วง 5 นาที




<p>52.</p> 	<p>ลดเวลา 0 นาที</p>
<p>53.</p> 	<p>ลดเวลา 35 นาที</p>
<p>54.</p> 	<p>ลดเวลา 5 นาที</p>



ครูย์ www.ontous.info

ชื่อ-สกุล			
ชั้นเรียน		เลขที่	
คะแนนที่ได้		วันที่	

คำชี้แจง : ฝึกนับลดเวลาตามโจทย์กำหนดให้ถูกต้อง นาฬิกาช่วง 5 นาที




<p>55.</p> 	<p>ลดเวลา 50 นาที</p>
<p>56.</p> 	<p>ลดเวลา 0 นาที</p>
<p>57.</p> 	<p>ลดเวลา 45 นาที</p>



ครู้อย www.ontous.info

ชื่อ-สกุล			
ชั้นเรียน		เลขที่	
คะแนนที่ได้		วันที่	

คำชี้แจง : ฝึกนับลดเวลาตามโจทย์กำหนดให้ถูกต้อง นาฬิกาช่วง 5 นาที




<p>58.</p> 	<p>ลดเวลา 25 นาที</p>
<p>59.</p> 	<p>ลดเวลา 5 นาที</p>
<p>60.</p> 	<p>ลดเวลา 0 นาที</p>



ครูย์ www.ontous.info

ชื่อ-สกุล			
ชั้นเรียน		เลขที่	
คะแนนที่ได้		วันที่	

คำชี้แจง : ฝึกนับลดเวลาตามโจทย์กำหนดให้ถูกต้อง นาฬิกาช่วง 5 นาที




<p>61.</p> 	<p>ลดเวลา 20 นาที</p>
<p>62.</p> 	<p>ลดเวลา 30 นาที</p>
<p>63.</p> 	<p>ลดเวลา 25 นาที</p>



ครูย์ www.ontous.info

ชื่อ-สกุล			
ชั้นเรียน		เลขที่	
คะแนนที่ได้		วันที่	

คำชี้แจง : ฝึกนับลดเวลาตามโจทย์กำหนดให้ถูกต้อง นาฬิกาช่วง 5 นาที




<p>64.</p> 	<p>ลดเวลา 40 นาที</p>
<p>65.</p> 	<p>ลดเวลา 0 นาที</p>
<p>66.</p> 	<p>ลดเวลา 15 นาที</p>



ครูย์ www.ontous.info

ชื่อ-สกุล			
ชั้นเรียน		เลขที่	
คะแนนที่ได้		วันที่	

คำชี้แจง : ฝึกนับลดเวลาตามโจทย์กำหนดให้ถูกต้อง นาฬิกาช่วง 5 นาที




<p>67.</p> 	<p>ลดเวลา 30 นาที</p>
<p>68.</p> 	<p>ลดเวลา 40 นาที</p>
<p>69.</p> 	<p>ลดเวลา 55 นาที</p>



ครูย์ www.ontous.info

ชื่อ-สกุล			
ชั้นเรียน		เลขที่	
คะแนนที่ได้		วันที่	

คำชี้แจง : ฝึกนับลดเวลาตามโจทย์กำหนดให้ถูกต้อง นาฬิกาช่วง 5 นาที




<p>70.</p> 	<p>ลดเวลา 5 นาที</p>
<p>71.</p> 	<p>ลดเวลา 40 นาที</p>
<p>72.</p> 	<p>ลดเวลา 45 นาที</p>



ครูย์ www.ontous.info

ชื่อ-สกุล			
ชั้นเรียน		เลขที่	
คะแนนที่ได้		วันที่	

คำชี้แจง : ฝึกนับลดเวลาตามโจทย์กำหนดให้ถูกต้อง นาฬิกาช่วง 5 นาที




<p>73.</p> 	<p>ลดเวลา 15 นาที</p>
<p>74.</p> 	<p>ลดเวลา 0 นาที</p>
<p>75.</p> 	<p>ลดเวลา 30 นาที</p>



ครูย์ www.ontous.info

ชื่อ-สกุล			
ชั้นเรียน		เลขที่	
คะแนนที่ได้		วันที่	

คำชี้แจง : ฝึกนับลดเวลาตามโจทย์กำหนดให้ถูกต้อง นาฬิกาช่วง 5 นาที




<p>76.</p> 	<p>ลดเวลา 40 นาที</p>
<p>77.</p> 	<p>ลดเวลา 35 นาที</p>
<p>78.</p> 	<p>ลดเวลา 40 นาที</p>



ครูย์ www.ontous.info

ชื่อ-สกุล			
ชั้นเรียน		เลขที่	
คะแนนที่ได้		วันที่	

คำชี้แจง : ฝึกนับลดเวลาตามโจทย์กำหนดให้ถูกต้อง นาฬิกาช่วง 5 นาที




<p>79.</p> 	<p>ลดเวลา 10 นาที</p>
<p>80.</p> 	<p>ลดเวลา 35 นาที</p>
<p>81.</p> 	<p>ลดเวลา 50 นาที</p>



ครูย์ www.ontous.info

ชื่อ-สกุล			
ชั้นเรียน		เลขที่	
คะแนนที่ได้		วันที่	

คำชี้แจง : ฝึกนับลดเวลาตามโจทย์กำหนดให้ถูกต้อง นาฬิกาช่วง 5 นาที




<p>82.</p> 	<p>ลดเวลา 35 นาที</p>
<p>83.</p> 	<p>ลดเวลา 5 นาที</p>
<p>84.</p> 	<p>ลดเวลา 5 นาที</p>



ครูย์ www.ontous.info

ชื่อ-สกุล			
ชั้นเรียน		เลขที่	
คะแนนที่ได้		วันที่	

คำชี้แจง : ฝึกนับลดเวลาตามโจทย์กำหนดให้ถูกต้อง นาฬิกาช่วง 5 นาที




<p>85.</p> 	<p>ลดเวลา 0 นาที</p>
<p>86.</p> 	<p>ลดเวลา 5 นาที</p>
<p>87.</p> 	<p>ลดเวลา 25 นาที</p>



ครูย์ www.ontous.info

ชื่อ-สกุล			
ชั้นเรียน		เลขที่	
คะแนนที่ได้		วันที่	

คำชี้แจง : ฝึกนับลดเวลาตามโจทย์กำหนดให้ถูกต้อง นาฬิกาช่วง 5 นาที

<p>88.</p> 	<p>ลดเวลา 5 นาที</p>
<p>89.</p> 	<p>ลดเวลา 5 นาที</p>
<p>90.</p> 	<p>ลดเวลา 35 นาที</p>




เฉลี่ย



ครูย์ www.ontous.info

ชื่อ-สกุล			
ชั้นเรียน		เลขที่	
คะแนนที่ได้		วันที่	

คำชี้แจง : ฝึกนับลดเวลาตามโจทย์กำหนดให้ถูกต้อง นาฬิกาช่วง 5 นาที

1.		ลดเวลา 5 นาที
		ตอบ 13:55
2.		ลดเวลา 40 นาที
		ตอบ 10:00
3.		ลดเวลา 5 นาที
		ตอบ 06:25



ครูย์ www.ontous.info

ชื่อ-สกุล			
ชั้นเรียน		เลขที่	
คะแนนที่ได้		วันที่	

คำชี้แจง : ฝึกนับลดเวลาตามโจทย์กำหนดให้ถูกต้อง นาฬิกาช่วง 5 นาที




4.		ลดเวลา 55 นาที
		ตอบ 13:10
5.		ลดเวลา 45 นาที
		ตอบ 11:15
6.		ลดเวลา 30 นาที
		ตอบ 15:45



ครูย์ www.ontous.info

ชื่อ-สกุล			
ชั้นเรียน		เลขที่	
คะแนนที่ได้		วันที่	

คำชี้แจง : ฝึกนับลดเวลาตามโจทย์กำหนดให้ถูกต้อง นาฬิกาช่วง 5 นาที

<p>7.</p> 	<p>ลดเวลา 5 นาที</p> <p>ตอบ 17:10</p>
<p>8.</p> 	<p>ลดเวลา 45 นาที</p> <p>ตอบ 12:35</p>
<p>9.</p> 	<p>ลดเวลา 0 นาที</p> <p>ตอบ 08:40</p>



ครูย์ www.ontous.info

ชื่อ-สกุล			
ชั้นเรียน		เลขที่	
คะแนนที่ได้		วันที่	

คำชี้แจง : ฝึกนับลดเวลาตามโจทย์กำหนดให้ถูกต้อง นาฬิกาช่วง 5 นาที




	ลดเวลา 0 นาที
	ลดเวลา 30 นาที
	ลดเวลา 0 นาที
	ตอบ 17:05



ครูย์ www.ontous.info

ชื่อ-สกุล			
ชั้นเรียน		เลขที่	
คะแนนที่ได้		วันที่	

คำชี้แจง : ฝึกนับลดเวลาตามโจทย์กำหนดให้ถูกต้อง นาฬิกาช่วง 5 นาที




<p>13.</p> 	<p>ลดเวลา 20 นาที</p> <p>ตอบ 11:05</p>
<p>14.</p> 	<p>ลดเวลา 45 นาที</p> <p>ตอบ 09:45</p>
<p>15.</p> 	<p>ลดเวลา 25 นาที</p> <p>ตอบ 12:20</p>



ครูย์ www.ontous.info

ชื่อ-สกุล			
ชั้นเรียน		เลขที่	
คะแนนที่ได้		วันที่	

คำชี้แจง : ฝึกนับลดเวลาตามโจทย์กำหนดให้ถูกต้อง นาฬิกาช่วง 5 นาที




 <p>16.</p>	<p>ลดเวลา 0 นาที</p> <p>ตอบ 16:50</p>
 <p>17.</p>	<p>ลดเวลา 25 นาที</p> <p>ตอบ 12:40</p>
 <p>18.</p>	<p>ลดเวลา 30 นาที</p> <p>ตอบ 11:00</p>



ครูชัย www.ontous.info

ชื่อ-สกุล			
ชั้นเรียน		เลขที่	
คะแนนที่ได้		วันที่	

คำชี้แจง : ฝึกนับลดเวลาตามโจทย์กำหนดให้ถูกต้อง นาฬิกาช่วง 5 นาที




<p>19.</p> 	ลดเวลา 35 นาที
	ตอบ 12:55
<p>20.</p> 	ลดเวลา 35 นาที
	ตอบ 16:50
<p>21.</p> 	ลดเวลา 0 นาที
	ตอบ 06:55



ครูย์ www.ontous.info

ชื่อ-สกุล			
ชั้นเรียน		เลขที่	
คะแนนที่ได้		วันที่	

คำชี้แจง : ฝึกนับลดเวลาตามโจทย์กำหนดให้ถูกต้อง นาฬิกาช่วง 5 นาที




<p>22.</p> 	<p>ลดเวลา 45 นาที</p> <p>ตอบ 14:15</p>
<p>23.</p> 	<p>ลดเวลา 5 นาที</p> <p>ตอบ 08:15</p>
<p>24.</p> 	<p>ลดเวลา 35 นาที</p> <p>ตอบ 12:30</p>



ครูย์ www.ontous.info

ชื่อ-สกุล			
ชั้นเรียน		เลขที่	
คะแนนที่ได้		วันที่	

คำชี้แจง : ฝึกนับลดเวลาตามโจทย์กำหนดให้ถูกต้อง นาฬิกาช่วง 5 นาที




25. 	ลดเวลา 0 นาที
	ตอบ 17:10
26. 	ลดเวลา 5 นาที
	ตอบ 08:25
27. 	ลดเวลา 20 นาที
	ตอบ 08:30



ครูย์ www.ontous.info

ชื่อ-สกุล			
ชั้นเรียน		เลขที่	
คะแนนที่ได้		วันที่	

คำชี้แจง : ฝึกนับลดเวลาตามโจทย์กำหนดให้ถูกต้อง นาฬิกาช่วง 5 นาที




28. 	ลดเวลา 35 นาที
	ตอบ 14:25
29. 	ลดเวลา 25 นาที
	ตอบ 06:10
30. 	ลดเวลา 5 นาที
	ตอบ 07:25



ครูย์ www.ontous.info

ชื่อ-สกุล			
ชั้นเรียน		เลขที่	
คะแนนที่ได้		วันที่	

คำชี้แจง : ฝึกนับลดเวลาตามโจทย์กำหนดให้ถูกต้อง นาฬิกาช่วง 5 นาที




<p>31.</p> 	<p>ลดเวลา 10 นาที</p> <p>ตอบ 15:25</p>
<p>32.</p> 	<p>ลดเวลา 30 นาที</p> <p>ตอบ 16:15</p>
<p>33.</p> 	<p>ลดเวลา 35 นาที</p> <p>ตอบ 16:55</p>



ครูอัย www.ontous.info

ชื่อ-สกุล			
ชั้นเรียน		เลขที่	
คะแนนที่ได้		วันที่	

คำชี้แจง : ฝึกนับลดเวลาตามโจทย์กำหนดให้ถูกต้อง นาฬิกาช่วง 5 นาที




<p>34.</p> 	<p>ลดเวลา 45 นาที</p> <p>ตอบ 08:55</p>
<p>35.</p> 	<p>ลดเวลา 55 นาที</p> <p>ตอบ 16:55</p>
<p>36.</p> 	<p>ลดเวลา 40 นาที</p> <p>ตอบ 07:50</p>



ครู้อย www.ontous.info

ชื่อ-สกุล			
ชั้นเรียน		เลขที่	
คะแนนที่ได้		วันที่	

คำชี้แจง : ฝึกนับลดเวลาตามโจทย์กำหนดให้ถูกต้อง นาฬิกาช่วง 5 นาที




37. 	ลดเวลา 50 นาที
	ตอบ 06:05
38. 	ลดเวลา 45 นาที
	ตอบ 09:10
39. 	ลดเวลา 40 นาที
	ตอบ 15:30



ครูย์ www.ontous.info

ชื่อ-สกุล			
ชั้นเรียน		เลขที่	
คะแนนที่ได้		วันที่	

คำชี้แจง : ฝึกนับลดเวลาตามโจทย์กำหนดให้ถูกต้อง นาฬิกาช่วง 5 นาที


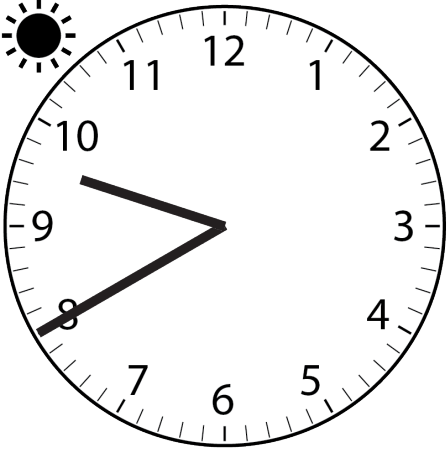

<p>40.</p> 	<p>ลดเวลา 45 นาที</p> <p>ตอบ 06:35</p>
<p>41.</p> 	<p>ลดเวลา 30 นาที</p> <p>ตอบ 16:20</p>
<p>42.</p> 	<p>ลดเวลา 30 นาที</p> <p>ตอบ 11:05</p>



ครูย์ www.ontous.info

ชื่อ-สกุล			
ชั้นเรียน		เลขที่	
คะแนนที่ได้		วันที่	

คำชี้แจง : ฝึกนับลดเวลาตามโจทย์กำหนดให้ถูกต้อง นาฬิกาช่วง 5 นาที




43. 	ลดเวลา 10 นาที
	ตอบ 11:25
44. 	ลดเวลา 40 นาที
	ตอบ 09:00
45. 	ลดเวลา 45 นาที
	ตอบ 13:20



ครูย์ www.ontous.info

ชื่อ-สกุล			
ชั้นเรียน		เลขที่	
คะแนนที่ได้		วันที่	

คำชี้แจง : ฝึกนับลดเวลาตามโจทย์กำหนดให้ถูกต้อง นาฬิกาช่วง 5 นาที




46. 	ลดเวลา 50 นาที
	ตอบ 16:30
47. 	ลดเวลา 20 นาที
	ตอบ 14:00
48. 	ลดเวลา 45 นาที
	ตอบ 11:15



ครูย์ www.ontous.info

ชื่อ-สกุล			
ชั้นเรียน		เลขที่	
คะแนนที่ได้		วันที่	

คำชี้แจง : ฝึกนับลดเวลาตามโจทย์กำหนดให้ถูกต้อง นาฬิกาช่วง 5 นาที




<p>49.</p> 	<p>ลดเวลา 35 นาที</p> <p>ตอบ 07:15</p>
<p>50.</p> 	<p>ลดเวลา 50 นาที</p> <p>ตอบ 10:00</p>
<p>51.</p> 	<p>ลดเวลา 0 นาที</p> <p>ตอบ 17:25</p>



ครูอัย www.ontous.info

ชื่อ-สกุล			
ชั้นเรียน		เลขที่	
คะแนนที่ได้		วันที่	

คำชี้แจง : ฝึกนับลดเวลาตามโจทย์กำหนดให้ถูกต้อง นาฬิกาช่วง 5 นาที


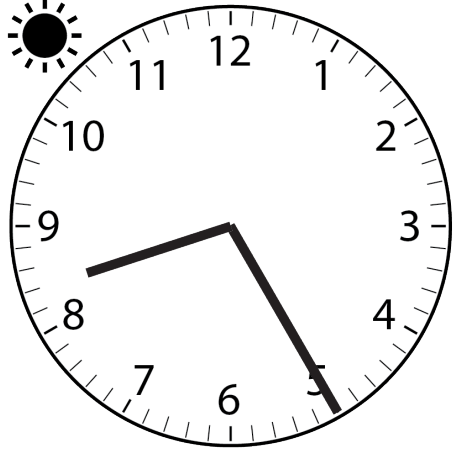

52. 	ลดเวลา 0 นาที
	ตอบ 12:40
53. 	ลดเวลา 35 นาที
	ตอบ 07:30
54. 	ลดเวลา 5 นาที
	ตอบ 12:05



ครูย์ www.ontous.info

ชื่อ-สกุล			
ชั้นเรียน		เลขที่	
คะแนนที่ได้		วันที่	

คำชี้แจง : ฝึกนับลดเวลาตามโจทย์กำหนดให้ถูกต้อง นาฬิกาช่วง 5 นาที




<p>55.</p> 	<p>ลดเวลา 50 นาที</p> <p>ตอบ 13:00</p>
<p>56.</p> 	<p>ลดเวลา 0 นาที</p> <p>ตอบ 08:25</p>
<p>57.</p> 	<p>ลดเวลา 45 นาที</p> <p>ตอบ 06:30</p>



ครูย์ www.ontous.info

ชื่อ-สกุล			
ชั้นเรียน		เลขที่	
คะแนนที่ได้		วันที่	

คำชี้แจง : ฝึกนับลดเวลาตามโจทย์กำหนดให้ถูกต้อง นาฬิกาช่วง 5 นาที




<p>58.</p> 	<p>ลดเวลา 25 นาที</p> <p>ตอบ 12:50</p>
<p>59.</p> 	<p>ลดเวลา 5 นาที</p> <p>ตอบ 06:00</p>
<p>60.</p> 	<p>ลดเวลา 0 นาที</p> <p>ตอบ 12:30</p>



ครูย์ www.ontous.info

ชื่อ-สกุล			
ชั้นเรียน		เลขที่	
คะแนนที่ได้		วันที่	

คำชี้แจง : ฝึกนับลดเวลาตามโจทย์กำหนดให้ถูกต้อง นาฬิกาช่วง 5 นาที




<p>61.</p> 	<p>ลดเวลา 20 นาที</p> <p>ตอบ 12:50</p>
<p>62.</p> 	<p>ลดเวลา 30 นาที</p> <p>ตอบ 08:30</p>
<p>63.</p> 	<p>ลดเวลา 25 นาที</p> <p>ตอบ 15:30</p>



ครูย์ www.ontous.info

ชื่อ-สกุล			
ชั้นเรียน		เลขที่	
คะแนนที่ได้		วันที่	

คำชี้แจง : ฝึกนับลดเวลาตามโจทย์กำหนดให้ถูกต้อง นาฬิกาช่วง 5 นาที




<p>64.</p> 	<p>ลดเวลา 40 นาที</p> <p>ตอบ 12:05</p>
<p>65.</p> 	<p>ลดเวลา 0 นาที</p> <p>ตอบ 16:35</p>
<p>66.</p> 	<p>ลดเวลา 15 นาที</p> <p>ตอบ 06:55</p>



ครูย์ www.ontous.info

ชื่อ-สกุล			
ชั้นเรียน		เลขที่	
คะแนนที่ได้		วันที่	

คำชี้แจง : ฝึกนับลดเวลาตามโจทย์กำหนดให้ถูกต้อง นาฬิกาช่วง 5 นาที




67. 	ลดเวลา 30 นาที
	ตอบ 07:20
68. 	ลดเวลา 40 นาที
	ตอบ 13:25
69. 	ลดเวลา 55 นาที
	ตอบ 15:20



ครูย์ www.ontous.info

ชื่อ-สกุล			
ชั้นเรียน		เลขที่	
คะแนนที่ได้		วันที่	

คำชี้แจง : ฝึกนับลดเวลาตามโจทย์กำหนดให้ถูกต้อง นาฬิกาช่วง 5 นาที




70. 	ลดเวลา 5 นาที
	ตอบ 11:25
71. 	ลดเวลา 40 นาที
	ตอบ 16:20
72. 	ลดเวลา 45 นาที
	ตอบ 16:45



ครูอัย www.ontous.info

ชื่อ-สกุล			
ชั้นเรียน		เลขที่	
คะแนนที่ได้		วันที่	

คำชี้แจง : ฝึกนับลดเวลาตามโจทย์กำหนดให้ถูกต้อง นาฬิกาช่วง 5 นาที




<p>73.</p> 	<p>ลดเวลา 15 นาที</p> <p>ตอบ 06:10</p>
<p>74.</p> 	<p>ลดเวลา 0 นาที</p> <p>ตอบ 09:55</p>
<p>75.</p> 	<p>ลดเวลา 30 นาที</p> <p>ตอบ 14:25</p>



ครูย์ www.ontous.info

ชื่อ-สกุล			
ชั้นเรียน		เลขที่	
คะแนนที่ได้		วันที่	

คำชี้แจง : ฝึกนับลดเวลาตามโจทย์กำหนดให้ถูกต้อง นาฬิกาช่วง 5 นาที




<p>76.</p> 	<p>ลดเวลา 40 นาที</p> <p>ตอบ 09:25</p>
<p>77.</p> 	<p>ลดเวลา 35 นาที</p> <p>ตอบ 09:55</p>
<p>78.</p> 	<p>ลดเวลา 40 นาที</p> <p>ตอบ 05:45</p>



ครูชัย www.ontous.info

ชื่อ-สกุล			
ชั้นเรียน		เลขที่	
คะแนนที่ได้		วันที่	

คำชี้แจง : ฝึกนับลดเวลาตามโจทย์กำหนดให้ถูกต้อง นาฬิกาช่วง 5 นาที




<p>79.</p> 	<p>ลดเวลา 10 นาที</p> <p>ตอบ 06:25</p>
<p>80.</p> 	<p>ลดเวลา 35 นาที</p> <p>ตอบ 06:10</p>
<p>81.</p> 	<p>ลดเวลา 50 นาที</p> <p>ตอบ 13:05</p>



ครูย์ www.ontous.info

ชื่อ-สกุล			
ชั้นเรียน		เลขที่	
คะแนนที่ได้		วันที่	

คำชี้แจง : ฝึกนับลดเวลาตามโจทย์กำหนดให้ถูกต้อง นาฬิกาช่วง 5 นาที




82. 	ลดเวลา 35 นาที
	ตอบ 12:35
83. 	ลดเวลา 5 นาที
	ตอบ 17:10
84. 	ลดเวลา 5 นาที
	ตอบ 12:25



ครูย์ www.ontous.info

ชื่อ-สกุล			
ชั้นเรียน		เลขที่	
คะแนนที่ได้		วันที่	

คำชี้แจง : ฝึกนับลดเวลาตามโจทย์กำหนดให้ถูกต้อง นาฬิกาช่วง 5 นาที




85. 	ลดเวลา 0 นาที
	ตอบ 15:35
86. 	ลดเวลา 5 นาที
	ตอบ 16:45
87. 	ลดเวลา 25 นาที
	ตอบ 13:55



ครูย์ www.ontous.info

ชื่อ-สกุล			
ชั้นเรียน		เลขที่	
คะแนนที่ได้		วันที่	

คำชี้แจง : ฝึกนับลดเวลาตามโจทย์กำหนดให้ถูกต้อง นาฬิกาช่วง 5 นาที

88. 	ลดเวลา 5 นาที
	ตอบ 07:55
89. 	ลดเวลา 5 นาที
	ตอบ 12:35
90. 	ลดเวลา 35 นาที
	ตอบ 13:25