




ครูโย www.ontous.info

| | | | |
|-------------|--|--------|--|
| ชื่อ-สกุล | | | |
| ชั้นเรียน | | เลขที่ | |
| คะแนนที่ได้ | | วันที่ | |

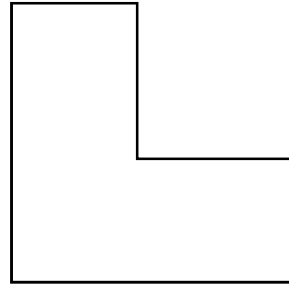
คำชี้แจง ให้นักเรียนบอกจำนวนจำนวนเหลี่ยมของรูปเรขาคณิตในแต่ละข้อ

1.



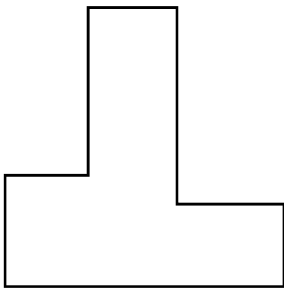
_____ เหลี่ยม

2.



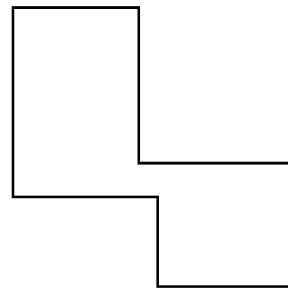
_____ เหลี่ยม

3.



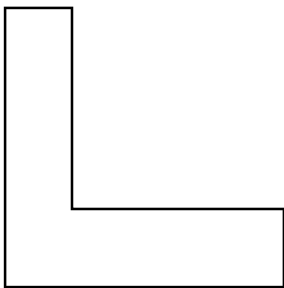
_____ เหลี่ยม

4.



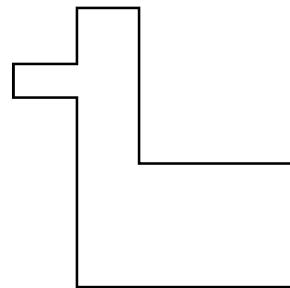
_____ เหลี่ยม

5.



_____ เหลี่ยม

6.



_____ เหลี่ยม

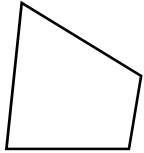


ครูโย www.ontous.info

| | | | |
|-------------|--|--------|--|
| ชื่อ-สกุล | | | |
| ชั้นเรียน | | เลขที่ | |
| คะแนนที่ได้ | | วันที่ | |

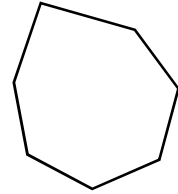
คำชี้แจง ให้นักเรียนพิจารณารูปภาพแล้วบอกว่าเป็นรูปเรขาคณิตชนิดใด

1.



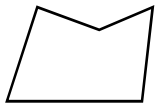
_____ เหลี่ยม

2.



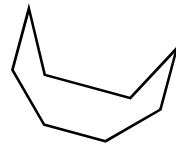
_____ เหลี่ยม

3.



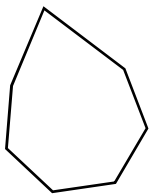
_____ เหลี่ยม

4.



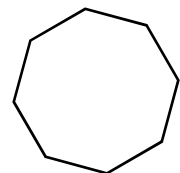
_____ เหลี่ยม

5.



_____ เหลี่ยม

6.



_____ เหลี่ยม

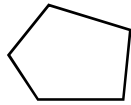


ครูโย www.ontous.info

| | | | |
|-------------|--|--------|--|
| ชื่อ-สกุล | | | |
| ชั้นเรียน | | เลขที่ | |
| คะแนนที่ได้ | | วันที่ | |

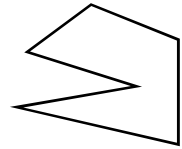
คำชี้แจง ให้นักเรียนพิจารณารูปภาพแล้วบอกว่าเป็นรูปเรขาคณิตชนิดใด

1.



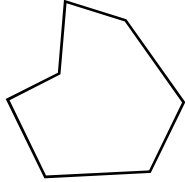
_____ เหลี่ยม

2.



_____ เหลี่ยม

3.



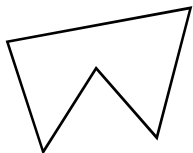
_____ เหลี่ยม

4.



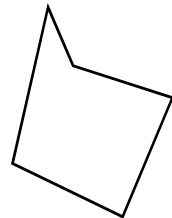
_____ เหลี่ยม

5.



_____ เหลี่ยม

6.



_____ เหลี่ยม