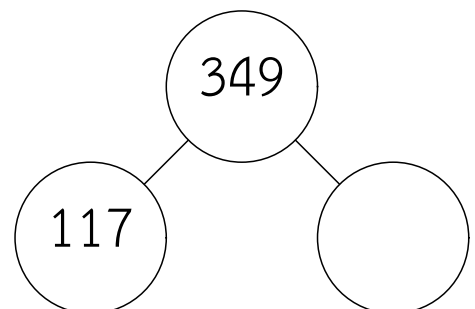
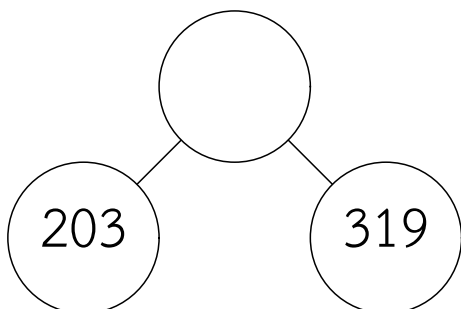
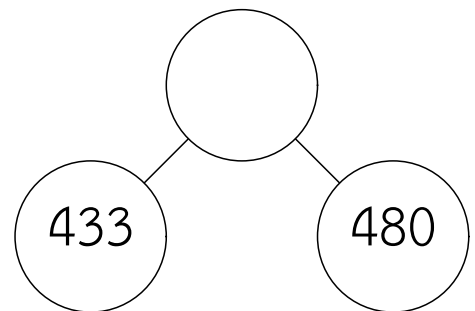
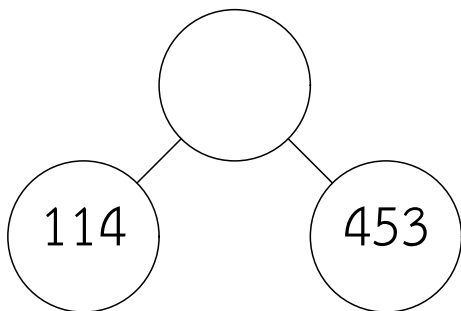
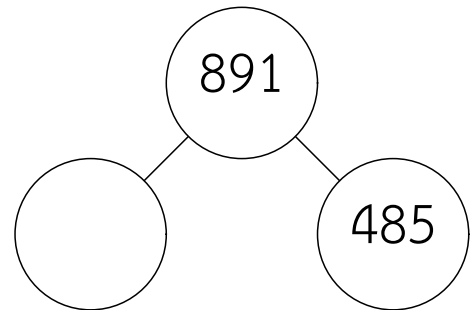
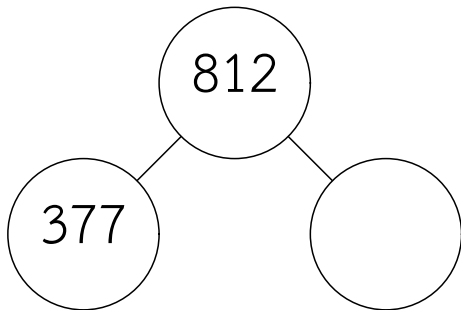
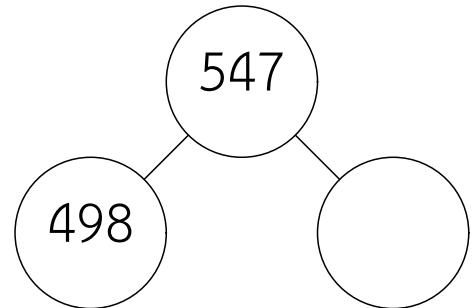
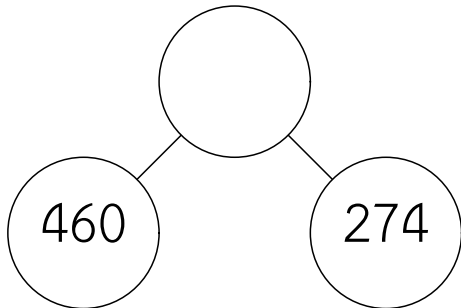
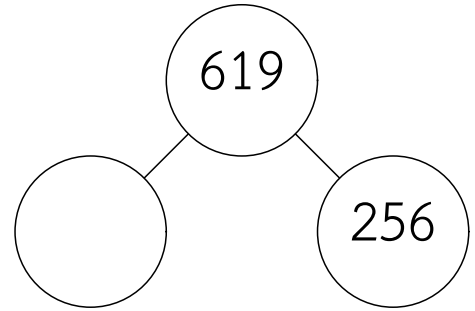
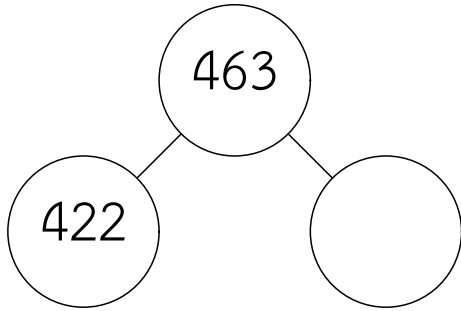




ครูโยย www.ontous.info

|             |  |        |  |
|-------------|--|--------|--|
| ชื่อ-สกุล   |  |        |  |
| ชั้นเรียน   |  | เลขที่ |  |
| คะแนนที่ได้ |  | วันที่ |  |

คำชี้แจง : จงหาผลลัพธ์ของตัวเลขแบบส่วนรวมส่วนน้อยที่กำหนดให้ในแต่ละข้อ

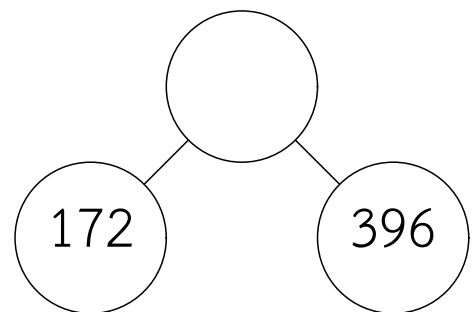
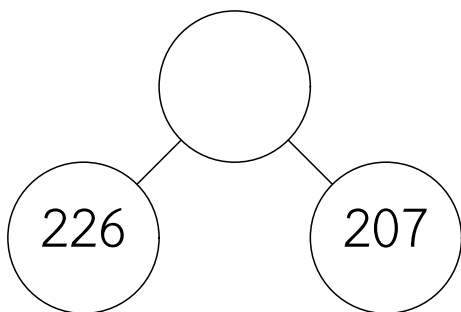
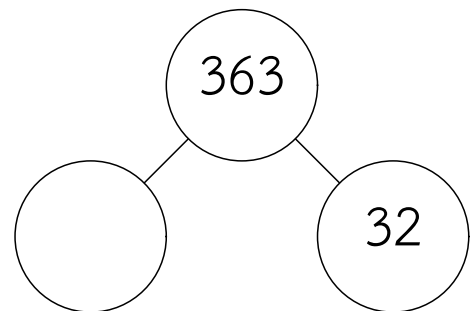
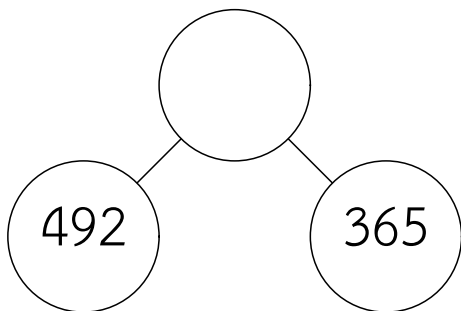
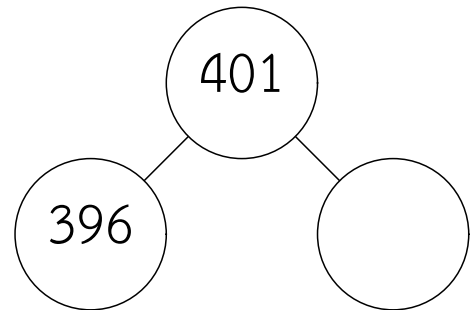
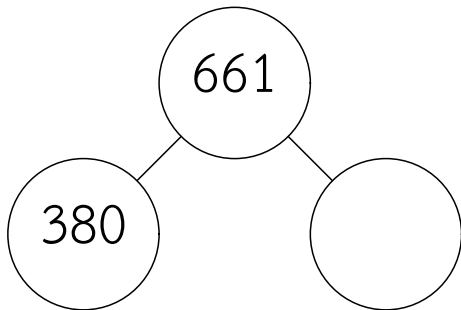
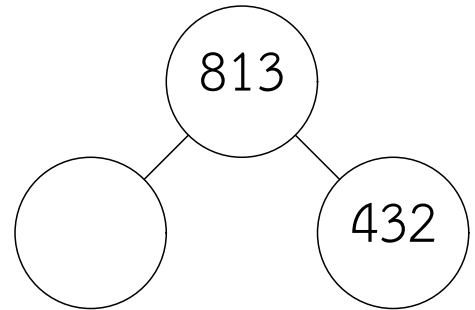
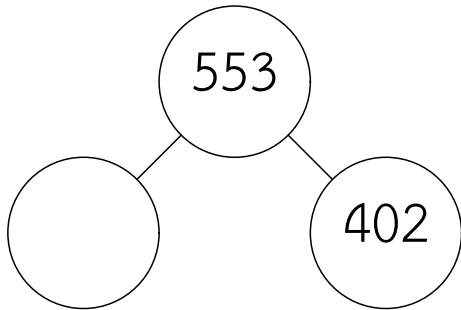
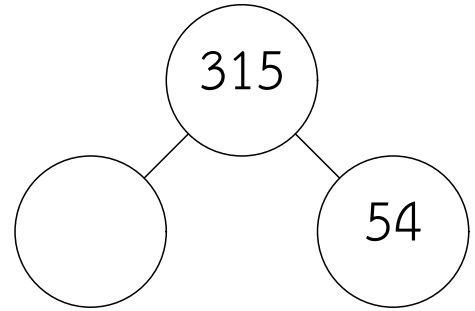
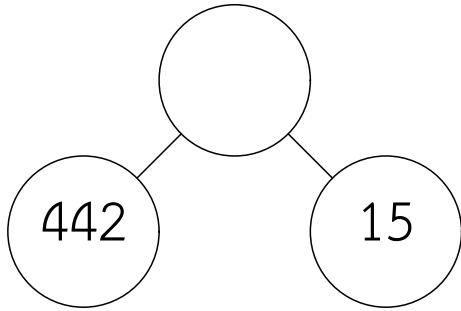




ครู้อย [www.ontous.info](http://www.ontous.info)

|             |  |        |  |
|-------------|--|--------|--|
| ชื่อ-สกุล   |  |        |  |
| ชั้นเรียน   |  | เลขที่ |  |
| คะแนนที่ได้ |  | วันที่ |  |

คำชี้แจง : จงหาผลลัพธ์ของตัวเลขแบบส่วนรวมส่วนน้อยที่กำหนดให้ในแต่ละข้อ

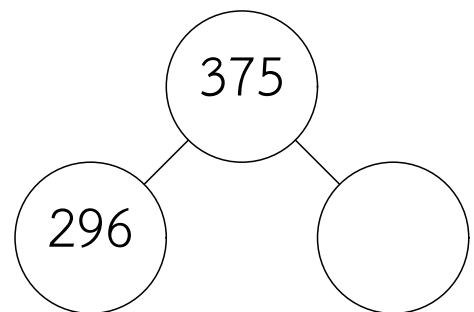
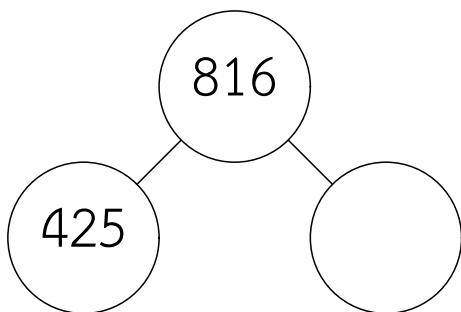
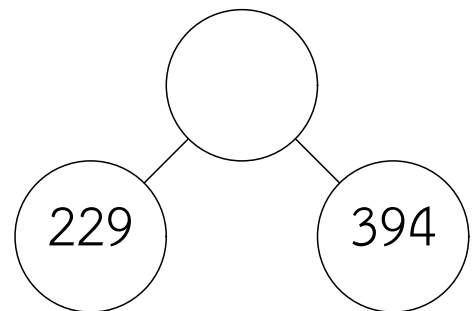
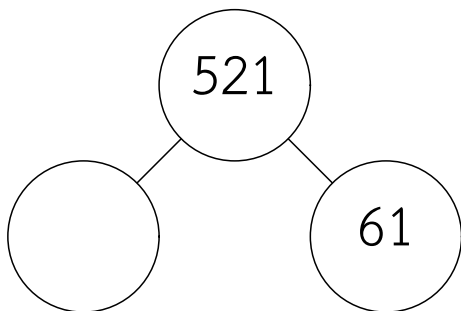
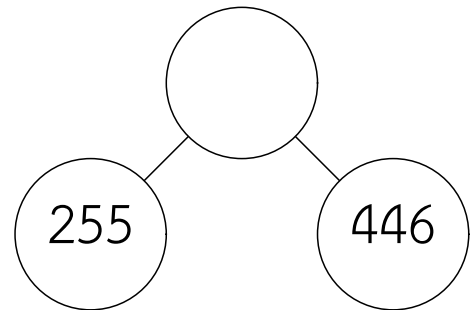
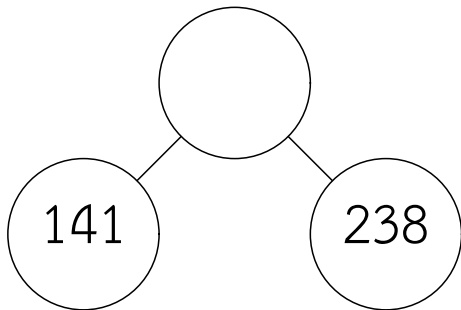
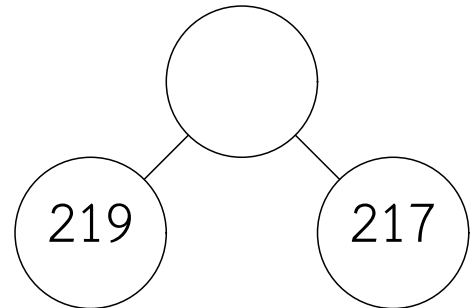
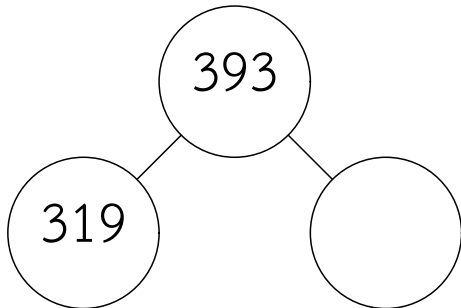
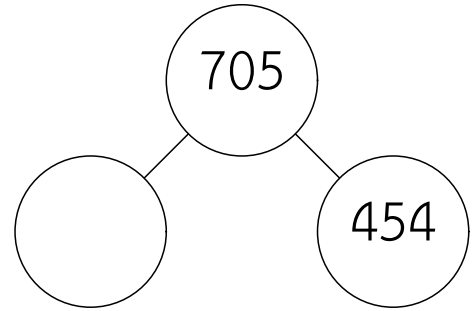
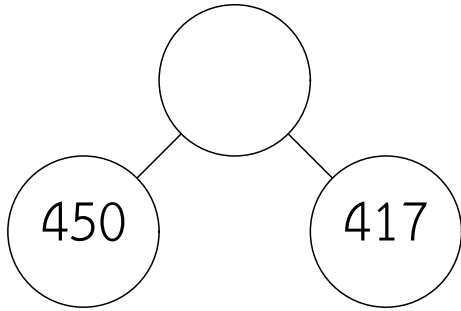




ครูโยย www.ontous.info

|             |  |        |  |
|-------------|--|--------|--|
| ชื่อ-สกุล   |  |        |  |
| ชั้นเรียน   |  | เลขที่ |  |
| คะแนนที่ได้ |  | วันที่ |  |

คำชี้แจง : จงหาผลลัพธ์ของตัวเลขแบบส่วนรวมส่วนน้อยที่กำหนดให้ในแต่ละข้อ

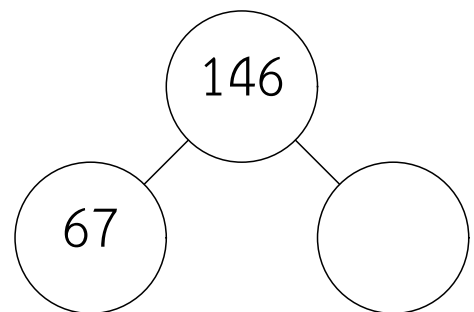
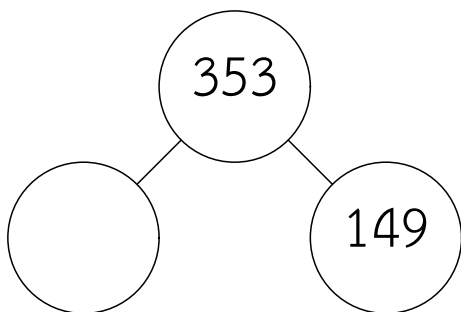
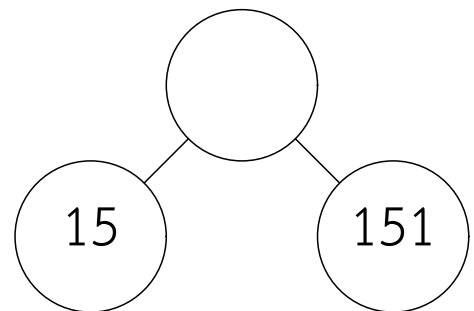
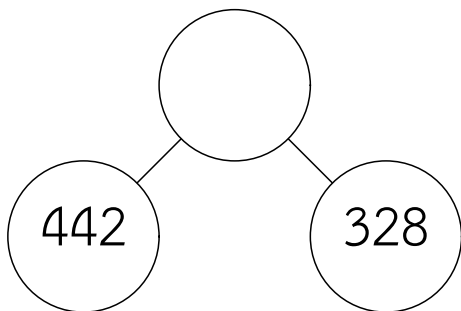
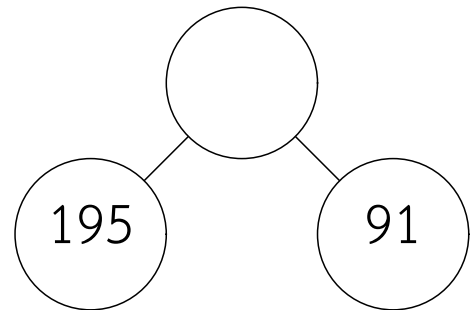
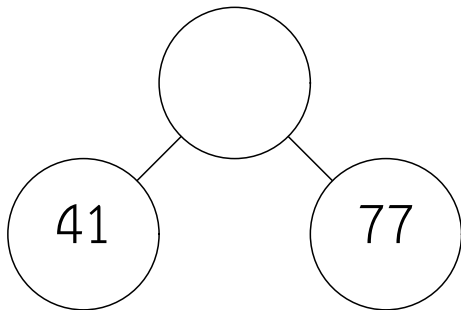
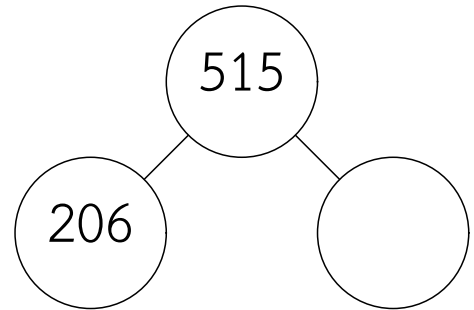
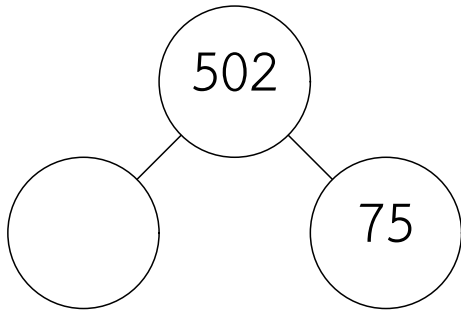
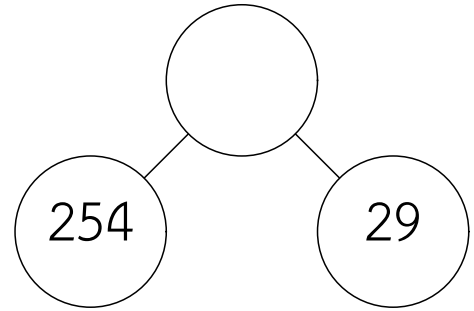
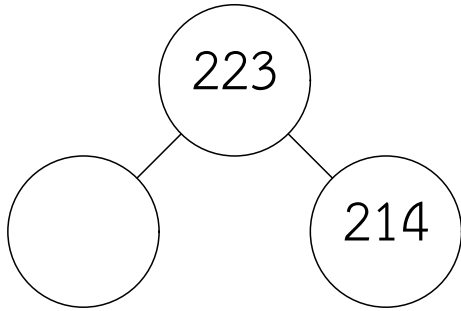




ครู้อย [www.ontous.info](http://www.ontous.info)

|             |  |        |  |
|-------------|--|--------|--|
| ชื่อ-สกุล   |  |        |  |
| ชั้นเรียน   |  | เลขที่ |  |
| คะแนนที่ได้ |  | วันที่ |  |

คำชี้แจง : จงหาผลลัพธ์ของตัวเลขแบบส่วนรวมส่วนน้อยที่กำหนดให้ในแต่ละข้อ





ครูยัย [www.ontous.info](http://www.ontous.info)

|             |  |        |  |
|-------------|--|--------|--|
| ชื่อ-สกุล   |  |        |  |
| ชั้นเรียน   |  | เลขที่ |  |
| คะแนนที่ได้ |  | วันที่ |  |

คำชี้แจง : จงหาผลลัพธ์ของตัวเลขแบบส่วนรวมส่วนน้อยที่กำหนดให้ในแต่ละข้อ

